

# 就学義務猶予免除者等の中学校卒業程度認定試験

令和7年度 社 会 (40分)

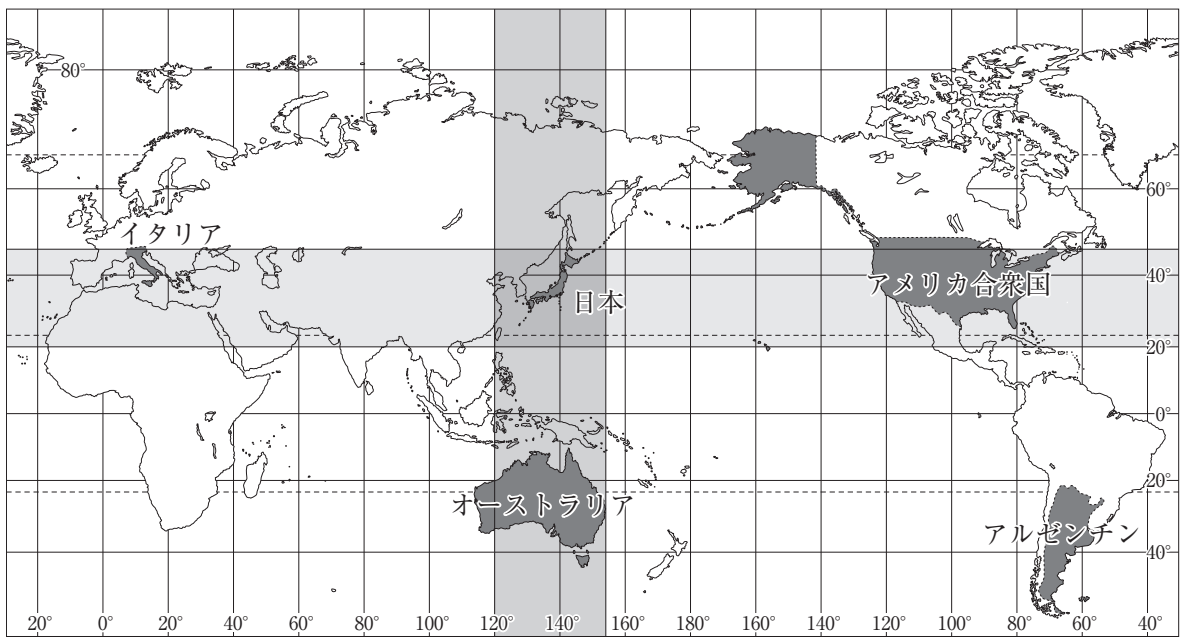
## 注 意 事 項

- 1 試験開始の合図があるまで、この問題冊子の中を見てはいけません。
- 2 この問題冊子は全40ページです。  
試験中に問題冊子の印刷不鮮明、ページの落<sup>らく</sup>丁<sup>ちよう</sup>・乱<sup>らん</sup>丁<sup>ちよう</sup>及び汚れ等に気付いた場合は、手をあげて試験監督者に知らせなさい。
- 3 試験開始の合図の後、受験地、受験番号、氏名を解答用紙に記入しなさい。
- 4 解答は、各設問の指示に従い、全て解答用紙の解答らんに記入しなさい。
- 5 試験終了後、問題冊子は持ち帰ってかまいません。

1 次の(1)から(6)までの各問いに答えなさい。答えは、アからエまでの中から一つずつ選んで、解答用紙のらんのその記号を○で囲みなさい。

(1) 桜さんと隆志さんが、資料を見ながら話をしている。桜さんたちの会話文中の  ,  にあてはまる国名の組合せとして最も適切なものは、あとのアからエまでのどれか。

資料



## 会話文

桜：国や都市の位置を示す時には、緯度や経度を使うよね。

隆志：そうだね。資料で日本の位置を見てみると、およそ東経 120 度から東経 155 度の間にあるんだね。

桜：そうだね。同じくらいの経度の国にはどこの国があるのかな。

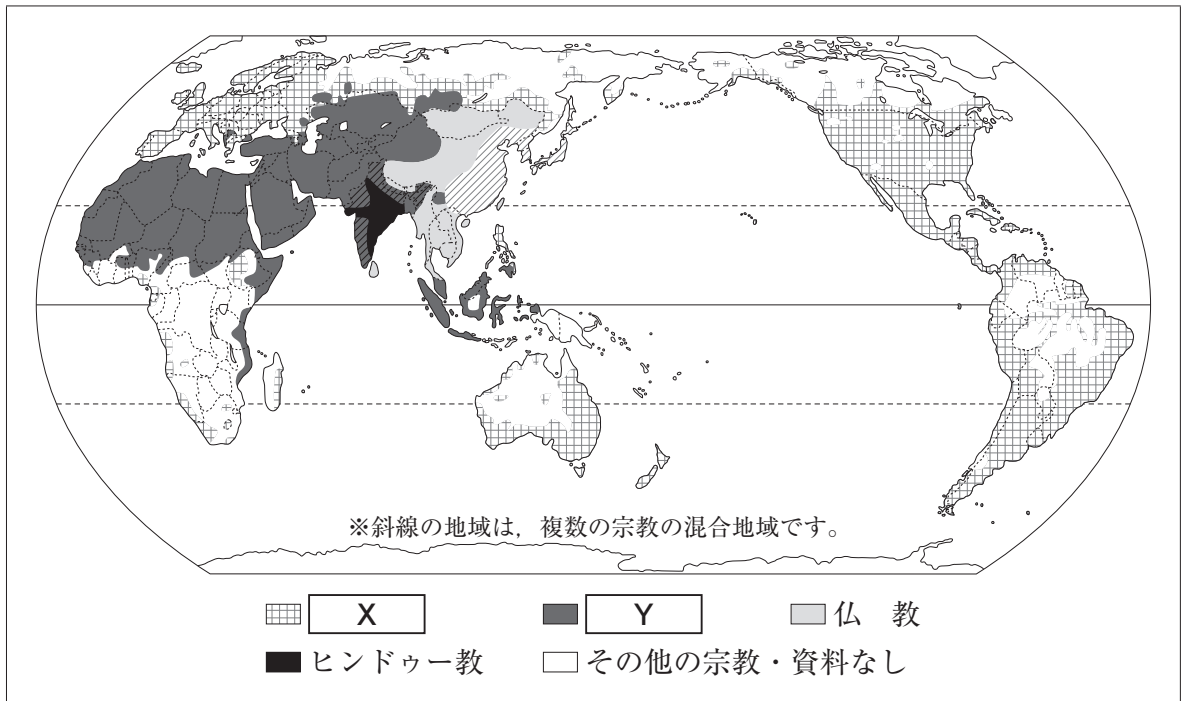
隆志：資料を見てみると、 が同じくらいだとわかるね。次は緯度を見てみよう。日本は北緯 20 度から北緯 50 度の間に位置しているね。一方で、およそ南緯 20 度から南緯 50 度の間にある国にはどこがあるんだろう。

桜：およそ南緯 20 度から南緯 50 度の間にある国には  があるね。他にはどこの国があるか、さらに調べてみよう。

	X	Y
ア	オーストラリア	アルゼンチン
イ	オーストラリア	アメリカ合衆国
ウ	イタリア	アルゼンチン
エ	イタリア	アメリカ合衆国

- (2) 悠<sup>ゆう</sup>さんは、世界の主な宗教に関する資料1と資料2を手に入れた。資料1にある **X** と **Y** は、キリスト教とイスラム教のいずれかである。また、資料2のカードAとカードBは、キリスト教とイスラム教のいずれかに関わりのあるまつりについて示したものである。イスラム教の分布と、イスラム教に関わりのあるまつりの組合せとして最も適切なものは、あとのアからエまでのどれか。

資料1 世界の主な宗教の分布



(Alexander Atlas 2002 より作成)

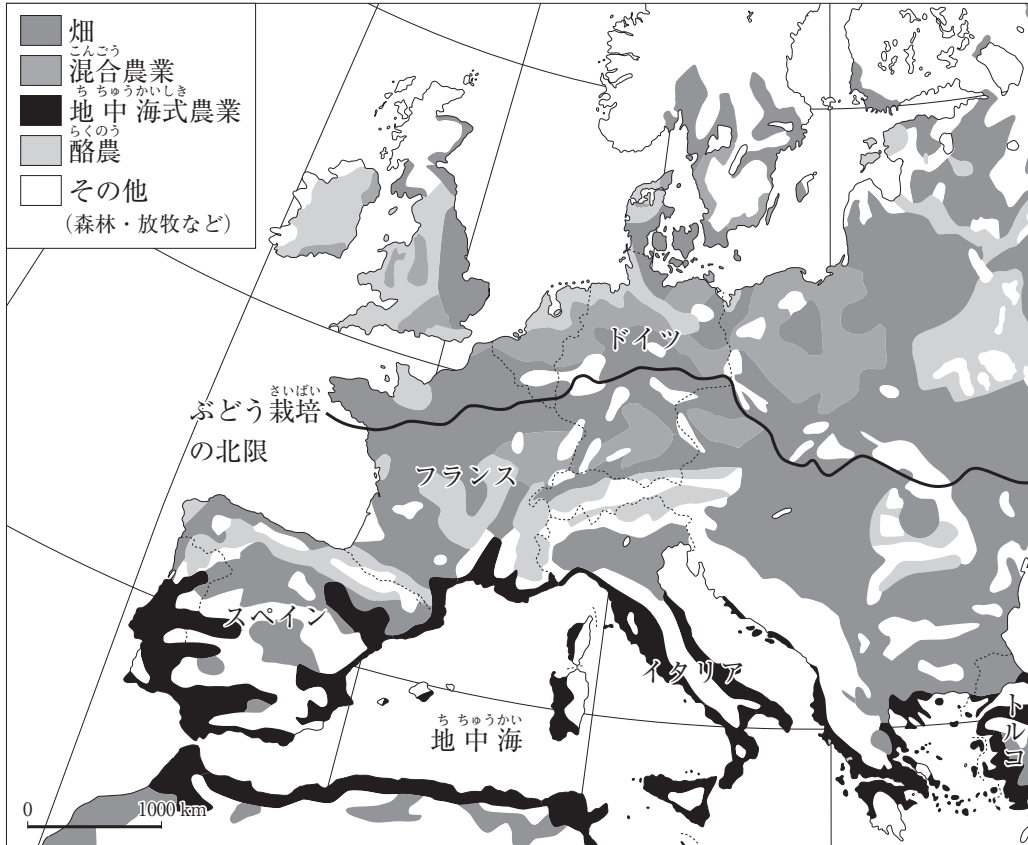
資料2 キリスト教、イスラム教に関わりのあるまつり

カードA	ラマダン・バイラムは、断食の終了を祝して3日間開かれるまつり。甘いお菓子をふるまう習慣から、砂糖祭（シェケル・バイラム）ともいう。
カードB	カーニバルは、復活祭（イースター）の前に行われる謝肉祭のことである。悪霊や災いを追い払う目的で、仮装パレードが行われる。

	分布	まつり
ア	X	カードA
イ	X	カードB
ウ	Y	カードA
エ	Y	カードB

- (3) 飛鳥<sup>あすか</sup>さんは、ヨーロッパ州について調べるなかで、資料1から資料3を手に入れた。これらの資料を読み取ったものとして最も適切なものは、あとのアからエまでのどれか。

資料1 ヨーロッパの農業地域



(Seydlitz Projekt Erde などより作成)

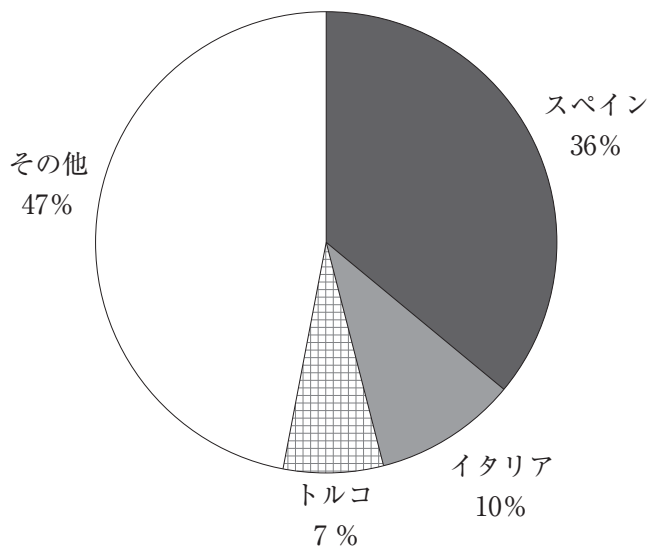
資料2 ヨーロッパ州の食料自給率（重量ベース）（2021年）

（単位：％）

	小麦	いも類	果実類
ドイツ	118	134	22
フランス	189	129	50
イタリア	66	45	99
スペイン	69	58	127

（令和5年度食料需給表より作成）

資料3 オリーブの生産国 上位3か国とその割合（2021年）

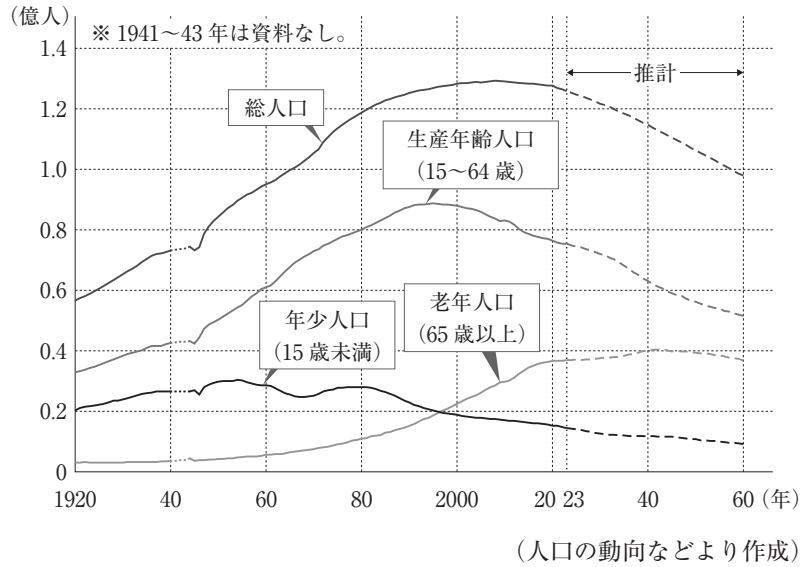


(FAO資料より作成)

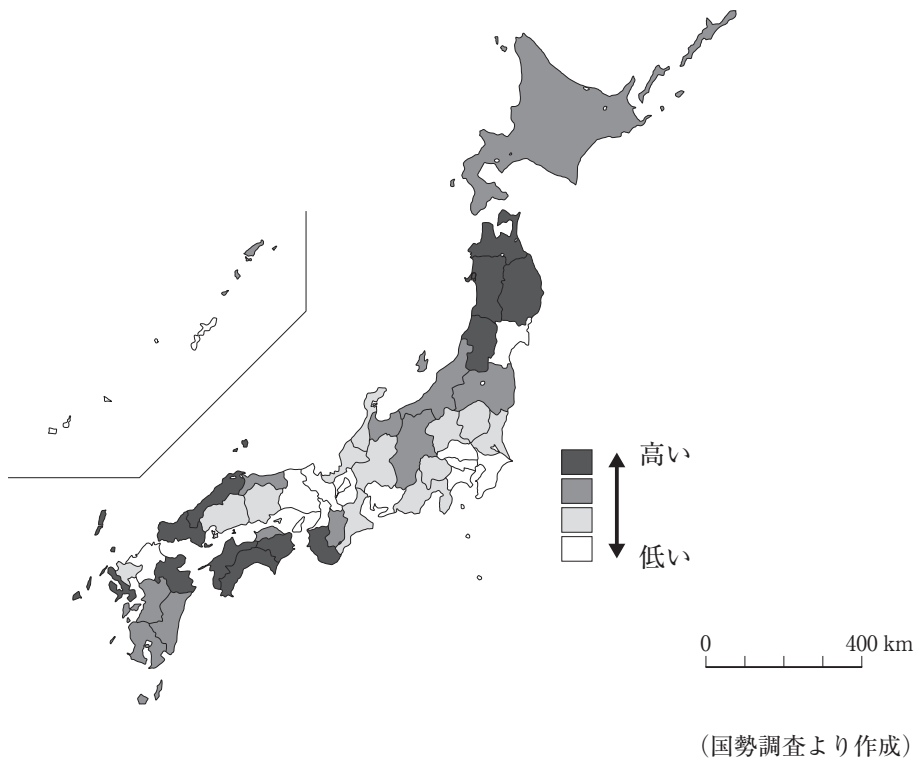
- ア 資料2中の4か国のうち、地中海に面している国は、いずれも小麦の食料自給率が100%以上の国である。
- イ 領域内にぶどう栽培の北限が通っている国は、いずれも果実類の食料自給率が100%以上の国である。
- ウ オリーブの生産上位2か国は、いずれも果実類の食料自給率が100%以上の国である。
- エ オリーブの生産上位2か国には、地中海式農業の盛んな地域が含まれている。

- (4) 加奈さんと和也さんは、日本の人口について調べるなかで、資料1から資料3を手に入れ、読み取れることを話し合った。会話文中の **X** にあてはまる語句として最も適切なものは、あとのアからエまでのどれか。

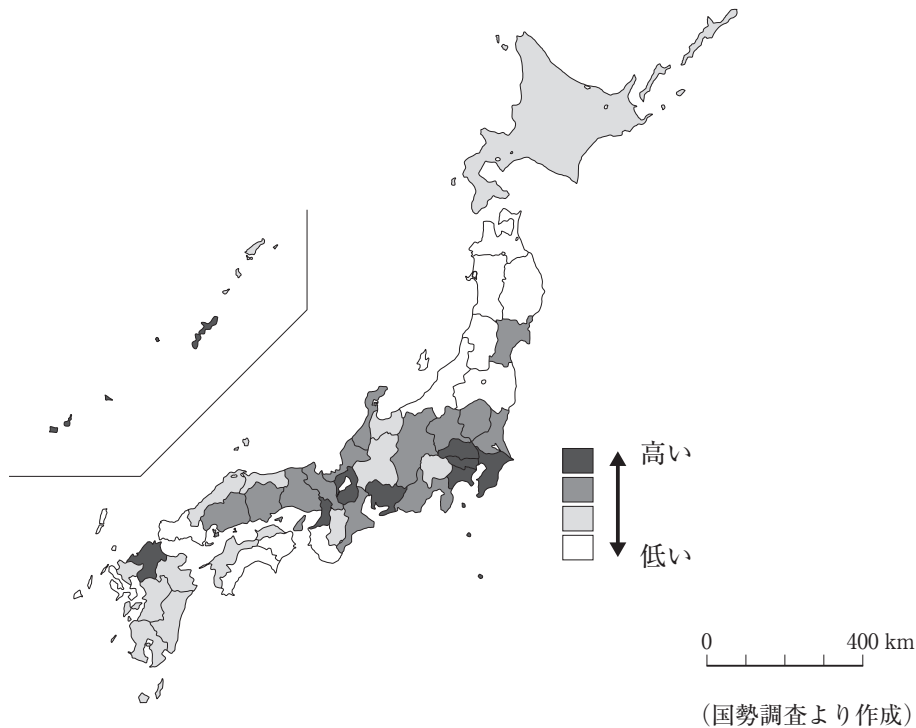
資料1 日本の人口の推移



資料2 老年人口の割合 (2020年)



資料3 人口増加率（2015～2020年）



会話文

加 奈：資料1を見ると，日本の全体の人口は，減少していくことが予想されるね。  
和 也：そうだね。でも，生産年齢人口，老年人口，年少人口と増減の仕方はそれぞれ異なることがわかるね。  
加 奈：資料1を見ると，老年人口は2023年から，2040年くらいまでは増加していくことが予想されるね。また，資料2と資料3を見ると老年人口や人口増加率には地域によって差が見られるね。  
和 也：さらに，資料2と資料3を見ていくと，老年人口の割合と人口増加率は関係がありそうだよ。  
例えば，東北地方を見てみると半数以上の県で  X  になっているからね。

- ア 老年人口の割合が低く，人口増加率が低く
- イ 老年人口の割合が低く，人口増加率が高く
- ウ 老年人口の割合が高く，人口増加率が低く
- エ 老年人口の割合が高く，人口増加率が高く

- (5) なこさんは、鹿児島市内の桜島<sup>さくらじま</sup>に住んでいる人々の生活について調べるなかで、次の資料を手に入れた。資料を参考に、桜島に住む人々の災害への備えとして最も適切な写真は、あとのアからエまでのどれか。

#### 資料 桜島の成り立ち

約2万9千年前に現在の鹿児島湾で巨大噴火が発生しました。そのおよそ3千年後に新たに始まった噴火活動により桜島が誕生し、現在も活発に活動しています。現在では、桜島火山に対する取組として、大規模噴火でも「犠牲者ゼロ」を目指す防災対策を行っています。



(鹿児島市ホームページなどより作成)

ア



(新潟県十日町市提供)

イ



ウ

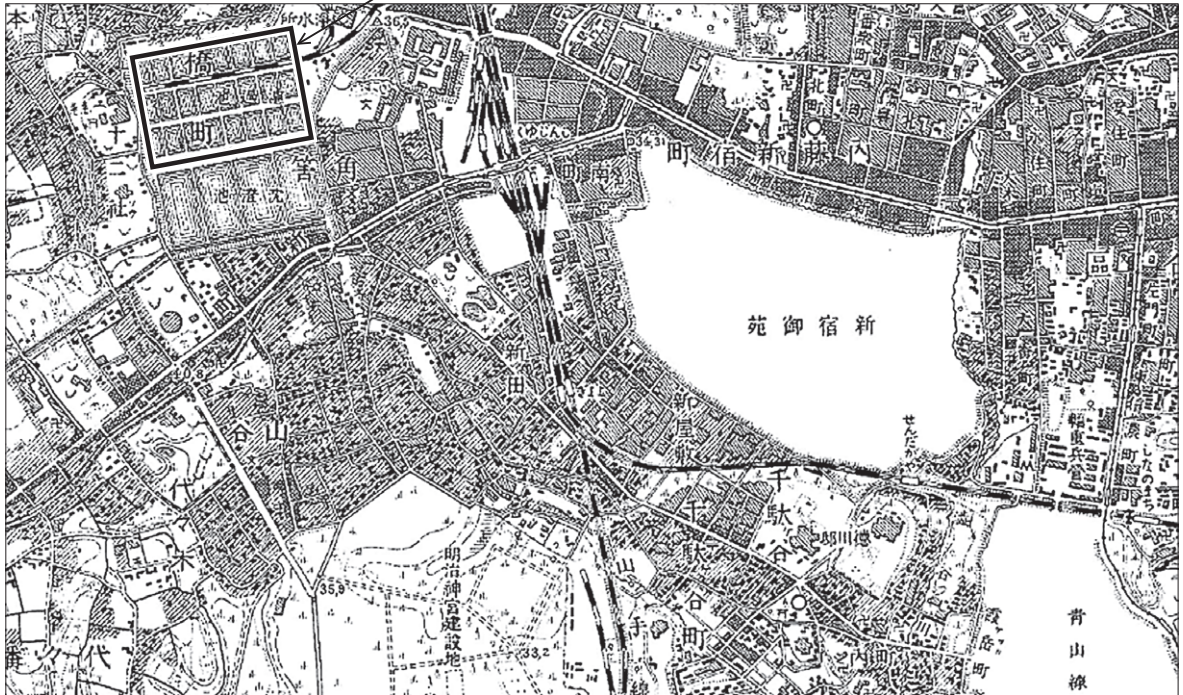


エ



- (6) 樹希<sup>いつき</sup>さんは、新宿<sup>しんじゅく</sup>や渋谷<sup>しぶや</sup>周辺の移り変わりを知ろうと資料1から資料3の地図を用意した。これらの資料を読み取り考察した内容として適切なものは、あとのアからエまでのどれか。

資料1 1919年の地形図 ろかち  
濾過池



- 注)・地図中の文字表記が横書きの時は、右から左となっている。  
 ・濾過池とは、水道水として供給するため、水中の細かい濁りやゴミを砂の層を通して取り除くための施設。

資料2 1968年の地形図



資料3 2025年の地形図



- ア 明治神宮は1919年に建設中であり、完成後は敷地の標高がおおむね50mを超えた。
- イ 2025年に都庁がある場所は、1919年には濾過池として活用されていた。
- ウ 中央本線と小田急小田原線は、1919年には開通していた。
- エ 国立競技場は、1970年以降に建設された。

**2** 次の(1)から(6)までの各問いに答えなさい。答えは、アからエまでの中から一つずつ選んで、解答用紙のらんのその記号を○で囲みなさい。

(1) 次の年表の  には、各時代の日本の都市や町、人々の様子について述べた、あとのアからエまでのいずれかがあてはまる。 X にあてはまるものは、あとのアからエまでのどれか。

時代	都市や町、人々の様子
古代	唐の都を模して、計画的な都市が造られた  <input type="text"/>
中世	禅宗の影響を受けた寺や庭園が造られた  <input type="text"/> X
近世	各地へつながる交通網が整備され、宿場町などが造られた  <input type="text"/>
近代	ガス灯が <sup>とも</sup> 灯り、れんが造りの建物が造られた  <input type="text"/>

注) 各時代の幅は、実際の長さとは関係がない。

ア

整備された街道や五街道では、各藩から大名が鉄砲や弓、やり槍などを持って行列を組んで行き来をした。

イ

都市の中には、ちょうしゅう町衆とよばれる有力な商工業者を中心に自治が行われるところもあった。

ウ

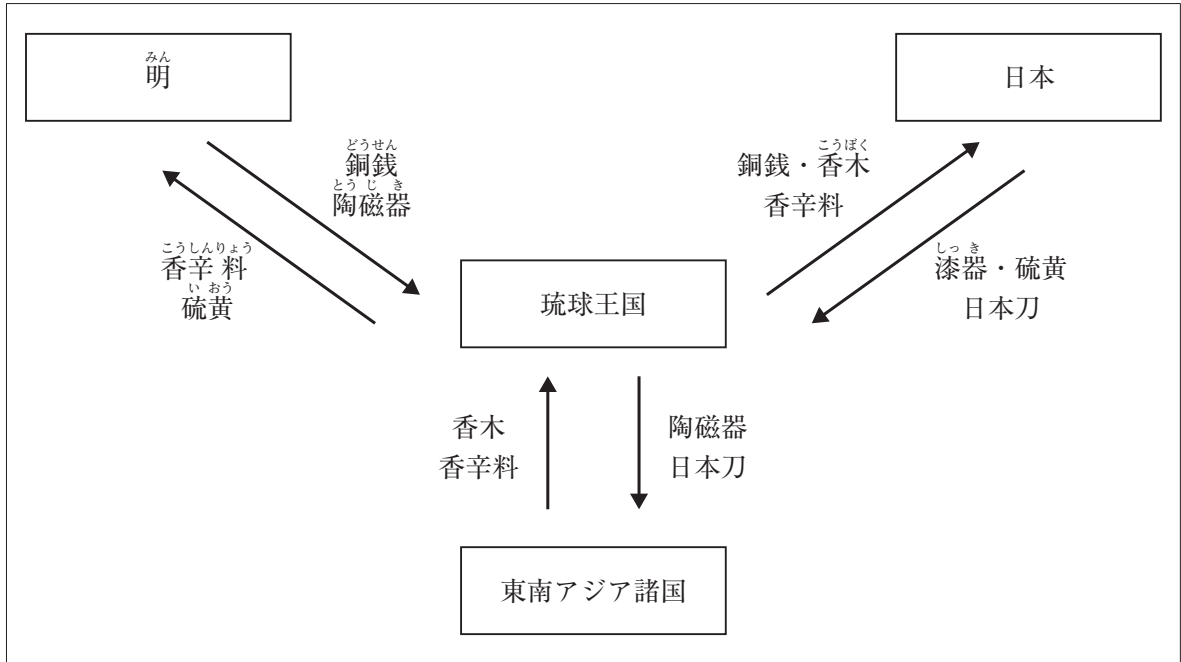
都に運ばれた税には、どの地域からどのような品物を納めたかを記したもっかん木簡が荷札として付けられた。

エ

西洋の文化を取り入れるようになり、コートや帽子などを身に付け、ぎゅうなべ牛鍋などを食べるのが流行した。

- (2) こだまさんは、15世紀頃の琉球王国<sup>りゅうきゅうおうこく</sup>について調べるために、資料1から資料3を手に入れた。調べたことをまとめた説明文中の  ,  にあてはまる語句の組合せとして最も適切なものは、あとのアからエまでのどれか。

資料1 琉球王国の貿易



資料2 首里城<sup>しゅりじょう</sup>



資料3 平等院鳳凰堂<sup>びょうどういんほうおうどう</sup>



(写真提供：平等院)

### 説明文

15世紀頃、琉球王国は  によって、明、日本、東南アジア諸国と貿易をしていた。また、琉球王国の建造物を示しているのは  である。

	X	Y
ア	原料を輸入し、加工したものを輸出すること	資料2
イ	原料を輸入し、加工したものを輸出すること	資料3
ウ	輸入したものを他国へ輸出すること	資料2
エ	輸入したものを他国へ輸出すること	資料3

- (3) ひかりさんは、安土桃山時代について調べるために、資料1から資料3を手に入れた。調べたことをまとめた説明文中の  X  にあてはまる語句として最も適切なものは、あとのアからエまでのどれか。

資料1

よしあし

面積

作物

生産量

耕作者

- ・ 上島→畑の収穫量が多い土地
- ・ 六畝貳拾歩→面積は約 660 m<sup>2</sup>
- ・ 六斗六升七合→生産量は約 100 kg

(豊後国大分郡津守村内曲村御検地帳 文禄二年八月廿六日「東京大学史料編纂所蔵」)

資料2

・ 諸国の百姓が刀や脇差<sup>わきざし</sup>、弓、やり、鉄砲、そのほかの武具などを持つことは、禁止する。

(小早川家文書を一部要訳)

資料3

・ 武家の奉公人<sup>ほうこうにん</sup>が新たに百姓になることを禁止する。もしその者たちを隠し置く町や村があれば処罰する。

・ 百姓が田畑を捨てて、商売や日雇いに従事した場合は、その者だけでなく村中全員を処罰する。

(小早川家文書を一部要訳)

## 説明文

豊臣秀吉は、資料1にあるように全国の土地を調べ、土地のよしあしや大きさを検地帳に記録させ、耕作者を確定させた。また、資料2にあるように、百姓は武器を持つことを禁じられた。これらに資料3を加えて当時の社会の変化を考えると、 X ことがわかる。

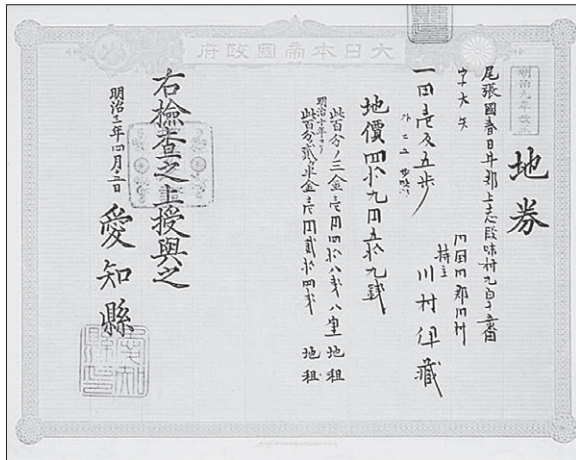
- ア 武士と百姓の身分を区別し、身分制に基づく社会の土台をつくった
- イ 武士と百姓の身分を区別し、百姓が商売などに従事できるようになった
- ウ 武家の奉公人も百姓になることができ、身分制に基づく社会の土台をつくった
- エ 武家の奉公人も百姓になることができ、百姓が商売などに従事できるようになった

- (4) 若葉<sup>わかば</sup>さんは、明治政府の地租改正<sup>ちそかいせい</sup>について調べた結果、資料1から資料3を手に入れた。これらの資料を基に、会話文中の 、 にあてはまる語句の組合せとして最も適切なものは、あとのアからエまでのどれか。

資料1



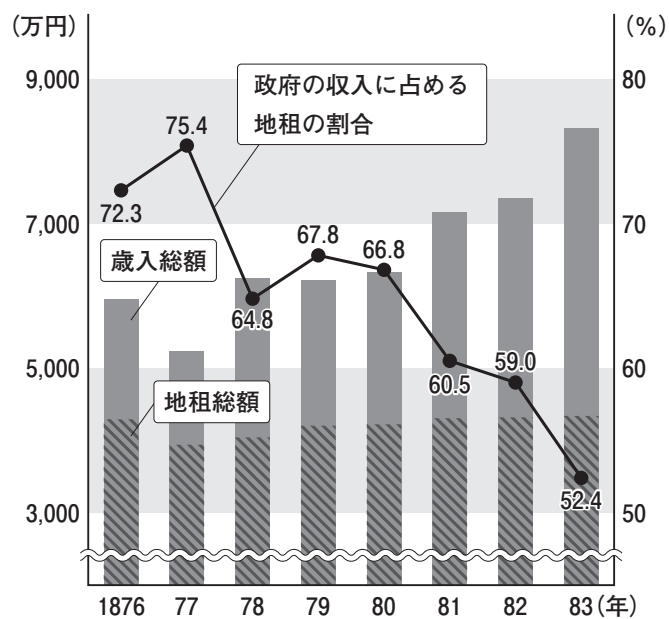
資料2 地券とその説明



土地を測量して面積などを算出し、地価を定め、所有者に地券を発行しました。地価に従ってその100分の3（1877（明治10）年より100分の2.5）を地租とすることが定められました。

（名古屋市博物館蔵）

資料3 政府の収入と収入に占める地租の割合



(三和良一ほか編『近現代日本経済史要覧』より作成)

会話文

若葉：資料1は、1876年の地租改正反対一揆が起きた場所を示しているよ。なぜ、一揆が起きたのだろう。

真司：資料2から、 ことに不満をもったことが考えられるね。

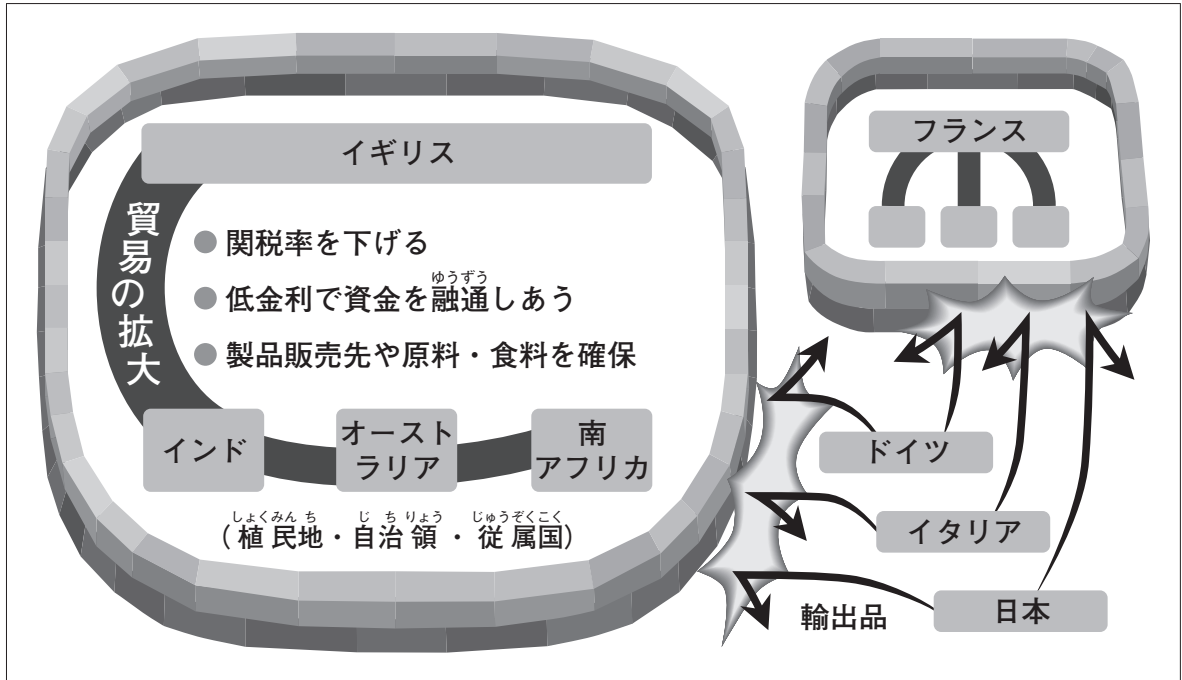
若葉：政府は、1877年に地租を3%から2.5%に引き下げたけれど、困らなかったのだろうか。

真司：資料3から、1876年と1877年を比べると、政府の収入が減っていることが読み取れるね。でも、1877年と1883年を比べると、地租総額はほとんど変わっていないけれど、 は増えていることが読み取れるね。

	X	Y
ア	収穫量が上がると地租が上がる	政府の収入に占める地租の割合
イ	収穫量が上がると地租が上がる	政府の収入
ウ	収穫量が下がっても地租が下がらない	政府の収入に占める地租の割合
エ	収穫量が下がっても地租が下がらない	政府の収入

- (5) 卓也<sup>たくや</sup>さんは、1929年に起こった世界恐慌への対応について調べるために、資料1から資料4を手に入れた。これらの資料を基に、会話文中の  ,  にあてはまる語句の組合せとして最も適切なものは、あとのアからエまでのどれか。

資料1 ブロック経済

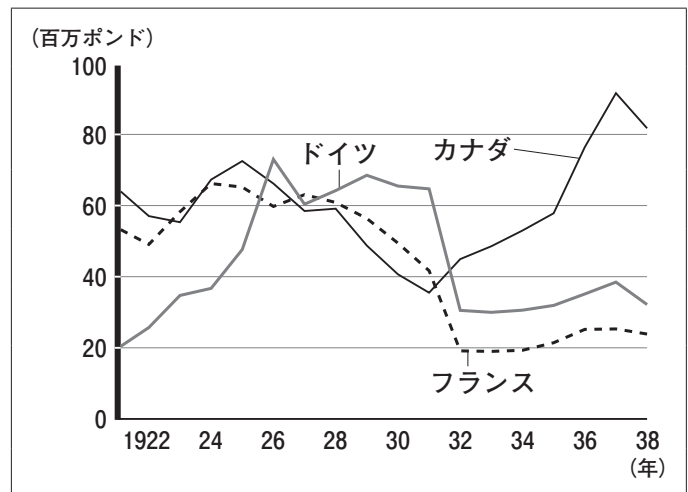


資料2 各国が自国の経済圏外からの輸入品にかけた関税率

	1926年	1931年
イギリス	4.0%	10.0% (1932年)
フランス	12.0%	38.0%
ドイツ	12.0%	40.7%
日本	16.0%	24.0%
アメリカ合衆国	29.0%	53.0%

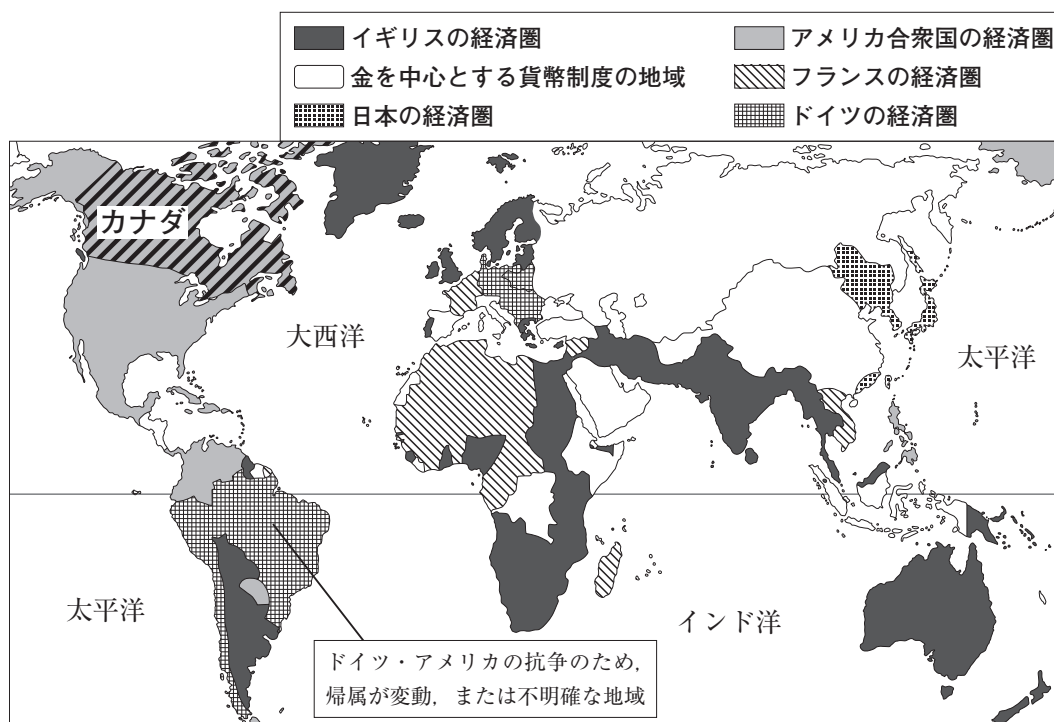
(『Global Transformations』)

資料3 イギリスの各国からの輸入額の推移



(『イギリス歴史統計』原書房)

資料4 ブロック経済



注) カナダは1932年にはイギリス、アメリカ合衆国両方の経済圏であった。

会話文

先生：資料1は、ブロック経済を図にまとめたものです。資料2と資料3から、イギリスは、世界恐慌後に、どのような対応をしていたか読み取れますか。

卓也：イギリスは、イギリスの経済圏の外からの輸入品にかかる関税率を  いることが読み取れます。

先生：なぜ、イギリスやフランスは、ドイツや日本と異なり、ブロック経済を行うことが可能だったのでしょうか。資料4から読み取れるのでしょうか。

卓也：イギリスは、ドイツや日本に比べて、経済圏が  ことが読み取れます。

	X	Y
ア	上げ、1932年以降カナダからの輸入額を増やして	大きかった
イ	上げ、1932年以降カナダからの輸入額を増やして	小さかった
ウ	下げ、1932年以降カナダからの輸入額を減らして	大きかった
エ	下げ、1932年以降カナダからの輸入額を減らして	小さかった

- (6) <sup>ゆうた</sup>雄太さんは、日本の独立の回復に向けた動きについて調べた結果、資料1から資料3を手に入れた。説明文中の  X  Y にあてはまる語句の組合せとして最も適切なものは、あとのアからエまでのどれか。

資料1

西暦（年）	日本のできごと	世界のできごと
1945	ポツダム宣言を受諾し降伏	国際連合の成立
1946	日本国憲法の公布	
1949		中華人民共和国の成立 この頃、アジア諸国の独立 この頃、冷たい戦争が始まる
1950	警察予備隊の創設	朝鮮戦争が始まる
1951	サンフランシスコ平和条約の締結 日米安全保障条約の締結	
1954	第五福竜丸が被ばく	
1955		第1回アジア・アフリカ会議の開催
1956	ソビエト連邦（ソ連）と国交を回復 国際連合に加盟	
1960	日米安全保障条約の改定	「アフリカの年」

資料2 平和条約をめぐる国内の対立

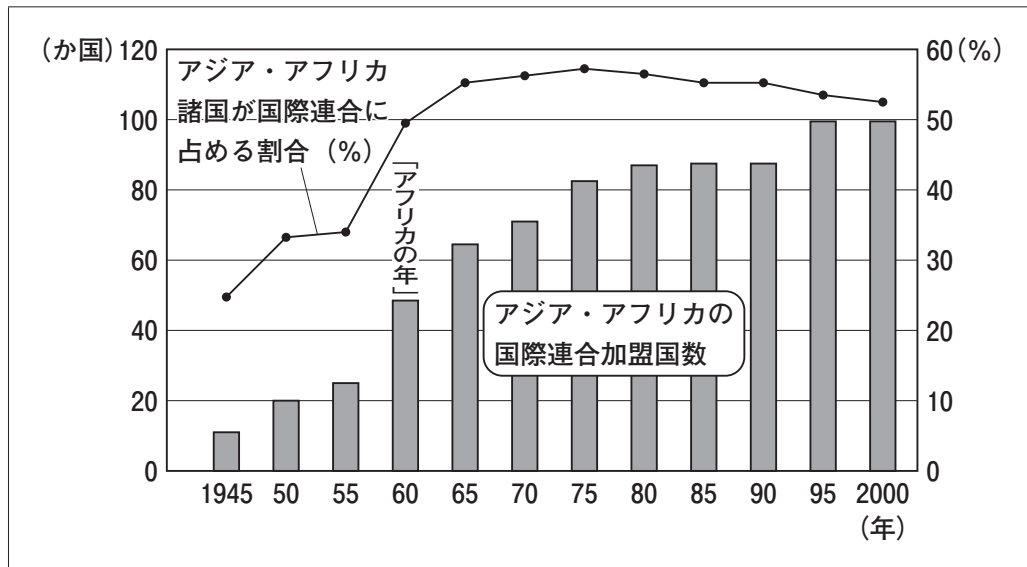
**意見 A**

ソ連・中華人民共和国との調整は難しいため、アメリカ合衆国側の国々と早期に講和して、経済の再建を図りたい。

**意見 B**

ソ連・中華人民共和国を含む、すべての交戦国と講和するべきだ。アメリカ合衆国側の国々との講和では、日本はアメリカ合衆国側に編入されてしまう。

資料3 アジア・アフリカ諸国の国際連合加盟国数と国際連合に占める割合



(国際連合資料)

説明文

資料1は、第二次世界大戦後の日本と世界の動きを示したものである。日本国内では、冷戦構造の中で、講和をめぐる二つの意見が対立していた。1951年のサンフランシスコ講和会議で、吉田茂内閣は、資料2の中の  X  を選択し、これらの国との間に、サンフランシスコ平和条約を結んだ。

1955年にインドネシアのバンドンで第1回アジア・アフリカ会議が開かれた。資料3から、1960年の「アフリカの年」とは、アフリカの国々が次々と  Y  年であると考えられる。

	X	Y
ア	意見A	植民地化された
イ	意見A	独立した
ウ	意見B	植民地化された
エ	意見B	独立した

3

次の(1)から(5)までの各問いに答えなさい。答えは、アからエまでのの中から一つずつ選んで解答用紙のらんのその記号を○で囲みなさい。

- (1) 瑞希さん<sup>みずき</sup>と篤史さん<sup>あつし</sup>は、資料1と資料2を基に「効率」の視点から話合いをした。会話文中の  にあてはまるものとして最も適切なものは、アからエまでのどれか。

資料1 通常入場口みのジェットコースター



資料2 通常入場口と一人乗り専用入場口のあるジェットコースター



## 会話文

瑞 希：資料1と資料2を比べてみると、資料1の方が待ち時間が長くなっているね。

篤 史：資料1のジェットコースターのAの席がまだ二席空いているのは、次の客が三人組だから、三人一緒に乗れないからだね。

瑞 希：資料2で通常入場口のほかに、「一人乗り専用入場口」があるのはなぜだろう。

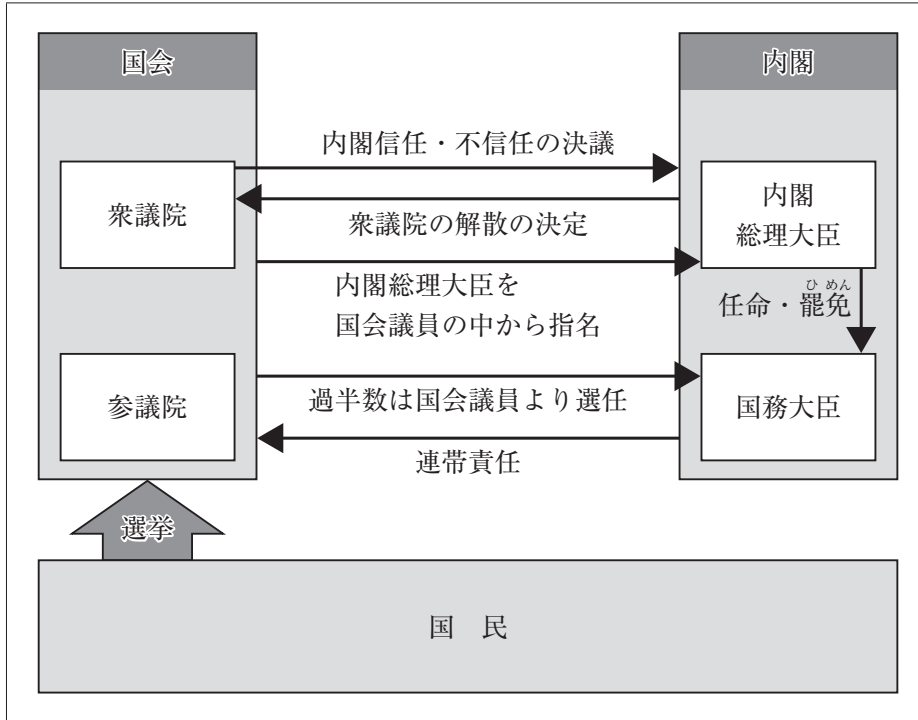
篤 史：それは、効率を考えて  X からだよ。

瑞 希：なるほど、だから資料2の方が待ち時間が短くなっているのだね。

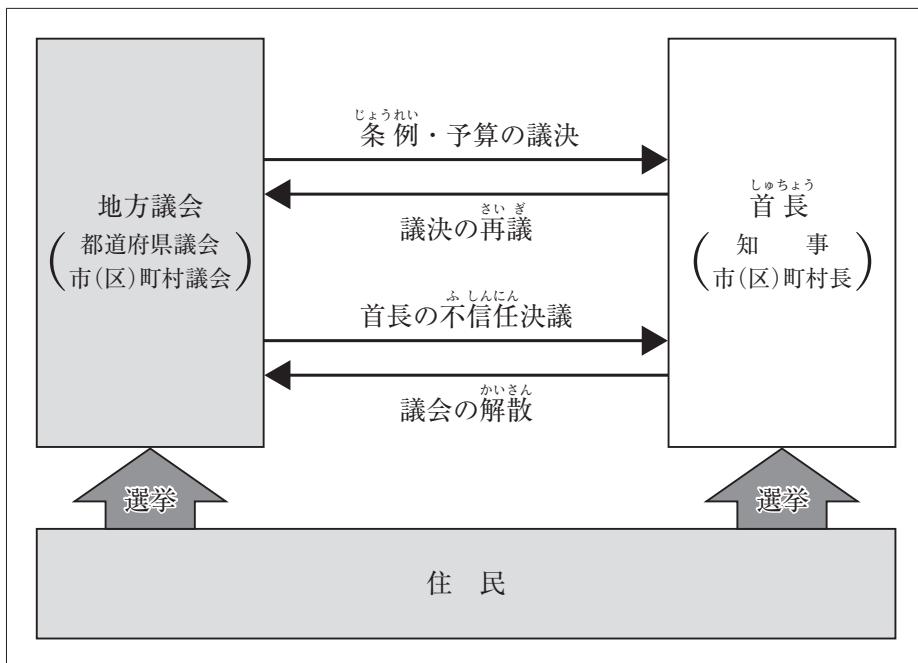
- ア 空席を残して、ゆとりをもってジェットコースターに乗せている
- イ 一人で来ている客のみを優先して特別な対応をしている
- ウ 空いている席に一人で来ている客を乗車させて座席の無駄を省いている
- エ 知らない人同士が隣り合ってトラブルになることを防いでいる

- (2) 沙耶さんは議院内閣制と地方自治のしくみについて調べ、資料1と資料2を手に入れた。  
 これらの資料を読み取ったものとして最も適切なものは、あとのアからエまでのどれか。

資料1 日本の議院内閣制



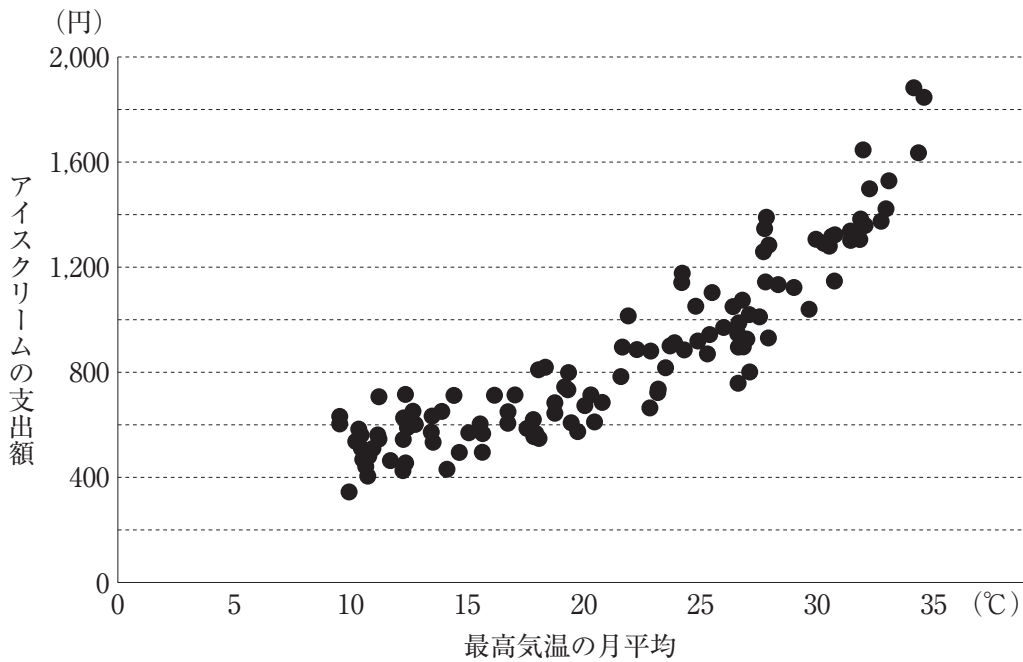
資料2 地方自治のしくみ



- ア 資料 1 から、国会議員や内閣総理大臣は、国民による選挙によって直接選ばれていることがわかる。
- イ 資料 1 から、国務大臣は必ず国会議員の中から選ばれていることがわかる。
- ウ 資料 2 から、首長は議会が議決した条例や予算に対して再議を求めることはできないことがわかる。
- エ 資料 2 から、地方議会の議員や首長は、住民による選挙によって直接選ばれていることがわかる。

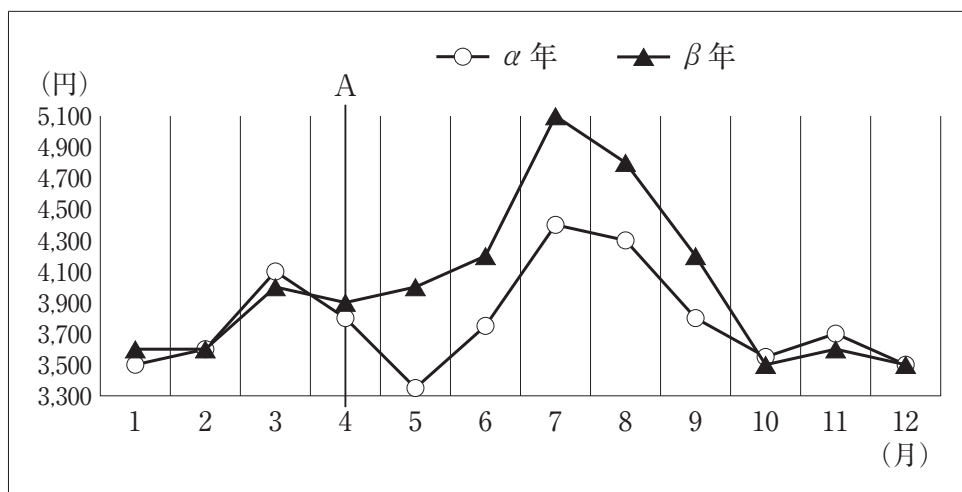
- (3) えなさんは、株式会社に関する学習を進める中で、株価（株式の価格）に興味をもち、資料1、資料2を手に入れ、考えたことをまとめた。考えたことの中の  ,  にあてはまる語句の組合せとして最も適切なものは、あとのアからエまでのどれか。

資料1 東京都の最高気温（月平均）と家計におけるアイスクリームの支出額  
(2014年1月～2023年12月)



(総務省統計局「家計調査」・気象庁「気象観測データ」より作成)

資料2 アイス会社の株価の動き



### 考えたこと

株式を発行することで得た資金で作られる企業を株式会社という。株式の価格を株価といい、需要と供給の関係や株式を売買する人々の **X** によって変動する。

資料1からは、気温とアイスクリームの支出額の関係が読み取れる。それを踏まえると、資料2では、Aのタイミングで「 $\beta$ 年の夏は $\alpha$ 年より **Y**」見込みが発表されたため、A以降、株価がこのような変動を見せたことが考えられる。

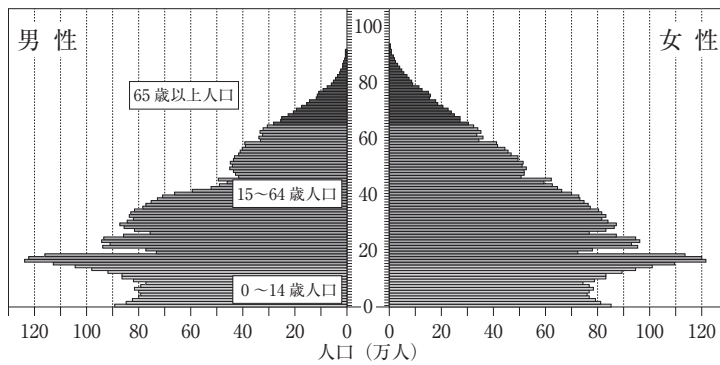
	X	Y
ア	企業に対する期待	気温が高く、猛暑になる
イ	企業に対する期待	気温が低く、冷夏になる
ウ	保有する資産額の合計	気温が高く、猛暑になる
エ	保有する資産額の合計	気温が低く、冷夏になる

- (4) はなこさんともみじさんは、日本の社会保障制度の在り方について考えるため、資料1から資料6を手に入れた。会話文中の  ,  にあてはまるものの組合せとして最も適切なものは、あとのアからエまでのどれか。

資料1 日本の社会保障制度

種類	仕事の内容
<input type="text" value="X"/>	医療保険 介護保険 年金保険 雇用保険 労災保険
<input type="text"/>	生活保護
社会福祉	高齢者福祉 児童福祉 障がい者福祉 母子・父子・寡婦福祉
公衆衛生	感染症対策 上下水道整備 廃棄物処理 公害対策 など


資料2 1965年の日本の人口ピラミッド



(国勢調査より作成)

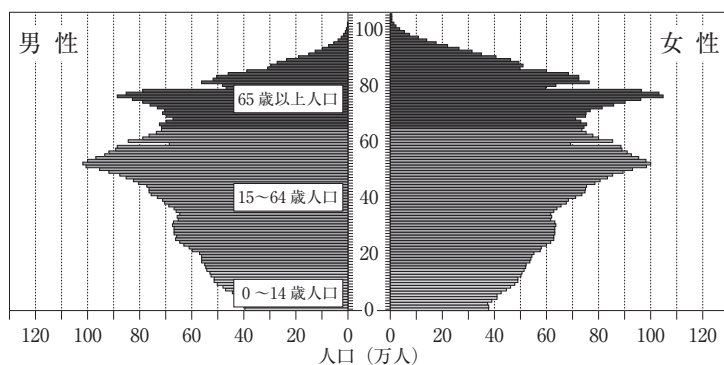
資料3 1965年の現役世代の負担

年金受給世代(65歳~)




現役世代(20歳~60歳)

資料4 2025年の日本の人口ピラミッド




(国立社会保障・人口問題研究所「日本の将来推計人口(平成29年推計)」より作成)

資料5



資料6



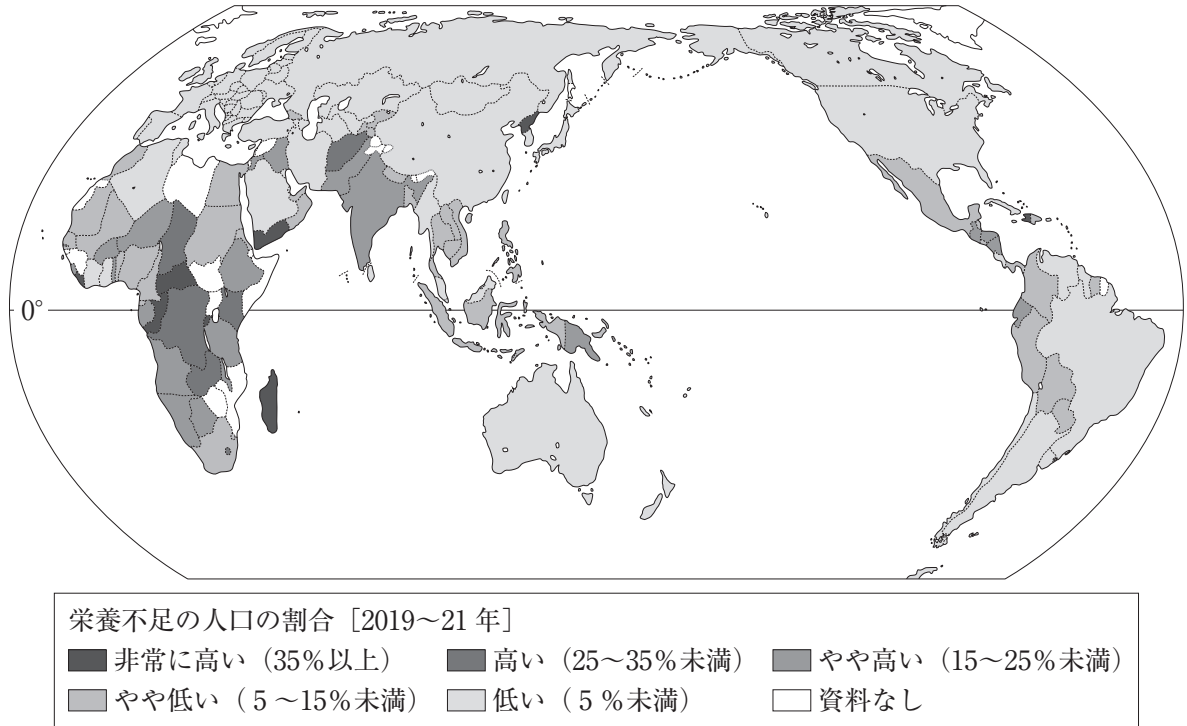
会話文

はなこ：現在の日本の社会保障制度は、資料1のような種類があるよね。  
 もみじ：中でも **X** が中心になっているよ。年金については、世代間の不公平感が問題となっているって聞いたことがあるね。  
 はなこ：資料2から1965年の現役世代の負担は資料3のようになっていたけれど、資料4をみると、2025年の現役世代の負担は **Y** のようになっているよ。  
 もみじ：よりよい社会保障制度を考えていかなければいけないだね。

	X	Y
ア	社会保険	資料5
イ	社会保険	資料6
ウ	公的扶助	資料5
エ	公的扶助	資料6

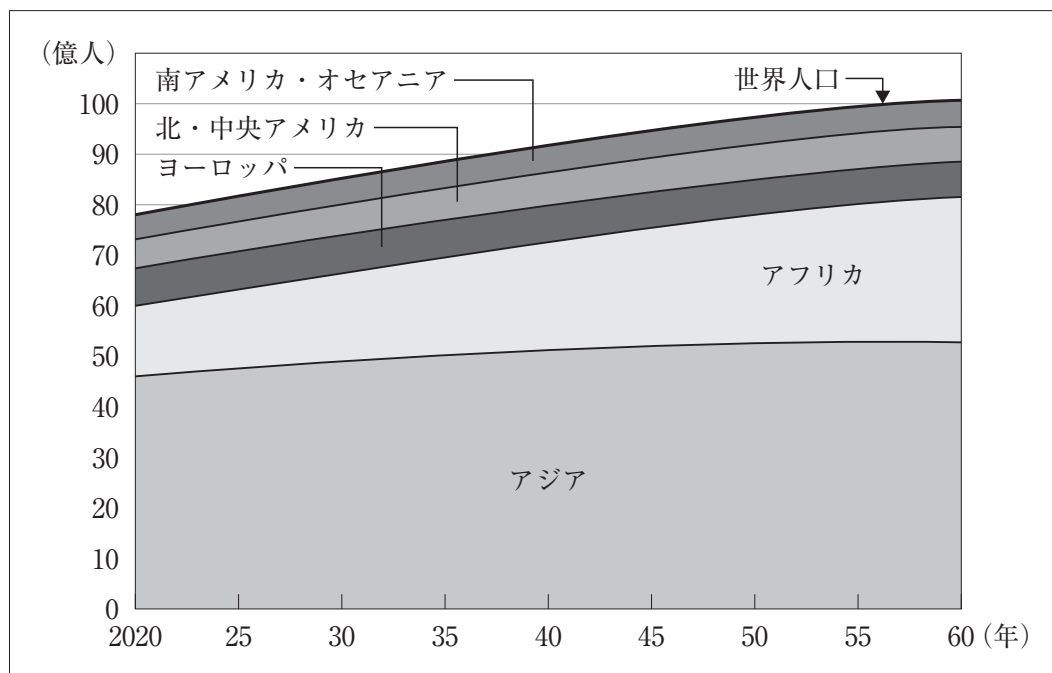
(5) よしのさんの班は世界の食料不足について調べていたところ、資料1、資料2を見つけた。これらの資料から内容を正しく読み取っている人の組合せとして最も適切なものは、あとのアからエまでのどれか。

資料1 ハンガーマップ



(FAO 統計より作成)

資料2 地域別の将来の人口予測



(「国連世界人口予測」)

よしの：資料1より，全人口に占める栄養不足人口の割合が高い国はアジアに最も集中していることがわかった。

じん：資料1より，全人口に占める栄養不足人口の割合の高い国はアフリカに最も集中していることがわかった。

まさや：資料2より，全人口に占めるアジアの人口の割合は，2020年と2060年を比較すると，増加していることがわかった。

りほ：資料2より，アフリカは2020年からの40年間で人口が最も増加すると予測されていることがわかった。

ア よしの と まさや

イ よしの と りほ

ウ じんと まさや

エ じんと りほ

4 今年、日本のラジオ放送開始 100 周年である。ラジオ放送に関連する、次の(1)から(3)までの各問いに答えなさい。答えは、ア～エまでのの中から一つずつ選んで、解答用紙のらんのその記号を○で囲みなさい。

- (1) 大和<sup>やまと</sup>さんは、100 年前に、日本でラジオ放送が開始されたことに興味をもち、資料 1 から資料 4 を手に入れた。会話文中の  ,  にあてはまる語句の組合せとして最も適切なものは、あとのアからエまでのどれか。

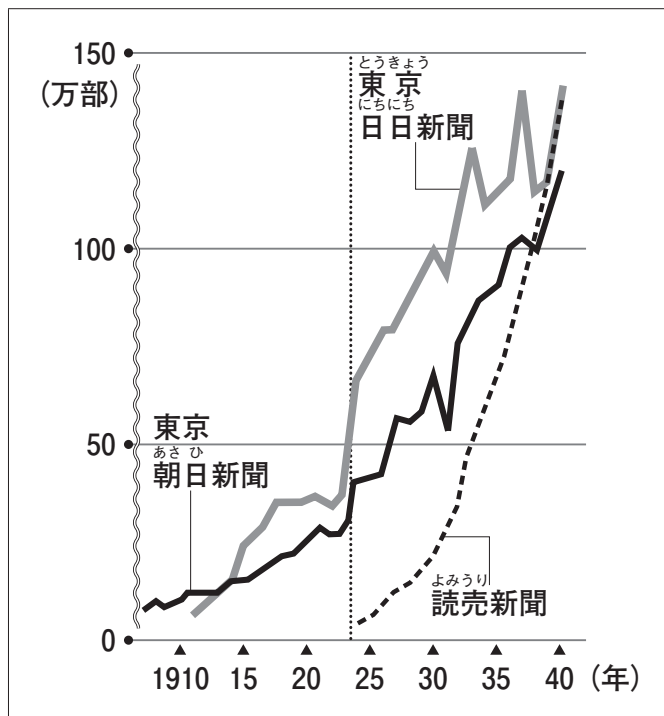
資料 1 関東大震災



資料 2 自由民権運動

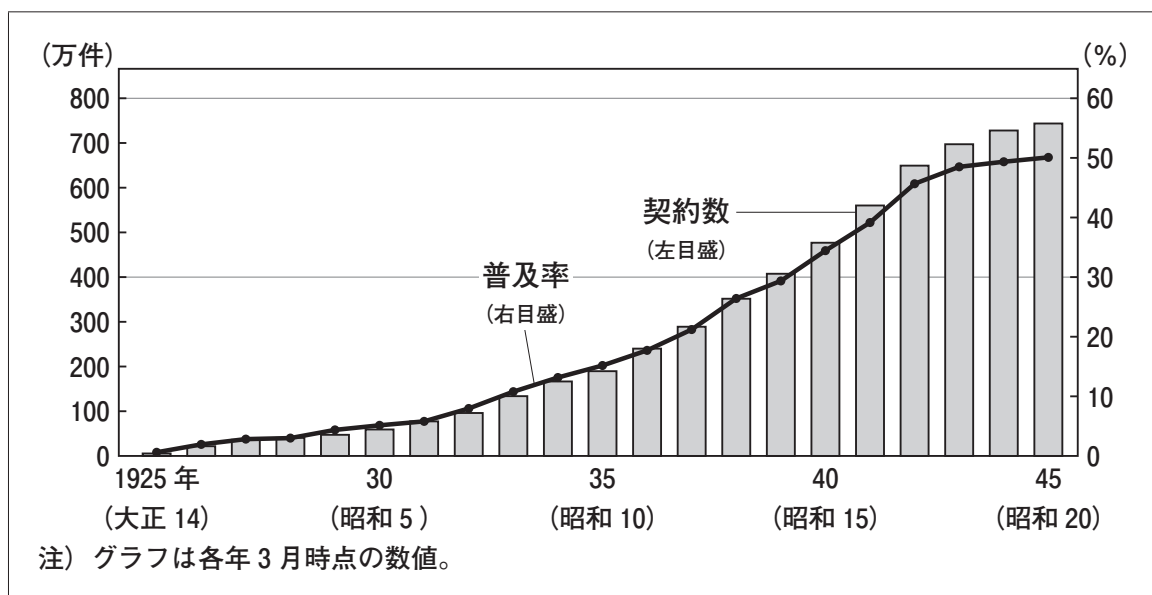


資料 3 新聞の拡大



(『山川詳説日本史図録』より作成)

資料4 ラジオの契約数・普及率



(『20世紀放送史 資料編』)

会話文

大 和：ラジオ放送の気運が高まったのは、1923年頃のできごとがきっかけであったと言われてしています。1923年のできごとを示しているのは、資料1と資料2のうちの  です。

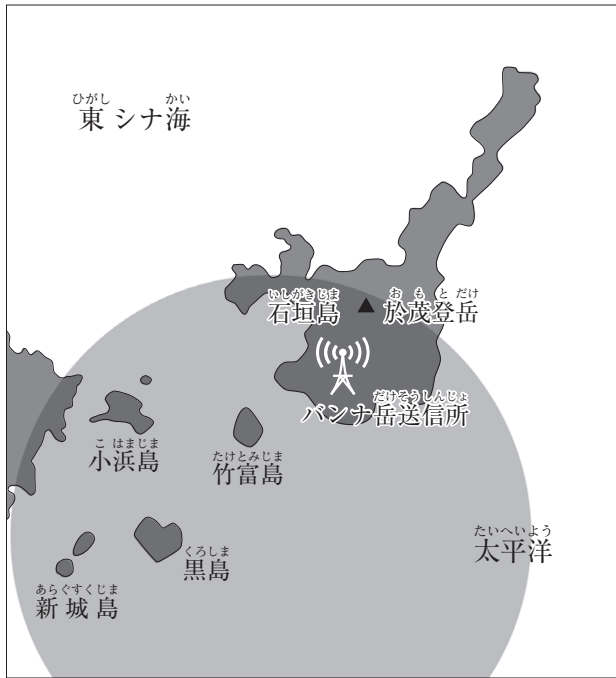
あすか 明日香：資料3から、1923年以降、新聞の発行部数が急増していることが読み取れます。1940年の新聞3社の各発行部数は100万部を上回っていますが、同じころのラジオの契約数はどうでしょうか。

大 和：資料4から、1940年のラジオの契約数は、新聞3社の各発行部数よりも  ことが読み取れますね。

	X	Y
ア	資料1	多い
イ	資料1	少ない
ウ	資料2	多い
エ	資料2	少ない

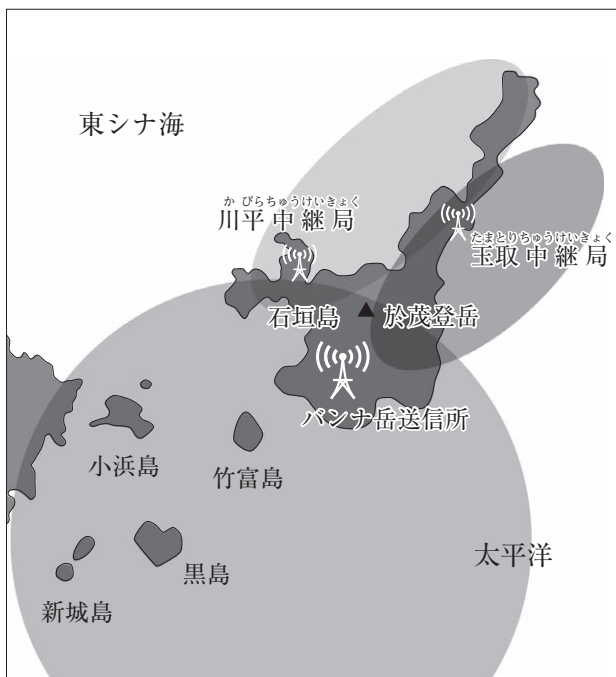
- (2) 亜樹<sup>あき</sup>さんは、沖縄県の離島におけるFM放送局について興味をもち、資料1から資料3を手に入れた。これらの資料を読み取ったものとして最も適切なものは、あとのアからエまでのどれか。

資料1 2021年3月までの聴取<sup>ちやうしゆ</sup>可能範囲



(FM いしがきサンサンラジオホームページより作成)

資料2 2021年4月以降の聴取可能範囲



(FM いしがきサンサンラジオホームページより作成)

資料3 石垣島 <sup>いんえいきふく</sup> (陰影起伏図)

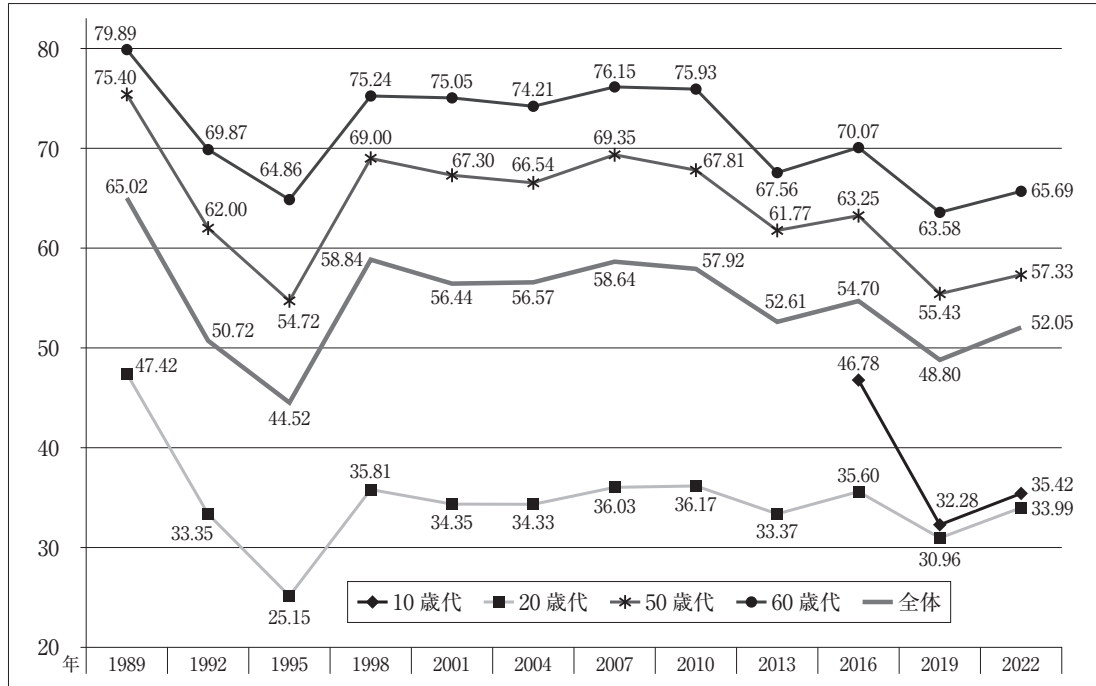


(地理院地図より作成)

- ア 2021年3月まではバンナ岳送信所のある石垣島内の限られた範囲のみ聴取できたが、2021年4月以降は竹富島や小浜島、黒島、新城島でも聴取できるようになった。
- イ 2021年3月までは於茂登岳より北側で聴取できない地域が多かったが、中継局が整備されたことで2021年4月以降は於茂登岳より北側でも聴取できる地域が広がった。
- ウ 二つの中継局が標高500m地点に整備されたことにより、2021年4月以降は石垣島の広範囲で聴取できるようになった。
- エ 2021年3月までは石垣島で聴取できる地域はなかったが、中継局の整備により、石垣島全域で聴取できるようになった。


- (3) 優志<sup>ゆうじ</sup>さんは国民の政治参加について調べ、その中で見つけた資料1、資料2についてメモにまとめた。メモ中の **X**、**Y** にあてはまる語句の組合せとして最も適切なものは、あとのアからエまでのどれか。

資料1 参議院議員選挙における年代別投票率の推移 (%)



(2022 総務省ホームページより作成)

資料2 政治や経済の情報を調べる際の情報源 (2016年) (%)



(JUST. SYSTEMS, などより作成)

メモ

<資料 1> 参議院議員選挙における年代別投票率の推移

- ・2016 年から選挙権が 18 歳以上となったため 10 歳代の数値が記録されている。
- ・10 歳代と 20 歳代は、50 歳代と 60 歳代に比べて投票率が  になっている。

<資料 2> 政治や経済の情報を調べる際の情報源

- ・テレビや新聞は、『』の割合がインターネット、ラジオより高くなっている。
- ・ラジオを参考にする人は比較的少ないことがわかる。

	X	Y
ア	高く	この情報源をよく参考にするし、信頼している
イ	高く	この情報源はあまり参考にしない
ウ	低く	この情報源をよく参考にするし、信頼している
エ	低く	この情報源はあまり参考にしない