

令和7年度 歴 史 (50分)

注 意 事 項

- 1 試験開始の合図があるまで、この問題冊子の中を見てはいけない。
- 2 この問題冊子は26ページである。
試験中に問題冊子の印刷不鮮明、ページの落丁・乱丁及び汚れ等に気付いた場合は、手を挙げて監督者に知らせること。
- 3 試験開始の合図前に、監督者の指示に従って、解答用紙の該当欄に以下の内容をそれぞれ正しく記入し、マークすること。
 - ・①氏名欄
氏名を記入すること。
 - ・②受験番号、③生年月日、④受験地欄
受験番号、生年月日を記入し、さらにマーク欄に受験番号(数字)、生年月日(年号・数字)、受験地をマークすること。
- 4 受験番号、生年月日、受験地が正しくマークされていない場合は、採点できないことがある。
- 5 解答は、解答用紙の解答欄にマークすること。例えば、

と表示のある解答番号に対して②と解答する場合は、次の(例)のように解答番号10の解答欄の②にマークすること。

(例)

解答番号	解 答 欄			
10	①	②	③	④

- 6 問題冊子の余白等は適宜利用してよいが、どのページも切り離してはいけない。
- 7 試験終了後、問題冊子は持ち帰ってよい。

歴 史

(解答番号 ~)

- 1** 次のレポートは、近現代の日本における学校給食の歴史について、生徒が作成したもの的一部分である。このレポートについて、後にある問1・問2に答えよ。

レポート

明治時代に始まったとされる日本の学校給食は、大正時代に入ると、児童の栄養改善のための方法として国から奨励されるなど、しだいに全国に広がっていきました。しかし、太平洋戦争によって物資が不足する中で、学校給食は中止となりました。

私は、「太平洋戦争後の日本では、学校給食はどのような経緯で再開されたのだろうか。」という問いを立てて調べ学習を行い、関係する出来事を年代の古い順に並べて次の表を作成しました。また、この問いについて考察するために、下の資料を見つけました。

表 日本の学校給食の再開に関する出来事

連合国軍最高司令官総司令部(GHQ/SCAP)による占領政策が、日本で始まった。
日本政府が学校給食の実施を奨励し、一部の都県で試験的な給食が始まった。
学校給食に対して、「占領地救済資金」によるアメリカ合衆国の資金援助が始まった。
<input type="text" value="A"/> に伴って、「占領地救済資金」によるアメリカ合衆国の資金援助が打ち切られ、日本政府の内部で給食の廃止が検討された。
学校給食法が制定された。

資料 表中の「給食の廃止」をめぐる国務大臣の発言(意識してある)

大蔵大臣(注1) 「すべての生徒に同じ昼食を食べさせようというのは社会主義だ。そこには、教育上の意義はない。」
文部大臣(注2) 「給食を通して、…偏食ということもなくなる。礼儀を教えることもできる。…精神、身体両面から有益で、是非とも実行したい。」
(注1) 現在の財務大臣 (注2) 現在の文部科学大臣

問 1 表中の に当てはまる語句として最も適切なものを、次の①～④のうちから一つ選べ。解答番号は 。

- ① 広島・長崎への原子爆弾(原爆)の投下
- ② キリスト教の禁止
- ③ ポーツマス条約の締結
- ④ サンフランシスコ平和条約の発効による日本の独立

問 2 レポート中の資料について述べた文ア・イの正誤の組合せとして適切なものを、下の①～④のうちから一つ選べ。解答番号は 。

ア 二人の国務大臣の発言の内容を比較すると、当時の日本の給食の廃止に対する意見は、立場によって異なっていたことがわかる。

イ 大蔵大臣は、当時の世界でみられた対立構造を念頭に置きつつ、給食を廃止すべきではないという趣旨の発言を行った。

- ① アー正 イー正 ② アー正 イー誤
- ③ アー誤 イー正 ④ アー誤 イー誤

2 次のⅠ・Ⅱについて、後にある問1～問8に答えよ。

Ⅰ 次の会話文について、後にある問に答えよ。

会話文

オサム： 私たちはよく〇〇人、〇〇国民という言い方をするけれど、何をもって日本人やフランス人とするかは、意外に難しいですね。

アズサ： まずは国籍で定義する考え方がありますよね。そういえば前回の授業で「国民」という概念が広がったのは近代の市民革命以降だと学びました。

先生： 資料1を見てください。オスマン帝国のミドハト憲法^(a)です。

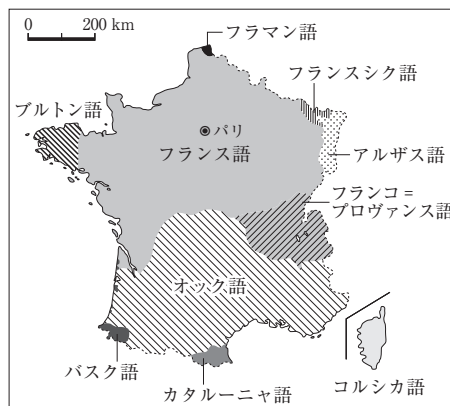
資料1 ミドハト憲法(意識してある)

- ・皇帝陛下はカリフ位によりイスラーム教の守護者であり、全オスマン臣民の元首にして皇帝である。
- ・オスマン国籍を有する者は全て、いかなる宗教及び宗派に属していようとも、例外なくオスマン人と称される。

オサム： 国籍について触れられていますね。オスマン帝国は **A** のでしょうか。

先生： そうですね。しかし、憲法に定められていれば、その国の人々は同じ国民であるという認識^(b)を持っていたのでしょうか。資料2を見てください。どのようなことに気づきますか。

資料2 フランス革命期の言語分布



アズサ： フランス語は、フランス **B** ではあまり話されていないことがわかりますが、これはどういうことでしょうか。

オサム： 次の資料3も踏まえて考えると、この時期のフランスでは、が話されていたことがわかります。

資料3 国民公会での演説(1794年、意識してある)

いまだに、旧州の名前を思い起こさせるようなおよそ30の地方語が存在する。…誇張でもなく、600万人のフランス人が、特に、農村においては、国民言語を知らないということ、…国民言語を話すことができる人口が300万人を超えないこと、そしておそらくそれを書くことができる人口ははるかに少数であることも断言できる。

先生： その通りです。資料3と同じ時期に、フランスの議会では、フランス語の新しい文法や語彙をつくり、フランス語を普及させるための命令を出しています。

オサム： 言語を統一することで同じ国民であるという意識を創出しようとしたのですね。では、同様の動きがみられた1870年代の日本ではどのような政策がとられたのでしょうか。

アズサ： 次の時間に資料を持ち寄り、確認してみましょう。

問1 下線部分ミドハト憲法が^(a)発布される背景となった出来事とに当てはまる語句の組合せとして適切なものを、下の①～④のうちから一つ選べ。解答番号は。

出来事

ア タンジマート

イ トルコ共和国の成立

ウ 単一民族で構成されており、その固有の文化や血統を守ろうとした

エ 多民族国家であり、多様な文化的背景を持つ人々を一つに統合しようとした

① アーウ

② アーエ


③ イーウ

④ イーエ

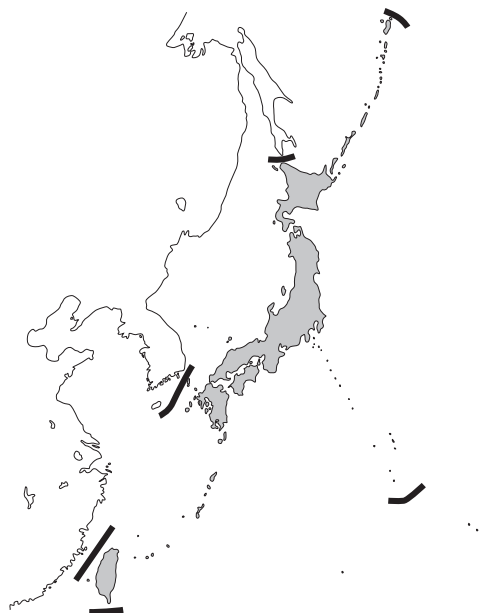
Ⅱ 次の年表について、後にある問に答えよ。

年表

中国の出来事	年・年代	日本の出来事
貿易港が広州に限定された。	1757 ①	
	1825	異国船打払令が制定された。
アヘン戦争が始まった。	1840	
上海など5港が開港された。	1842	
	1853	ペリーが浦賀に来航した。
	1858 ②	欧米諸国との通商条約が締結された。
(d) <u>洋務運動</u> が行われた。	1860年代	
	1872	富岡製糸場が開業した。
	1889	大日本帝国憲法が制定された。
日清戦争が始まった。	1894	日清戦争が始まった。
義和団戦争が始まった。	1900 ③	義和団戦争に出兵した。
	1904	日露戦争が始まった。
辛亥革命が始まった。	1911 ④	(e) <u>関税</u> 自主権の回復が実現した。
中華民国が建国された。	1912	

問 5 次の略地図中の  はある時期の日本の領土を、太線はその時期の日本の国境のおよその位置を表したものである。この時期として適切なものを、年表中の①～④のうちから一つ選べ。解答番号は 。

略地図



問 6 年表中の期間における中国・日本でみられた動きについて、アズサさんは次のア・イの考察を行った。ア・イについて述べた文として最も適切なものを、下の①～④のうちから一つ選べ。解答番号は 。

ア 欧米諸国との接触を経て、新たに港が開かれた。

イ ロシアとの戦争によって、満洲における権益を獲得した。

- ① アは両国で共通してみられた動きであるが、イは日本のみでみられた動きである。
- ② アは中国のみでみられた動きであるが、イは両国で共通してみられた動きである。
- ③ ア・イとも両国で共通してみられた動きである。
- ④ アは日本のみ、イは中国のみでみられた動きである。

問 7 次の資料 4 は、下線部分^(d)洋務運動の中心人物であった李鴻章と日本公使の森有礼との対談の内容、資料 5 は、明治初期の蒸気機関車待合所の様子である。この二つの資料から考察できることとして適切なものを、下の①～④のうちから一つ選べ。解答番号は 9。


資料 4 (意識してある)

李鴻章： あなたは貴国が旧来の衣服のしきたりを捨ててヨーロッパ風にならい、貴国の独立の精神をヨーロッパの支配に委ねたことに少しでも恥じることはないのか。

森有礼： 少しも恥じるところがないのみならず、かえって誇りに思う。…古くより、アジア・アメリカその他のいずれの国であっても、長所があればわが国に導入することを望むのである。

李鴻章： わが国においては決してそのような変革を行うことはないだろう。ただし、兵器・鉄道・電信・その他の機械などは必需品であり、外国の最も優れているところであるので、これを外国から導入せざるを得ない。

資料 5 とうきょうしおどめてつどうかんじょう きしゃまちあいのず
「東京 汐留鉄道館 蒸 汽車待合之図」



ネクタイやジャケット
を身につけている。

- ① 森有礼は、日本でアのような服装がとられることに否定的である。
- ② 李鴻章は、清でアのような服装がとられることに否定的である。
- ③ 李鴻章は、日本でイのような服装がとられることに否定的である。
- ④ 森有礼は、清でウのような交通機関が導入されることに否定的である。

- 問 8 下線部分^(e)関税に関連して、オサムさんは次の資料 6 から、貿易の自由と制限をめぐる対立について考察したレポートを作成した。レポート中の と に当てはまる語句の組合せとして適切なものを、下の①～④のうちから一つ選べ。
- 解答番号は 。

資料 6 アメリカ合衆国のある州の議員による演説の内容

- ・関税の唯一の目的は、アメリカ合衆国の産業を促進する目的で、外国の生産物に課税することだ。
- ・現状は、アメリカ合衆国の綿花農家の側は、綿作地域だけでなくアメリカ合衆国の全体がイギリスの工業製品の消費のために開放され、制約のない状態を維持しましょうと申し立てており、イギリスの製造業の側は、自分たちもアメリカ合衆国南部の綿花を購入し続けましょうと約束しているのである。
- ・このような約束こそ、民衆の仲を引き裂くことになる。

レポート 「南北戦争前のアメリカ合衆国における自由と制限をめぐる対立」

1824 年、アメリカ合衆国で関税法が制定された。資料 6 は、その意義について述べた演説内容の一部を抜粋したものである。

この議員は、 が伸び悩んでいる現状に批判的だということが読み取れる。一方で、アメリカ合衆国南部の綿花農家らをはじめとして関税法に反対する声も噴出し、関税をめぐる地域間での対立を招くことになった。

つまり、アメリカ合衆国の ことによる対立だと言えるだろう。どちらの貿易政策をとるかをめぐる対立は、現代でもみられるものだと感じた。

- ① D—イギリスの工業製品が流入することで、アメリカ合衆国の製造業の成長
E—北部は保護貿易を求め、南部は自由貿易を求めた
- ② D—イギリスの工業製品が流入することで、アメリカ合衆国の製造業の成長
E—北部は自由貿易を求め、南部は保護貿易を求めた
- ③ D—イギリスの工業製品の流入を制限することで、アメリカ合衆国産の綿花の輸出
E—北部は保護貿易を求め、南部は自由貿易を求めた
- ④ D—イギリスの工業製品の流入を制限することで、アメリカ合衆国産の綿花の輸出
E—北部は自由貿易を求め、南部は保護貿易を求めた

3 次のⅠ・Ⅱについて、後にある問1～問8に答えよ。

Ⅰ 次の文章について、後にある問に答えよ。

第一次世界大戦で植民地からも数多くの兵が徴兵されたことなどを背景として、大戦後に各地で民族運動が高揚した。ヨーロッパ各国は資金調達のため戦時公債を発行し、大戦を経て各国の経済状況は大きく変化した。アジアでは日本が輸出を拡大し、戦勝国となったアメリカ合衆国は繁栄の時代を迎えた。また、国際秩序も大きく変化し、国際協調体制の構築が図られた。

問1 下線部分^(a)第一次世界大戦中の出来事として適切なものを、次の①～④のうちから一つ選べ。解答番号は **11**。

- ① 二十一か条の要求が出された。
- ② 日本に警察予備隊が設置された。
- ③ インドシナ共産党が結成された。
- ④ 日本・ドイツ・イタリアの間で軍事同盟が結ばれた。

問 2 次の資料 1・資料 2 は、下線部分^(b)民族運動に関するものである。二つの資料の内容について述べた文ア・イの正誤の組合せとして適切なものを、下の①～④のうちから一つ選べ。

解答番号は 12。

資料 1 インド国民会議派大会決議(1920 年、意識してある)

非協力国民が寄せていた信頼はインド政府によって裏切られ、インドの人々は、今や、自治を打ち建てたいと決意するに至った。今年開かれた会議派の特別集会以前に試みられた方法は人々の権利と自由を十分に確保することができなかった…このことに鑑みて、会議派は、政府との自発的な関わりあいを放棄し…カルカッタ特別大会での非暴力・非協力運動の決議を追認し、今後、その運動が…完全もしくは部分的に達成されるべきと判断する。

資料 2 ガンディーの演説(1942 年、意識してある)

私は連合国が今日この時点で非暴力を受け入れ、武装解除することを望んではいない。ファシズムと、現在私が相手にして戦っている帝国主義の間にも根本的な相違がある。イギリスは、彼らが望むすべてをインドから得ることができるだろうか。イギリスが今日得るものは、彼らが隷属状態においているインドからのものである。もしインドが独立した同盟軍として参加するとすれば、…そういう独立がもし来るなら、それは今日来なければならない。

ア 資料 1 では、インド国民会議派が非暴力・非協力運動の意義を否定している。

イ 資料 2 では、ガンディーはファシズムの考え方とインド支配におけるイギリスの考え方が同じであると主張している。

- | | | | | | |
|---|-----|-----|---|-----|-----|
| ① | ア—正 | イ—正 | ② | ア—正 | イ—誤 |
| ③ | ア—誤 | イ—正 | ④ | ア—誤 | イ—誤 |

問 3 次の資料 3 は、下線部分^(c)アメリカ合衆国は繁栄の時代を迎えたことに関するものである。

資料 3 の時代におこった出来事として適切なものを、下の①～④のうちから一つ選べ。

解答番号は 。

資料 3 (意識してある)

好況続きで、みんなが豊かになったということは、めざましい結果をもたらした。…金持ちになり、速成の教養を身につけ、社交上心配がないように、概説書とエチケットの本が流行しだした。…海外旅行熱も大変なものだった。…汽車で、メキシコやカナダに出かけた人が1万4千人、カナダ入りした自動車は300万台を超えた。

- ① 新しい情報伝達手段として、ラジオ放送が開始された。
- ② ワットが、蒸気機関の改良を実現した。
- ③ 北部と南部の対立が激しくなる中、リンカンが大統領に当選した。
- ④ 公民権運動が活発になった。

問 4 下線部分^(d)国際秩序について、20世紀前半における国際秩序について述べた次のア～ウを年代の古い順に正しく並べたものを、下の①～④のうちから一つ選べ。

解答番号は 。

ア ドイツがすべての海外植民地を放棄し、巨額の賠償金を課せられた。

イ ルール占領後にヨーロッパで結ばれた集団安全保障条約により、ドイツが国際社会に復帰した。

ウ イギリス・フランス・ロシアの三国が協力関係を築き、ドイツを中心とする三国同盟と対立した。

- ① ア→イ→ウ
- ② イ→ウ→ア
- ③ ウ→ア→イ
- ④ ウ→イ→ア

Ⅱ 次の会話文について、後にある問に答えよ。

会話文

アカネ： ブラジルには日系人がたくさんいるらしいですね。昔から多かったのでしょうか。

ハルト： 調べてみたところ、次のようなグラフを見つけました。このグラフから日本人がブラジルに渡っていった歴史があることがわかりますね。さらに当時の人の考^(e)えが読み取れる資料4も見つけました。経済界の人物が書いた文章です。

アカネ： 面白い資料ですね。当時の状況がよくわかります。ところで、グラフのXの時期は特に移民の数が多く、またグラフのYの時期は移民の数が極端に減少^(f)しています^(g)ね。

ハルト： そうですね。なぜでしょう。その背景について次の時間に考えてみたいと思います。

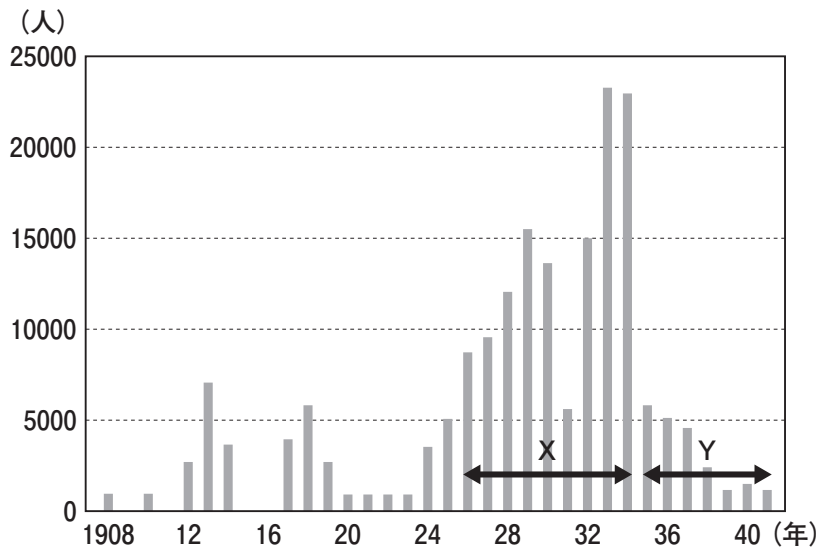
アカネ： 私もブラジル移民について調べてみたところ、移民に関する建築物を見つけました。写真^(h)は兵庫県にある「神戸市立海外移住と文化の交流センター」で、この中に「移住ミュージアム」があります。この建築物は、1928年に「国立移民収容所」として設置され、南米への移住者が日本で最後の日を過ごす場所だったそうです。

ハルト： 「国立移民収容所」ができたということは、移民が国策であったということですね。

アカネ： そのようです。この建築物は日本軍の施設として利用された時期もありましたが、第二次世界大戦後に移民の送り出しのための施設として再び使用され、^(h)ブラジルの日系団体などからの保存・再整備の要請もあり、2009年に「移住ミュージアム」となったそうです。

ハルト： 興味深いですね。移民についてもっと調べたくなりました。

グラフ ブラジルへの日本人移民数の推移(1908～41年)



写真



問 5 下線部分^(e)当時の人の考えに関連して、資料 4 の内容について述べた文ア・イの正誤の組合せとして適切なものを、下の①～④のうちから一つ選べ。解答番号は 15。

資料 4 外務大臣に宛てた意見書(1913 年, 意識してある)

増えすぎた人口の解決策として、また貿易を増やし発展させる方法として、また外貨を得るための一つの策として、これまで放っておかれた海外移民の奨励を進めることは本当に差し迫ったことだ。…まずラテンアメリカ諸国並びに、太平洋諸島、マレー半島、南洋諸島に目を向けることができる。大規模かつ組織的に移民政策の実績を挙げるためには、内外に信用のおける移民取扱機関を経由することを便利かつ得策とする…

ア 過剰人口の対策と貿易発展のため、移民の奨励をすべきである。

イ 移民取扱機関を経由すると手間がかかるため、個人での移民を進めるとよい。

① アー正 イー正

② アー正 イー誤

③ アー誤 イー正

④ アー誤 イー誤

問 6 下線部分^(f)グラフの X の時期における日本の出来事として最も適切なものを、次の①～④のうちから一つ選べ。解答番号は 16。

① 自由民権運動が活発になった。

② 造船業が発展し、船成金が現れた。

③ 本土空襲が始まり、学童疎開が進められた。

④ 度重なる不況によって、失業者が増大した。

問 7 下線部分グラフのYの時期は移民の数が極端に減少していることに疑問を持ったハルト(g)さんは次の資料5を見つけ、下のまとめを作成した。まとめ中の と に当てはまる語句の組合せとして適切なものを、下の①～④のうちから一つ選べ。解答番号は 。

資料5 1934年に公布されたブラジルの憲法(意識してある)

- ・ブラジルに入国した移民は、移民本人の人種的統合と肉体的・市民的能力を保証するために必要な制限を受ける。ただし各国からの毎年の移住者総数は、過去50年間にブラジルに定住した同国人の総数の2%を超えてはならない。
- ・ブラジル国内のいかなる場所でも移民の集住を禁じ、外国人の選別、入植地および同化については、法律によってこれを定める。

まとめ

- ・資料5の憲法には、 するという内容が含まれていたことが読み取れる。このことから、当時のブラジルでは移民に関することが問題となっていたことが推測できる。
- ・当時のブラジルでは日本への反感が高まっていた。その背景には、 が考えられる。

- ① A—ブラジルに移住してきた人の集住を禁止
B—全権委任法の成立
- ② A—ブラジルに移住してきた人の集住を禁止
B—満洲事変にはじまる中国進出
- ③ A—移住者の人数の制限を撤廃
B—全権委任法の成立
- ④ A—移住者の人数の制限を撤廃
B—満洲事変にはじまる中国進出

問 8 下線部分第二次世界大戦後に関する次の資料 6 から読み取れることと、資料 6 が発表された頃の出来事^(h)の組合せとして適切なものを、下の①～④のうちから一つ選べ。

解答番号は 18。

資料 6 アメリカ合衆国大統領トルーマンの特別教書(意識してある)

ほとんどすべての国は、二つの生活様式の中から一つを選ばなければならない。…第 1 の生活様式は、多数者の意思に基づき、自由な諸制度、代議政体、自由な選挙…政治的抑圧からの自由によって特徴づけられている。第 2 の生活様式は、多数者を力で強制する少数者の意思に基づいている。それはテロと抑圧、統制された出版や放送、形ばかりの選挙…などによって成り立っている。私は、武装した少数者や外部からの圧力によって企てられた支配^{くわだ}に抵抗している自由な諸国民を援助することこそ、アメリカ合衆国の政策でなければならないと信ずる。

読み取れること

ア トルーマンは、「第 1 の生活様式」を批判している。

イ トルーマンは、「第 2 の生活様式」を批判している。

出来事

ウ 「鉄のカーテン」演説が行われた。

エ 第 1 次石油危機がおこった。

① アーウ ② アーエ ③ イーウ ④ イーエ

4 次のⅠ・Ⅱについて、後にある問1～問8に答えよ。

Ⅰ 次の会話文1について、後にある問に答えよ。

会話文1

生徒： 学校の授業でグローバル化について学習する中で国際連合(国連)のはたらきに興味を持ち、特に拒否権の行使について調べ、表1を作成しました。

先生： どのようなことがわかりましたか。

生徒： 例えば、1960年代まではソヴィエト連邦(ソ連)の行使数が多いことがわかりました。そしてこれは、**A**の国々との対立を背景に行使されたものだと考えられます。また、日本の国連加盟^(a)もソ連の拒否権の行使と関係があることがわかります。

先生： 日本の国連加盟が実現するまでの間に、ソ連の姿勢が変わったことがわかりますね。他にはどのようなことがわかりましたか。

生徒： アメリカ合衆国が**B**後に拒否権を行使していることがわかります。アメリカ合衆国とソ連の対立関係が影響していると考えました。

先生： この対立は冷戦と呼ばれ、多くの国が影響を受けた^(b)ことも授業で学びましたね。では、冷戦終結後はどうなったのでしょうか。

生徒： 冷戦終結後も世界各地で内戦や紛争^(c)が起きています。私はこのことと拒否権の行使との関連について調べてみようと思います。

表1 アジア諸国の国連加盟に対して拒否権が行使された例

年	国連加盟を目指したアジア諸国	拒否権を行使した国
1955	日本	ソ連
1957	大韓民国	ソ連
1957	ベトナム共和国	ソ連
1958	大韓民国	ソ連
1958	ベトナム共和国	ソ連
1976	ベトナム社会主義共和国	アメリカ合衆国

問 1 会話文 1 中の **A** と **B** に当てはまる語句の組合せとして適切なものを、次の①～④のうちから一つ選べ。解答番号は **19**。

- ① A—社会主義陣営 B—湾岸戦争
 ② A—社会主義陣営 B—ベトナム戦争
 ③ A—資本主義陣営 B—湾岸戦争
 ④ A—資本主義陣営 B—ベトナム戦争

問 2 下線部分日本の国連加盟が実現した時期の、日本とソ連^(a)の政治状況について述べた文の組合せとして適切なものを、下の①～④のうちから一つ選べ。解答番号は **20**。

日 本

- ア 日ソ共同宣言によって、ソ連との関係改善を進めた。
 イ 極東地域の安全を確保するために、日ソ中立条約が調印された。

ソ 連

- ウ フルシチョフによるスターリン批判が行われた。
 エ 世界革命を目指してコミンテルンが組織された。

- ① アーウ ② アーエ ③ イーウ ④ イーエ

問 3 下線部分**多くの国が影響を受けた**に関連して、日本が冷戦の影響を受けた具体的な事例の**(b)**写真とその説明の組合せとして適切なものを、下の①～④のうちから一つ選べ。

解答番号は 21。

写 真

ア



「国民をうらぎる岸内閣は退陣せよ」という横断幕を用いて人々が行進している。

イ



預金を引き出そうとする預金者が銀行に集まっている。

説 明

ウ 経済的な不況が続く中で、金融恐慌がおこった。

エ アメリカ合衆国の戦争に巻き込まれる危険があると、条約締結に対して反対運動が発生した。

- ① アーウ ② アーエ ③ イーウ ④ イーエ

問 4 下線部分**内戦や紛争**に関連して、次の説明文は1990年代に実際におきた内戦について述べたものである。この内戦を収束させるための国際的な介入について説明した文として適切なものを、下の①～④のうちから一つ選べ。解答番号は 22。

説明文

社会主義国であったユーゴスラヴィアは非同盟主義を採った指導者の下で民族対立が回避されていた。しかし、その指導者の死後、国内の民族対立が目立つようになり、対立する民族の間で1991年から排除、虐殺が行われ、大規模な内戦に発展した。

- ① 日本は、PKO協力法を根拠に自衛隊を派遣して平和維持活動にあたった。
② 国際連合は、初めて安全保障理事会で国連軍の派遣を決定した。
③ 北大西洋条約機構(NATO)は、軍隊を派遣して空爆を行った。
④ 日本は他国と共同で、シベリア方面に出兵を行った。

II 次の会話文2について、後にある問に答えよ。

会話文2

太郎： 歴史総合の授業で学んだ、「世界終末時計」について表2にまとめてみました。

花子： 表2内の残り時間の表記は何を表しているのですか。

太郎： これは、地球滅亡を午前0時とし、それまでの残り時間を象徴的に示すものです。残り時間が少なくなれば、それだけ世界が破滅の危機に近づいていることを示しています。今回はまず、21世紀初めまでをまとめてみました。

花子： 世界の破滅ということは、Cと残り時間は短くなるということですか。

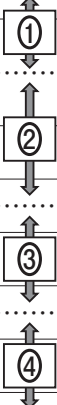
太郎： 基本的にその通りですが、実際にCことがなくても、Dなどの出来事によっても残り時間は短くなるみたいですね。

花子： 逆に、どのような時に残り時間が伸びているのでしょうか。

太郎： それぞれの個別の事象を調べることも大切ですが、なぜそのような傾向がみられるのかを考えてみるのも面白そうですね。核兵器や戦争・内戦以外にも人々の生活に密接な経済について調べてみるのもいいですね。

表2

年	残り時間	その年の残り時間に影響を与えた出来事
1953	2分	アメリカ合衆国とソ連が水爆実験を行う。
1963	12分	アメリカ合衆国とソ連が部分的核実験禁止条約に調印する。……………
1972	12分	アメリカ合衆国とソ連がSALT I（第一次戦略兵器制限交渉）を調印する。……………
1974	9分	インドが核実験を行う。
1980	7分	イラン・イラク戦争が勃発する。……………
1990	10分	東欧の民主化が進む。冷戦が終結する。
1991	17分	ソ連が崩壊する。……………
1998	9分	インドとパキスタンが核実験を行う。
2002	7分	前年にアメリカ同時多発テロがおきる。……………



問 5 会話文 2 中の **C** と **D** に当てはまる語句の組合せとして適切なものを、次の①～④のうちから一つ選べ。解答番号は **23**。

- ① C—戦争がおこる D—核実験の実施
- ② C—戦争がおこる D—ソ連の崩壊
- ③ C—民主化が進む D—核実験の実施
- ④ C—民主化が進む D—ソ連の崩壊

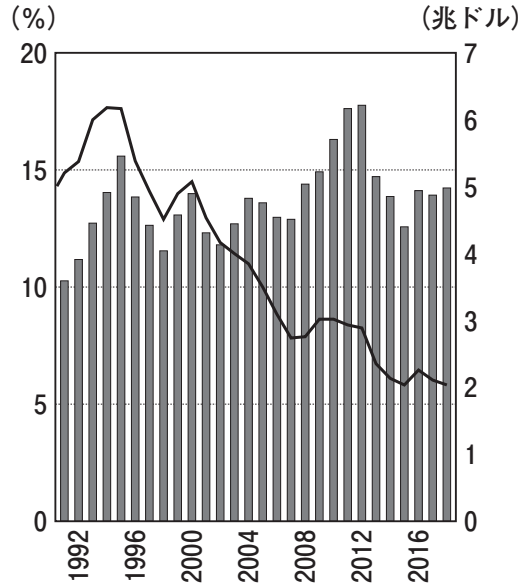
問 6 下線部分^(d)残り時間が伸びているに関連して、太郎さんは次の資料 1 を見つけた。この資料は、「世界終末時計」の時間が変化した際に、科学誌に掲載された文章の一部である。この資料 1 が出された時期として適切なものを、表 2 中の①～④のうちから一つ選べ。解答番号は **24**。

資料 1 (意識してある)

ゴルバチョフ書記長が中距離核戦力(INF)全廃条約に署名したことは、その内容が政府によって既に批准されていたことを示している。…外交政策の転換は、ゴルバチョフの国内改革と開放の呼びかけと相まって、アメリカ合衆国との関係の改善に貢献した。この国が国内自由化の道を歩み続ければ、これらの関係はさらに強化されるだろう。

問 7 下線部分^(e)人々の生活に密接な経済に関連して、次の資料 2 から読み取れることと、資料 2 の時期における日本経済について述べた文の組合せとして適切なものを、下の①～④のうちから一つ選べ。解答番号は 25。

資料 2 日本の GDP(国内総生産)の推移



■ 日本の GDP — 世界全体の GDP に占める日本の GDP の割合

読み取れること

- ア 日本の GDP は、1992 年以降一貫して増加し続けている。
- イ 世界全体の GDP に占める日本の GDP の割合は、2000 年以降低下傾向にある。

日本経済

- ウ アメリカ合衆国軍に向けた大量の軍需物資を生産し、日本経済は好況になった。
- エ 経済のグローバル化が進み、米の輸入自由化が実施された。

- ① アーウ ② アーエ ③ イーウ ④ イーエ

