

令和4年度 日本史A・日本史B (50分)

注 意 事 項

- 1 試験開始の合図があるまで、この問題冊子の中を見てはいけない。
- 2 出題科目、ページ及び選択方法は、下表のとおりである。

出題科目	ページ	選 択 方 法
日本史A	1～22	左の2科目のうちから1科目を選択し、解答しなさい。
日本史B	23～48	

- 3 試験中に問題冊子の印刷不鮮明、ページの落丁・乱丁及び汚れ等に気付いた場合は、手を挙げて監督者に知らせること。
- 4 試験開始の合図前に、監督者の指示に従って、解答用紙の該当欄に以下の内容をそれぞれ正しく記入し、マークすること。

・①氏名欄

氏名を記入すること。

・②受験番号、③生年月日、④受験地欄

受験番号、生年月日を記入し、さらにマーク欄に受験番号(数字)、生年月日(年号・数字)、受験地をマークすること。

・⑤解答科目欄

解答する科目名を○で囲み、さらにその下のマーク欄にマークすること。

- 5 受験番号、生年月日、受験地が正しくマークされていない場合は、採点できないことがある。
- 6 解答科目が正しくマークされていない場合は採点できないので、必ず正しくマークすること。
- 7 解答は、解答用紙の解答欄にマークすること。例えば、解答番号が 10 である問いに対して②と解答する場合は、次の(例)のように解答番号10の解答欄の②にマークすること。

(例)

解答 番号	解 答 欄			
10	①	②	③	④

- 8 問題冊子の余白等は適宜利用してよいが、どのページも切り離してはいけない。
- 9 試験終了後、問題冊子は持ち帰ってよい。

日本史 A

(解答番号 1 ～ 28)1 次のⅠ・Ⅱについて、後にある問1～問8に答えよ。

Ⅰ

会話文 1

生徒 X：日本史の授業で出された夏休みの課題レポートで、どのようなことを調べましたか。

生徒 Y：私は旅行で群馬県を訪れましたが、駅を降りると、中居屋重兵衛^{なかいやじゅうべえ}という人物に関する大きな石碑に目が留まりました。近くにある解説を読むと、彼は横浜開港に際して、生糸を売り込んだ有力な商人だったことがわかりました。私は彼について調べてみることにしました。

生徒 X：面白そうですね。どのような人物だったのですか。

生徒 Y：彼に関する事柄をまとめた表1を見てください。彼は現在の群馬県で生まれ、その後江戸、横浜へ出て財を築きました。また、調べているうちに、彼に関する資料が江戸の豪商三井家に残されていることがわかりました。この資料は、1859年10月に書かれたものです。

生徒 X：中居屋重兵衛のことは全く知りませんでしたが、とても活躍した人物なのですね。

生徒 Y：そうですね。彼に関する資料はあまり残されていませんが、表1にもある通り重兵衛の書いた日記^(a)が残されていて、彼の足跡が断片的にわかります。

生徒 X：歴史を叙述する上で、資料は本当に大切なのですね。重兵衛が経営する中居屋が周囲に与えた影響は何かありますか。

生徒 Y：先ほど見た資料の続きには、東日本各地の生糸商人が中居屋の名義を借りて、外国商館に生糸を売っている記述が見られます。おそらく各地の生糸商人が産地から直接横浜に生糸を運搬してきたのだと思います。別の資料からは、江戸の糸間屋が横浜での貿易開始後、生糸の入荷が減ったことを幕府に訴えていることがわかります。

生徒 X：中居屋重兵衛が貿易を行っていた時期には、そうした問題^(b)が浮上していたのですね。

表1 中居屋重兵衛に関する事柄

年	できごと
1820	上野国 ^{あがつま} 吾妻郡 ^{なか い} 中居村(現在の群馬県 ^{つまごい} 嬭恋村三原)に生まれる。
1839	江戸に出る。親類の書店に身を置きながら、商売の方法を学ぶ。
1859	横浜に新店舗が完成する。店の屋号を「中居屋」とする。 「昇平日録」という日記を書き始める。
1861	江戸で死去。

資料(意識してある)

外国人に売った生糸はどれ程の量であるか。…(中略)…オランダとイギリスの両国で、これまでに買い入れた分は合わせて3万5千斤^{きん}(注1)であった。その内、イギリス人のバルヘル^(注2)は2万5千斤を買い入れた。バルヘルはイギリスの国内でも二番目の大商人で、さまざまな品物を多数買い入れている。残りの1万斤は他のオランダとイギリスの商人らが買い入れた。オランダとイギリスへ売った生糸の内、およそ1万7千斤～1万8千斤は、中居屋重兵衛が売ったものである。

(三井文庫「永書」より作成)

(注1) 1斤はおよそ600グラム。(注2) 商人の名前。

問1 表1の期間におこったできごとについて述べた次のア～ウを、年代の古い順に正しく並べたものを、下の①～④のうちから一つ選べ。解答番号は 1。

- ア アヘン戦争がおこり、清がイギリスに敗北した。
 イ 異国船打払令が出され、外国船を撃退することが命じられた。
 ウ 桜田門外の変がおこり、大老の井伊直弼が暗殺された。

- ① イ→ア→ウ ② イ→ウ→ア ③ ウ→ア→イ ④ ウ→イ→ア

問2 資料から読み取れる内容及び資料が書かれる前提となった歴史的背景や事実として適切でないものを、次の①～④のうちから一つ選べ。解答番号は 2。

- ① 資料によると、オランダとイギリスに売った生糸の総重量のうち、4割以上は中居屋重兵衛が売ったものであった。
 ② 日本から外国へ輸出される品物のうち、生糸がその中心となった。
 ③ 外国商人は居留地の外での取り引きが認められていた。
 ④ 幕府が通商条約を結んだ結果、横浜ではイギリスとの貿易が始まっていた。

問 3 下線部分日記について、生徒 Y はその内容を表 2 にまとめた。表 2 から読み取れる内容と、会話文 1 及び表 2 の考察の組合せとして最も適切なものを、下の①～④のうちから一つ選べ。解答番号は 3。

表 2 重兵衛の書いた日記の内容(内容は一部省略してある)

日 付	できごと
1 月 21 日	上田藩(現在の長野県にあった藩)の産物を扱う会所の役人と会う。
1 月 28 日	村垣(外国奉行(注 3)), 岩瀬(外国奉行経験者), 稲葉(奏者番(注 4))が来る。
2 月 17 日	会津藩で交易を担当する役人が来る。
2 月 21 日	岩瀬を訪ねる。
2 月 29 日	村垣を訪ね、父と岩瀬の元を訪ねる。紀州藩で産物を扱う役所から手紙が来る。

(注 3) 江戸幕府の役職名。外交を担当した。

(注 4) 江戸幕府の役職名。諸大名や旗本などが将軍に謁見する時、その取り次ぎを行った。

読み取れる内容

ア 重兵衛は、幕府の要人や各藩の役人と接触している。

イ 重兵衛は、外国の商人や公使とたびたび面会している。

考 察

ウ 重兵衛は、キリスト教の布教活動を熱心に行っていた。

エ 重兵衛は、貿易を進める上での基盤を整備しようとしていた。

- ① アーウ
- ② アーエ
- ③ イーウ
- ④ イーエ

問 4 下線部分問題について、この問題に対処するために出された法令とその内容として最も適切なものを、次の①～④のうちから一つ選べ。解答番号は 4。

①

王政復古の大号令
天皇を中心とする新政府の樹立をめざす。

②

徴兵令
満 20 歳に達した男性を一定期間兵役に就かせる。

③

上知令
江戸・大坂の大名・旗本の領地を幕府直轄領にしようとする。

④

五品江戸廻送令
呉服などの開港場直送を禁じ、江戸問屋を経由するよう命じる。

Ⅱ

図



会話文 2

生徒 X：図には激しい戦闘のようすが描かれていますね。

先生：そうですね。日清戦争で日本軍と清国軍が朝鮮半島で戦った時のようすを描いたもの^(c)です。

生徒 X：図の右下には日本軍兵士以外の人も描かれていますね。甲の人たちは、白いキャンバスに何かを描いているようです。乙の人たちの中には、メモをとっている人もいます。つまり、彼らは **A** のようです。

先生：その通りです。彼らの成果物は当時のメディアにたびたび掲載されました。戦争で活躍する無名兵士の美談がメディアに取り上げられ、人びとはそれに熱狂しました。国内では戦争協力のため義捐金^(注5)を献納する運動も高まりを見せました。つまり、メディアは **B** 役割を果たしたといえます。

生徒 X：この後の戦争とメディアとの関係性も気になりますね。

先生：日露戦争の前には、さまざまな立場のメディアが登場しました。日露戦争後にもメディア^(d)が人びとに与えた影響は大きいものでした。今はインターネットなどの通信技術^(e)が発達したことで世界各地の戦争や戦闘のようすをリアルタイムで知ることができますね。

(注5) 寄付されたお金のこと。

問 5

A

B

 に当てはまる語句の組合せとして最も適切なものを、次の①～④のうちから一つ選べ。解答番号は

5

。

- | | |
|---------------|------------------|
| ① A—画家や新聞記者 | B—国民としての一体感をもたせる |
| ② A—画家や新聞記者 | B—資本主義の発達を促す |
| ③ A—タイピストや写真家 | B—国民としての一体感をもたせる |
| ④ A—タイピストや写真家 | B—資本主義の発達を促す |

問 6 下線部分朝鮮半島について、日清戦争よりも前に朝鮮半島でおこったできごとについて述べた次の^(c)ア・イの正誤の組合せとして最も適切なものを、下の①～④のうちから一つ選べ。解答番号は

6

。

- ア 朝鮮総督府のもとで、土地の所有権の確認などを行う土地調査事業が実施された。
- イ 朝鮮半島で農民が武装蜂起する甲午農民戦争が勃発した。

- | | | | |
|-------|-----|-------|-----|
| ① アー正 | イー正 | ② アー正 | イー誤 |
| ③ アー誤 | イー正 | ④ アー誤 | イー誤 |

問 7 下線部分さまざまな立場について、生徒Xが抱いた疑問とその疑問に答えるための資料の組合せとして最も適切なものを、下の①～④のうちから一つ選べ。解答番号は

7

。

疑 問

- ア 日露戦争を行うことに断固として反対の立場を示した人もいたのではないか。
- イ 日露戦争の開戦を積極的に支持した人もいたのではないか。


疑問に答えるための資料(意識してある)

- ウ 「日本が文明化していくためには、女性の教育が第一と考え、これを教え導くことこそが私の役目だと自覚していた。ただ懸命に、私は東西南北を駆け回り、自分自身の名誉や地位などというものは少しも顧みなかった」(岸田俊子の考え)。
- エ 「私は日露非開戦論者である計りではない。戦争絶対的廃止論者である。戦争は人を殺すことである。そうして人を殺すことは大悪罪である」(内村鑑三の考え)。

- | | | | |
|-------|-------|-------|-------|
| ① アーウ | ② アーエ | ③ イーウ | ④ イーエ |
|-------|-------|-------|-------|

問 8 下線部分^(e)日露戦争後について、日露戦争が終結した年のできごとを示した資料として最も適切なものを、次の①～④のうちから一つ選べ。解答番号は 8。

①



韓国併合に関する風刺画

②



ある海難事故に関する風刺画

③



ある事件に関する新聞記事

④



ある講和条約に関する騒動を描いた絵

2 次のⅠ・Ⅱについて、後にある問1～問8に答えよ。

Ⅰ

資料1 1914年 外務大臣加藤高明の提言(意識してある)

日本は、今、日英同盟協約^(a)の義務によって参戦しなくてはならない立場ではない。条文の規定が日本の参戦を命令するような事態は、今のところ発生していない。ただ、一つはイギリスからの依頼に基づく同盟に対して誠意を示す、もう一つは大日本帝国がこの機会に **A** の根拠地を東洋から一掃して、 **B** というこの2点から参戦を断行するのが今の時機にふさわしい良策だと信じている。

資料2 1925年 内閣総理大臣加藤高明の演説(意識してある)

政府は、この時代精神の潮流から考えると、すべての国民に国家の義務を負担させ、国運発展のための政治上の重要な責任を引き受けさせることが、現在最も急がなければならないことであると認めたのです。このような趣旨^(b)により、普通選挙制を骨子とする衆議院議員選挙法改正案を提出いたしました。

問1 **A** **B** に当てはまる語句の組合せとして適切なものを、次の①～④のうちから一つ選べ。解答番号は **9**。

- ① **A**—ドイツ **B**—国際的な立場を高める
- ② **A**—ドイツ **B**—国内の不平士族の不満を抑える
- ③ **A**—アメリカ合衆国 **B**—国際的な立場を高める
- ④ **A**—アメリカ合衆国 **B**—国内の不平士族の不満を抑える

問2 下線部分日英同盟協約^(a)に関連して、次の文章の **C** **D** に当てはまる語句の組合せとして適切なものを、下の①～④のうちから一つ選べ。解答番号は **10**。

1921年にアメリカ合衆国大統領ハーディングのよびかけで、海軍の軍縮と太平洋および極東問題を審議するための会議が **C** で開催された。この会議において **D** が結ばれて、日英同盟協約の終了が同意された。

- ① **C**—パリ **D**—国際紛争を解決する手段としての戦争を放棄する不戦条約
- ② **C**—パリ **D**—太平洋の安全保障を取り決めた四カ国条約
- ③ **C**—ワシントン **D**—国際紛争を解決する手段としての戦争を放棄する不戦条約
- ④ **C**—ワシントン **D**—太平洋の安全保障を取り決めた四カ国条約

問 3 下線部分**このような趣旨**について述べた文として最も適切なものを、次の①～④のうちから一つ選べ。解答番号は 11。

- ① 国民は大同団結して、天皇を奉じてすみやかに国家改造の基盤を完成させるべきである。
- ② 政府は、特定の政党の意向に左右されずに政治を行うべきである。
- ③ 純然たる社会主義と民主主義によって、貧富の差をなくすべきである。
- ④ 国民に政治的な責任を負わせることによって、国家をより発展させるべきである。

問 4 資料 1 の提言がなされてから資料 2 の演説が行われるまでの時期のできごとについて述べた次のア～ウを、年代の古い順に正しく並べたものを、下の①～④のうちから一つ選べ。解答番号は 12。

- ア 朝鮮半島において、独立を求める大衆運動である三・一独立運動が展開された。
- イ 関東大震災後の混乱のなかで、朝鮮人や中国人に対する殺傷事件がおきた。
- ウ 日本政府が、袁世凱政府に対して二十一カ条の要求を突き付けた。

- ① ア→イ→ウ ② ア→ウ→イ ③ ウ→ア→イ ④ ウ→イ→ア

Ⅱ

資料3 1938年 近衛文麿首相の声明(意識してある)

日本政府は、E を攻略した後も国民政府が反省する機会を与えようとして今日までできている。しかし、国民政府は日本政府の真意を理解せず、軽率に抗戦をし、国内的には中国民衆の苦しみを、国外においては東アジア全体の平和を考慮していない。よって、日本政府は今後、国民政府を^{あいて}対手とせず、日本と真に提携するに足る新しい中国政権の成立と発展を期待し、これと両国国交を調整して新しい中国の建設に協力することにする。

資料4 資料3で示された戦争についての説明文

第1次近衛文麿内閣は、日中両軍が盧溝橋で衝突した事件に対して、当初は不拡大の方針を声明したが、その後に中国への派兵を認めたために戦線が拡大し、事実上の戦争状態となった。日本軍が国民政府の首都Eを占領しても、蔣介石は徹底抗戦を国民によびかけて抵抗を続け、戦争は長期化^(c)して日中両国が総力を挙げて戦う全面戦争に発展していった。

その後、日本が東南アジアに進出するとともに、日独伊三国同盟に調印したため、日本とアメリカ合衆国・イギリス陣営との対立が深刻になった。日本政府はアメリカとの交渉を続けたが、アメリカ国務長官ハルからの提案内容を受け入れることはできず、^(d)御前会議で開戦が決定された。

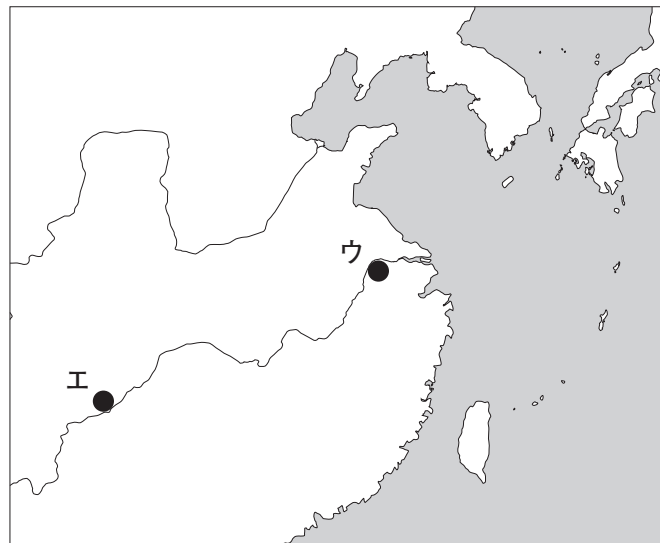
問5 E に当てはまる地名と、地図上での場所の組合せとして適切なものを、下の①～④のうちから一つ選べ。解答番号は13。

地名

場所

ア 重慶

イ 南京



① アーウ

② アーエ

③ イーウ

④ イーエ

問 6 下線部分戦争は長期化に関連し、資料 3 で示された戦争の開戦から太平洋戦争の終戦までの時期に撮影された写真として最も適切なものを、次の①～④のうちから一つ選べ。

解答番号は 14 。

①



津田梅子ら留学生たち

②



竹槍訓練をする女性たち

③



衆議院議員選挙での投票

④



新婦人協会の設立

問 7 下線部分^(d)御前会議で開戦が決定されたよりも前に日本政府が行ったこととして適切でないものを、次の①～④のうちから一つ選べ。解答番号は 15。

- ① 日満議定書を取りかわして満州国を承認した。
- ② ポツダム宣言を黙殺することを発表した。
- ③ 軍部大臣現役武官制を復活させた。
- ④ 国体明徴声明によって天皇機関説を否定した。

問 8 資料 3 の声明が出された時期の日本と中国の関係について述べた次のア・イの正誤の組合せとして適切なものを、下の①～④のうちから一つ選べ。解答番号は 16。

ア 中国では、国民党と共産党が提携し、抗日民族統一戦線を結成して日本に抵抗していた。

イ 近衛首相は、蔣介石の政権とは異なる新しい政権が出現することを期待し、その政権と和平交渉をもとうとしていた。

- | | |
|--------------|--------------|
| ① アー正 イー正 | ② アー正 イー誤 |
| ③ アー誤 イー正 | ④ アー誤 イー誤 |



3 次のⅠ・Ⅱを読み、後にある問1～問8に答えよ。

Ⅰ 次の資料1は、1956年に発表された『経済白書』の抜粋である。

資料1

戦後日本経済の回復の速やかさには誠に万人の意表外にでるものがあった。…(中略)…しかし敗戦によって落ち込んだ谷が深かったという事実そのものが、その谷からはい上がるスピードを速やか^(a)らしめたという事情も忘れることはできない。経済の浮揚力には事欠かなかった。経済政策としては、ただ浮き揚がる過程で国際収支の悪化や **A** のを避けることに努めれば良かった。いまや経済の回復による浮揚力はほぼ使い尽くされた。…(中略)…もはや「戦後」ではない。我々はいまや異なった事態に当面しようとしている。回復を通じ^(b)ての成長は終わった。今後の成長は近代化によって支えられる。そして近代化の進歩も速やかにしてかつ安定的な経済の成長によって初めて可能となるのである。…(中略)…

^(c)世界の二つの体制の間の対立も、原子兵器の競争から平和的競存に移った。平和的競存とは、経済成長率の闘いであり、生産性向上のせり合いである。戦後10年我々が主として生産量の回復に努めていた間に、先進国の復興の目標は生産性の向上にあった。…(中略)…

我々は日々に進みゆく世界の技術とそれが変えてゆく世界の環境に一日も早く自らを適応せしめねばならない。もしそれを怠るならば、先進工業国との間に質的な技術水準においてますます大きな差がつけられるばかりではなく、長期計画によって自国の工業化を進展している後進国との間の工業生産の量的な開きも次第に狭められるであろう。…(後略)…

問1 **A** に当てはまる語句と、資料1が発表されるまでに **A** のを避けるという目的で日本政府が行った政策の組合せとして最も適切なものを、下の①～④のうちから一つ選べ。解答番号は **17** 。

語 句

- ア インフレの壁に突き当たる
イ アメリカ合衆国との貿易摩擦が激化する

政 策

- ウ 赤字を許さない予算の編成
エ 農産物の輸入自由化

- ① アーウ ② アーエ ③ イーウ ④ イーエ

問 2 下線部分^(a)敗戦によって落ち込んだ谷が深かったと考えられる時期のできごとについて述べた文として最も適切なものを、次の①～④のうちから一つ選べ。解答番号は 18。

- ① 国民学校のもとで国家主義的な教育が推進された。
- ② 昭和恐慌がおこり、貧しい家庭では娘の身売りが行われることもあった。
- ③ 戦争協力者・職業軍人・国家主義者などが公職から追放された。
- ④ 国家による思想弾圧が行われ、社会主義者が相次いで転向した。

問 3 下線部分^(b)もはや「戦後」ではないに関する次の会話文 1 を読み、B
C に当てはまる語句の組合せとして最も適切なものを、下の①～④のうちから一つ選べ。解答番号は 19。

会話文 1

先 生：資料 1 に書かれている「もはや『戦後』ではない」という言葉はとても有名ですが、どのような趣旨で用いられているのか、わかりますか。

生徒 X：資料 1 の内容から判断すると、「B 時代はもう終わったのだ」という意味ですね。そして、日本も世界も変化していく中で、これから日本は C に取り組むべきだ、ということが主張されていますね。

先 生：そのとおりです。

- | | |
|-----------------------|---------|
| ① B—軍事力を背景に植民地を拡大する | C—技術の革新 |
| ② B—軍事力を背景に植民地を拡大する | C—戦力の放棄 |
| ③ B—敗戦からの復興を通して経済成長する | C—技術の革新 |
| ④ B—敗戦からの復興を通して経済成長する | C—戦力の放棄 |

問 4 下線部分^(c)世界の二つの体制の間の対立が日本に与えた影響について述べた次のア～ウを、年代の古い順に正しく並べたものを、下の①～④のうちから一つ選べ。
 解答番号は 20。

ア ベトナム戦争に対して反対運動が始まった。

イ MSA 協定が締結され、自衛隊が発足した。

ウ GHQ の指令によりレッドパージが行われた。

- ① ア→イ→ウ ② ア→ウ→イ ③ ウ→ア→イ ④ ウ→イ→ア

Ⅱ 次の課題と会話文 2 は、日本史の授業において設定された課題と、それについての会話である。

課 題

日本が独立国として主権を回復してから現在までの日本の歴史を、どこかで区切るとしたら、どの時期で区切るのが適切だと考えるか、理由をつけて答えなさい。

会話文 2

生徒 X：私は 1970 年前後で区切るのが適切だと考えます。戦後社会のさまざまな矛盾が噴出する中で、1960 年代末には公害問題、学園紛争などが起こる一方、消費の在り方^(d)の変化など、今の生活に近づいた時期でもありました。

生徒 Y：私は 1980 年前後で区切るのが適切だと考えます。日本の経済政策の変化^(e)を考えた時に、当時の世界的な変化の中で、日本も現在の社会につながる政策へと舵を切った時期だと思うからです。

生徒 Z：私は 1990 年前後で区切るのが適切だと考えます。 D ことで、平成不況と呼ばれる長い不況が始まって低成長の時代になったことは大きな変化ですし、冷戦の時代が終わったことが、従来の日本の保守と革新の対立構造に与えた影響も大きいと思います。これらのことが、現在の経済や政治につながっていると思います。

先生：なるほど。どの考え方も歴史的事実にきちんと基づいていて、一理あると思います。自分と異なる意見について、根拠を補足してみましょう。

生徒 Z：私は、1970 年前後で区切る、という意見に対して補足をします。その頃は高度経済成長で生活が豊かになったことや、カラーテレビが普及したことにより、漫画やアニメがさらに流行するなど、文化が E 時期ですね。教育熱が高まって大学への進学率が上がるなど、高等教育についても同様の傾向がみられる時期だと言えると思います。

生徒 Y：私は、1990 年前後で区切る、という意見に対して補足をします。ソ連の解体などを背景として F 時期ですね。

先生：そのとおりですね。正解はひとつではありませんが、皆さんの意見から、主権回復後の日本の歴史を多面的、多角的にみることができましたね。

問 5 に当てはまる語句として最も適切なものを，次の①～④のうちから一つ選べ。解答番号は 。

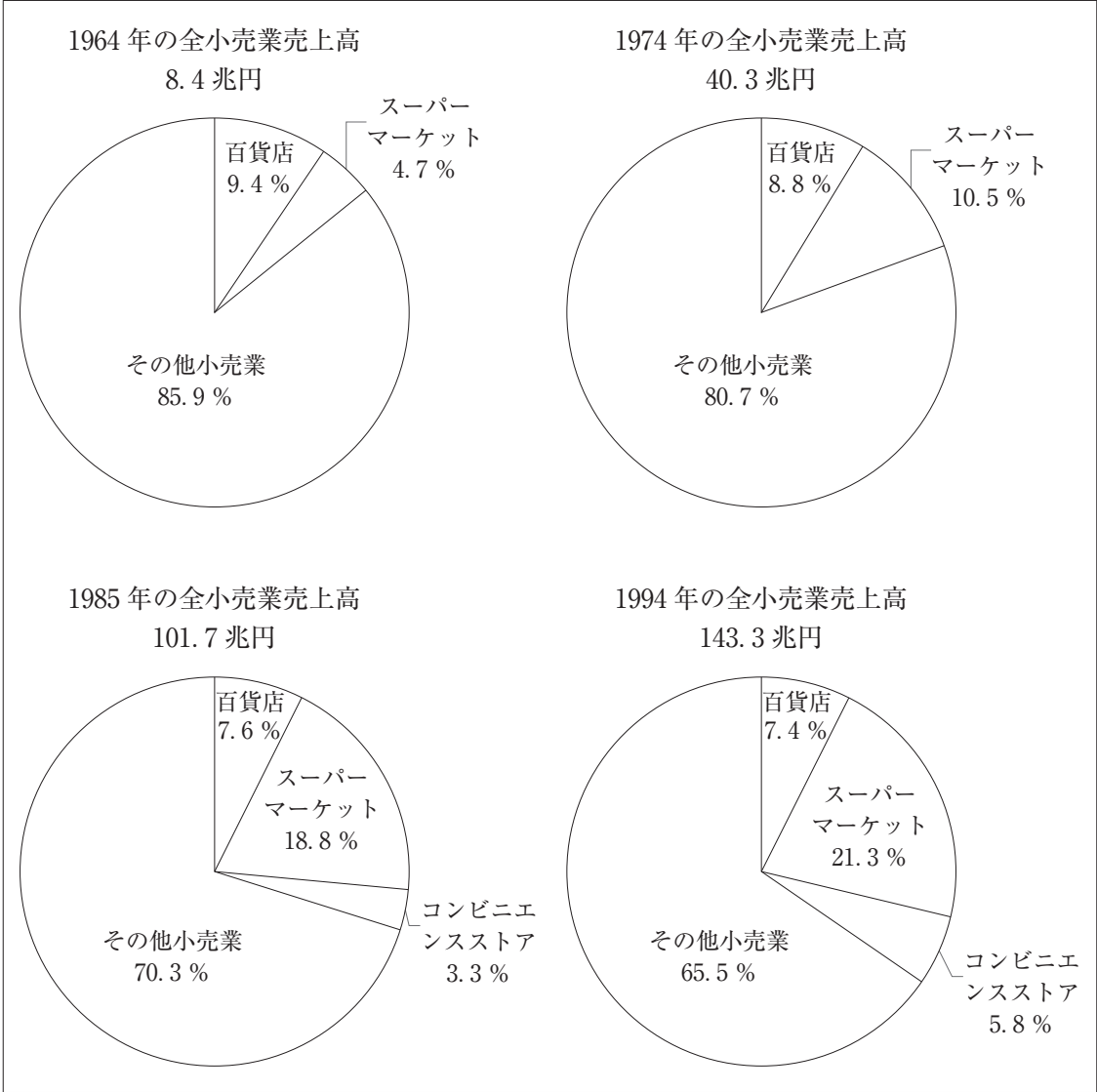
- ① 変動相場制に移行した
- ② 管理通貨制度に移行した
- ③ 寄生地主制が解体された
- ④ バブル経済が崩壊した

問 6 に当てはまる語句の組合せとして最も適切なものを，次の①～④のうちから一つ選べ。解答番号は 。

- | | |
|-----------------|-------------------|
| ① E—大衆に広まった | F—経済のグローバル化が進展した |
| ② E—大衆に広まった | F—ブロック経済圏が各地に成立した |
| ③ E—国家による統制を受けた | F—経済のグローバル化が進展した |
| ④ E—国家による統制を受けた | F—ブロック経済圏が各地に成立した |

問 7 下線部分消費の在り方の変化について、各年代の全小売業売上高のうち各業態の占める割合を示した次のグラフから読み取れることとして適切でないものを、下の①～④のうちから一つ選べ。解答番号は 23。

グラフ



(平野隆「日本における小売業態の変遷と消費社会の変容」より作成)

- ① 1964 年と 1974 年を比較すると、スーパーマーケットの売上高は 3 倍以上になっている。
- ② 1994 年の百貨店で売上高は、1964 年に比べて減少している。
- ③ 1985 年にはスーパーマーケットの売上高は 10 兆円を超えている。
- ④ 1994 年にはコンビニエンスストアの売上高は 10 兆円に達していない。

問 8 下線部分^(e)日本の経済政策の変化について、次の資料 2 は、1981 年から始まった第 2 次臨時行政調査会の基本答申(1982 年)で重視すべき点をまとめたものの抜粋である。資料 2 の内容に基づいて行われた日本の政策として最も適切なものを、下の①～④のうちから一つ選べ。解答番号は 24。

資料 2

- ・民間に対する指導・規制・保護に力点を置いた行政から、民間活力を基本とし、その方向付け・調整・補完に力点を置く行政への移行
- ・海外の商品・サービス・人材に対する市場開放、より積極的な対外政策への転換 等
- ・政府直営事業のうち、民間部門の発達により自立的、企業的に行うことが適切となった事業についての民営化

(内閣府 HP「行政改革に関する懇談会(第 1 回)『資料 3 これまでの行政改革の経緯と理念』」(2012 年))

- ① 財閥解体により株式が公開され、経済の民主化が進んだ。
- ② 電電公社、専売公社、国鉄が NTT, JT, JR として民間企業になった。
- ③ 高齢者の医療費を国や自治体が負担する制度が設けられた。
- ④ 日本は IMF 8 条国に移行し、経済協力開発機構(OECD)に加盟した。

4 ある生徒が作成した次のレポートを読み、後にある問1～問4に答えよ。

レポート

私たちは、日々生活する上でさまざまな場面で電力を消費しています。私は、日本における発電エネルギーごとの電力量の推移について興味をもち、次の表を作成しました。

表 発電エネルギーごとの電力量の推移(単位：100 万 kWh)

年	合 計	水 力	火 力	原子力
1920	5, 113	3, 166	649	—
1925	9, 093	6, 742	993	—
1930	15, 773	13, 431	2, 342	—
1935	24, 698	18, 903	5, 795	—
1940	34, 566	24, 233	10, 333	—
X	21, 900	20, 752	1, 149	—
1950	46, 266	37, 784	8, 482	—
1955	65, 240	48, 502	16, 739	—
1960	115, 497	58, 481	57, 017	—
1965	190, 250	75, 201	115, 024	25
Y	359, 539	80, 090	274, 868	4, 581
1975	475, 794	85, 906	364, 763	25, 125
1980	577, 521	92, 092	402, 838	82, 591
1985	671, 952	87, 948	424, 426	159, 578
1990	857, 272	95, 835	559, 164	202, 272
1995	989, 880	91, 216	604, 206	291, 254
2000	1, 091, 500	96, 817	669, 177	322, 050

(注) ・「合計」には、その他の発電エネルギーによる電力量を含む。
・「—」は値がないことを示す。

私は、表中 X , Y の時期における発電量の推移に着目して、次の課題1，課題2を設定しました。

- 課題1 X の時期に、「火力」の発電量が減少しその後増加しているのはなぜなのだろうか。
- 課題2 Y の時期に、それぞれの発電量が変化している背景として、どのようなことが挙げられるだろうか。

これらの課題について、日本史Aで学習した内容をもとに考察しようと考えています。これらの課題について考察した後は、次の課題3について追究しようと考えています。

課題3 電力の使用が一般的になるまでの時期における人びとの生活は、どのようなものだったのだろうか。

問1 表から読み取れることについて述べた次のア・イの正誤の組合せとして最も適切なものを、下の①～④のうちから一つ選べ。解答番号は 25。

ア 1920年から1955年にかけて、発電量の「合計」に占める「水力」の発電量の割合は、表中のいずれの年も5割を上回っている。

イ 1980年と2000年における、発電量の「合計」に占める「原子力」の発電量の割合を比べると、1980年の割合は2000年の割合より大きい。

① アー正 イー正

② アー正 イー誤

③ アー誤 イー正

④ アー誤 イー誤

問2 課題1について考察した次の文章の A B に当てはまる語句の組合せとして最も適切なものを、下の①～④のうちから一つ選べ。解答番号は 26。

私は日本史の授業で「X」の時期のうち後半に、A」ことを学習しました。この知識をもとにして考えると、当時の日本において B が果たしていた役割の一つに、火力発電に用いるエネルギー源としての役割があったといえます。

① A—日本で、重要な産業に資材や資金が優先的に割り当てられた

B—石 炭

② A—日本で、重要な産業に資材や資金が優先的に割り当てられた

B—石 油

③ A—アメリカ合衆国などの国ぐにが、日本に対する経済封鎖を強めた

B—石 炭

④ A—アメリカ合衆国などの国ぐにが、日本に対する経済封鎖を強めた

B—石 油

問 3 課題 2 について、次の資料は、Y の時期に日本を含む 6 か国の首脳が集まり意見を交換した初めての会議で出された宣言文の一部である。レポートを参考にしながら、資料について述べた文として最も適切なものを、下の①～④のうちから一つ選べ。

解答番号は 27 。

資 料

フランス、ドイツ連邦共和国、イタリア、日本国、グレートブリテン及び北部アイルランド連合王国及びアメリカ合衆国の元首及び首相は、…(中略)…、次のとおり宣言することに合意した。

…(中略)…

13 世界経済の成長は、エネルギー源の増大する供給可能性に明らかに結びついている。われわれは、われわれの経済の成長のために必要なエネルギー源を確保する決意である。われわれの共通の利益は、節約と代替エネルギー源の開発を通じ、われわれの輸入エネルギーに対する依存度を軽減するために、引続き協力することを必要としている。これらの諸政策及び産油国と消費国との間の双方の長期的利益に応えるための国際協力を通じて、われわれは、世界エネルギー市場におけるより均衡のとれた条件を調和のとれた着実な発展を確保するために努力を惜しまない。

- ① 資料に示された 6 か国には、国際連合の安全保障理事会において常任理事国を務めたことがある国ぐにがすべて含まれている。
- ② 日本が「いざなぎ景気」とよばれる経済成長を記録したのは、資料の宣言文が出されたのちに「代替エネルギー源の開発」のための取り組みが推進された結果であると考えられる。
- ③ 「輸入エネルギーに対する依存度を軽減」するための取り組みとして、資料の宣言文が出された直後の日本では、原子力を利用した発電に依存しない環境づくりが目指された。
- ④ 資料の宣言文が出される前に、「産油国」が位置する地域で戦争が始まり、その地域で産出される原油の輸出量の制限や原油価格の引上げが決められた。

問 4 下線部分電力の使用が一般的になるまでの時期におけるできごとについて述べた次のア～ウを，年代の古い順に正しく並べたものを，下の①～④のうちから一つ選べ。

解答番号は 28。

ア 横浜に設けられた外国人居留地で，西洋式のガス灯が使用されるようになった。

イ 灯火用の燃料を得るための捕鯨船^{ほげい}の寄港地として，アメリカ合衆国が日本に開国を求めた。

ウ 大阪紡績会社が，電灯を備えた工場で昼夜二交替制の操業を行い利益を上げた。

- ① ア→イ→ウ ② ア→ウ→イ ③ イ→ア→ウ ④ イ→ウ→ア

(これで日本史 A の問題は終わりです。)

日本史 B

(解答番号 1 ~ 28)1 次の資料 1 を読み、後にある問 1 ～問 4 に答えよ。

資料 1 三善清行意見封事十二箇条の一部(意識してある)

備中国の風土記には、20,000 人の兵士を得ることができたことを喜んだ斉明天皇が、この郷を^(a)二万郷と名付け、後に^(b)邇磨郷とよばれるようになったと書かれている。

天平神護年中に吉備真備がこの郷の人口を調べたところ、課丁^(c)(注 1)はわずかに 1,900 余人であった。貞観の初めに藤原保則が調べたときには課丁は 70 余人であった。私が赴任して調べたときには課丁は 9 人だった。延喜 11 年には課丁は 1 人もいなかった。

斉明天皇の時代からわずか 250 年あまりでこうしたことが全国でおき、天下が疲弊して^(d)いると考えられる。

(注 1) 調庸等を負担する成年男子。

問 1 下線部分風土記について述べた次のア・イの正誤の組合せとして最も適切なものを、下の①～④のうちから一つ選べ。解答番号は 1。

ア 8 世紀初頭に、諸国が地理・産物・地名の由来や古い伝承の編纂を政府から命じられ、作成したものである。

イ 現在は一部の国のものしか残っていないが、10 世紀には地方について調べる資料として用いられていた。

- | | | | |
|-------|-----|-------|-----|
| ① アー正 | イー正 | ② アー正 | イー誤 |
| ③ アー誤 | イー正 | ④ アー誤 | イー誤 |

問 2 下線部分 20,000 人の兵士^(b)らが戦ったと考えられる戦いについて述べた文として正しいものを、次の①～④のうちから一つ選べ。解答番号は 2。

- ① 筑紫国造磐井が新羅と結んで朝廷に対しておこした反乱を鎮圧するための戦いであった。
- ② 陸奥で勢力をひろげ国司と対立していた安倍氏を討つための戦いであった。
- ③ 唐・新羅連合軍に敗北した百済の復興を支援するための戦いであった。
- ④ 対馬・壱岐から博多を攻撃してきた刀伊を退けるための戦いであった。

問 3 下線部分^(c)吉備真備が活躍したころの仏教について述べた文として最も適切なものを、次の

①～④のうちから一つ選べ。解答番号は 3。

- ① 百済から仏教が伝わり、氏寺がつくられるなど、氏の繁栄を願うことを目的とする信仰として受け入れられていった。
- ② 仏教の力で国を護るという思想から、仏教は国家の保護のもとにおかれ、国家によって造寺造仏が進められた。
- ③ 遣唐使とともに唐にわたった空海らによって密教が伝えられ、現世利益に期待した貴族らの間で流行し、盛んに加持祈禱が行われた。
- ④ 坐禅によって悟りを開くための厳しい修行を特徴とする曹洞宗がもたらされ、地方の武士や庶民の間に広まっていった。

B

問 4 下線部分天下が疲弊しているに関連して、次の資料 2 から読み取れることと、そのような状況が生じた理由の組合せとして最も適切なものを、表を参考にしながら、下の①～④のうちから一つ選べ。解答番号は 4。

資料 2 908(延喜 8) 年の周防国玖珂郡玖珂郷戸籍

名

年齢

区分

正丁 (注 2) 65 歳以上の女性。
老丁 (注 3) 21 歳から 60 歳までの女性。
耆女 (注 2) 65 歳以上の女性。
丁女 (注 3) 21 歳から 60 歳までの女性。

表 養老令における公民の税負担

区分	正丁 (21～60 歳の男性)	老丁 (61～65 歳の男性)	中男 (少丁) (17～20 歳の男性)
租	田地にかかる税、田 1 段につき稲 2 束 2 把、男女とも負担		
調	諸国の産物の一種を一定量	正丁の 2 分の 1	正丁の 4 分の 1
庸	都の労役 10 日間に代えて 布 2 丈 6 尺	正丁の 2 分の 1	
雑徭	地方での労役 60 日以下	正丁の 2 分の 1	正丁の 4 分の 1

読み取れること

- ア 資料 2 の戸籍に記載されている戸には、老人よりも若者が多い。
- イ 資料 2 の戸籍に記載されている戸には、男性よりも女性が多い。

理由

- ウ 当時の人びとは、年齢を低く偽ることによって、老丁に多く課される負担を逃れようと考えたから。
- エ 当時の人びとは、男性が女性だと偽ることによって、男性のみに課される負担を逃れようと考えたから。

- ① アーウ
- ② アーエ
- ③ イーウ
- ④ イーエ



- 2** 中世の守護に関する次の資料1～資料4（意識・抜粋してある）について、後にある問1～問4に答えよ。なお、資料は年代の古い順に並べてある。

資料1 御成敗式目

一、諸国の守護の職権について

右大将家(注1)の時に定められた職権は、京都大番役の動員、謀叛人・殺害人の逮捕(ほかに、夜討ち・強盗・山賊・海賊の逮捕を含む)である。しかし最近、代官を郡や郷に派遣して公事を荘園や国衙領に負担させ、国司でもないのに国務に干渉し、地頭でもないのに土地からの収益を得ている。このようなことはまことに不当な行為である。

(注1) 源頼朝。

資料2 建武以来追加

守護に任命された者が行っている不法行為について 貞和二年(注2)十二月十三日

一、大犯三箇条および刈田狼藉を行った者の逮捕と使節遵行の実施という職務以外に、守護が荘園支配に干渉したり、地元の武士に対して迷惑となる行為をすることは不法な行いである。

(注2) 1346年。

資料3 大乘院寺社雑事記

(文明九年(注3)十二月十日)…(前略)…天下の事についてはまったく良い状況ではない。…(中略)…將軍の命令に従っていた播磨・備前・美作・備中・備後・伊勢・伊賀・淡路・四国なども全く命令に従わなくなった。それらの国の守護は將軍の命令をありがたく受け入れると申し、その命令を本国に伝達するが、守護代以下在国の者たちはなかなか命令に従わない。…(後略)…

(注3) 1477年。

資料4 今川仮名目録追加(1553年制定)

守護使不入というのは、室町幕府の將軍が天下を支配し、諸国に守護を任命していた時代のことである。守護使不入の地であったとしても、守護である今川家の命令に背いてはいけない。現在はずべてについて、守護の今川家が自分の力量で領国に法度を命じて、平和を維持しているので、今川氏が干渉できないようなことがらはそもそもありえない。

- 問 1 資料 1・2 から読み取れる守護の権限の変化について説明した次の文章の A
- B に当てはまる語句と、そのような変化が生じた背景の組合せとして最も適切なものを、下の①～④のうちから一つ選べ。解答番号は 5。

B

資料 1 は鎌倉時代に定められた守護の職権を示すものである。ここでは、守護の権限がいわゆる大犯三箇条とよばれる A に関わるものに限定されていることがわかる。

一方、資料 2 は南北朝時代の守護の職権について定めた法令である。ここでは、大犯三箇条に加えて、守護の職権に B に関わる権限が追加されていることがわかる。

語 句

- ア A—軍事・警察 B—裁 判
イ A—裁 判 B—軍事・警察

背 景

- ウ 戦乱に勝利するため、より多くの地方武士を動員することが守護に対して求められるようになった。
エ 荘園の現地支配や年貢納入を請け負うことが守護に対して求められるようになった。

- ① アーウ ② アーエ ③ イーウ ④ イーエ

- 問 2 資料 2 と資料 3 の間の時期における守護について説明した文として最も適切なものを、次の①～④のうちから一つ選べ。解答番号は 6。

- ① 楽市・楽座令を出して商業の活発化をはかった。
② 領国内の土地や家屋などから段銭や棟別銭の徴収を行った。
③ 寄親・寄子制とよばれる方法で地域の国人たちを組織化した。
④ 指出検地を実施して地域の国人たちの収入額を貫高によって把握した。

問 3 資料 3・4 について説明した次の文章の に当てはまる語句の組合せとして最も適切なものを、下の①～④のうちから一つ選べ。
解答番号は 。

室町幕府の力が衰えても守護職の任命は行われたが、守護のあり方はそれまでと大きく変わることとなった。資料 3 からは、15 世紀後半になると ようすがうかがえる。

さらに時代が下った資料 4 は、駿河守護であった戦国大名の今川義元が定めた分国法の一部である。資料 4 からは、 によって領国支配を行っているという今川氏の認識をうかがうことができる。

- ① C—守護が幕府の命令を無視して現地の支配を行っている
D—幕府から守護に任命されていること
- ② C—守護が幕府の命令を無視して現地の支配を行っている
D—自身の實力
- ③ C—守護の家来や国人たちが幕府の命令に従わなくなっている
D—幕府から守護に任命されていること
- ④ C—守護の家来や国人たちが幕府の命令に従わなくなっている
D—自身の實力

問 4 守護と文化との関わりについて説明した次のア・イと、それぞれ最も近い資料の時期の組合せとして正しいものを、下の①～④のうちから一つ選べ。解答番号は 。

ア 近江守護の佐々木道誉は、華美で人目をひく身なりからバサラと呼ばれた。

イ 周防守護の大内氏の保護のもと、雪舟が山口で水墨画の創作活動を行った。

- ① ア—資料 1 の時期 イ—資料 3 の時期 ② ア—資料 1 の時期 イ—資料 4 の時期
- ③ ア—資料 2 の時期 イ—資料 3 の時期 ④ ア—資料 2 の時期 イ—資料 4 の時期



- 3 ある生徒が作成した地名の由来についての次のレポートを読み、後にある問1～問4に答えよ。

レポート

題名 東京都八王子市内における地名の由来について

内容 八王子市内の「元八王子」「千人町」という地名の由来について

① 「元八王子」の由来について

現在「元八王子」と名前が付けられている地域は、もともと城下町であったことがわかりました。小田原に本拠地を構えた北条氏の防衛拠点として八王子城が造られ、地域の行政拠点としても栄えました。ところが、豊臣秀吉に攻められ、八王子城は落城してしまいました。その後、城下町の商人や百姓らが新たに集住した地域の大きな街道沿いに宿場町が形成されて、現在の八王子市の中心となりました。そのため、城下町として栄えた地域は「元八王子」と呼ばれるようになりました。

② 「千人町」の由来について

現在の「千人町」は、江戸時代の「千人同心」という武士に与えられた地域であることがわかりました。彼らは、戦国時代の甲斐国で武田家に仕えていた人びとだとされています。徳川家康が江戸に移る際に、現在の八王子に彼らの拠点が移され「千人町」が形成されました。彼らは大坂の役などに従軍する一方、日光参勤や蝦夷地警備などにも従事したことがわかっています。

- 問1 下線部分街道が整備された背景や結果に関する、江戸時代のようにすを説明した次のア・イの正誤の組合せとして最も適切なものを、下の①～④のうちから一つ選べ。

解答番号は 9。

ア 参勤交代の制度が整えられ毎年諸大名が国元と江戸を行き来するようになり、五街道を中心に各地域の交通網が発達した。

イ 貨幣経済の発達により酒屋や土倉などの金融業者の活動が促されるとともに、交通網が発達して遠隔地との取引が活発になった。

- | | | | |
|-------|-----|-------|-----|
| ① アー正 | イー正 | ② アー正 | イー誤 |
| ③ アー誤 | イー正 | ④ アー誤 | イー誤 |

- 問2 下線部分宿場町に関して述べた文として適切でないものを、次の①～④のうちから一つ選べ。解答番号は 10。

- ① 庶民の間で巡礼など寺社参詣がさかんになると、人の往来が多くなり各地が賑わった。
- ② 各宿場には人馬の手配と貨物の継ぎ送りのための施設として、問屋場が設置された。
- ③ 中央と地方を結ぶ交通制度が整備され、駅家などの役人の施設が設置された。
- ④ 各地に名所が生まれ、錦絵の題材にも取り上げられるようになった。

問 3 下線部分^(c)徳川家康が行ったことがらの内容とその目的の組合せとして最も適切なものを、下の①～④のうちから一つ選べ。解答番号は 11。

内 容

- ア 将軍職を在任 2 年で退き大御所になった。
イ 自らの娘を天皇家に嫁がせた。

目 的

- ウ 将軍職が徳川家の世襲であることを天下に示すため。
エ 外戚の地位を手に入れることで朝廷に対する影響力を示すため。

- ① アーウ ② アーエ ③ イーウ ④ イーエ

問 4 下線部分^(d)日光参勤や蝦夷地警備についてまとめた次の説明文の A
B に当てはまる語句の組合せとして最も適切なものを、下の①～④のうちから一つ選べ。解答番号は 12。

説明文

日光参勤と蝦夷地警備 ～千人同心の役割について～

千人同心は、江戸時代の長きにわたり日光を警備する役割を担いました。

A がある日光は、江戸幕府にとって重要な場所であったからです。

18 世紀末期になると、B してくるようになったことから、蝦夷地を警備する必要性が生じ、千人同心の中からも蝦夷地に移住する者がいました。

- | | |
|----------------|------------------------|
| ① A—幕府の財源となる金山 | B—イギリスが東アジアで利権を広げようと交渉 |
| ② A—幕府の財源となる金山 | B—ロシアが南下政策をとって日本に接近 |
| ③ A—徳川家康を祀る東照宮 | B—イギリスが東アジアで利権を広げようと交渉 |
| ④ A—徳川家康を祀る東照宮 | B—ロシアが南下政策をとって日本に接近 |

4 次のⅠ・Ⅱについて、後にある問1～問4に答えよ。

Ⅰ

会話文1

生徒X：日本史の授業で出された夏休みの課題レポートで、どのようなことを調べましたか。

生徒Y：私は旅行で群馬県を訪れましたが、駅を降りると、中居屋重兵衛^{なか い やじゅう べ え}という人物に関する大きな石碑に目が留まりました。近くにある解説を読むと、彼は横浜開港に際して、生糸を売り込んだ有力な商人だったことがわかりました。私は彼について調べてみることにしました。

生徒X：面白そうですね。どのような人物だったのですか。

生徒Y：彼は現在の群馬県で生まれ、その後江戸、横浜へ出て財を築きました。また、調べているうちに、彼に関する資料が江戸の豪商三井家に残されていることがわかりました。この資料は、1859年10月に書かれたものです。

生徒X：中居屋重兵衛のことは全く知りませんでした、とても活躍した人物なのですね。

生徒Y：そうですね。彼に関する資料はあまり残されていませんが、重兵衛の書いた日記^(a)が残されていて、彼の足跡が断片的にわかります。

生徒X：歴史を叙述する上で、資料は本当に大切なのですね。重兵衛が経営する中居屋が周囲に与えた影響は何かありますか。

生徒Y：先ほど見た資料の続きには、東日本各地の生糸商人が中居屋の名義を借りて、外国商館に生糸を売っている記述が見られます。おそらく各地の生糸商人が産地から直接横浜に生糸を運搬してきたのだと思います。別の資料からは、江戸の糸問屋が横浜での貿易開始後、生糸の入荷が減ったことを幕府に訴えていることがわかります。

生徒X：中居屋重兵衛が貿易を行っていた時期には、そうした問題が浮上していたのですね。

資料(意識してある)

外国人に売った生糸はどれ程の量であるか。…(中略)…オランダとイギリスの両国で、これまで買い入れた分は合わせて3万5千斤^{きん}(注1)であった。その内、イギリス人のバルヘル^(注2)は2万5千斤を買い入れた。バルヘルはイギリスの国内でも二番目の大商人で、さまざまな品物を多数買い入れている。残りの1万斤は他のオランダとイギリスの商人らが買い入れた。オランダとイギリスへ売った生糸の内、およそ1万7千斤～1万8千斤は、中居屋重兵衛が売ったものである。

(三井文庫「永書」より作成)

(注1) 1斤はおよそ600グラム。(注2) 商人の名前。

問 1 資料から読み取れる内容及び資料が書かれる前提となった歴史的背景や事実として適切でないものを、次の①～④のうちから一つ選べ。解答番号は **13**。

- ① 資料によると、オランダとイギリスに売った生糸の総重量のうち、4割以上は中居屋重兵衛が売ったものであった。
- ② 日本から外国へ輸出される品物のうち、生糸がその中心となった。
- ③ 外国商人は居留地の外での取り引きが認められていた。
- ④ 幕府が通商条約を結んだ結果、横浜ではイギリスとの貿易が始まっていた。

問 2 下線部分日記について、生徒 Y はその内容を表にまとめた。表から読み取れる内容と、会話文 1 及び表の考察の組合せとして最も適切なものを、下の①～④のうちから一つ選べ。解答番号は **14**。

表 重兵衛の書いた日記の内容(内容は一部省略してある)

日 付	できごと
1 月 21 日	上田藩(現在の長野県にあった藩)の産物を扱う会所の役人と会う。
1 月 28 日	村垣(外国奉行(注3))、岩瀬(外国奉行経験者)、稲葉(奏者番(注4))が来る。
2 月 17 日	会津藩で交易を担当する役人が来る。
2 月 21 日	岩瀬を訪ねる。
2 月 29 日	村垣を訪ね、父と岩瀬の元を訪ねる。紀州藩で産物を扱う役所から手紙が来る。

(注3) 江戸幕府の役職名。外交を担当した。

(注4) 江戸幕府の役職名。諸大名や旗本などが将軍に謁見する時、その取り次ぎを行った。

読み取れる内容

- ア 重兵衛は、幕府の要人や各藩の役人と接触している。
- イ 重兵衛は、外国の商人や公使とたびたび面会している。

考 察

- ウ 重兵衛は、キリスト教の布教活動を熱心に行っていた。
- エ 重兵衛は、貿易を進める上での基盤を整備しようとしていた。

- ① アーウ ② アーエ ③ イーウ ④ イーエ

Ⅱ

図



会話文 2

生徒 X：図には激しい戦闘のようすが描かれていますね。

先生：そうですね。日清戦争で日本軍と清国軍が朝鮮半島で戦った時のようすを描いたものです。

生徒 X：図の右下には日本軍兵士以外の人も描かれていますね。甲の人たちは、白いキャンバスに何かを描いているようです。乙の人たちの中には、メモをとっている人もいます。つまり、彼らは **A** のようです。

先生：その通りです。彼らの成果物は当時のメディアにたびたび掲載されました。戦争で活躍する無名兵士の美談がメディアに取り上げられ、人びとはそれに熱狂しました。国内では戦争協力のため義捐金(注5)を献納する運動も高まりを見せました。つまり、メディアは **B** 役割を果たしたといえます。

生徒 X：この後の戦争とメディアとの関係性も気になりますね。

先生：日露戦争の前には、さまざまな立場のメディアが登場しました。日露戦争後にもメディアが人びとに与えた影響は大きいものでした。今はインターネットなどの通信技術が発達したことで世界各地の戦争や戦闘のようすをリアルタイムで知ることができますね。

(注5) 寄付されたお金のこと。

問 3

A

B

 に当てはまる語句の組合せとして最も適切なものを、次の①～④のうちから一つ選べ。解答番号は

15

。

- | | |
|---------------|------------------|
| ① A—画家や新聞記者 | B—国民としての一体感をもたせる |
| ② A—画家や新聞記者 | B—資本主義の発達を促す |
| ③ A—タイピストや写真家 | B—国民としての一体感をもたせる |
| ④ A—タイピストや写真家 | B—資本主義の発達を促す |

B

問 4 下線部分さまざまな立場について、生徒Xが抱いた疑問とその疑問に答えるための資料の組合せとして最も適切なものを、下の①～④のうちから一つ選べ。解答番号は

16

。

疑 問

ア 日露戦争を行うことに断固として反対の立場を示した人もいたのではないか。

イ 日露戦争の開戦を積極的に支持した人もいたのではないか。

疑問に答えるための資料(意識してある)

ウ 「日本が文明化していくためには、女性の教育が第一と考え、これを教え導くことこそが私の役目だと自覚していた。ただ懸命に、私は東西南北を駆け回り、自分自身の名誉や地位などというものは少しも顧みなかった」(岸田俊子の考え)。

エ 「私は日露非開戦論者である計りではない。戦争絶対的廃止論者である。戦争は人を殺すことである。そうして人を殺すことは大悪罪である」(内村鑑三の考え)。

- | | | | |
|-------|-------|-------|-------|
| ① アーウ | ② アーエ | ③ イーウ | ④ イーエ |
|-------|-------|-------|-------|

5 次のⅠ・Ⅱについて、後にある問1～問4に答えよ。

Ⅰ

資料1 1914年 外務大臣加藤高明の提言(意識してある)

日本は、今、日英同盟協約の義務によって参戦しなくてはならない立場ではない。条文の規定が日本の参戦を命令するような事態は、今のところ発生していない。ただ、一つはイギリスからの依頼に基づく同盟に対して誠意を示す、もう一つは大日本帝国がこの機会に **A** の根拠地を東洋から一掃して、 **B** というこの2点から参戦を断行するのが今の時機にふさわしい良策だと信じている。

資料2 1925年 内閣総理大臣加藤高明の演説(意識してある)

政府は、この時代精神の潮流から考えると、すべての国民に国家の義務を負担させ、国運発展のための政治上の重要な責任を引き受けさせることが、現在最も急がなければならないことであると認めたのです。このような趣旨^(a)により、普通選挙制を骨子とする衆議院議員選挙法改正案を提出いたしました。

問1 **A** **B** に当てはまる語句の組合せとして適切なものを、次の①～④のうちから一つ選べ。解答番号は **17**。

- | | |
|-------------|------------------|
| ① A—ドイツ | B—国際的な立場を高める |
| ② A—ドイツ | B—国内の不平士族の不満を抑える |
| ③ A—アメリカ合衆国 | B—国際的な立場を高める |
| ④ A—アメリカ合衆国 | B—国内の不平士族の不満を抑える |

問2 下線部分このような趣旨^(a)について述べた文として最も適切なものを、次の①～④のうちから一つ選べ。解答番号は **18**。

- ① 国民は大同団結して、天皇を奉じてすみやかに国家改造の基盤を完成させるべきである。
- ② 政府は、特定の政党の意向に左右されずに政治を行うべきである。
- ③ 純然たる社会主義と民主主義によって、貧富の差をなくすべきである。
- ④ 国民に政治的な責任を負わせることによって、国家をより発展させるべきである。

Ⅱ

資料3 1938年 近衛文麿首相の声明(意識してある)

日本政府は、**C** を攻略した後も国民政府が反省する機会を与えようとして今日までできている。しかし、国民政府は日本政府の真意を理解せず、軽率に抗戦をし、国内的には中国民衆の苦しみを、国外においては東アジア全体の平和を考慮していない。よって、日本政府は今後、国民政府を^{あいて}対手とせず、日本と真に提携するに足る新しい中国政権の成立と発展を期待し、これと両国国交を調整して新しい中国の建設に協力することにする。

B

資料4 資料3で示された戦争についての説明文

第1次近衛文麿内閣は、日中両軍が盧溝橋で衝突した事件に対して、当初は不拡大の方針を声明したが、その後に中国への派兵を認めたために戦線が拡大し、事実上の戦争状態となった。日本軍が国民政府の首都 **C** を占領しても、蒋介石は徹底抗戦を国民によびかけて抵抗を続け、戦争は長期化して日中両国が総力を挙げて戦う全面戦争に発展していった。

その後、日本が東南アジアに進出するとともに、日独伊三国同盟に調印したため、日本とアメリカ合衆国・イギリス陣営との対立が深刻になった。日本政府はアメリカとの交渉を続けたが、アメリカ国務長官ハルからの提案内容を受け入れることはできず、御前会議で開戦が決定された。_(b)

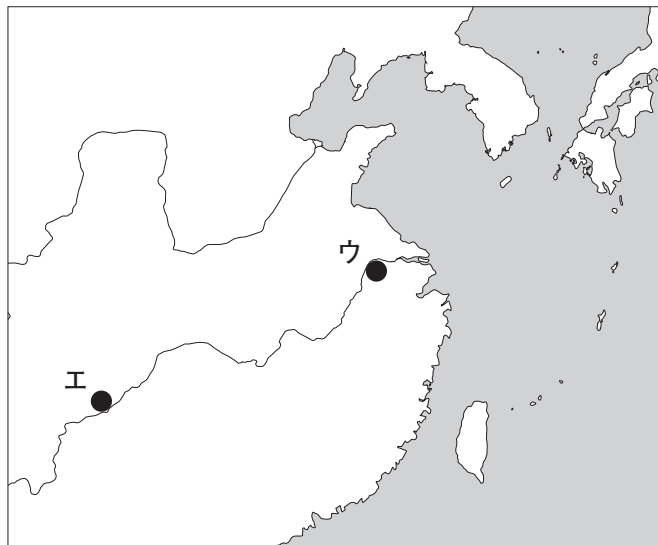
問3 **C** に当てはまる地名と、地図上での場所の組合せとして適切なものを、下の①～④のうちから一つ選べ。解答番号は **19**。

地名

場所

ア 重慶

イ 南京



① アーウ

② アーエ

③ イーウ

④ イーエ

問 4 下線部分^(b)御前会議で開戦が決定されたよりも前に日本政府が行ったこととして適切でないものを、次の①～④のうちから一つ選べ。解答番号は 20。

- ① 日満議定書を取りかわして満州国を承認した。
- ② ポツダム宣言を黙殺することを発表した。
- ③ 軍部大臣現役武官制を復活させた。
- ④ 国体明徴声明によって天皇機関説を否定した。



6 次のⅠ・Ⅱを読み、後にある問1～問4に答えよ。

Ⅰ 次の資料は、1956年に発表された『経済白書』の抜粋である。

資 料

戦後日本経済の回復の速やかさには誠に万人の意表外にでるものがあった。…(中略)…しかし敗戦によって落ち込んだ谷が深かったという事実そのものが、その谷からはい上がるスピードを速やかからしめたという事情も忘れることはできない。経済の浮揚力には事欠かなかった。経済政策としては、ただ浮き揚がる過程で国際収支の悪化や A のを避けることに努めれば良かった。いまや経済の回復による浮揚力はほぼ使い尽くされた。…(中略)…もはや「戦後」ではない。我々はいまや異なった事態に当面しようとしている。回復を(a)通じての成長は終わった。今後の成長は近代化によって支えられる。そして近代化の進歩も速やかにしてかつ安定的な経済の成長によって初めて可能となるのである。…(中略)…

我々は日々に進みゆく世界の技術とそれが変えてゆく世界の環境に一日も早く自らを適応せしめねばならない。もしそれを怠るならば、先進工業国との間に質的な技術水準においてますます大きな差がつけられるばかりではなく、長期計画によって自国の工業化を進展している後進国との間の工業生産の量的な開きも次第に狭められるであろう。…(後略)…

問1 A に当てはまる語句と、資料が発表されるまでに A のを避けるという目的で日本政府が行った政策の組合せとして最も適切なものを、下の①～④のうちから一つ選べ。解答番号は 21 。

語 句

- ア インフレの壁に突き当たる
- イ アメリカ合衆国との貿易摩擦が激化する

政 策

- ウ 赤字を許さない予算の編成
- エ 農産物の輸入自由化

- ① アーウ
- ② アーエ
- ③ イーウ
- ④ イーエ

- 問 2 下線部分^(a)もはや「戦後」ではないに関する次の会話文 1 を読み、B
- C に当てはまる語句の組合せとして最も適切なものを、下の①～④のうちから一つ選べ。解答番号は 22 。

B

会話文 1

先 生：資料に書かれている「もはや『戦後』ではない」という言葉はとても有名ですが、どのような趣旨で用いられているのか、わかりますか。

生徒 X：資料の内容から判断すると、「B 時代はもう終わったのだ」という意味ですね。そして、日本も世界も変化していく中で、これから日本は C に取り組むべきだ、ということが主張されていますね。

先 生：そのとおりです。

- | | |
|-----------------------|---------|
| ① B—軍事力を背景に植民地を拡大する | C—技術の革新 |
| ② B—軍事力を背景に植民地を拡大する | C—戦力の放棄 |
| ③ B—敗戦からの復興を通して経済成長する | C—技術の革新 |
| ④ B—敗戦からの復興を通して経済成長する | C—戦力の放棄 |

Ⅱ 次の課題と会話文 2 は、日本史の授業において設定された課題と、それについての会話である。

課 題

日本が独立国として主権を回復してから現在までの日本の歴史を、どこかで区切るとしたら、どの時期で区切るのが適切だと考えるか、理由をつけて答えなさい。

会話文 2

生徒 X：私は 1970 年前後で区切るのが適切だと考えます。戦後社会のさまざまな矛盾が噴出する中で、1960 年代末には公害問題、学園紛争などがおこる一方、消費の在り方^(b)の変化など、今の生活に近づいた時期でもありました。

生徒 Y：私は 1990 年前後で区切るのが適切だと考えます。 D ことで、平成不況と呼ばれる長い不況が始まって低成長の時代になったことは大きな変化ですし、冷戦の時代が終わったことが、従来の日本の保守と革新の対立構造に与えた影響も大きいと思います。これらのことが、現在の経済や政治につながっていると思います。

先生：なるほど。正解はひとつではありませんが、どちらの考え方も歴史的事実にきちんと基づいていて、一理あると思います。

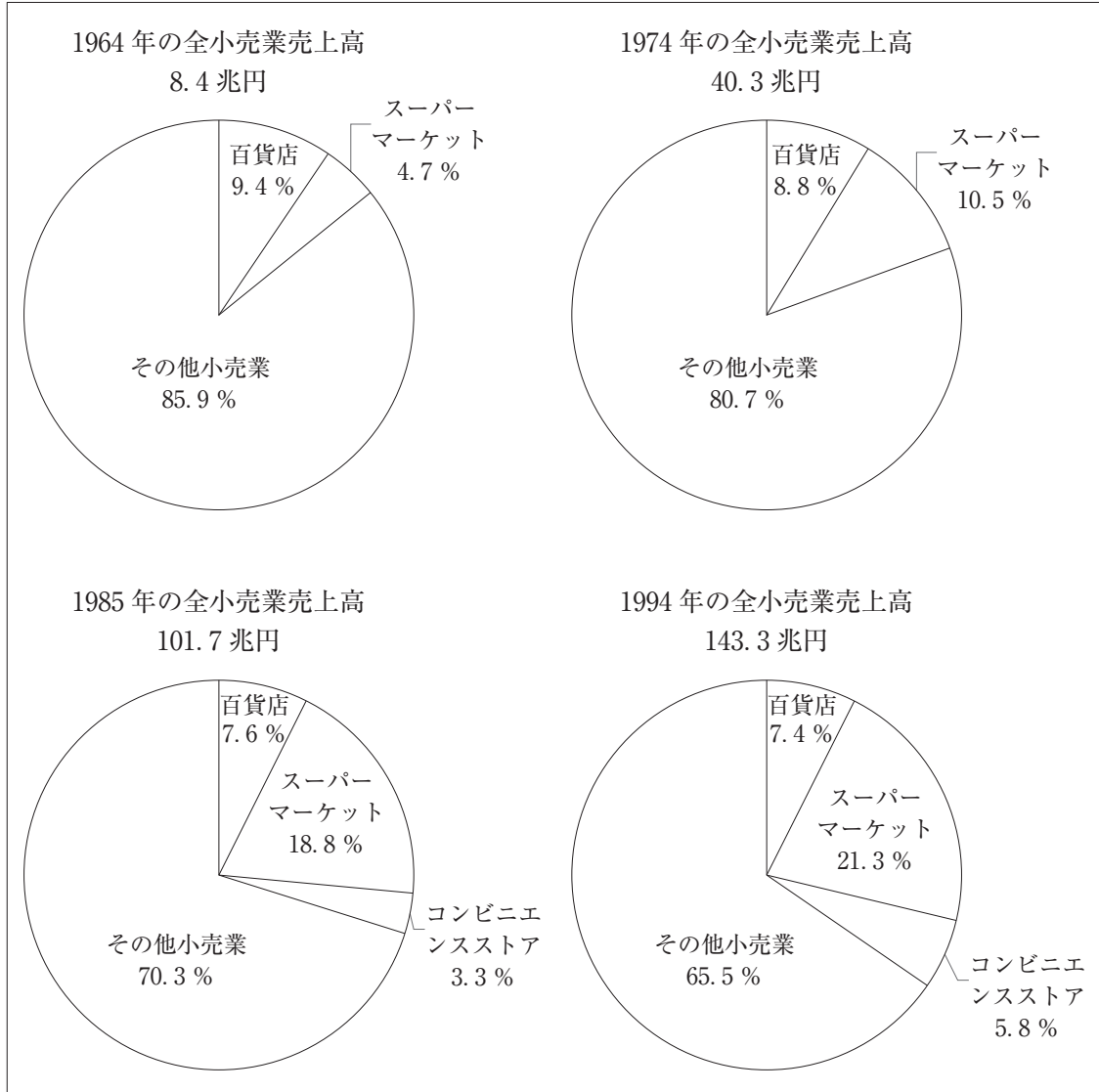
問 3 D に当てはまる語句として最も適切なものを、次の①～④のうちから一つ選べ。解答番号は 23 。

- ① 変動相場制に移行した
- ② 管理通貨制度に移行した
- ③ 寄生地主制が解体された
- ④ バブル経済が崩壊した

問 4 下線部分消費の在り方の変化について、各年代の全小売業売上高のうち各業態の占める割合を示した次のグラフから読み取れることとして適切でないものを、下の①～④のうちから一つ選べ。解答番号は 24。

B

グラフ



(平野隆「日本における小売業態の変遷と消費社会の変容」より作成)

- ① 1964年と1974年を比較すると、スーパーマーケットの売上高は3倍以上になっている。
- ② 1994年の百貨店での売上高は、1964年に比べて減少している。
- ③ 1985年にはスーパーマーケットの売上高は10兆円を超えている。
- ④ 1994年にはコンビニエンスストアの売上高は10兆円に達していない。

7 次の資料を読み、後にある問1～問4に答えよ。

資料 日本における「金」にかかわるできごとと説明

8 世紀半ば	陸奥国司百済王敬福 ^{くだらのこにしききょうふく} が、金 900 両を朝廷に献上した。 敬福は朝鮮半島で発達していた採掘技術をもつ渡来人を率いたとされる。 この金は、建造中であった東大寺廬舎那仏 ^{るしやな} の塗金用に献上された。
12 世紀前半	藤原清衡が、平泉に中尊寺金色堂を建立した。 清衡の子基衡は、左大臣藤原頼長への年貢として金や馬を送っていた。日宋貿易の輸出品としても金は主要品であった。
13 世紀後半	元のフビライ・ハンに仕えたマルコ・ポーロが、日本を「黄金の国」と著した。
14 世紀末	足利義満が北山殿(後の鹿苑寺金閣)を建てた。
16 世紀後半	南蛮貿易が始まり、蒔絵の技法を凝らした品々がヨーロッパへ輸出され始めた。 特に蒔絵を施された漆器は、ヨーロッパの王族や貴族たちに愛好され、「ジャパン」と呼ばれることもあった。
	豊臣秀吉が A をつくらせた。
17 世紀初頭	佐渡金山が開山された。 佐渡金山からの金の産出量は、江戸時代を通じて徐々に減っていったが、明治時代に入ると西洋からの技術が導入されたことを背景に、次第に産出量が増加した。
18 世紀後半	志賀島で「漢委奴国王」と刻まれた金印が発見された。
19 世紀末	日清戦争で得た賠償金を準備金として、 B がつくられた。
20 世紀前半	金輸出の禁止や解禁が行われた。
20 世紀半ば	金によって価値が保証されたアメリカドルを基軸通貨として、各国の通貨の交換比率を固定する国際通貨制度が採用された。

問 1 A B に当てはまる語句の組合せとして最も適切なものを、次の①～④のうちから一つ選べ。解答番号は 25。

- ① A—元禄小判 B—円・銭・厘を単位とする新しい硬貨
 ② A—元禄小判 B—金と交換できる紙幣
 ③ A—天正大判 B—円・銭・厘を単位とする新しい硬貨
 ④ A—天正大判 B—金と交換できる紙幣

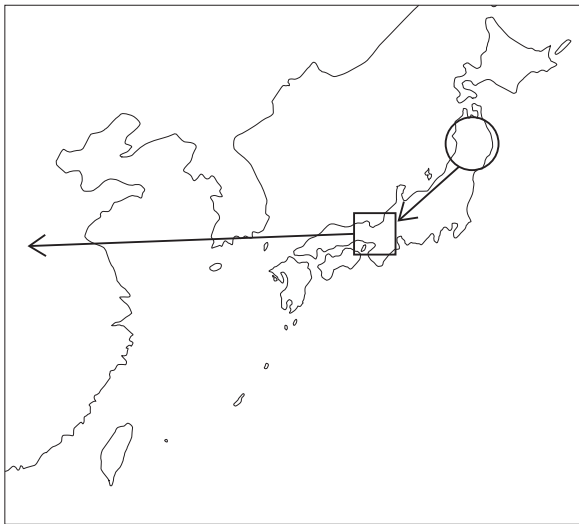
B

問 2 資料中の X の部分で説明されている、日本で産出された金の動きを模式的に示した図として最も適切なものを、下の①～④のうちから一つ選べ。解答番号は 26。

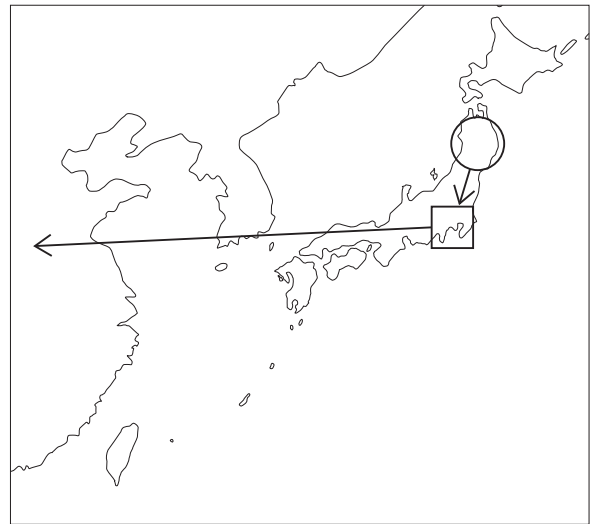
○ ……金の産出地を含む地域

□ ……政治の中心地を含む地域

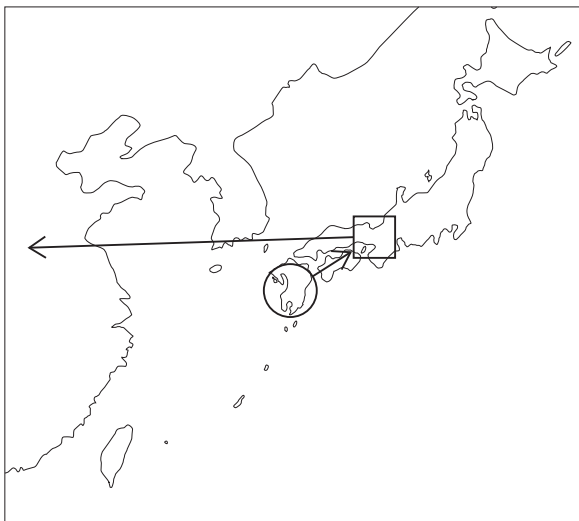
①



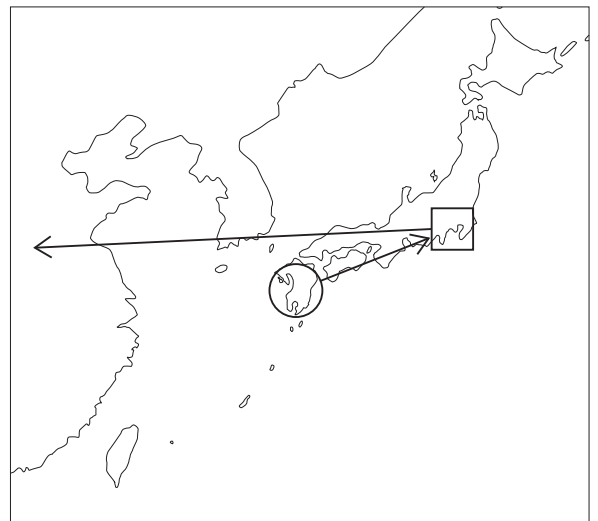
②



③

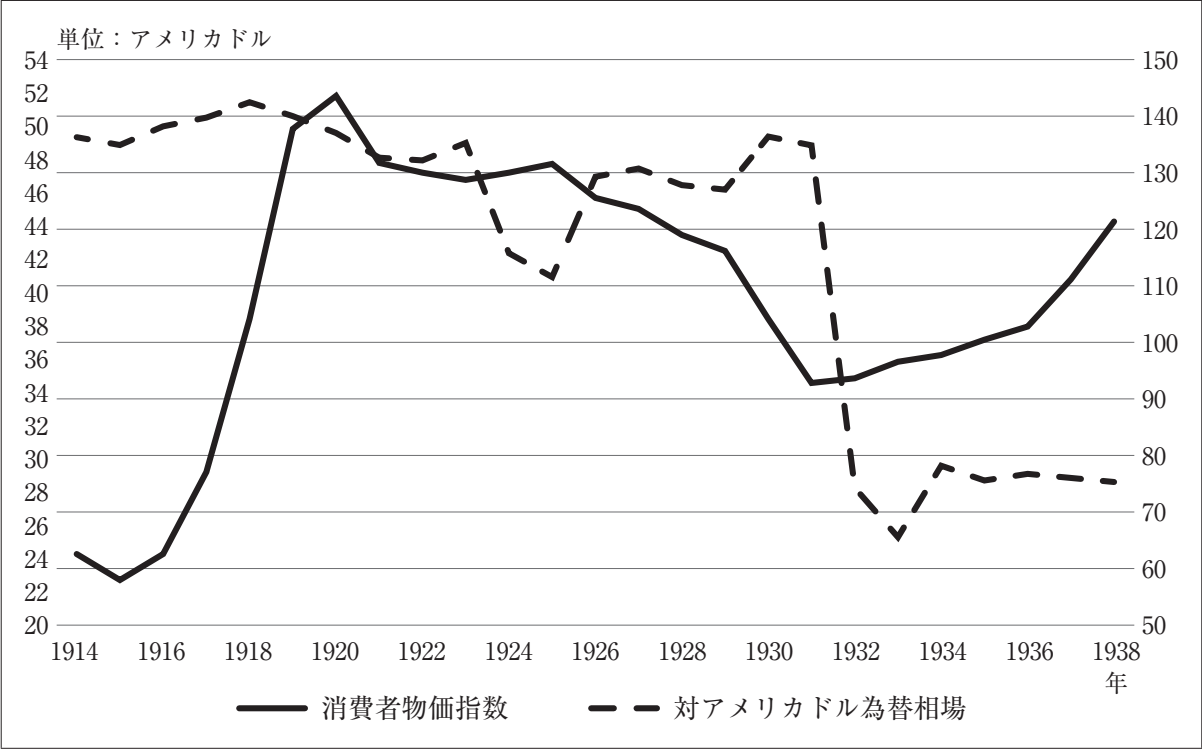


④



問 3 下線部分金輸出の禁止や解禁が行われた時期に関して、20 世紀前半の日本の経済状況を示した次のグラフから読み取れることと、当時の経済について説明した文の組合せとして最も適切なものを、下の①～④のうちから一つ選べ。解答番号は 27。

グラフ 100 円あたりの対アメリカドル為替相場と物価指数の推移



※左の縦軸が 100 円あたりの対アメリカドル、右の縦軸は物価指数(1934-36 年を 100 とする)を示している。
(谷沢弘毅『近現代日本経済史 下巻』より作成)

読み取れること

- ア 第一次世界大戦中に、物価が著しく上昇した。
- イ 満州事変が始まった直後に、円高が進行した。

説明した文

- ウ 金輸出が解禁されたことにより、円の価値が不安定になった。
- エ 金本位制から離脱したことにより、紙幣発行量の制限が緩んだ。

- ① アーウ ② アーエ ③ イーウ ④ イーエ

問 4 資料から考察できることについて述べた文として適切でないものを、次の①～④のうちから一つ選べ。解答番号は 28。

- ① アメリカ合衆国が西側諸国の為替相場を支えていた時期があった。
- ② 貿易品や書物から、海外の人びとは日本に対するイメージの一つとして金を想起した。
- ③ 金は財力を示すものであり、政治的な権力や権威を示すことはなかった。
- ④ 貿易において、金は直接取引されるだけでなく、各国の通貨を結び付ける役割をもった。

B

