

## 世界史 B

(解答番号  ~ )**1** 次の文章と図版に関連して、問1～問2に答えよ。

世界史の授業で感染症の歴史について調べるようになった2人の高校生が、天然痘について発表した。

関さん：天然痘は、1980年に世界保健機関(WHO)によって根絶が宣言されましたが、それまで、高い致死率を持つ感染症として、世界中で長く恐れられてきました。

南さん：感染症の流行は、ある程度多くの人口がいるところで定期的に発生します。天然痘は、最初に都市文明の成立した古代オリエント地域で、すでに確認されています。

関さん：感染症が流行すると、多くの人が亡くなる代わりに、社会全体で感染症に対する抵抗力もつきます。これに対し、流行を経験していない地域に感染症が持ち込まれると、大きな被害が出ました。代表的な例が、ラテンアメリカです。天然痘などのヨーロッパから持ち込まれた感染症のために先住民の人口が激減しました。そこで、減少した労働力を補うために  ことになり、住民構成が変わってしまいました。

南さん：天然痘の脅威は、要人にとっても例外ではありませんでした。例えば、清の康熙帝も、顔に天然痘の痕があったということです。フランス王  によって17世紀末に派遣され、康熙帝に仕えたカトリック宣教師のブーヴェは次のように伝えています。

この皇帝は…顔立はそれぞれよく整い…少しばかり痘痕<sup>あばた</sup>が残っておりますが、そのために玉体から発する好い感じ<sup>よ</sup>が毫も損なわれてはおりません。

関さん：満洲人やモンゴル人は天然痘に対する抵抗力が弱く、中国に入ると罹患<sup>りかん</sup>して命を落とすことも多かったそうです。康熙帝が皇帝に選ばれたのは、一度かかったけれども生き延びたので、もうかからないと考えられたからだ、ともいわれているそうです。

南さん：人類の歴史は、病気とどう戦い、どう共存していくかの歴史であったといえますね。



康熙帝の肖像(ブーヴェ『康熙帝伝』)

問 1 下線部分<sup>(a)</sup>古代オリエントについて述べた文として適切なものを、次の①～④のうちから一つ選べ。解答番号は  。

- ① 諸子百家とよばれる思想家が活躍した。
- ② 仏教寺院のポロブドゥール寺院が建てられた。
- ③ 四つの身分からなるヴァルナ(種姓)が成立した。
- ④ 王(ファラオ)の権威を象徴するピラミッドが建造された。

問 2  に当てはまる文と、 に当てはまる人物との組合せとして正しいものを、次の①～④のうちから一つ選べ。解答番号は  。


	<input type="text" value="A"/>	<input type="text" value="B"/>
①	アフリカから黒人奴隷が移入される	ド = ゴール
②	アフリカから黒人奴隷が移入される	ルイ 14 世
③	華僑や印僑とよばれる労働移民が流入する	ド = ゴール
④	華僑や印僑とよばれる労働移民が流入する	ルイ 14 世

2 1～2の文章と図版に関連して、問1～問8に答えよ。

1 原田さんは港町の歴史について調べ、次のカード1・カード2を作成した。

カード1 博多

- 1世紀に後漢の皇帝 **A** が、倭の奴国に印綬を与えたことが『後漢書』東夷伝に記録されている。この印綬と考えられる金印が、1784年に博多湾にある志賀島で発見された。このことから、博多が古くから中国と交流していたことが推察できる。
- 遣隋使や遣唐使らは、博多から隋・唐や新羅へ向かって出発した。また東アジア各地からの使者や商人も博多を訪れ、博多は大陸文化の窓口となった。
- 12世紀には平氏政権が、博多を中継地の一つとして宋との貿易を進めたことにより、交流は一層盛んになり、港やその周辺には中国人街が形成されるほどであった。



発見された金印

カード2 イスタンブル

- 紀元前7世紀、ギリシア人の一派によって植民市として建設され、ビザンティオンと名付けられた。天然の良港である金角湾を擁して栄えた。
- 4世紀になるとローマ帝国の都となった。遷都した皇帝の名にちなみ、**B** とよばれるようになった。
- 6世紀にはビザンツ帝国(東ローマ帝国)のユスティニアヌス帝によって、聖ソフィア聖堂が建立された。7世紀になるとビザンツ帝国は次第に勢力圏を縮小したが、その後も、**B** は東西交易ルートの要衝となった。
- 14世紀中頃、ペストが流行し、多くの死者が出た。**B** は交易が盛んな都市だったため、ペストはここから内陸部へ広がっていった。
- この都市がイスタンブルとよばれるようになったのは、後世のことである。



ユスティニアヌス帝

問 1 **A** に当てはまる人物と、下線部分<sup>(a)</sup>新羅に関する説明との組合せとして正しいものを、次の①～④のうちから一つ選べ。解答番号は **3**。

	<b>A</b>	説 明
①	光武帝	ゲルマン人が建国した。
②	光武帝	百済を滅ぼした。
③	玄 宗	ゲルマン人が建国した。
④	玄 宗	百済を滅ぼした。

問 2 下線部分<sup>(b)</sup>宋について、北宋のようすを述べた文として適切なものを、次の①～④のうちから一つ選べ。解答番号は **4**。

- ① ガンダーラ美術が生まれた。
- ② 「プラハの春」とよばれる民主化運動がおこった。
- ③ ワッハープ運動がおこった。
- ④ 王安石が改革を行った。

問 3 下線部分<sup>(c)</sup>ローマ帝国に関する説明と、**B** に当てはまる語句との組合せとして正しいものを、次の①～④のうちから一つ選べ。解答番号は **5**。

	説 明	<b>B</b>
①	マグナ＝カルタ(大憲章)が発布された。	コンスタンティノーブル
②	マグナ＝カルタ(大憲章)が発布された。	アムステルダム
③	五賢帝時代に最盛期を迎えた。	コンスタンティノーブル
④	五賢帝時代に最盛期を迎えた。	アムステルダム

問 4 下線部分<sup>(d)</sup>7世紀になるとビザンツ帝国は次第に勢力圏を縮小したとあるが、その原因として考えられる事柄について述べた文として適切なものを、次の①～④のうちから一つ選べ。解答番号は **6**。

- ① イスラーム勢力が進出した。
- ② ファシスト党が政権を獲得した。
- ③ ファシヨダ事件がおこった。
- ④ 二月革命がおこった。

2 生徒と先生が、図1～図4を見ながら、歴史上の船について会話している。

生徒： 先生、様々な形の船がありますね。図1はいつの時代の、どこの船ですか。

先生： 図1は紀元前2550年頃のエジプトの船です。当時、エジプトやギリシアなどの東地中海の交易は、現在のレバノンに住む人々が担っていました。この船は、彼らによって、エジプトにもたらされたレバノン杉を用いて、つくられた船です。

生徒： 現在のレバノンの国旗には、レバノン杉がデザインされています。杉はレバノンの人々にとって、大切なものなのですね。ところで図2は何でしょうか。帆の形が特徴的です。

先生： これは **C** といいます。帆が折り畳み式になっていて、操作が簡単だったようです。中国商人はこの船に乗り、羅針盤などを活用して、南・東シナ海で活動しました。図3はどんな人たちが使っていた船かわかりますか。

生徒： 図3は、ヴァイキングともよばれたノルマン人が使っていた船です。水中に沈んでいる部分が浅いので、川をさかのぼることができ、各地に進出して国を建てたことを学習しました。図4は甲板に建物が見られます。何でしょうか。

先生： これは遣唐使船ですよ。

生徒： そうですか。甲板の建物の中で嵐をしのいだりしながら、遣唐使や留学生が中国へ渡り、様々なものを日本へもたらしたのですね。



図1




図2



図3



図4

問 5 下線部分<sup>(e)</sup>レバノンのティルスなどを拠点として、交易で活躍したフェニキア人について述べた文として適切なものを、次の①～④のうちから一つ選べ。解答番号は 7。

- ① ペリクレスのもとで、民主政が実現された。
- ② ビスマルクが、鉄血政策を進めた。
- ③ 北アフリカに植民市のカルタゴを建設した。
- ④ プラッシーの戦いで勝利した。

問 6 C に当てはまる語句を、次の①～④のうちから一つ選べ。解答番号は 8。

- ① ジャンク船
- ② 亀甲船(亀船)
- ③ 蒸気船
- ④ 三段櫂船

問 7 下線部分<sup>(f)</sup>ノルマン人について、彼らが建てた国の略地図中のおよその位置と、その国名との組合せとして正しいものを、下の①～④のうちから一つ選べ。解答番号は 9。



	位置	国名
①	あ	ガーナ王国
②	あ	ノヴゴロド国
③	い	ガーナ王国
④	い	ノヴゴロド国

問 8 下線部分<sup>(g)</sup>様々なものを日本へもたらしたことについて、次の資料は、日本に影響を与えた中国の制度を述べたものである。この制度の名称として適切なものを、下の①～④のうちから一つ選べ。解答番号は 

10
----

。

16歳(のちには18歳)から59歳までの男性は80畝<sup>ほ</sup>を給し、病気の男性には40畝を給し、寡婦には30畝を給し、戸を為す若者は20畝を給う。授くところの田、十分の二を永業田とし、八を口分田と為す。…

- |         |       |
|---------|-------|
| ① 均田制   | ② 三圃制 |
| ③ イクター制 | ④ 地丁銀 |





3 1～2の文章と図版に関連して、問1～問5に答えよ。

1 生徒と先生が、図1～図3を見ながら、医学の歴史について会話している。

生徒： 医学の歴史を調べていたら、イスラーム世界における『イル＝ハーン外科術』という本を見つけました。図1の医者は何をしているのでしょうか。

先生： 医療道具を使って出血を止めているシーンです。図2は歯科用の医療道具ですが、他にも多くの医療道具が使われていました。近代医学が始まる前は、イスラーム世界の医学の方がヨーロッパよりも進んでいたのです。特に、イブン＝シーナーが11世紀に著した『医学典範』は、図3のようにラテン語に翻訳され、中世ヨーロッパの大学の教科書として尊重されていたのです。

生徒： そうなのですね。『医学典範』の表紙の左から2番目の人物は、古代ギリシアのヒポクラテスでしょうか。

先生： そうです。『医学典範』は古代ギリシアの影響を色濃く受けていたのです。

生徒： そういえば、ルネサンスも古代ギリシアの影響を受けていましたよね。興味が湧いてきたので、古代ギリシアの文化をもう一度学び直そうと思います。



図1 『イル＝ハーン外科術』の医療場面(15世紀)



図2 ザフラーウィー(1013年頃没)の著作に描かれた歯科用の医療道具



図3 ヴェネツィアで出版された『医学典範』ラテン語版の表紙(1608年)

問 1 下線部分(a)イスラーム世界の出来事について述べた次の(ア)~(ウ)を、古いものから順に正しく並べたものを、下の①~④のうちから一つ選べ。解答番号は 11。

- (ア) 青年トルコ革命がおこった。
- (イ) サファヴィー朝が、イスファハーンを都にした。
- (ウ) ハールーン=アッラシードの時代に、アッバース朝が最盛期を迎えた。

- ① (イ)→(ア)→(ウ)
- ② (イ)→(ウ)→(ア)
- ③ (ウ)→(ア)→(イ)
- ④ (ウ)→(イ)→(ア)

問 2 下線部分(b)ルネサンス期の作品を、次の①~④のうちから一つ選べ。解答番号は 12。



ピカソ「ゲルニカ」



ボッティチェリ「ヴィーナスの誕生」



ラスコーの洞穴絵画



ドラクロワ「民衆を導く自由の女神」

2 3人の生徒が、図4～図6を見ながら、様々な地域の労働のようすについて会話している。

谷さん： 僕は、アメリカ植民地の銀鉱山で働く、図4の人々を調べました。彼らの過酷な労働の結果、ボリビアやメキシコの銀がヨーロッパ大陸に流入し、16世紀後半のヨーロッパ<sup>(c)</sup>に影響を与えたそうです。

森さん： 私は、図5の商人を調べました。詳しく調べたところ、南インドに位置したヒンドゥー教国の **A** で馬を売っている商人のようでした。 **A** では北方のイスラーム諸王国に対抗していたため、ペルシアやアラビア産の馬が大量に売れたそうです。

西さん： 私は、図6の印刷工房の人々を調べました。それまでの写本に比べ、活版印刷術によって、本を安価で大量に印刷することができるようになり、宗教改革<sup>(d)</sup>の促進にも影響を与えたそうです。

谷さん： こう見ると、当時は地域ごとのニーズや事情に沿った色々な仕事があったのですね。



図4



図5



図6

問3 下線部分 16世紀後半のヨーロッパ<sup>(c)</sup>のようすとして適切なものを、次の①～④のうちから一つ選べ。解答番号は **13**。

- ① ミッドウェー海戦がおこった。
- ② ヘレニズム文化が生まれた。
- ③ イェルサレム王国が建てられた。
- ④ 価格革命がおこった。

問4 **A** に当てはまる国を、次の①～④のうちから一つ選べ。解答番号は **14**。

- ① ヴィジャヤナガル王国
- ② 神聖ローマ帝国
- ③ フランク王国
- ④ ハワイ王国

- 問 5 下線部分<sup>(d)</sup>宗教改革に関連して、次の資料は、「九十五カ条の論題」の一部である。「九十五カ条の論題」を掲げた人物と、資料から読み取れる主張との組合せとして正しいものを、下の①～④のうちから一つ選べ。解答番号は 15。

[32条] 贖宥の文書で自分たちの救いが確かであると自ら信じる人たちは、その教師たちとともに永遠に罪に定められるであろう。

[47条] 贖宥を買うのは自由であって、命ぜられたことでないのだと、キリスト者は教えられねばならない。

	人 物	資料から読み取れる主張
①	ルター	贖宥状を買うのはキリスト者の義務である。
②	ルター	贖宥状で必ず救われるという考え方は誤っている。
③	サッチャー	贖宥状を買うのはキリスト者の義務である。
④	サッチャー	贖宥状で必ず救われるという考え方は誤っている。

B

4 1～2の文章と図版に関連して、問1～問4に答えよ。

1 アメリカ合衆国の捕鯨業は独立前から盛んであった。当初はニューイングランド地方の沿岸捕鯨だったが、やがて公海捕鯨に転じ、アメリカ合衆国の独立<sup>(a)</sup>の頃より太平洋に進出した。19世紀半ば頃には700隻を超える漁船が操業していた。

当時の捕鯨業は常に危険が伴い、海難は跡を絶たなかった。1853年のペリー来航<sup>(b)</sup>をきっかけに、日本とアメリカ合衆国の間で **A** 条約が結ばれ、下田と箱館の2港が開港されたが、アメリカ合衆国の動機の一つは、捕鯨船団のための寄港地を確保することにあった。しかしこの頃より、鯨油の需要が減退し、鯨資源の枯渇もあり、捕鯨業は急速に衰退することとなった。



19世紀初めのアメリカ合衆国の捕鯨

問1 下線部分アメリカ合衆国の独立<sup>(a)</sup>に関連して、独立運動に関わる出来事について述べた文として適切なものを、次の①～④のうちから一つ選べ。解答番号は **16** 。

- ① 選挙権を求めるチャーティスト運動が展開された。
- ② 印紙法に対する反対運動がおこった。
- ③ サンフランシスコ会議で、国際連合憲章が採択された。
- ④ ファン＝ボーイ＝チャウが東遊(ドンズー)運動を組織した。

問 2 下線部分ペリー来航について、次の資料はペリー来航の記録の一部である。資料からわかる、ペリーが日本に向かった地図中のおよその航路と、A の条約名との組合せとして正しいものを、下の①～④のうちから一つ選べ。解答番号は 17。

資料

遅滞にしぶれをきらした提督は、これ以上僚艦を待つ気になれず、1852年11月24日、ミシシッピ号のみでノーフォークを出発し、石炭と食料の供給の便を考えて外回り航路を取り、マデイラ、喜望峰、モーリシャス、シンガポールを経由する計画で、日本への遣使の途についたのである。  
(宮崎壽子監訳『ペリー提督日本遠征記』より)



	航路	<span style="border: 1px solid black; padding: 2px;">A</span>
①	あ	日米和親
②	あ	天津
③	い	日米和親
④	い	天津

2 図の人物は、日本に來日したアブデュルレシト＝イブラヒムである。イブラヒムは1857年、西シベリアに生まれ、メッカ巡礼後メディナのマドラサで学んだ。帰国後、1889年にはエジプトなど各地で活動していたパン＝イスラーム主義者のアフガーニーと接触し、その思想に触れ、共鳴した。後にはロシアのムスリム宗務協議会の要職を務めた。しかし、協議会の実態に反発し辞職、アブデュルハミト2世治世のオスマン帝国に移住し、ジャーナリストとして帝政ロシアの政策を批判した。1909年2月に來日し、大隈重信や伊藤博文らと会談を行っている。このとき日本の大アジア主義者との思惑が合致し、亜細亜議會を結成した。その後、日本側から要請されて再度來日し、東京モスクの初代イマームとして活動した。



図 人力車に乗るイブラヒム

問 3 下線部分<sup>(c)</sup>エジプトに関連して、「エジプト人のためのエジプト」を掲げ、外国支配に抵抗して武装蜂起した人物を、次の①～④のうちから一つ選べ。解答番号は **18**。

①



シモン＝ボリバル

②



ウラービー(オラービー)

③



チャーチル

④



スレイマン1世

問 4 下線部分<sup>(d)</sup>帝政ロシアについて、19世紀のロシアのようすについて述べた文として適切なものを、次の①～④のうちから一つ選べ。解答番号は **19**。

- ① 公民権法が成立した。
- ② バルフォア宣言を出した。
- ③ 袁世凱政府に二十一カ条の要求を出した。
- ④ ナロードニキ(人民主義者)が活動した。



5 1～2の文章と図版に関連して、問1～問6に答えよ。

1 イギリス人のジョージ＝オーウェルは、1922年、父と同じくインドの官吏となった。しかし、植民地を蔑視する任務のあり方に疑問を持ち、帰国して貧しい生活<sup>(a)</sup>をしながら、作家を志すようになった。そして、1929年に始まる **A** の下での貧民を描いた『パリ・ロンドン放浪記』を、1933年に発表した。

1936年、オーウェルはスペイン内戦<sup>(b)</sup>に義勇兵として参加し、人民戦線とともに戦った。その経験を、帰国後の1938年に『カタロニア讃歌』として発表した。第二次世界大戦が始まると、ドイツの侵攻に備えるための義勇隊にも参加した。その後も、ソ連の支配<sup>(c)</sup>を風刺した『動物農場』(1945年刊行)や、生活の隅々まで管理される未来社会を予想した『1984年』(1949年刊行)など、人間らしさを主題とする小説を発表した。



ジョージ＝オーウェル

問1 下線部分インド<sup>(a)</sup>の1920年代のようすについて述べた文として適切なものを、次の①～④のうちから一つ選べ。解答番号は **20** 。

- ① スエズ運河が開通した。
- ② アラビア文字からローマ字への文字改革を行った。
- ③ 非暴力・不服従の抵抗運動が行われた。
- ④ 権利の章典を定めた。

問 2 **A** は、ニューヨークのウォール街における株価の暴落を直接の原因として始まった出来事である。**A** に当てはまる語句を、次の①～④のうちから一つ選べ。

解答番号は **21** 。

- ① タバコ=ボイコット運動
- ② 世界恐慌
- ③ 百年戦争
- ④ 大躍進政策

問 3 下線部分<sup>(b)</sup>スペイン内戦で、人民戦線と敵対する反乱軍を率いた軍人を、次の①～④のうちから一つ選べ。解答番号は **22** 。

①




トゥサン＝ルヴェルチユール

②



ナセル

③



ワット

④



フランコ

問 4 下線部分<sup>(c)</sup>ソ連の 20 世紀前半のようすについて述べた文として適切なものを、次の①～④のうちから一つ選べ。解答番号は **23** 。

- ① アクバルが、ジズヤを廃止した。
- ② ガリレイが、地動説を唱えた。
- ③ スターリンが、一国社会主義を唱えた。
- ④ ジョン＝ヘイが、中国の門戸開放を唱えた。

- 2 何香凝<sup>かこうぎょう</sup>は、中国の女性革命家として知られている。1902年、画家を夢見て日本に留学した。やがて社会問題や女性の地位向上に関心を持つようになり、孫文が率いた中国同盟会に加入した。辛亥革命がおこると帰国し、第一次世界大戦後<sup>(d)</sup>には中国国民党の指導部として活躍した。しかし、1927年、蔣介石が南京に国民政府を建て、中国共産党員を弾圧する方針をとると、国共合作を推進してきた何香凝は地位を失った。それでも、1931年に満洲事変がおこると、絵を売って生活しながら、抗日民族統一戦線<sup>(e)</sup>の呼びかけにも加わった。
- 第二次世界大戦後は、中華人民共和国で政治の要職を歴任しつつ、絵を描く活動も続け、1972年に没した。



何香凝とその家族の写真(1909年、東京で撮影)

- 問 5 下線部分<sup>(d)</sup>第一次世界大戦後のパリ講和会議について述べた文として適切なものを、次の①～④のうちから一つ選べ。解答番号は  。
- ① マーシャル＝プランが発表された。
  - ② 私有財産制度の廃止が目指された。
  - ③ 十四カ条の平和原則を基本方針とした。
  - ④ アリウス派を異端とした。

問 6 次の資料は、下線部分<sup>(e)</sup>抗日民族統一戦線の成立に影響した出来事に関するものである。その出来事を、下の①～④のうちから一つ選べ。解答番号は 25。

東北喪失からすでに五年を経たが、国権は衰え、領土は日ましに縮小し…およそ国民たるもの心を痛めないものはない。…(張)学良ら永年の軍人僚友は、…蔣(介石)公に最後の諫言<sup>かんげん</sup>を行い、その安全を保証するとともに反省を促すこととした。西北の軍民は、一致して以下のことを主張するものである。

- 一、南京政府を改組し、各党各派を容れて、共同で救国の責を負うこと。
- 二、いっさいの内戦を停止すること。…

- |         |           |
|---------|-----------|
| ① 叙任権闘争 | ② アンボイナ事件 |
| ③ 聖像禁止令 | ④ 西安事件    |

B

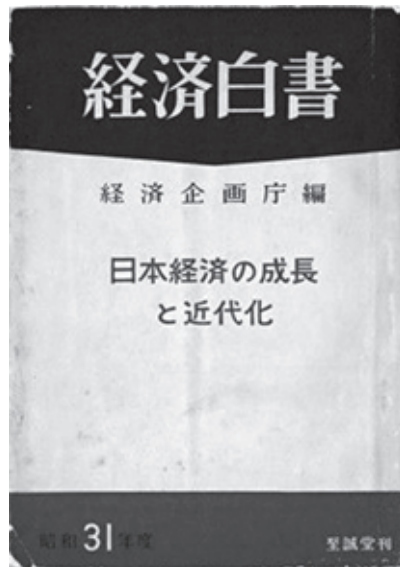
6 1～2の文章と図版に関連して、問1～問5に答えよ。

- 1 第二次世界大戦後の日本は、様々な困難に向き合いながら、復興と経済成長をはたしていった。資料1は、1956年度(昭和31年度)の『経済白書』の一部である。

資料1

戦後10年日本経済は目ざましい復興を遂げた。…国民所得は、戦前の五割増の水準に達し、一人当りにしても戦前の最高記録昭和14年の水準を超えた。工業生産も戦前の2倍に達し、軍需を含めた戦時中の水準をはるかに上回っている。…

ことに最近その実績が明らかにされた昭和30年度の経済発展にはまことにめざましいものがあつた。…世界第二位の輸出増加率を示した昨年(1955年)の日本経済の姿を、世界経済の奇蹟と称せられた西独<sup>(a)</sup>経済の発展に比すべきものとして目をみはっている。…今回、発表した経済白書においては、復興過程を終えたわが国が、経済の成長を鈍化させないためには、如何なる方途に進まねばならぬかをその主題としている。…もはや「戦後」ではない。<sup>(b)</sup>…回復を通じての成長は終わった。…世界<sup>(c)</sup>の二つの体制の間の対立も、原子兵器の競争から平和的競争に移った。平和的競争とは、経済成長率の闘いであり、生産性向上のせり合いである。…



1956年度(昭和31年度)の『経済白書』の表紙

問 1 下線部分<sup>(a)</sup>西独(西ドイツ)に関連して、1961年に建設が始まった建造物はドイツの東西分裂の象徴として知られている。資料2の証言を参考にして、建造物の名称と、その建造目的との組合せとして正しいものを、下の①～④のうちから一つ選べ。解答番号は 26。

資料2

体制に忠実な東ドイツの若い男は、国境警備兵として召集されたとき、自分の世界観が変わらざるをえないと納得した。彼はのちに語っている。

「私が壁の全体構造をみたのは、そのときがはじめてです。…私たちの側から実際には誰もむこうへ越えられないように、すべてが造られていました。…」

	建造物	建造目的
①	万里の長城	東ドイツの人々が西ドイツへ亡命することを防ぐ。
②	万里の長城	西ドイツの軍が東ドイツへ侵入することを防ぐ。
③	ベルリンの壁	東ドイツの人々が西ドイツへ亡命することを防ぐ。
④	ベルリンの壁	西ドイツの軍が東ドイツへ侵入することを防ぐ。

問 2 下線部分<sup>(b)</sup>もはや「戦後」ではないに関連して、この言葉の根拠と考えられる経済的状況として資料1から読み取れることと、その経済的状況をもたらしたと考えられる背景との組合せとして正しいものを、次の①～④のうちから一つ選べ。解答番号は 27。

	資料1から読み取れる経済的状況	経済的状況をもたらしたと考えられる背景
①	工業生産が戦前の2倍に達している。	ユグノー戦争がおこった。
②	工業生産が戦前の2倍に達している。	朝鮮戦争がおこった。
③	戦費が戦前の2倍に達している。	ユグノー戦争がおこった。
④	戦費が戦前の2倍に達している。	朝鮮戦争がおこった。

問 3 下線部分<sup>(c)</sup>世界の二つの体制の間の対立に関連して、この対立に関する国際的な動きについて述べた文として適切なものを、次の①～④のうちから一つ選べ。解答番号は 28。

- ① 北大西洋条約機構(NATO)が成立した。
- ② トリエント公会議が開催された。
- ③ ウェストファリア条約が結ばれた。
- ④ ウィーン会議が開催された。

2 資料3は、1980年度(昭和55年度)の『経済白書』の一部である。

資料3

世界経済、特に先進国経済は、過去10年間の中で次の5つの大きな問題に直面した。しかも、これらは1980年代にも引き継がれている。

第1は、自由な経済交流を生かす世界経済秩序の維持である。1971年におけるアメリカの経済政策の転換<sup>(d)</sup>は、第二次大戦後の世界経済の発展を支えてきたブレトンウッズ体制に大きな影響を及ぼした。…以来世界経済においては、為替相場は、Aに移行し、その中で、主要国の経済政策・貿易制度調整のための真剣な努力が重ねられた。…

第4に、こうした過程で石油危機<sup>(e)</sup>が勃発した。石油危機そのものには、民族的、政治的対立が背景にあるとはいえ、経済的には、石油資源の供給限界に対する不安、上述の発展途上国の現行世界経済秩序に対する不満、そして、70年代におけるドルの減価傾向等が働いた。…



(提供：読売新聞社)

石油危機の際、品不足が噂されたトイレットペーパーを求めて行列をつくる人々

問 4 下線部分 1971 年におけるアメリカの経済政策の転換の結果、世界の為替相場は大きく変化した。政策を主導したアメリカ合衆国の大統領と、A に当てはまる文との組合せとして正しいものを、次の①～④のうちから一つ選べ。解答番号は 29。

	大統領	<span style="border: 1px solid black; padding: 2px;">A</span>
①	ニクソン	固定制から変動制
②	ニクソン	変動制から固定制
③	ジャクソン	固定制から変動制
④	ジャクソン	変動制から固定制

問 5 下線部分 石油危機について、石油危機(第1次)がおこった背景について述べた文として適切なものを、次の①～④のうちから一つ選べ。解答番号は 30。

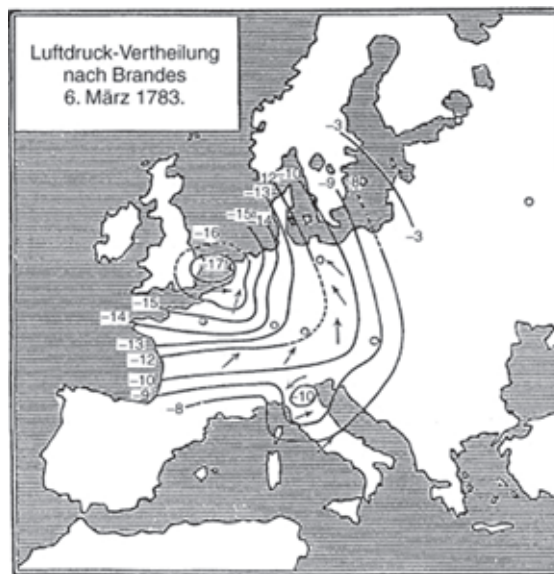
- ① 日中戦争が始まった。
- ② インドシナ戦争が始まった。
- ③ スペイン継承戦争が始まった。
- ④ 第4次中東戦争が始まった。

B



7 次の文章と図版に関連して、問1～問2に答えよ。

天気は人間の生活に大きく影響する。そのため、雲や風の動きから天気を経験的に予測することは、古来より行われてきた。現在では、天気の予測のために天気図が用いられている。天気図は、ドイツの気象学者ハイน์リヒ・ブランドスによって構想されたが、その時は天気の予測に使うことは想定されていなかった。しかし、電信の発明により、Aが可能になったため、天気図を用いた天気の予測が可能になった。天気の変化に関する情報量は膨大であり、20世紀半ば以降には、その情報の処理のためにコンピューターが用いられるようになる。さらに、地球全体の天気に関する情報を収集するために、現在では人工衛星が利用されている。



ブランドスの著作のデータをもとに作成された天気図

問1 Aに当てはまる語句を、次の①～④のうちから一つ選べ。

解答番号は 31。

- ① 物体を透過して見る事
- ② 瞬時に遠隔地の情報を得ること
- ③ 船の方位を測定し、長距離の航海を行うこと
- ④ 空を飛ぶことで、高速で長距離を移動すること

問 2 下線部分人工衛星について述べた次の(ア)・(イ)の正誤を判断し、その組合せとして正しいものを、下の①～④のうちから一つ選べ。解答番号は 32。

(ア) 人工衛星の開発が成功した結果、原子爆弾が開発された。

(イ) 人工衛星の打ち上げに世界で最初に成功したのはソ連である。

① (ア)―正 (イ)―正

② (ア)―正 (イ)―誤

③ (ア)―誤 (イ)―正

④ (ア)―誤 (イ)―誤

B

