

令和3年度 **世界史A・世界史B** (50分)

注 意 事 項

- 1 試験開始の合図があるまで、この問題冊子の中を見てはいけない。
- 2 出題科目、ページ及び選択方法は、下表のとおりである。

出題科目	ページ	選 択 方 法
世界史A	1～24	左の2科目のうちから1科目を選択し、解答しなさい。
世界史B	25～50	

- 3 試験中に問題冊子の印刷不鮮明、ページの落丁・乱丁及び汚れ等に気付いた場合は、手を挙げて監督者に知らせること。
- 4 試験開始の合図前に、監督者の指示に従って、解答用紙の該当欄に以下の内容をそれぞれ正しく記入し、マークすること。

・①氏名欄

氏名を記入すること。

・②受験番号、③生年月日、④受験地欄

受験番号、生年月日を記入し、さらにマーク欄に受験番号(数字)、生年月日(年号・数字)、受験地をマークすること。

・⑤解答科目欄

解答する科目名を○で囲み、さらにその下のマーク欄にマークすること。

- 5 受験番号、生年月日、受験地が正しくマークされていない場合は、採点できないことがある。
- 6 解答科目が正しくマークされていない場合は採点できないので、必ず正しくマークすること。
- 7 解答は、解答用紙の解答欄にマークすること。例えば、

10

と表示のある解答番号に対して②と解答する場合は、次の(例)のように解答番号10の解答欄の②にマークすること。

(例)

解答番号	解 答 欄
10	① ② ③ ④

- 8 問題冊子の余白等は適宜利用してよいが、どのページも切り離してはいけない。
- 9 試験終了後、問題冊子は持ち帰ってよい。

世 界 史 A

(解答番号 ~)

1 次の文章と図版に関連して、問1～問2に答えよ。

世界史の授業で感染症の歴史について調べるようになった2人の高校生が、天然痘について発表した。

関さん：天然痘は、1980年に世界保健機関(WHO)によって根絶が宣言されましたが、それまで、高い致死率を持つ感染症として、世界中で長く恐れられてきました。

南さん：感染症の流行は、ある程度多くの人口がいるところで定期的に発生します。天然痘は、最初に都市文明の成立した古代オリエント地域で、すでに確認されています。

関さん：感染症が流行すると、多くの人が亡くなる代わりに、社会全体で感染症に対する抵抗力もつきます。これに対し、流行を経験していない地域に感染症が持ち込まれると、大きな被害が出ました。代表的な例が、ラテンアメリカです。天然痘などのヨーロッパから持ち込まれた感染症のために先住民の人口が激減しました。そこで、減少した労働力を補うために ことになり、住民構成が変わってしまいました。

南さん：天然痘の脅威は、要人にとっても例外ではありませんでした。例えば、清の康熙帝も、顔に天然痘の痕があったということです。フランス王 によって17世紀末に派遣され、康熙帝に仕えたカトリック宣教師のブーヴェは次のように伝えています。

この皇帝は…顔立はそれぞれよく整い…少しばかり痘痕^{あばた}が残っておりますが、そのために玉体から発する好い感じ^よが毫も損なわれてはおりません。

関さん：満洲人やモンゴル人は天然痘に対する抵抗力が弱く、中国に入ると罹患^{りかん}して命を落とすことも多かったそうです。康熙帝が皇帝に選ばれたのは、一度かかったけれども生き延びたので、もうかからないと考えられたからだ、ともいわれているそうです。

南さん：人類の歴史は、病気とどう戦い、どう共存していくかの歴史であったといえますね。



康熙帝の肖像(ブーヴェ『康熙帝伝』)

問 1 下線部分^(a)古代オリエントについて述べた文として適切なものを、次の①～④のうちから一つ選べ。解答番号は 。

- ① 諸子百家とよばれる思想家が活躍した。
- ② 仏教寺院のポロブドゥール寺院が建てられた。
- ③ 四つの身分からなるヴァルナ(種姓)が成立した。
- ④ 王(ファラオ)の権威を象徴するピラミッドが建造された。

問 2 に当てはまる文と、 に当てはまる人物との組合せとして正しいものを、次の①～④のうちから一つ選べ。解答番号は 。


	<input type="text" value="A"/>	<input type="text" value="B"/>
①	アフリカから黒人奴隷が移入される	ド = ゴール
②	アフリカから黒人奴隷が移入される	ルイ 14 世
③	華僑や印僑とよばれる労働移民が流入する	ド = ゴール
④	華僑や印僑とよばれる労働移民が流入する	ルイ 14 世

2 次の文章と図版に関連して、問1～問4に答えよ。

原田さんは港町の歴史について調べ、次のカード1・カード2を作成した。

カード1 博多

- 1世紀に後漢の皇帝 **A** が、倭の奴国に印綬を与えたことが『後漢書』東夷伝に記録されている。この印綬と考えられる金印が、1784年に博多湾にある志賀島で発見された。このことから、博多が古くから中国と交流していたことが推察できる。
- 遣隋使や遣唐使らは、博多から隋・唐や新羅^(a)へ向かって出発した。また東アジア各地からの使者や商人も博多を訪れ、博多は大陸文化の窓口となった。
- 12世紀には平氏政権が、博多を中継地の一つとして宋との貿易を進めたことによつて、交流は一層盛んになり、港やその周辺には中国人街が形成されるほどであった。^(b)



発見された金印

カード2 イスタンブル

- 紀元前7世紀、ギリシア人の一派によって植民市として建設され、ビザンティオンと名付けられた。天然の良港である金角湾を擁して栄えた。
- 4世紀になるとローマ帝国の都となった。遷都した皇帝の名にちなみ、**B** とよばれるようになった。^(c)
- 6世紀にはビザンツ帝国(東ローマ帝国)のユスティニアヌス帝によって、聖ソフィア聖堂が建立された。7世紀になるとビザンツ帝国は次第に勢力圏を縮小したが、その後も、**B** は東西交易ルートの要衝となった。
- 14世紀中頃、ペストが流行し、多くの死者が出た。**B** は交易が盛んな都市だったため、ペストはここから内陸部へ広がっていった。
- この都市がイスタンブルとよばれるようになったのは、後世のことである。



ユスティニアヌス帝

問 1 に当てはまる人物と、下線部分^(a)新羅に関する説明との組合せとして正しいものを、次の①～④のうちから一つ選べ。解答番号は 。

	<input type="text" value="A"/>	説 明
①	光武帝	ゲルマン人が建国した。
②	光武帝	百済を滅ぼした。
③	玄 宗	ゲルマン人が建国した。
④	玄 宗	百済を滅ぼした。

問 2 下線部分^(b)宋について、北宋のようすを述べた文として適切なものを、次の①～④のうちから一つ選べ。解答番号は 。

- ① ガンダーラ美術が生まれた。
- ② 「プラハの春」とよばれる民主化運動がおこった。
- ③ ワッハープ運動がおこった。
- ④ 王安石が改革を行った。

問 3 下線部分^(c)ローマ帝国に関する説明と、 に当てはまる語句との組合せとして正しいものを、次の①～④のうちから一つ選べ。解答番号は 。

	説 明	<input type="text" value="B"/>
①	マグナ＝カルタ(大憲章)が発布された。	コンスタンティノーブル
②	マグナ＝カルタ(大憲章)が発布された。	アムステルダム
③	五賢帝時代に最盛期を迎えた。	コンスタンティノーブル
④	五賢帝時代に最盛期を迎えた。	アムステルダム

問 4 下線部分^(d)7世紀になるとビザンツ帝国は次第に勢力圏を縮小したとあるが、その原因として考えられる事柄について述べた文として適切なものを、次の①～④のうちから一つ選べ。

解答番号は 。

- ① イスラーム勢力が進出した。
- ② ファシスト党が政権を獲得した。
- ③ ファシヨダ事件がおこった。
- ④ 二月革命がおこった。

3 1～2の文章と図版に関連して、問1～問5に答えよ。

1 生徒と先生が、図1～図3を見ながら、医学の歴史について会話している。

生徒： 医学の歴史を調べていたら、イスラーム世界における『イル＝ハーン外科術』という本を見つけました。図1の医者は何をしているのでしょうか。

先生： 医療道具を使って出血を止めているシーンです。図2は歯科用の医療道具ですが、他にも多くの医療道具が使われていました。近代医学が始まる前は、イスラーム世界の医学の方がヨーロッパよりも進んでいたのです。特に、イブン＝シーナーが11世紀に著した『医学典範』は、図3のようにラテン語に翻訳され、中世ヨーロッパの大学の教科書として尊重されていたのです。

生徒： そうなのですね。『医学典範』の表紙の左から2番目の人物は、古代ギリシアのヒポクラテスでしょうか。

先生： そうです。『医学典範』は古代ギリシアの影響を色濃く受けていたのです。

生徒： そういえば、ルネサンスも古代ギリシアの影響を受けていましたよね。興味が湧いてきたので、古代ギリシアの文化をもう一度学び直そうと思います。



図1 『イル＝ハーン外科術』の医療場面(15世紀)



図2 ザフラーウィー(1013年頃没)の著作に描かれた歯科用の医療道具



図3 ヴェネツィアで出版された『医学典範』ラテン語版の表紙(1608年)

問 1 下線部分(a)イスラーム世界の出来事について述べた次の(ア)~(ウ)を、古いものから順に正しく並べたものを、下の①~④のうちから一つ選べ。解答番号は 7。

- (ア) 青年トルコ革命がおこった。
- (イ) サファヴィー朝が、イスファハーンを都にした。
- (ウ) ハールーン=アッラシードの時代に、アッバース朝が最盛期を迎えた。

- ① (イ)→(ア)→(ウ)
- ② (イ)→(ウ)→(ア)
- ③ (ウ)→(ア)→(イ)
- ④ (ウ)→(イ)→(ア)

問 2 下線部分(b)ルネサンス期の作品を、次の①~④のうちから一つ選べ。解答番号は 8。



ピカソ「ゲルニカ」



ボッティチェリ「ヴィーナスの誕生」



ラスコーの洞穴絵画



ドラクロワ「民衆を導く自由の女神」

2 調理師を目指す栄さんと先生が、資料1・資料2を見ながら、料理やレシピの歴史について会話している。

先生： 興味のある料理の歴史を調べ、資料にまとめる宿題はしてきましたか。

栄さん： はい。ホットチョコレートの歴史を調べていたら、16世紀半ばのカカオ料理のことが書かれた、『メキシコ征服記』を見つけたので、一部を抜粋して資料1を作りました。

先生： この後、スペインにカカオ豆を持ち帰って、ホットチョコレートを作ったそうですが、最初の頃は苦く、あまり評判は良くなかったようです。資料2はサラダドレッシングのレシピですね。気になったことはありましたか。

栄さん： イギリスで書かれた1699年頃のレシピのようなのですが、コショウを混ぜているのが面白いなと思いました。

先生： すでに東南アジアとヨーロッパの間での交易が盛んでしたからね。コショウがレシピに登場していることから、そのようすをうかがい知ることができますね。レシピを読むと、その時代に、どの地域とどの地域が関係していたのかが分析できるので、面白いですね。

資料1 ホットチョコレートの歴史

モンテスマの食事が終わると、すぐに続いて警護の者やその他宮中で働く大勢の使用人達の食事が始まった。先に述べたような料理を盛った皿の数は1000を超え、メキシコ風に泡立てたカカオの壺も2000個以上あったように思う。

(バルナール＝ディアス＝デル＝カスティーリョ『メキシコ征服記』)

資料2 サラダドレッシングのレシピ

油はよく澄んだものを使い、あまりこってりしたものや、あまり黄色いものはよくない。…卵にオリーブ・オイル、酢、塩、コショウ、カラシを混ぜてつぶす。サラダを磁器の器…に入れ、ドレッシングが中身すべてに等しく行き渡るようにフォークとスプーンでかき混ぜる。

(ジョン＝イーヴリン『サラダ談義』)

問 3 下線部分^(c)メキシコの16世紀のようすについて述べた文として適切なものを、次の①～④のうちから一つ選べ。解答番号は 。

- ① オバマが、「核なき世界」を唱えた。
- ② 張騫が、西域に派遣された。
- ③ ナポレオン1世が、大陸封鎖令を出した。
- ④ コルテスが、アステカ王国を滅ぼした。

問 4 下線部分^(d)東南アジアとヨーロッパの間での交易について、交易の中心地の一つとしてマラッカ王国があった。次の資料3は、1405年からの鄭和の南海大遠征に同行した人物がマラッカ王国について記したものである。鄭和の南海大遠征を命じた明の皇帝と、資料3から読み取れる内容との組合せとして正しいものを、下の①～④のうちから一つ選べ。解答番号は 。

資料3

この国の王様も民もイスラーム教徒で、教えをかたく信じている。土地の物産は、^{おうれん}黄連^{こう}香、^{こくたん}烏木、^ダ打麻^{マル}児香、^{すず}錫などの類である。…各地に行く船舶がここに来ると、交易品を船に積み込み、5月中旬に航海を開始し中国に向かう。

	明の皇帝	資料3から読み取れる内容
①	永楽帝	マラッカ王国では、錫がとれた。
②	永楽帝	マラッカの国王は、イスラーム教を信仰していなかった。
③	フェリペ2世	マラッカ王国では、錫がとれた。
④	フェリペ2世	マラッカの国王は、イスラーム教を信仰していなかった。

問 5 下線部分^(e)磁器は宋や明で盛んに作られ、後にヨーロッパに輸出された。陶磁器の名産地である明の都市を、次の①～④のうちから一つ選べ。解答番号は 。

- ① 香港
- ② 上海
- ③ 景德鎮
- ④ 青島

4 1～2の文章と図版に関連して、問1～問6に答えよ。

1 アメリカ合衆国の捕鯨業は独立前から盛んであった。当初はニューイングランド地方の沿岸捕鯨だったが、やがて公海捕鯨に転じ、アメリカ合衆国の独立^(a)の頃より太平洋に進出した。19世紀半ば頃には700隻を超える漁船が操業していた。

当時の捕鯨業は常に危険が伴い、海難は跡を絶たなかった。1853年のペリー来航^(b)をきっかけに、日本とアメリカ合衆国の間で **A** 条約が結ばれ、下田と箱館の2港が開港されたが、アメリカ合衆国の動機の一つは、捕鯨船団のための寄港地を確保することにあった。しかしこの頃より、鯨油の需要が減退し、鯨資源の枯渇もあり、捕鯨業は急速に衰退することとなった。

19世紀初めアメリカ合衆国の捕鯨（画像）

19世紀初めのアメリカ合衆国の捕鯨

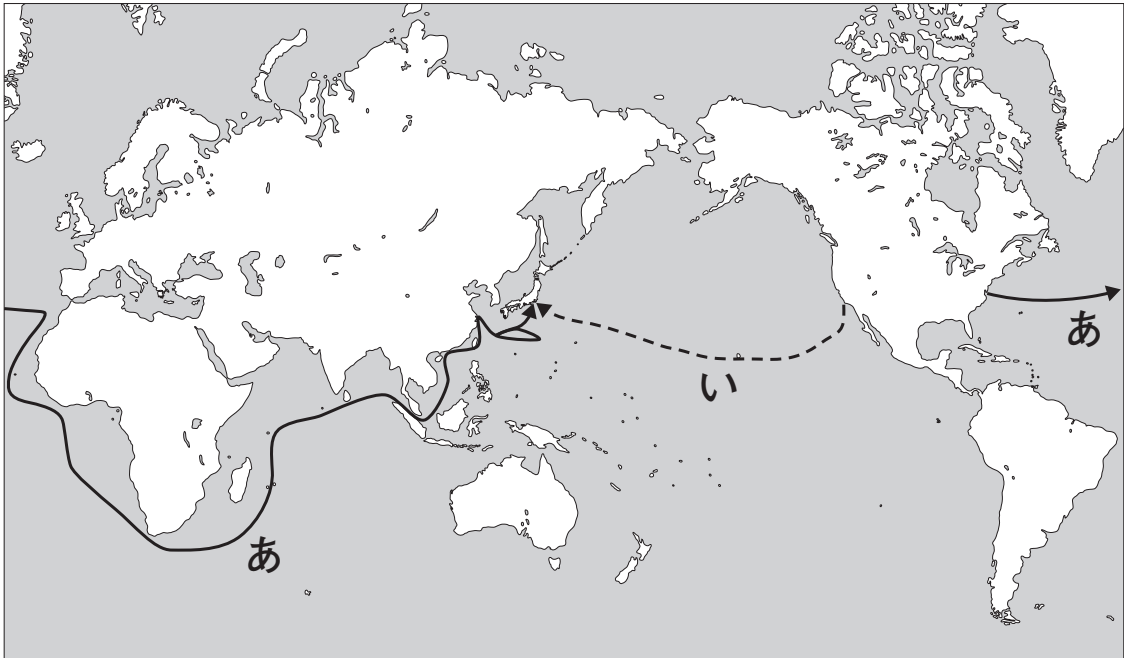
問1 下線部分アメリカ合衆国の独立^(a)に関連して、独立運動に関わる出来事について述べた文として適切なものを、次の①～④のうちから一つ選べ。解答番号は **12** 。

- ① 選挙権を求めるチャーティスト運動が展開された。
- ② 印紙法に対する反対運動がおこった。
- ③ サンフランシスコ会議で、国際連合憲章が採択された。
- ④ ファン＝ボーイ＝チャウが東遊(ドンズー)運動を組織した。

問 2 下線部分ペリー来航について、次の資料はペリー来航の記録の一部である。資料からわかる、ペリーが日本に向かった地図中のおよその航路と、A の条約名との組合せとして正しいものを、下の①～④のうちから一つ選べ。解答番号は 13。

資料

遅滞にしぶれをきらした提督は、これ以上僚艦を待つ気になれず、1852年11月24日、ミシシッピ号のみでノーフォークを出発し、石炭と食料の供給の便を考えて外回り航路を取り、マデイラ、喜望峰、モーリシャス、シンガポールを経由する計画で、日本への遣使の途についたのである。(宮崎壽子監訳『ペリー提督日本遠征記』より)



	航路	A
①	あ	日米和親
②	あ	天津
③	い	日米和親
④	い	天津

2 生徒と先生が、図1・図2を見ながら会話している。

先生： 図1はある施設内のようすを描いた絵です。どこにある施設だと思いますか。

生徒： 南国の植物に見えるものが多くあります。赤道付近の地域でしょうか。

先生： これはイギリスのロンドンのテムズ川右岸にある王立植物園(キューガーデン)の内部を描いたものです。18世紀半ばにつくられ、1840年に王立植物園となりました。

生徒： イギリスの植物とは思えません。

先生： はい。これらの多くはイギリスが進出した地域の植物を採取してきたものです。これらの植物を栽培するためにヴィクトリア女王の治世に建造されたのが図2のパームハウスです。

生徒： 巨大な施設ですね。植物はなんのためにロンドンで育てられたのでしょうか。

先生： これらの植物は王立植物園で品種改良され、再び植民地に移植されました。その後、天然ゴムやカカオなどが植民地のプランテーションで大量生産され、本国や欧米諸国へ輸出されていきました。植民地にされた地域の経済は、自給自足の経済から特定の種類の農産物を生産・輸出することに限定された経済に変化しました。このように、経済が特定の産物の生産・輸出に依存することを **B** といいます。

生徒： かつて欧米諸国の植民地だった東南アジアなどの地域は、現代でも特定の農産物の輸出が多い気がします。王立植物園からイギリスの世界進出が見えてきますね。



図1



図2

問 3 下線部分^(c)ロンドンのテムズ川に関連して、次の絵と文章は、1850年代に水質が悪化したテムズ川の様子を描いた風刺画と、当時のテムズ川についての説明文である。説明文中の **X** に入る語句と、1850年代のヨーロッパの様子との組合せとして正しいものを、下の①～④のうちから一つ選べ。解答番号は **14**。



首都ロンドンを流れるテムズ川は、中世以来人々の飲料水を提供してきた。1850年代のイギリスは18世紀半ばから始まった **X** を経て「世界の工場」として繁栄期にあったが、商工業の発展は都市への人口集中を招いた。テムズ川は、工場からの産業排水と人口増による生活排水によって汚染がひどくなった。

	X	1850年代のヨーロッパの様子
①	ニューデール	ナポレオン3世が、帝政を始めた。
②	ニューデール	カストロが、キューバ革命をおこした。
③	産業革命	ナポレオン3世が、帝政を始めた。
④	産業革命	カストロが、キューバ革命をおこした。

問 4 下線部分^(d)ヴィクトリア女王の時代の出来事について述べた文として適切なものを、次の①～④のうちから一つ選べ。解答番号は **15**。

- ① 黄巾の乱がおこった。
- ② 湾岸戦争がおこった。
- ③ ポーランド分割が行われた。
- ④ インド帝国が成立した。

問 5 **B** に当てはまる語句を、次の①～④のうちから一つ選べ。解答番号は **16**。

- ① バブル経済
- ② アパルトヘイト
- ③ モノカルチャー経済
- ④ 科学革命

問 6 下線部分東南アジアに関連して、東南アジア地域で植民地とならず独立を保ったタイの略地図中のおよその位置と、19世紀のタイのようすとの組合せとして正しいものを、下の①～④のうちから一つ選べ。解答番号は 17。



	位 置	19世紀のタイのようす
①	あ	近代化を目指したチュラロンコン王(ラーマ5世)が即位した。
②	あ	ミドハト＝パシャがアジア初の憲法を起草した。
③	い	近代化を目指したチュラロンコン王(ラーマ5世)が即位した。
④	い	ミドハト＝パシャがアジア初の憲法を起草した。

5 1～2の文章と図版に関連して、問1～問7に答えよ。

1 イギリス人のジョージ＝オーウェルは、1922年、父と同じくインドの官吏となった。しかし、植民地を蔑視する任務のあり方に疑問を持ち、帰国して貧しい生活^(a)をしながら、作家を志すようになった。そして、1929年に始まる **A** の下での貧民を描いた『パリ・ロンドン放浪記』を、1933年に発表した。

1936年、オーウェルはスペイン内戦^(b)に義勇兵として参加し、人民戦線とともに戦った。その経験を、帰国後の1938年に『カタロニア讃歌』として発表した。第二次世界大戦が始まると、ドイツの侵攻に備えるための義勇隊にも参加した。その後も、ソ連の支配^(c)を風刺した『動物農場』(1945年刊行)や、生活の隅々まで管理される未来社会を予想した『1984年』(1949年刊行)など、人間らしさを主題とする小説を発表した。



ジョージ＝オーウェル

問1 下線部分インド^(a)の1920年代のようすについて述べた文として適切なものを、次の①～④のうちから一つ選べ。解答番号は **18** 。

- ① スエズ運河が開通した。
- ② アラビア文字からローマ字への文字改革を行った。
- ③ 非暴力・不服従の抵抗運動が行われた。
- ④ 権利の章典を定めた。

問 2 は、ニューヨークのウォール街における株価の暴落を直接の原因として始まった出来事である。 に当てはまる語句を、次の①～④のうちから一つ選べ。

解答番号は 。

- ① タバコ＝ボイコット運動 ② 世界恐慌
③ 百年戦争 ④ 大躍進政策

問 3 下線部分^(b)スペイン内戦で、人民戦線と敵対する反乱軍を率いた軍人を、次の①～④のうちから一つ選べ。解答番号は 。

①




トウサン＝ルヴェルチュール

②



ナセル

③



ワット

④



フランコ

問 4 下線部分^(c)ソ連の 20 世紀前半のようすについて述べた文として適切なものを、次の①～④のうちから一つ選べ。解答番号は 。

- ① アクバルが、ジズヤを廃止した。
② ガリレイが、地動説を唱えた。
③ スターリンが、一国社会主義を唱えた。
④ ジョン＝ヘイが、中国の門戸開放を唱えた。

2 ドイツの版画家・彫刻家のケーテ＝コルヴィッツは、1890年代より貧しい人々の苦悩や怒りを題材とする作品を発表し、注目を集めた。世界政策を唱えて積極的に海外に進出しようとしていたドイツ皇帝 **B** から、賞の授与を拒否されることもあったが、名声は高まり、女性初のプロイセン芸術院会員となった。1914年、第一次世界大戦に従軍した息子が戦死すると、その悲しみを戦争と平和を題材とする作品で表現しようとした。また、第一次世界大戦後の^(d) 社会主義運動や平和運動にも関与した。

1933年に首相に就任したヒトラーは、政府に立法権を与える法律を制定するなどして、^(e) ドイツに独裁体制を築いた。こうした中で、ケーテ＝コルヴィッツは、反政府的な作家として迫害を受けるようになったが、屈することなく制作を続けた。1942年には第二次世界大戦に従軍した孫を亡くし、翌年には空襲で家や多くのデッサンを失った。1945年4月22日、ドイツ降伏の直前に世を去った。



ケーテ＝コルヴィッツ「母たち」(1922年)

問 5 **B** に当てはまる人物と, **B** の世界政策の一環で建設された鉄道との組合せとして正しいものを, 次の①～④のうちから一つ選べ。解答番号は **22** 。

	B	鉄 道
①	ヴィルヘルム 2 世	バグダード鉄道
②	ヴィルヘルム 2 世	大陸横断鉄道
③	カール大帝	バグダード鉄道
④	カール大帝	大陸横断鉄道

問 6 下線部分^(d)第一次世界大戦後の西アジアのようすについて述べた文として適切なものを, 次の①～④のうちから一つ選べ。解答番号は **23** 。

- ① ロベスピエールが, 恐怖政治を行った。
- ② ホー＝チ＝ミンが, ベトナム民主共和国の建国を宣言した。
- ③ 李成桂が, 朝鮮王朝を建てた。
- ④ レザー＝ハーンが, パフレヴィー朝を樹立した。

問 7 下線部分^(e)政府に立法権を与える法律である全権委任法(1933年制定)の条文を, 次の①～④のうちから一つ選べ。解答番号は **24** 。

- ①

第 1 条 国の法律は, 憲法の定める手続によるほか, 政府によっても制定され得る。…

第 2 条 政府が制定した国の法律は, 憲法と背反し得る。…
- ②

第 119 条 ドイツは海外領土に関わるすべての権益, 権利を放棄し, これらは主要連合国と協調国に与えられる。
- ③

第 1 条 人間は自由で権利において平等なものとして生まれ, かつ生き続ける。社会的区別は共同の利益にもとづいてのみ設けることができる。
- ④

余は…確信した。…新しい規程により, 農奴は, 然るべき時期に, 自由な農村住民としての完全な権利を受け取る。

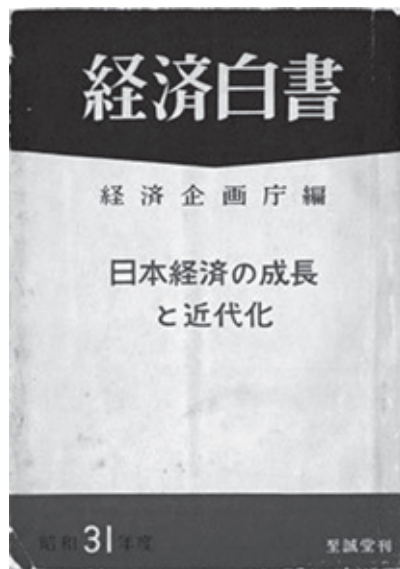
6 1～2の文章と図版に関連して、問1～問6に答えよ。

- 1 第二次世界大戦後の日本は、様々な困難に向き合いながら、復興と経済成長をはたしていった。資料1は、1956年度(昭和31年度)の『経済白書』の一部である。

資料1

戦後10年日本経済は目ざましい復興を遂げた。…国民所得は、戦前の五割増の水準に達し、一人当りにしても戦前の最高記録昭和14年の水準を超えた。工業生産も戦前の2倍に達し、軍需を含めた戦時中の水準をはるかに上回っている。…

ことに最近その実績が明らかにされた昭和30年度の経済発展にはまことにめざましいものがあつた。…世界第二位の輸出増加率を示した昨年(昭和29年)の日本経済の姿を、世界経済の奇蹟と称せられた西独^(a)経済の発展に比すべきものとして目をみはっている。…今回、発表した経済白書においては、復興過程を終えたわが国が、経済の成長を鈍化させないためには、如何なる方途に進まねばならぬかをその主題としている。…もはや「戦後」ではない。^(b)…回復を通じての成長は終わった。…世界^(c)の二つの体制の間の対立も、原子兵器の競争から平和的競争に移った。平和的競争とは、経済成長率の闘いであり、生産性向上のせり合いである。…



1956年度(昭和31年度)の『経済白書』の表紙

問 1 下線部分^(a)西独(西ドイツ)に関連して、1961年に建設が始まった建造物はドイツの東西分裂の象徴として知られている。資料2の証言を参考にして、建造物の名称と、その建造目的との組合せとして正しいものを、下の①～④のうちから一つ選べ。解答番号は 25。

資料2

体制に忠実な東ドイツの若い男は、国境警備兵として召集されたとき、自分の世界観が変わらざるをえないと納得した。彼はのちに語っている。

「私が壁の全体構造をみたのは、そのときがはじめてです。…私たちの側から実際には誰もむこうへ越えられないように、すべてが造られていました。…」

	建造物	建造目的
①	万里の長城	東ドイツの人々が西ドイツへ亡命することを防ぐ。
②	万里の長城	西ドイツの軍が東ドイツへ侵入することを防ぐ。
③	ベルリンの壁	東ドイツの人々が西ドイツへ亡命することを防ぐ。
④	ベルリンの壁	西ドイツの軍が東ドイツへ侵入することを防ぐ。

問 2 下線部分^(b)もはや「戦後」ではないに関連して、この言葉の根拠と考えられる経済的状況として資料1から読み取れることと、その経済的状況をもたらしたと考えられる背景との組合せとして正しいものを、次の①～④のうちから一つ選べ。解答番号は 26。

	資料1から読み取れる経済的状況	経済的状況をもたらしたと考えられる背景
①	工業生産が戦前の2倍に達している。	ユグノー戦争がおこった。
②	工業生産が戦前の2倍に達している。	朝鮮戦争がおこった。
③	戦費が戦前の2倍に達している。	ユグノー戦争がおこった。
④	戦費が戦前の2倍に達している。	朝鮮戦争がおこった。

問 3 下線部分^(c)世界の二つの体制の間の対立に関連して、この対立に関する国際的な動きについて述べた文として適切なものを、次の①～④のうちから一つ選べ。解答番号は 27。

- ① 北大西洋条約機構(NATO)が成立した。
- ② トリエント公会議が開催された。
- ③ ウェストファリア条約が結ばれた。
- ④ ウィーン会議が開催された。

2 資料3は、1989年度(平成元年度)の『経済白書』の一部である。

資料3

世界においても新しい動きがみられる。まず、アジアのNIEsやASEANの重層的発展である。対米輸出の急増によって急成長を遂げた韓国、台湾などに続いてASEAN諸国も目ざましい発展を示した。次いで、ヨーロッパでは、ECの1992年統合を目指して調整が続けられているが、企業もまたこれを契機に積極的な活動を展開し、設備投資ブームが生じている。さらに、ソ連では経済の停滞を打破するための **A** が推進されている。…ソ連の経済改革には種々の困難が予想される。…また、中南米など発展途上国の累積債務問題の解決にもさらに、先進国の協力が必要とされている。…



小渕恵三官房長官(当時)による元号発表

問4 下線部分ASEANの加盟国の歴史について述べた文として適切なものを、次の①～④のうちから一つ選べ。解答番号は **28**。

- ① フランスで、バステューユ牢獄の襲撃がおこった。
- ② インドネシアで、スハルトが開発独裁を行った。
- ③ オランダで、東インド会社が設立された。
- ④ イギリスで、クロムウェルが共和政を樹立した。

問5 **A** に当てはまる語句を、次の①～④のうちから一つ選べ。解答番号は **29**。

- ① ブロック経済
- ② タンジマート(恩恵改革)
- ③ 洋務運動
- ④ ペレストロイカ

問 6 下線部分中南米^(e)に関連して、次の略地図中の斜線部は、中南米のメキシコ、ペルー、チリを含む国際的な経済協力の組織に加盟する国々を表したものである。組織の名称を、下の①～④のうちから一つ選べ。解答番号は 30。



- | | |
|----------------------|----------|
| ① APEC(アジア太平洋経済協力会議) | ② 国際赤十字社 |
| ③ 第1インターナショナル | ④ ハンザ同盟 |

7 次の文章と図版に関連して、問1～問2に答えよ。

天気は人間の生活に大きく影響する。そのため、雲や風の動きから天気を経験的に予測することは、古来より行われてきた。現在では、天気の予測のために天気図が用いられている。天気図は、ドイツの気象学者ハインリヒ＝ブランドスによって構想されたが、その時は天気の予測に使うことは想定されていなかった。しかし、電信の発明により、が可能になったため、天気図を用いた天気の予測が可能になった。天気の変化に関する情報量は膨大であり、20世紀半ば以降には、その情報の処理のためにコンピューターが用いられるようになる。さらに、地球全体の天気に関する情報を収集するために、現在では人工衛星が利用されている。



ブランドスの著作のデータをもとに作成された天気図

問1 に当てはまる語句を、次の①～④のうちから一つ選べ。

解答番号は 。

- ① 物体を透過して見る事
- ② 瞬時に遠隔地の情報を得ること
- ③ 船の方位を測定し、長距離の航海を行うこと
- ④ 空を飛ぶことで、高速で長距離を移動すること

問 2 下線部分人工衛星について述べた次の(ア)・(イ)の正誤を判断し、その組合せとして正しいものを、下の①～④のうちから一つ選べ。解答番号は 。

(ア) 人工衛星の開発が成功した結果、原子爆弾が開発された。

(イ) 人工衛星の打ち上げに世界で最初に成功したのはソ連である。

① (ア)―正 (イ)―正

② (ア)―正 (イ)―誤

③ (ア)―誤 (イ)―正

④ (ア)―誤 (イ)―誤

(これで世界史 A の問題は終わりです。)