

令和3年度 世界史A・世界史B (50分)

注 意 事 項

- 1 試験開始の合図があるまで、この問題冊子の中を見てはいけない。
- 2 出題科目、ページ及び選択方法は、下表のとおりである。

出題科目	ページ	選 択 方 法
世界史A	1～28	左の2科目のうちから1科目を選択し、解答しなさい。
世界史B	29～56	

- 3 試験中に問題冊子の印刷不鮮明、ページの落丁・乱丁及び汚れ等に気付いた場合は、手を挙げて監督者に知らせること。
- 4 試験開始の合図前に、監督者の指示に従って、解答用紙の該当欄に以下の内容をそれぞれ正しく記入し、マークすること。

・①氏名欄

氏名を記入すること。

・②受験番号、③生年月日、④受験地欄

受験番号、生年月日を記入し、さらにマーク欄に受験番号(数字)、生年月日(年号・数字)、受験地をマークすること。

・⑤解答科目欄

解答する科目名を○で囲み、さらにその下のマーク欄にマークすること。

- 5 受験番号、生年月日、受験地が正しくマークされていない場合は、採点できないことがある。
- 6 解答科目が正しくマークされていない場合は採点できないので、必ず正しくマークすること。
- 7 解答は、解答用紙の解答欄にマークすること。例えば、

10

と表示のある解答番号に対して②と解答する場合は、次の(例)のように解答番号10の解答欄の②にマークすること。

(例)

解答番号	解 答 欄
10	① ② ③ ④

- 8 問題冊子の余白等は適宜利用してよいが、どのページも切り離してはいけない。
- 9 試験終了後、問題冊子は持ち帰ってよい。

世 界 史 A

(解答番号 ~)

1 次の文章と図版に関連して、問1～問2に答えよ。

大分県の立花さんは、修学旅行先の奈良について、大分との関わりを調べて授業で班発表することになった。次の会話は、作りかけのパネルを基に、班で模擬発表をしているところである。

立花さん： 東大寺は、1567年に松永久秀^{まつながひさひで}と三好三人衆の合戦の舞台となり、大仏殿が焼失しました。このとき撃ち込まれた火縄銃の銃弾が、資料1の南大門の金剛力士像から見つかっています。それは、現在のタイ、当時のシャムにあるソントー鉱山で採掘された鉛で作られていました。シャム産の鉛で作った鉛玉は、資料2のように、同じ時期の豊後府内^{ぶんご}(大分市)^{おおともそうりん}の大友宗麟時代の遺構からも出土しています。

高橋さん： 驚きました。シャムで採れた鉛が、全体の もの割合を占めていたのですね。

立花さん： 鉛は、銃弾への加工のほか、銀^(a)の精錬に用いられて、使用量が急速に伸びていました。しかし、わが国での外国産の鉛の使用は、1637年の島原・天草一揆(島原の乱)頃を最後に見られなくなっていきます。


高橋さん： シャム産の鉛は、当時どういう勢力の手を経て日本に輸入されていたのですか？

立花さん： それについては、資料3として使えそうな地図を探しているところです。

パネル

《東大寺と大分をつなぐ「タイの鉛」》 資料2 豊後府内遺構から出土した鉛玉の推定産地

資料1 鉛玉の見つかった金剛力士像



金剛力士像 (写真)

産 地	出土点数	割合(%)
日 本	8	36
朝鮮半島	2	9
中国南部	3	14
タ イ	5	23
不 明	4	18
合 計	22	100

資料3

(当時の日本にタイ産の鉛が輸入されていた経路の参考になる地図を入れる予定)

問 1 に当てはまる数値と、パネル中の資料 3 に入れるのに適切と考えられる地図との組合せとして正しいものを、次の①～④のうちから一つ選べ。解答番号は 。

	<input type="text" value="A"/>	資料 3 に入れるのに適切と考えられる地図
①	約 1 / 4	タイだけが独立を保っている状態を示す、東南アジアの地図
②	約 1 / 4	大航海時代のアジアにおけるポルトガルの拠点を示した地図
③	約 1 / 10	タイだけが独立を保っている状態を示す、東南アジアの地図
④	約 1 / 10	大航海時代のアジアにおけるポルトガルの拠点を示した地図

問 2 下線部分銀について述べた文として正しいものを、次の①～④のうちから一つ選べ。
解答番号は 。

- ① 通貨と同じ役割で用いられ、租調庸の納税品目にもなった。
- ② ドルとの交換は、アメリカ合衆国の大統領ニクソンによって停止された。
- ③ スペインがアメリカ大陸に植民地を領有すると、ヨーロッパに大量にもたらされた。
- ④ カリフォルニアで鉱山が発見されたことが、西部開発が進展するきっかけとなった。

2 次の文章と図版に関連して、問1～問4に答えよ。

古代社会において、動物と宗教は密接に結びついていた。メソポタミアには、かつてライオンが生息しており、その脅威から人々を守ることが王の使命とされていた。やがて、王は宗教的な儀式としてライオンを狩るようになり、そのようすは、図のようにアッシリア王によるライオン狩りのレリーフとしても残っている。その後ヨーロッパでは、ライオンは力の象徴として様々な王家の紋章に描かれるようになった。エジプトでは、牛やワニが聖獣として崇拝の対象となった。牛の姿で現れる神やワニの頭をした神が、豊穡をもたらす神として信仰されたためである。インドでは、宗教の影響を受けて殺生を禁止する風潮が広がっていった。マウリヤ朝では、娯楽として狩猟を行うことを禁じ、宗教的に善行を積むための施設として、動物たちを世話する動物保護施設を設けた。



©Trustees of the British Museum/amanaimages

図 アッシリア王のライオン狩りのレリーフ

問 1 下線部分^(a)アッシリア滅亡後にオリエント世界を統一したアケメネス朝について述べた文として適切なものを、次の①～④のうちから一つ選べ。解答番号は 。

- ① ダレイオス 1 世が、中央集権体制を整えた。
- ② マムルークを軍の主力に用いた。
- ③ 荘園に三圃制を導入した。
- ④ ミケランジェロが、「最後の審判」を描いた。

問 2 下線部分^(b)紋章に関連して、次の紋章は現在のスペインの国章である。この紋章についての下の説明文が述べている出来事として適切なものを、下の①～④のうちから一つ選べ。解答番号は 。



中央の盾で強調して描かれている図柄は、あ^(b)のライオンが「レオン王国」、い^(b)の城壁が「カスティーリャ王国」、う^(b)の縦のストライプが「アラゴン連合王国」、え^(b)の鎖が「ナバーラ王国」をそれぞれ表している。これらの四つの王国は、キリスト教の国々であり、中世においてイベリア半島のイスラーム勢力と戦った。

- ① プラハの春
- ② ペロポネソス戦争
- ③ レコンキスタ(国土回復運動)
- ④ 安史の乱

問 3 下線部分^(c)エジプトに関する出来事について述べた次の(ア)～(ウ)を、古いものから順に正しく並べたものを、下の①～④のうちから一つ選べ。解答番号は 5。

(ア) 東方遠征を行ったアレクサンドロス大王に支配された。

(イ) クフ王のピラミッドが建設された。

(ウ) ファーティマ朝の支配者が、カリフの称号を用いた。

① (ア)→(イ)→(ウ)

② (ア)→(ウ)→(イ)

③ (イ)→(ア)→(ウ)

④ (ウ)→(ア)→(イ)

問 4 下線部分^(d)宗教に関連して、インドで生まれ、中央アジアを経て中国や日本に伝わった宗教の名称と、その特徴の説明との組合せとして正しいものを、次の①～④のうちから一つ選べ。解答番号は 6。

	名 称	説 明
①	大乘仏教	善神と悪神の対立を信仰の基礎におく。
②	大乘仏教	すべての人々の救済のために修行する。
③	ゾロアスター教	善神と悪神の対立を信仰の基礎におく。
④	ゾロアスター教	すべての人々の救済のために修行する。

3 1～2の文章と図版に関連して、問1～問5に答えよ。

1 1661年、親政を始めたフランス王ルイ14世は公務に精力的に取り組んだ。7時に起床、午前中に政務、午後は狩猟や乗馬、夜は演劇、音楽会などをこなして、12時過ぎに就寝した。起床から就寝に至るまで、王の生活はことごとく儀式化され、王の権威を高めるために利用された。例えば、貴族のうちでも起床時及び就寝時の王に寝室で親しく謁見できるのは、特別の寵愛ちようあいを意味した。

フランスは、かつて絶対王政の典型とされてきた。ルイ14世や、18世紀(b)のルイ15世は、貴族や法によって左右されることなく、官僚制と常備軍を用いて国内の諸勢力を圧倒する絶対的な権力を行使したといわれる。しかし、近年では、実際には王権が直接に社会の末端にまで及ぶわけではなかったという見方も示されている。




ルイ14世

問 1 下線部分^(a)ルイ 14 世に関連して、ルイ 14 世の権力を示す建造物として適切なものを、次の①～④のうちから一つ選べ。解答番号は 。



アンコール=ワット



万里の長城



ヴェルサイユ宮殿



タージ=マハル

問 2 下線部分^(b)18 世紀の世界のようすについて述べた文として適切なものを、次の①～④のうちから一つ選べ。解答番号は 。

- ① プラッシーの戦いがおこった。
- ② ハンガリーで、反ソ暴動がおこった。
- ③ ゲルマン人の大移動が始まった。
- ④ 劉邦が、漢を建てた。

2 高校生の山本さんは、世界史上の君主について調べ、カード1・カード2を作成した。

カード1 洪武帝(在位 1368～98年)

本名は朱元璋として知られているが、実は最初の名がわからないほど貧しい農民の家に生まれ、幼くして寺に預けられた。その後、流浪の身となっていた時に農民反乱に参加し、反乱の指導者として頭角を現した。他の有力者をおさえて、皇帝に即位し、明を建国した。この頃、**A** の解体により、明をはじめ、アジア各地で新たな勢力が台頭していた。^(c) 洪武帝は、中国を支配していた遊牧勢力を北方へ追い払い、以後、皇帝独裁体制を強化していった。



洪武帝

カード2 ティムール(在位 1370～1405年)

ティムールとはトルコ系言語で「鉄」という意味を持つ。貴族の末裔^{まつえい}であったが、没落し、盗賊として青年時代を過ごした。**A** の解体が進む中で台頭し、西トルキスタンに王朝を建て、中央アジアからイラン・イラクに至る広大な地域に征服活動を展開し、1402年にはオスマン帝国を破った。その後、明遠征の途中、中央アジアで死去した。^(d)



ティムール

問 3 下線部分^(c)明代の中国のようすについて述べた文として適切なものを、次の①～④のうちから一つ選べ。解答番号は 。

- ① ヴァルナ制が形成された。
- ② 大躍進政策を行った。
- ③ 七月革命がおこった。
- ④ 足利義満と勘合貿易を行った。

問 4 に当てはまる国を、次の①～④のうちから一つ選べ。解答番号は 。

- ① モンゴル帝国
- ② フランク王国
- ③ インカ帝国
- ④ バビロニア王国

問 5 下線部分^(d)オスマン帝国について、オスマン帝国の君主とその治世の出来事との組合せとして正しいものを、次の①～④のうちから一つ選べ。解答番号は 。

	君 主	出来事
①	ティトー	3C 政策を進めた。
②	スレイマン 1 世	ウィーンを包囲した。
③	ティトー	ウィーンを包囲した。
④	スレイマン 1 世	3C 政策を進めた。

4 1～2の文章と図版に関連して、問1～問6に答えよ。

1 生徒と先生が、資料を見ながら会話している。

先生：『海外新聞』は、ジョセフ＝ヒコによって、初めて日本語で定期刊行された新聞です。

生徒：ジョセフ＝ヒコとはどんな人ですか。また、なぜ新聞を発行したのですか。

先生：ヒコは、幕末の漂流民で、アメリカ合衆国で教育を受けて市民権を取得し、開港直後の横浜にアメリカ領事館の通訳として帰国した人物です。外国の話聞かせてほしいと訪ねてくる人々の要望に応えようと、新聞発行を思いついたといわれています。

生徒：資料中の記事では、**A** 暗殺の場面が詳しく書かれていますが、新聞のニュース素材は、どのようにして手に入れたのですか。

先生：横浜に入港する船から外国新聞を入手し、^(a)翻訳すべき記事を選んで載せるという手法をとりました。なお、『海外新聞』は、2年余りで廃刊となりましたが、ヒコは **A** と握手を交わした唯一の日本人となりました。

生徒：ヒコは、アメリカ合衆国の民主主義を日本の人々に伝えたかったのですね。

資料 『海外新聞』(表紙と記事の一部)



(播磨町郷土資料館所蔵)

(注) 『海外新聞』は、創刊時は『新聞誌』と題したが、ほどなく改題された。

アメリカ国の部

4月6日、南北戦争ありて南部大いに敗北し、…同9日…ついに降伏なせしとかや。…同14日の夜、北部大頭領(大統領) **A** は、ワシントンの芝居を見物に行きしに、11時とおぼしきころ、たちまち一人の狼藉ものありて…、にわかにはげ敷にかけ上がり、大頭領のうしろより袖銃を以て一発に打倒し、…裏口よりにげ去りける。

問1 **A** に当てはまる人物と、その人物に最も関わりの深い言葉との組合せとして正しいものを、次の①～④のうちから一つ選べ。解答番号は **12**。

	A	言葉
①	リンカン	代表なくして課税なし
②	リンカン	人民の、人民による、人民のための政治
③	モンロー	代表なくして課税なし
④	モンロー	人民の、人民による、人民のための政治

問 2 下線部分翻訳すべき記事を選んで載せるとあるが、次の地図は、『海外新聞』に、当時のヨーロッパ諸国の情勢を伝える記事とともに掲載されたものである。生徒と先生の会話文や地図中の国名を参考にして、この地図が作成された時期を、下の表中の①～④のうちから一つ選べ。解答番号は 13 。



(播磨町郷土資料館所蔵)


(注) 一部の国名については、現在の一般的な表記を括弧内に記した。

- | | | |
|----------------|----|---|
| ローマ帝国が東西に分裂する。 | ↑↓ | ① |
| ビザンツ帝国が滅亡する。 | ↑↓ | ② |
| ピューリタン革命がおこる。 | ↑↓ | ③ |
| サライエヴォ事件がおこる。 | ↑↓ | ④ |
| 東西ドイツが統合する。 | | |

- 2 高校生の伊藤さんは、夏休みの自由研究で、ジョセフ＝ヒコの『海外新聞』にならって、次の『世界史新聞』を作成した。

世界史新聞 **パリ万国博覧会 連日大盛況** 1889年発行

パリで万国博覧会が開かれるのは、今回で4回目であるが、今年はフランス革命 100周年に当たる。そのため、今までにないスケールで開催され、入場者は万博史上最大の3000万人を超える勢いとなっている。



パリ万博のポスター

「19世紀の経済発展を祝う」^(c)を趣旨とするパリ万博で、最

大の呼び物となっているのが、エッフェルが設計した「300 mの塔」だ。このエッフェル塔には、大勢の人が押し寄せ、朝から長蛇の列ができています。

幻想的な照明の夜間公開

パリ万博では、博覧会として初めて、電灯を利用した夜間公開が実現し、噴水と照明の華やかなショーが繰り広げられている。先日は、白熱電球の発明者である **B** が会場を訪れ、これも自身の発明品である蓄音機をエッフェルにプレゼントした。



蓄音機の実演

エキゾチックな植民地パビリオン

諸外国のパビリオンの他に、ベトナムやジャワなどの植民地地域の展示も好評だ。伝統的な楽器演奏や舞踊が披露されている。



ジャワのダンス

問 3 下線部分**フランス革命**に関連して、次の絵画は、国民議会が行った「球戯場の誓い」を描いたものである。国民議会が、このとき目標としたものは何か、下の①～④のうちから一つ選べ。解答番号は 。




- | | |
|----------|-----------|
| ① 贖宥状の廃止 | ② 秘密外交の廃止 |
| ③ 律令の制定 | ④ 憲法の制定 |


問 4 下線部分**19世紀の経済発展**に関して述べた文として適切なものを、次の①～④のうちから一つ選べ。解答番号は 。

- ① 日本は、朱印船貿易を行った。
- ② イギリスは、世界の工場とよばれた。
- ③ アジア太平洋経済協力会議(APEC)が発足した。
- ④ 単一通貨ユーロが導入された。


問 5 B に当てはまる人物を、次の①～④のうちから一つ選べ。解答番号は 16。




ベートーヴェン



アダム＝スミス



アインシュタイン



エディソン

問 6 下線部分ジャワなどの植民地地域に関連して、次の資料は、西洋教育を受けたジャワの女性(d)が書いた書簡の一部である。書簡の中で女性が述べている内容と、ジャワを植民地支配していた国との組合せとして正しいものを、下の①～④のうちから一つ選べ。

解答番号は 17。

私は「近代的な女性」、…自立した女性と知り合いになりたいとずっと思っていました。…考えたり感じたりすることでは、私は東インドではなく、遠い西洋にいる進歩的な白人の姉妹たちとともに生きていると言ってもいいでしょう。

もし私の国の法律が許すならば、ヨーロッパの新しい女性たちの活動と闘いに身を投じる以上のことを望みますまい。でも、数世紀にわたる伝統が、その頑丈な腕で私たちを捕らえています。

カルティニの書簡(1899年5月25日)により作成

	内 容	植民地支配していた国
①	女性解放について述べている。	オランダ
②	女性解放について述べている。	ロシア
③	農奴解放について述べている。	オランダ
④	農奴解放について述べている。	ロシア

5 1～2の文章と図版に関連して、問1～問7に答えよ。

1 第一次世界大戦は連合国の勝利に終わり、民族自決や植民地問題の公正な解決などが提唱された。しかし、敗戦国であるドイツには、^(a)多額の賠償金の支払いが課された。

フランスは、ドイツに対し円滑な賠償金の支払いを求め、1923年に **A** を占領した。その後、ドイツの経済は混乱を極めた。このような状況の中でドイツの首相となったのが、**図1**のシュトレゼマンである。シュトレゼマンは、新紙幣の発行によって通貨を安定させるとともに、アメリカ合衆国の協力による賠償金支払いの緩和と資本導入に成功して、ドイツ経済の立て直しを図った。さらに、1925年には **B** を締結し、ヨーロッパの緊張緩和に貢献した。その結果、ドイツの^(b)国際連盟への加盟が実現した。



図1

問1 下線部分^(a)民族自決の実現を求めた出来事として適切なものを、次の①～④のうちから一つ選べ。解答番号は **18** 。

- ① 黄巾の乱
- ② 三・一独立運動
- ③ ラダイト運動(機械打ちこわし運動)
- ④ ボストン茶会事件

問 2 **A** に当てはまる語句と、その後のドイツの経済状況について述べた文との組合せとして正しいものを、次の①～④のうちから一つ選べ。解答番号は **19**。

	A	ドイツの経済状況
①	アフガニスタン	石油危機(オイル=ショック)がおこった。
②	アフガニスタン	激しいインフレーションが進んだ。
③	ルール	石油危機(オイル=ショック)がおこった。
④	ルール	激しいインフレーションが進んだ。

問 3 **B** に当てはまる語句として適切なものを、次の①～④のうちから一つ選べ。解答番号は **20**。

- ① パレスチナ暫定自治協定
- ② 下関条約
- ③ 日独伊防共協定
- ④ ロカルノ条約

問 4 下線部分**(b)**国際連盟について述べた文として適切なものを、次の①～④のうちから一つ選べ。解答番号は **21**。

- ① アメリカ合衆国は加盟しなかった。
- ② ウィーン体制の維持を目的とした。
- ③ 旧ソ連内の 11 の共和国で形成された。
- ④ 排他的なブロック経済圏をつくることを目的とした。

2 図2は、清の打倒を目指す革命的諸団体を結集し、1905年に日本の東京で中国同盟会を結成した人物である。この人物は、 を掲げ、組織的な革命運動を展開した。中華民国の建国後は、独裁を進める袁世凱との対立が深まり、再び日本への亡命を余儀なくされた。第一次世界大戦が終結し、反帝国主義運動が広がりを見せる中で、この人物は1919年に中国国民党を組織した。その後、1921年にコミンテルンの支援の下で中国共産党が上海で結成されると、ソ連と連携し、共産主義を容認し、労働者・農民を助けるという方針を掲げて、第1次国共合作を成立させた。この協力体制によって、帝国主義の打倒や民族的統一の達成などを目指していたが、1925年に病死した。



図2

問5 図2の人物名と、 に当てはまる文との組合せとして正しいものを、次の①～④のうちから一つ選べ。解答番号は 。

	図2の人物	<input type="text" value="C"/>
①	孫文	民族主義・民権主義・民生主義の三民主義
②	孫文	種は自然淘汰によって進化するという進化論
③	ネルー	民族主義・民権主義・民生主義の三民主義
④	ネルー	種は自然淘汰によって進化するという進化論

問 6 下線部分^(c)上海で 1920 年代におこった出来事を、次の①～④のうちから一つ選べ。

解答番号は 。

- ① アンボイナ事件
- ② 義和団事件
- ③ 五・三〇運動
- ④ ワッハーブ運動

問 7 下線部分^(d)ソ連で行われた政策について述べた文として適切なものを、次の①～④のうちか

ら一つ選べ。解答番号は 。

- ① 府兵制を実施した。
- ② 社会主義者鎮圧法を制定した。
- ③ 農業の集団化を行った。
- ④ 非ムスリムに課されていたジズヤを廃止した。

6 1～2の文章と図版に関連して、問1～問6に答えよ。

1 生徒と先生が、夏季オリンピックについて、資料1～資料3を見ながら会話している。

生徒：先生、資料1のXの時期に参加選手数が減少し、Yの時期は参加国・地域数も減少していることが気になります。

先生：1956年のメルボルン大会では、エジプト・レバノン・イラクが不参加を表明しました。これは同年に、**A** をきっかけに発生した第2次中東戦争への抗議の結果です。このようにオリンピックでは、政治的な事情で参加をボイコットする国や地域がありました。

生徒：Yの時期においても、ボイコットが発生したのでしょうか。

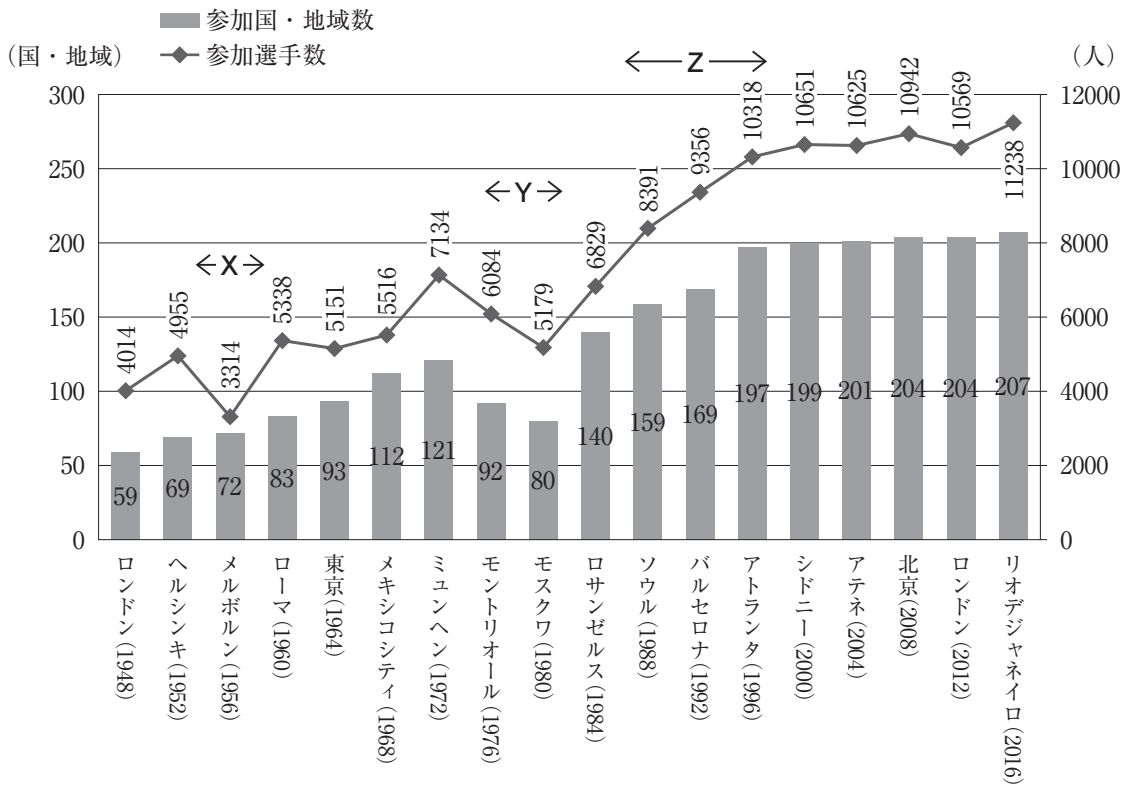
先生：それについては、資料2と資料3で考えてみましょう。新たにわかることはありますか。

生徒：モンテリオール大会では、アフリカの国が多くボイコットしていますが、これはなぜですか。

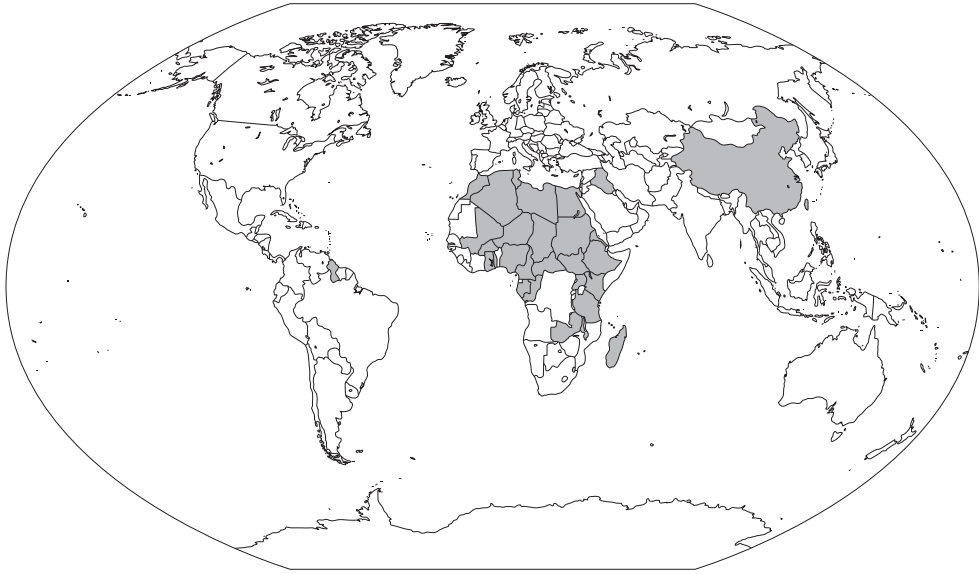
先生：それは、当時南アフリカで実施されていた**B** に対する抗議の結果でした。

生徒：一方モスクワ大会は、**C** がボイコットしているように見えます。この時期ならば東西冷戦が影響していると思うのですが、どうでしょうか。

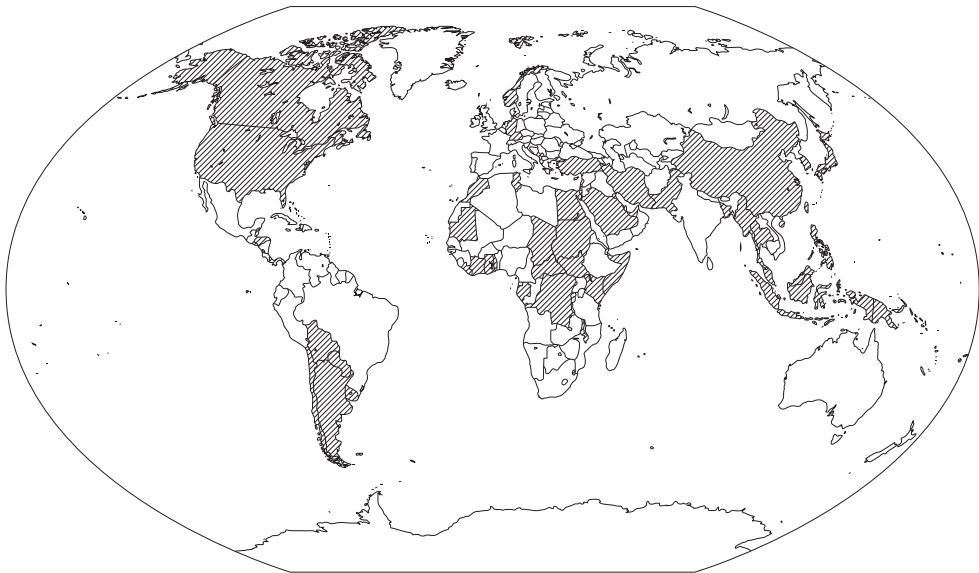
先生：概ねその通りです。ただし、例えばイギリスは同じ陣営ですが参加しました。また、中国は**C** ではないですが、開催国との関係が悪化してボイコットしました。



資料1 夏季オリンピックの参加国・地域数及び参加選手数の推移



資料2 モントリオール大会をボイコットした国・地域(網掛け部分)



資料3 モスクワ大会をボイコットした国・地域(斜線部分)

問1 に当てはまる語句として適切なものを、次の①～④のうちから一つ選べ。解答番号は 。

- ① シュレジエンの領有
- ② スエズ運河の国有化
- ③ ヨーロッパ連合(EU)の結成
- ④ 十四カ条の平和原則の発表

問 2 B と C に当てはまる語句の組合せとして正しいものを、次の①～④のうちから一つ選べ。解答番号は 26。

	B	C
①	アパルトヘイト	アメリカ合衆国を中心とする西側諸国
②	アパルトヘイト	ソ連を中心とする東側諸国
③	ニューディール	アメリカ合衆国を中心とする西側諸国
④	ニューディール	ソ連を中心とする東側諸国

問 3 下線部分^(a)東西冷戦に関連して、資料 1 の Z の時期において参加数が増加した理由の一つとして、東西冷戦の解消があげられる。東西冷戦の解消について述べた文として適切なものを、次の①～④のうちから一つ選べ。解答番号は 27。

- ① ムッソリーニが、「ローマ進軍」を行った。
- ② チャーチルが、「鉄のカーテン」演説を行った。
- ③ ワシントン海軍軍縮条約が締結された。
- ④ マルタ会談が開催された。

2 国際的な注目度の高いオリンピックでは、中立性を保つため、その憲章において、「いかなる種類の示威行為または、政治的、宗教的、人種的な宣伝活動も認められない」と定めている。しかし実際には、過去の大会において憲章に抵触する行為が行われることがあった。

1968年に開催され、中南米^(b)で初のオリンピック開催となったメキシコシティ大会では、陸上競技男子200メートルの表彰式において、金メダルと銅メダルを獲得したアフリカ系アメリカ人が、黒い手袋をして拳を突き上げた(図1)。「ブラックパワー・サリュート」とよばれる、人種差別に抗議するこの行為の背景には、当時アメリカ合衆国で活発になっていた、人種差別の解消を目指す運動^(c)があった。2016年のリオデジャネイロ大会では、男子マラソンで銀メダルを獲得したエチオピアの選手が、両腕を頭上で交差させる「手錠のポーズ」を取った(図2)。これは当時のエチオピアの、^(d)強権的な政権への抗議を意味していた。

このような行為には毎回、賛否両方の声があがっており、今後も議論されていくであろう。



図 1



(提供：読売新聞社)

図 2

問 4 下線部分**中南米**の1960年代のようすについて述べた文として適切なものを、次の①～④のうちから一つ選べ。解答番号は **28**。

- ① 名誉革命がおこった。
- ② 血の日曜日事件がおこった。
- ③ キューバ危機がおこった。
- ④ 満州事変がおこった。

問 5 下線部分**人種差別の解消を目指す運動**について、この運動の名称と、運動の中でおこった出来事との組合せとして適切なものを、次の①～④のうちから一つ選べ。

解答番号は **29**。

	名 称	出来事
①	チャーティスト運動	スパルタクスの反乱がおこった。
②	チャーティスト運動	キング牧師が、ワシントン大行進を主導した。
③	公民権運動	スパルタクスの反乱がおこった。
④	公民権運動	キング牧師が、ワシントン大行進を主導した。


問 6 下線部分**エチオピア**について、その地図上の位置と、1963年にこの国が中心となって設立、**アフリカ諸国の連帯・団結**を目指した組織の名称との組合せとして適切なものを、次の①～④のうちから一つ選べ。解答番号は **30**。



	位 置	組織の名称
①	あ	北大西洋条約機構(NATO)
②	あ	アフリカ統一機構(OAU)
③	い	北大西洋条約機構(NATO)
④	い	アフリカ統一機構(OAU)

7 次の文章と図版に関連して、問1～問2に答えよ。

イギリスの経済学者マルサス(1766～1834年)は、その主著『人口の原理(人口論)』(初版1798年)において、「人口は幾何級数的に増加するのに対し、食糧の増加は算術級数的にしか増加しない」と述べ、**A** ということを示し、不断の人口制限が必要であると主張した。マルサスは、食糧分配の不均衡から **B** が生じると考えていたためである。しかし、現在の観点から見ると、マルサスのこの予言は外れたといっただろう。それは、20世紀初頭に、科学的に窒素化合物を大量に作り出すことができるようになり、農作物に必要な養分を土壌に加えることが可能になったためである。しかし同時に、この窒素を合成する技術は、火薬の原料となる硝酸を大量に作ることを可能にした。そのため、この技術が開発された後の最初の大きな戦争となった第一次世界大戦は未曾有の被害を生むこととなった。
(a)



マルサス(左)と『人口の原理』初版の表紙(右)

問1 **A** に当てはまる文と **B** に当てはまる語句との組合せとして正しいものを、次の①～④のうちから一つ選べ。解答番号は **31** 。

	A	B
①	食糧増産の速度が人口増加の速度を上回る	貧困
②	食糧増産の速度が人口増加の速度を上回る	地球温暖化
③	人口増加の速度が食糧増産の速度を上回る	貧困
④	人口増加の速度が食糧増産の速度を上回る	地球温暖化

問 2 下線部分^(a)第一次世界大戦について述べた文として適切なものを、次の①～④のうちから一つ選べ。解答番号は 。

- ① ローマがカルタゴを破り、地中海の覇者となった。
- ② イギリスとフランスが戦い、イギリスは大陸の領地をほとんど喪失した。
- ③ 戦争終結の際の条約によって、ヨーロッパの主権国家体制が確立した。
- ④ 国家が国力を総動員して戦う総力戦となった。

(これで世界史 A の問題は終わりです。)