

令和3年度 政治・経済 (50分)

注 意 事 項

- 1 試験開始の合図があるまで、この問題冊子の中を見てはいけない。
- 2 この問題冊子は42ページである。
試験中に問題冊子の印刷不鮮明、ページの落丁・乱丁及び汚れ等に気付いた場合は、手を挙げて監督者に知らせること。
- 3 試験開始の合図前に、監督者の指示に従って、解答用紙の該当欄に以下の内容をそれぞれ正しく記入し、マークすること。
 - ・①氏名欄
氏名を記入すること。
 - ・②受験番号、③生年月日、④受験地欄
受験番号、生年月日を記入し、さらにマーク欄に受験番号(数字)、生年月日(年号・数字)、受験地をマークすること。
- 4 受験番号、生年月日、受験地が正しくマークされていない場合は、採点できないことがある。
- 5 解答は、解答用紙の解答欄にマークすること。例えば、

と表示のある解答番号に対して②と解答する場合は、次の(例)のように解答番号10の解答欄の②にマークすること。

(例)

解答番号	解 答 欄
10	① ② ③ ④

- 6 問題冊子の余白等は適宜利用してよいが、どのページも切り離してはいけない。
- 7 試験終了後、問題冊子は持ち帰ってよい。

注意事項は裏表紙に続きます。この問題冊子を裏返して必ず読むこと。

ただし、問題冊子を開かないこと。

政治・経済

(解答番号 ~)

【共通問題】

次の会話文を読んで、問1～問6に答えよ。

先生：日本国憲法と大日本帝国憲法を比較してみましょう。

生徒P：はい。共通点として、義務と権利があるということです。大日本帝国憲法では、人々の権利は とされ^(a)ていました。その権利は 認められるものでした。日本国憲法とはかなり違う性格だったようです。

先生：そうですね。その他、大日本帝国憲法は天皇に絶対的な権力があることが前提とされているなど、現在の日本国憲法とはさまざまな点で違いがありました。日本国憲法の基本原則の一つである平和主義について考えてみましょう。世界の平和を守っていくには、私たちはどのよう^(b)なことを知り、考える必要があると思いますか。

生徒Q：はい。私は、一人ひとりが人権に対する意識をもつ必要があると思います。傷つけあうのではなく、自分も相手も同じ人間だということを自覚することが大事であり、そのためには異文化理解も必要と考えます。そして、よりよい暮らしを求めて、世界中の人々が人類共通の課題に対して、持続可能な開発目標(SDGs)という理念のもとに協力していく必要があると思います。

先生：そうですね。知ることから始まり、行動に移せることもあります。まずは学ぶことが大切ですね。さて、今回は国内の政治について話し合います。国会について考えていきますので、教科書や資料を確認しておきましょう。みなさんの意見を聞くことができるのを楽しみにしています。

問 1 会話文中の **A** , **B** にあてはまるものの組合せとして適切なものを, 次の①～④のうちから一つ選べ。解答番号は **1** 。

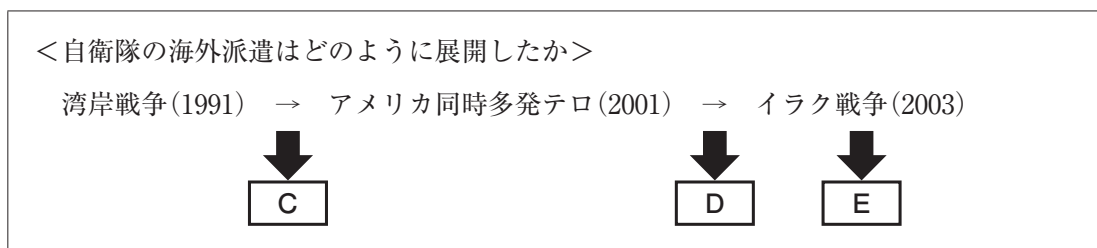
- | | |
|----------|-------------------|
| A | B |
| ① 基本的人権 | 法律の範囲内でのみ |
| ② 基本的人権 | 侵すことのできない永久の権利として |
| ③ 臣民の権利 | 法律の範囲内でのみ |
| ④ 臣民の権利 | 侵すことのできない永久の権利として |

問 2 下線部分^(a)義務について, 日本国憲法における国民の義務として適切でないものを, 次の①～④のうちから一つ選べ。解答番号は **2** 。

- ① 納税の義務
- ② 子女に普通教育を受けさせる義務
- ③ 投票の義務
- ④ 勤労の義務

問 3 下線部分^(b)平和主義に関連して, 次のノートは生徒がまとめたものである。ノート中の **C** , **D** , **E** にあてはまる語句の組合せとして適切なものを, 下の①～④のうちから一つ選べ。解答番号は **3** 。

ノート



- | | | |
|-----------|--------------|--------------|
| C | D | E |
| ① PKO 協力法 | イラク復興支援特別措置法 | テロ対策特別措置法 |
| ② PKO 協力法 | テロ対策特別措置法 | イラク復興支援特別措置法 |
| ③ 海賊対処法 | イラク復興支援特別措置法 | テロ対策特別措置法 |
| ④ 海賊対処法 | テロ対策特別措置法 | イラク復興支援特別措置法 |

問 4 下線部分^(c)人権に関連して、次の資料ア、資料イ、資料ウ、資料エは近代国家が形成されていく上で重要な役割を果たした宣言や法規である。このうち、ワイマール憲法の条文として適切なものを、下の①～④のうちから一つ選べ。解答番号は 4。

資料ア

第 2 条 あらゆる政治的団結の目的は、人の消滅することのない自然権を保全することである。これらの権利は、自由、所有権、安全および圧制への抵抗である。
第 16 条 権利の保障が確保されず、権力の分立が規定されないすべての社会は、憲法をもつものでない。

資料イ

第 151 条 (1) 経済生活の秩序は、すべての者に人間たるに値する生存を保障する目的をもつ正義の原則に適合しなければならない。
第 153 条 (1) 所有権は、憲法によって保障される。
第 153 条 (3) 所有権は、義務を伴う。

資料ウ

我々は、自明の真理として、すべての人は平等に造られ、造物主によって、一定の奪いがたい天賦の権利を賦与され、そのなかに生命、自由、および幸福の追求の含まれることを信ずる。

資料エ

第 12 条 いっさいの楯金もしくは援助金は、朕の王国の一般評議会によるのでなければ、朕の王国においてこれを課しない。
第 39 条 自由人はその同輩の合法的裁判によるか、または国法によるのでなければ、逮捕、監禁、差押、法外放置、もしくは追放をうけまたはその他の方法によって侵害されることはない。

(資料ア、資料イ、資料ウ、資料エともに『人権宣言集』岩波書店により作成)

① 資料ア

② 資料イ

③ 資料ウ

④ 資料エ

問 5 下線部分^(d)行動に関連して、次の会話文中の **F** , **G** にあてはまる語句の組合せとして適切なものを、下の①～④のうちから一つ選べ。解答番号は **5** 。

生徒X：最近、ゴミのポイ捨てが増えているよね。どうしたらもっと人々がゴミのポイ捨てをしないようになるかな。

生徒Y：そうだね、環境保全に対しての人々の意識を高めるために、ポイ捨て禁止条例の制定を求める署名を集めたらどうでしょう。この町の有権者の **F** 以上集める必要があるよね。みんなに呼びかけてみようよ。

生徒X：そうか。良いアイデアだね。署名が集まったら、**G** に提出することになっているよね。これで少しでも町がきれいになるといいな。

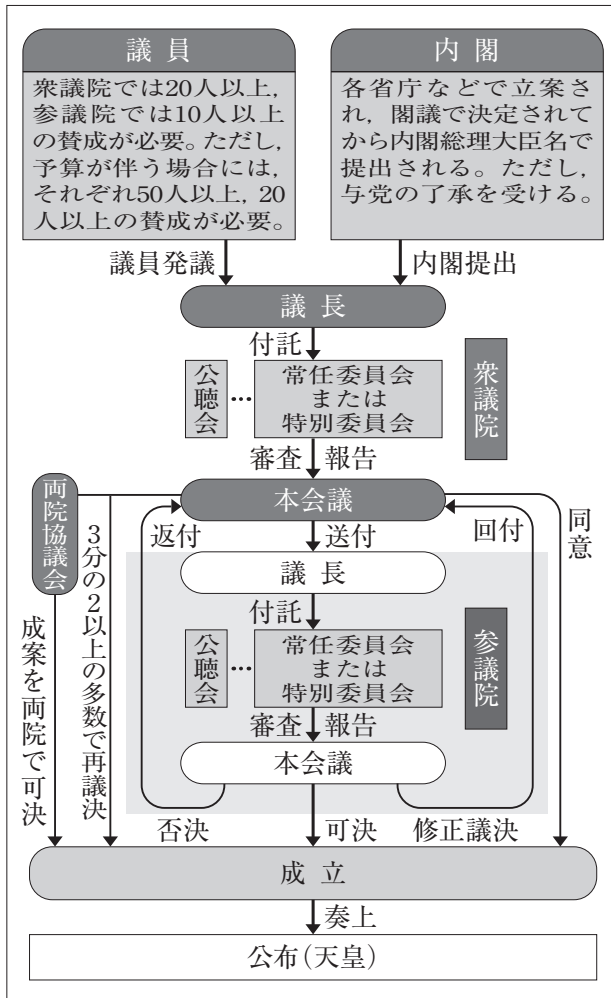
F**G**

- | | |
|----------|---------|
| ① 100分の1 | 選挙管理委員会 |
| ② 100分の1 | 首長 |
| ③ 50分の1 | 首長 |
| ④ 50分の1 | 選挙管理委員会 |

問 6 下線部分^(e)国会について、次の図は国会がある事柄を決定する際の過程を表している。この図が表している事柄として適切なものを、下の①～④のうちから一つ選べ。

解答番号は 6。

図



注：図は衆議院から審議を行っているが、衆議院・参議院どちらから審議を始めてもよい。

(参議院ホームページにより作成)

- ① 法律の制定
- ② 予算の議決
- ③ 内閣総理大臣の指名
- ④ 条約の承認

【共通問題】

2 次の文章を読んで、問1～問5に答えよ。

国民は通常、^(a)国家の保護のもとで生活している。しかし、国家が生命と安全と生活を保障できない状況になったとき、国際的支援が重要となってくる。

国際機関による^(b)難民に対する支援は、主に国連難民高等弁務官事務所 (UNHCR) が担っている。1991年、UNHCRのトップである国連難民高等弁務官に緒方貞子氏が就任した。1990年代は冷戦が終結したものの、民族、宗教などに起因する地域的な紛争が増えた時期であった。例えば、「六つの共和国、五つの民族、四つの言語、三つの宗教、二つの文字、一つの国家」と言われた旧ユーゴスラヴィア連邦は、この時期に各共和国が独立を宣言し、^(c)民族対立が激化した。

特にボスニア・ヘルツェゴビナが独立を宣言すると、独立派のムスリム系、クロアチア系、独立反対派のセルビア系の三民族間の武力衝突へと発展した。緒方氏ら UNHCR は大規模な空輸で、戦闘で孤立した地域へ生活物資を供給したり、人道危機にある人々の脱出を助けたりした。人々を避難させることは、難民を増加させるというジレンマを内包していたが、人々の安全を確保しようとしたのである。1995年になると和平交渉が始まり、死者20万人、難民・避難民200万人と言われる紛争は終結した。紛争終結後に UNHCR は、難民の帰還を段階的に実施するとともに、各民族の共生を実現させるプロジェクトに取り組み、住民の帰還を歓迎する宣言をした自治体を手厚く支援するなどした。

緒方氏が活動した時期に、UNHCRの支援対象は国境の外に出た難民だけではなく、国境を越えない国内避難民や、戦禍に巻き込まれた一般市民にまで拡大するようになった。その後も支援対象者数は増加しており、2019年には約8,000万人となり、過去10年で2倍以上に増加した。難民問題の解決に対して^(d)国際連合をはじめとする国際機関が果たすべき役割は大きい。同時に、私たち一人ひとりが^(e)国際社会の一員として、国際平和を実現させるためにできることを考えていくことも重要である。

問 1 下線部分^(a)国家に関連して、国家と国際社会の関係について述べたものとして適切なものを、次の①～④のうちから一つ選べ。解答番号は 。

- ① 国際連合総会は、すべての加盟国の主権平等の原則に基礎をおいている。
- ② 国際連合総会で採択された条約は、締約国以外も守らなければならない。
- ③ 国家だけでなく個人も、国際司法裁判所で当事者となることがある。
- ④ 領域は国家の三要素の一つで、このうち領海は基線から 200 海里までの海域である。

問 2 下線部分^(b)難民について述べたものとして適切なものを、次の①～④のうちから一つ選べ。解答番号は 。

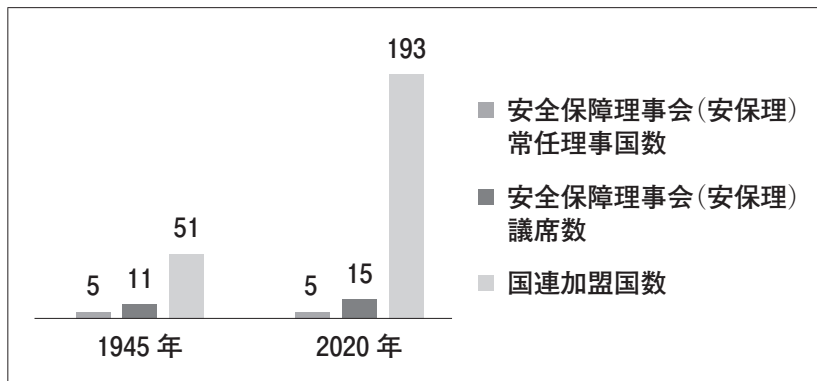
- ① 日本は難民条約を批准しておらず、難民を受け入れていないため、国際社会から条約批准を求められている。
- ② 難民条約は、より良い生活を求めて自発的に国を離れた経済難民も対象として、受け入れを求めている。
- ③ 日本は難民条約を批准していないが、人道的な考え方から超法規的措置で一定数の難民を受け入れている。
- ④ 難民条約は、難民を保護する国に対して、自国民と変わらない待遇をすることを求めている。

問 3 下線部分^(c)民族対立に関連して、民族問題について述べたものとして適切なものを、次の①～④のうちから一つ選べ。解答番号は 。

- ① スーダンでは、ツチ族とフツ族が対立する内戦によって大量虐殺が発生した。
- ② カシミール地方では、カトリックとプロテスタントの対立による紛争がおこっている。
- ③ ロシアでは、イスラム系ウイグル族の独立を求める動きがある。
- ④ 中東地方では、イスラエルとアラブ系パレスチナ人が対立している。

問 4 下線部分^(d)国際連合に関連して、次の資料 1、資料 2 から読みとれるものとして適切なものを、下の①～④のうちから一つ選べ。解答番号は 10。

資料 1 国際連合加盟国等の推移



資料 2 地域別国際連合加盟国数・安保理の非常任理事国と常任理事国数(2020年現在)

	アフリカ	東欧	アジア	西欧	中南米
地域別国際連合加盟国数	54	23	54	29	33
非常任理事国数	3	1	2	2	2
常任理事国数	0	1	1	3	0

注 1：キリバスは地域グループに含めていない。

注 2：西欧には、アメリカ、カナダが含まれる。

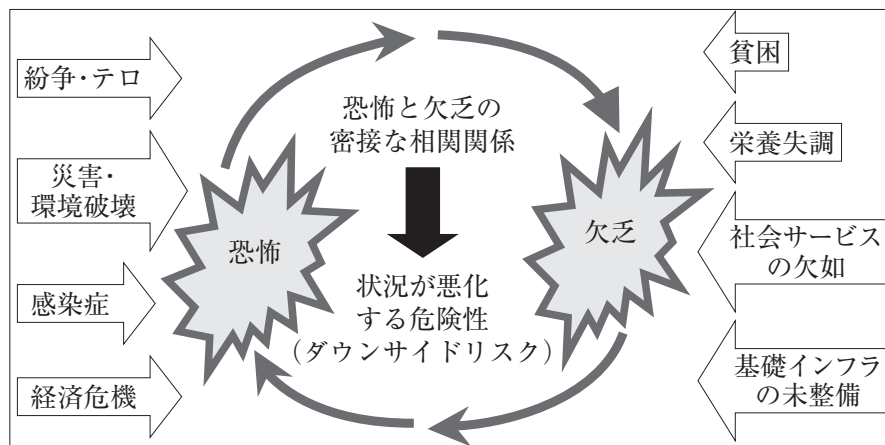
(資料 1、資料 2 ともに外務省ホームページにより作成)

- ① 2020年の国際連合加盟国数は、1945年に比べて3倍以上に増加したが、安全保障理事会議席数は増加していない。
- ② アフリカ地域の国際連合加盟国数は、2020年には加盟国の約4分の1を占めるまでになったが、安全保障理事会の常任理事国はない。
- ③ アジア地域の国際連合加盟国数は、2020年には加盟国の約4分の1を占めるまでになったが、安全保障理事会の常任理事国は2か国しかない。
- ④ 2020年の中南米地域は、西欧地域よりも国際連合加盟国数が多いが、安全保障理事会の常任理事国、非常任理事国いずれも存在しない。

問 5 下線部分^(e)国際平和に関連して、次の資料を読み、下の会話文中の **A** , **B** にはあてはまる語句の組合せとして適切なものを、下の①～④のうちから一つ選べ。

解答番号は **11** 。

資料



(独立行政法人国際協力機構ホームページにより作成)

生徒X：この資料を見ていて、1941年にフランクリン・ローズベルト大統領が提唱した4つの自由を思い出したよ。

生徒Y：「言論と表現の自由」、「信仰の自由」、「恐怖からの自由」、「欠乏からの自由」だよ。たしかに「恐怖」と「欠乏」が出てくるね。

生徒X：資料には「恐怖」と「欠乏」は相関関係があって、さらに状況を悪化させる危険性があることが書いてあるよ。このような負の連鎖から、一人ひとりの生命や生活を守ろうとするのが、国連開発計画(UNDP)が提唱した **A** という概念らしいよ。

生徒Y：たしかに、テロが起きると安心して経済活動ができなくなって、貧困状態になるかもしれないし、貧困状態では追い詰められた人がテロを起こすかもしれないね。

生徒X：アメリカ同時多発テロのあとに欧米諸国が **B** を増やしたのは、テロとの戦いには貧困問題の解決が必要だと考えたかららしいよ。

生徒Y：「恐怖」と「欠乏」をなくして平和な世界を実現するために、私も募金やボランティアで協力しようかな。

A

B

- | | |
|-----------|-------------|
| ① 集団的自衛権 | 政府開発援助(ODA) |
| ② 集団的自衛権 | 合併・買収(M&A) |
| ③ 人間の安全保障 | 政府開発援助(ODA) |
| ④ 人間の安全保障 | 合併・買収(M&A) |

【共通問題】

3 次の文章を読んで、問1～問6に答えよ。

現代の社会において、利便性をとるか、環境への負荷を考慮するか、これは永遠のテーマである。近年では、大量に廃棄されるプラスチックごみの問題がある。なかでも、「海洋プラスチック」の問題が話題になっている。^(a) 便利なプラスチック製品、しかしそれらは、環境にどのような影響を与えているのだろうか。

プラスチックのストローを鼻につまらせて苦しむウミガメの映像が報道されたこともあったが、世界では年間約800万トンものプラスチックが、ごみとして海に流れ込んでいる。このペースで海のプラスチックが増えていくと、2050年には、海にいる魚の重量よりプラスチックの方が重くなると言われている。

プラスチックがこれほど大量生産されるようになったのは、この半世紀のことである。それは、プラスチックが軽くて変質しにくいこと、原料が石油で簡単に量産できて、安く製造できることなどによる。例えば食品の保存を例にとっても、^(b) プラスチック製品に分類されるラップを使用し、プラスチックの保存容器に食品を入れて長期保存をする。また、持ち運ぶ際にプラスチック製レジ袋を使用する。^(c) 消費者にとって、これらのプラスチック製品は非常に便利であり、衛生的で、現代の生活になくてはならないものになっている。

それらを踏まえた上で、利便性と環境への負荷という二つのバランスをどのようにとればよいのだろうか。当然一人ひとりの意識も重要であるが、^(d) 国全体そして国際的な問題であると捉えることもできる。場合によっては、税金を投じてでも解決しなければならない問題であるかもしれない。^(e)

近年、日本ではスーパーやコンビニをはじめとする小売店で、消費者がプラスチック製レジ袋を利用する場合にお金を払うことが日常的になってきている。^(f) 国際的には、バーゼル条約という有害廃棄物の輸出入を規制する条約で、汚れたプラスチックごみの輸出入が制限されることになった。このように、プラスチックを取り巻く環境は変化してきている。直近の利便的・経済的な視点を重視するか、次世代にも続く環境という視点を重視するのか、各国、そして個人の選択が問われている。

問 1 下線部分^(a)大量に廃棄されるプラスチックごみに関連して、次の文章中の **A** にあてはまるものとして適切なものを、下の①～④のうちから一つ選べ。解答番号は **12**。

資本主義経済においては、市場メカニズムが重要な役割を果たしている。しかし、市場メカニズムの原理が有効に働かないときもある。これを市場の失敗と呼んでいる。

市場の失敗にはさまざまなケースがあり、特に、経済主体の行動が、市場を通さずに他の経済主体にマイナスの影響を及ぼすケースを外部不経済と呼ぶ。外部不経済の例としては、**A** などが挙げられる。

- ① 携帯電話を購入するため、街に一つしかない店を訪れ、デザインや性能が気に入らなかったが、ほかに店がないので購入を決めること
- ② 自動車を購入するため、中古自動車店を訪れ、気に入ったデザインの自動車があり購入したが、実は故障が多い自動車であったこと
- ③ 新しく家を建てて、そこで生活をしていたところ、家の近くに新しい駅ができ、利便性が大きく向上するとともに地価が上昇すること
- ④ ある川の上流で稼働している工場から出た排水によって、川が汚染され、下流及び海の水産資源に重大な被害が生じること

問 2 下線部分^(b)石油に関連して、第一次石油危機が日本経済にもたらした影響について述べた文として適切なものを、次の①～④のうちから一つ選べ。解答番号は **13**。

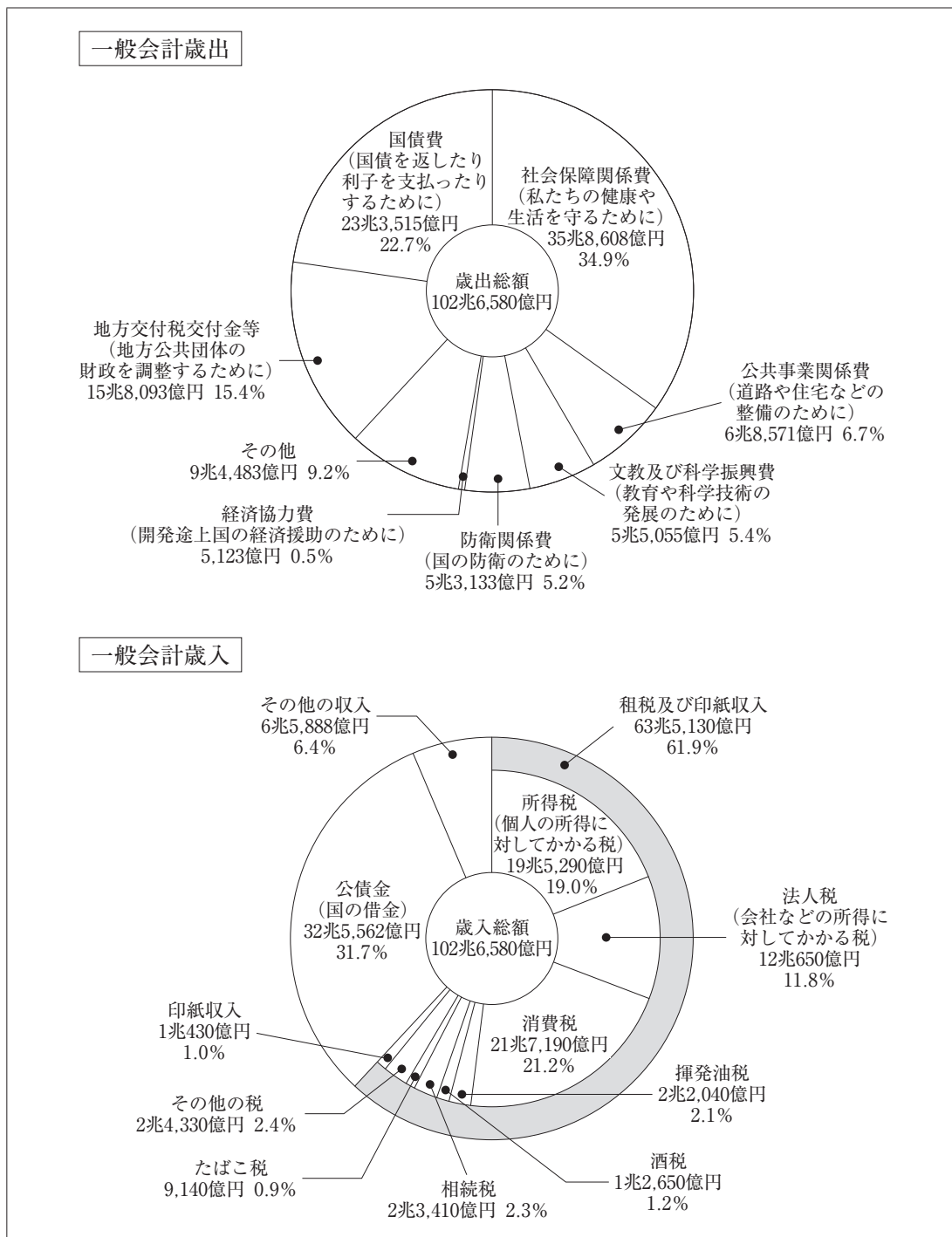
- ① 池田勇人首相が、所得倍増計画を打ち出し、その後国民総生産(GNP)が西ドイツ(当時)を抜き西側諸国で第2位となった。
- ② 狂乱物価と呼ばれるほどの物価の高騰が発生し、実質経済成長率が戦後初のマイナスとなった。
- ③ 原油価格の高騰により、原材料や素材関連製品の価格上昇などが起こり、経済が停滞する中でも物価が上昇するデフレスパイラルという現象がみられた。
- ④ プラザ合意による円高で輸出産業が落ち込んだため、内需拡大に向けて消費税が5%から3%に引き下げられた。

問 3 下線部分^(c)消費者に関連して、日本の消費者行政についての説明として適切なものを、次の①～④のうちから一つ選べ。解答番号は 。

- ① 訪問販売や割賦^{かつぶ}販売などで購入した商品を、一定期間有料で契約の解除ができる制度をクーリング・オフという。
- ② 消費者保護基本法に代わり、消費者の権利の尊重及びその自立の支援を重視する消費者基本法が制定された。
- ③ 悪質な契約の取り消しを企業側に認めた消費者契約法が制定され、企業に不利益を与える条項を無効にすることができるようになった。
- ④ 消費者行政を一元化するため、各地の消費生活センターを廃止し、その代わりに消費者庁を発足させた。

問 4 下線部分国に関連して、次の資料と次のページの説明文は日本の歳出・歳入に関するものである。説明文中の **B** , **C** にあてはまる語句の組合せとして適切なものを、次のページの①～④のうちから一つ選べ。解答番号は **15** 。

資料 令和2年度一般会計当初予算 歳出・歳入の内訳



(国税庁ホームページにより作成)

説明文

社会保障や公共事業をはじめさまざまな行政サービスを提供するための経費を、まかな 税収等で賄っているかどうかを示す指標として、**B** がある。**B** は、「歳出総額から国債費を除いた額」と「歳入総額から公債金を除いた額」を比較するものであり、財政の健全性を判断する指標となる。

令和2年度一般会計当初予算では、この **B** は、**C** である。

B

- ① プライマリーバランス
- ② プライマリーバランス
- ③ ビルト・イン・スタビライザー
- ④ ビルト・イン・スタビライザー

C

- 赤字
- 黒字
- 赤字
- 黒字

問 5 下線部分^(e)税金に関連して、次の資料 1、資料 2 を読み、課税所得 630 万円の場合に課される所得税額として適切なものを、下の①～④のうちから一つ選べ。解答番号は 16。

資料 1

所得税は高所得者ほど高い税率を適用する累進課税となっている。実際の日本の所得税率(2020年8月現在)は、課税所得 195 万円以下で最低税率の 5%、4,000 万円超で最高税率の 45% となっている。所得税を計算する際は、超過累進課税であり、資料 2 のように各課税所得を数段階に区分し段階ごとに累進する税率を適用、それらを合計して税額とすることに注意が必要である。

例：課税所得 330 万円の場合

$$195 \text{ 万円} \times 0.05 = 9 \text{ 万 } 7,500 \text{ 円}$$

$$135 \text{ 万円} \times 0.1 = 13 \text{ 万 } 5,000 \text{ 円}$$

$$9 \text{ 万 } 7,500 \text{ 円} + 13 \text{ 万 } 5,000 \text{ 円} = 23 \text{ 万 } 2,500 \text{ 円}$$

資料 2

所得税の累進税率		
課税所得		税率
195 万円以下		5 %
195 万円を超え	330 万円以下	10 %
330 万円を超え	695 万円以下	20 %
695 万円を超え	900 万円以下	23 %
900 万円を超え	1,800 万円以下	33 %
1,800 万円を超え	4,000 万円以下	40 %
4,000 万円超		45 %

- ① 60 万 2,500 円
- ② 83 万 2,500 円
- ③ 103 万 2,500 円
- ④ 130 万 2,500 円

問 6 下線部分^(f)お金に関連して、貨幣の機能について述べた文として適切でないものを、次の①～④のうちから一つ選べ。解答番号は 。

- ① 貨幣は貯蔵することで、価値を蓄えておくことができる。
- ② 貨幣は財やサービスの売り買いの際、支払い手段として用いられる。
- ③ 貨幣は株式などの有価証券より流動性が低いものである。
- ④ 貨幣は財やサービスの価値を測ることができる。

【共通問題】

4 次の資料を読んで、問1～問5に答えよ。

資料

新型コロナウイルスが世界中に拡散し、各国が厳しい渡航制限をかけ、国境を越えた人の移動が一気に止まった。また医療用マスクなどが世界で争奪戦となり、主要な生産国である中国は「マスク外交」を展開し、アメリカや欧州連合(EU)ではマスクの輸出を禁ずる規則を実施した。こうした動きはグローバル化^(a)の終わりを意味すると主張する議論も増えてきた。グローバル化^(b)は表面的にはヒト、モノ、カネ、情報の国境を越えた自由移動が盛んになる現象を指す。ただ、太古の昔から民族は移動し、貿易は行われてきた。それが1980年代頃から「グローバル化」と呼ばれるようになったのは、その量が急激に増加したこともあるが、世界の構造が大きく変わったからでもある。

最大の転換点は1971年の A^(c)、いわゆるニクソン・ショックである。そして数年後には、為替相場の仕組みが B^(d)に移り、カネの移動の規制が解除された。ここから生産コストの安い外国に工場を作って製品を生産し、自国に輸入するようになった。この過程を容易にするために自由貿易協定(FTA)が結ばれ、モノの移動が促進された。さらにカネとモノが動くのに合わせてヒトが動くようになり、航空規制緩和で競争が導入され、海外旅行や出張が容易になった。さらに高い賃金を求めて移民が流入するようになった。果たして、新型コロナによって、こうしたグローバル化は止まるだろうか。

(読売新聞オンライン 令和2年5月25日より作成)

問1 資料中の A^(c)、B^(d)にあてはまる語句の組合せとして適切なものを、次の①～④のうちから一つ選べ。解答番号は 18。

- | A | B |
|------------|--------------|
| ① 金＝ドル交換停止 | 固定相場制から変動相場制 |
| ② 金＝ドル交換開始 | 固定相場制から変動相場制 |
| ③ 金＝ドル交換停止 | 変動相場制から固定相場制 |
| ④ 金＝ドル交換開始 | 変動相場制から固定相場制 |

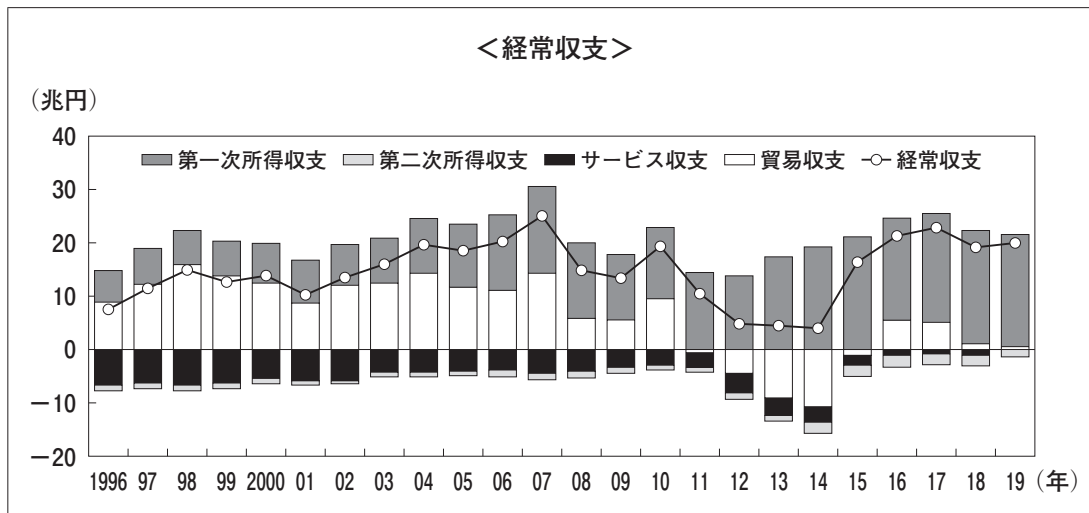
問 2 下線部分^(a)欧州連合(EU)に関連して、次の文章中の にあてはまるものとして適切なものを、下の①～④のうちから一つ選べ。解答番号は 。

1991年、欧州連合条約(マーストリヒト条約)の合意(発効1993年)により、新しい統合体である「欧州連合(EU)」が誕生した。その後は 。

- ① 単一通貨ユーロが導入され、加盟国を東欧諸国まで拡大し、政治統合や安全保障政策の共通化が目指されている
- ② 単一通貨ユーロが導入されたが、加盟国は西欧諸国に限定し、政治や安全保障については、各国の主権に任せている
- ③ 単一通貨の導入は見送られ、加盟国を東欧諸国まで拡大し、政治統合や安全保障政策の共通化が目指されている
- ④ 単一通貨の導入は見送られ、加盟国は西欧諸国に限定し、政治や安全保障については、各国の主権に任せている

問 3 下線部分**グローバル化**に関連して、次の資料と説明文について述べたものとして適切なものを、下の①～④のうちから一つ選べ。解答番号は 20。

資料



(財務省ホームページにより作成)

説明文

海外に拠点を構える日系企業数は近年増加しており、2018年10月時点で75,651拠点を数えるに至った。また、日本の対外直接投資は2019年に269,740億円となって2000年時点に比べて約5.6倍となった。このように、日本から海外への投資が一層進んでいる。

(経済産業省ホームページにより作成)

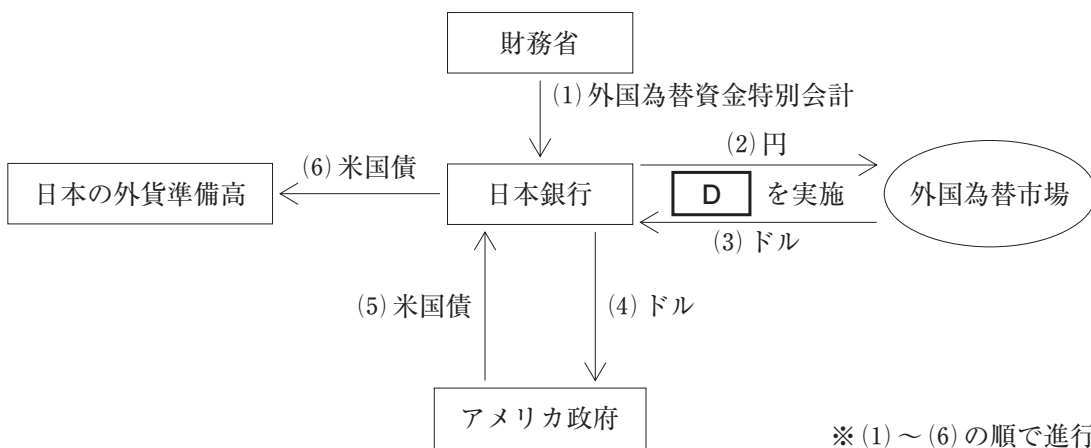
- ① 2000年と2019年の日本の経常収支を比較すると、貿易収支より第一次所得収支の方が増えている。
- ② 2000年と2019年の日本の経常収支を比較すると、第一次所得収支より貿易収支の方が増えている。
- ③ 2019年の日本の経常収支は、貿易収支が第一次所得収支を上回っており、これは海外における日系企業数と対外直接投資の減少が背景にある。
- ④ 2019年の日本の経常収支は、第一次所得収支が貿易収支を上回っており、これは官民の無償資金協力や贈与等の増加が背景にある。

問 4 下線部分為替相場^(c)に関連して、次の説明文と図は為替相場安定のための仕組みを生徒がまとめたものである。説明文と図の中の **D** , **E** にあてはまる語句の組合せとして適切なものを、下の①～④のうちから一つ選べ。解答番号は **21** 。

説明文

為替相場で、例えば円高が進行すると、財務省の指示により日本銀行は外国為替市場で **D** を実施し、さらに図のようにアメリカ政府から米国債を購入することもある。このようにして、例えば円高から円安に誘導することを **E** と呼ぶ。

図



D

E

- ① 円売りドル買い
- ② 円買いドル売り
- ③ 円売りドル買い
- ④ 円買いドル売り

- 為替介入
- 為替介入
- 先物取引
- 先物取引

問 5 下線部分自由貿易協定(FTA)に関連して、貿易について述べたものとして適切でないものを、次の^(d)①～④のうちから一つ選べ。解答番号は 。

- ① 第二次世界大戦後の貿易に関する国際ルールは、関税と貿易に関する一般協定(GATT)と、後継の世界貿易機関(WTO)を中心に議論されてきた。
- ② GATT の多角的貿易交渉(ラウンド)は、関税引き下げや非関税障壁の撤廃を推進してきた。
- ③ ラウンドが停滞したことや発展途上国の経済発展などが要因となり、共通の利害をもつ国々の間で地域経済統合の動きがすすんでいる。
- ④ 地域経済統合は、関税引き下げや非関税障壁の撤廃を目的としており、投資、知的財産権、環境や労働等に関しては一切交渉されていない。

【選択問題 1】

- 5 次の資料1，資料2，資料3とそれに対して生徒がまとめた次のページのレポート中の **A**，**B**，**C** にあてはまるものの組合せとして適切なものを，次のページの①～④のうちから一つ選べ。解答番号は **23**。

資料 1

改革にあたっては保険制度に係る改革と医療・介護の提供体制の改革を両輪としながら，以下の視点から具体化を図っていくべきと考えられる。

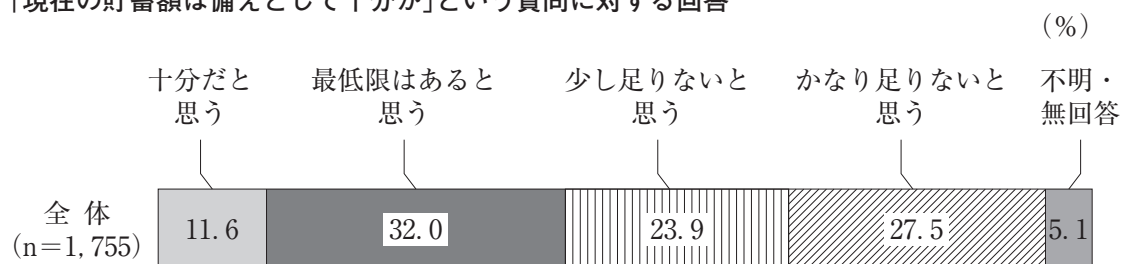
第一に，負担能力に応じた公平な負担としていく視点である。高齢者の数が増加し，その実態が多様化してきている中，高齢者を一律に捉えることは世代間の公平性の確保の観点から見直されるべきであり，これを踏まえた負担の在り方としては，「年齢別」ではなく，資産の保有状況等も含め，負担能力に応じた負担としていくべきである。

第二に，大きなリスクに保険給付を重点化し，小さなリスクについては自助による対応としていく視点である。自助・共助・公助の最適なバランスの再検討にあたり，公的保険でカバーすべき範囲に関しては，個人で対応できないような大きなリスクをしっかりとカバーしていく一方で，日常負担できるような低額な負担については，制度の持続可能性を踏まえ，「自助」により対応していくべきである。

(財政制度等審議会「平成 29 年度予算の編成等に関する建議」により作成)

資料 2 高齢者世帯の貯蓄

「現在の貯蓄額は備えとして十分か」という質問に対する回答



資料 3 高齢者の就労状況と就労意欲

	60～64 歳	65～69 歳	70～74 歳	75～79 歳	80 歳以上
収入のある仕事に就いていない人の割合(Ⅰ)	26.0 %	51.7 %	61.4 %	75.9 %	90.0 %
Ⅰのうち，今後も仕事に就きたくない人の割合	74.6 %	73.3 %	81.8 %	92.7 %	97.5 %

注 この資料は，「高齢者」を 60 歳以上として調査を行った結果である。

(資料 2，資料 3 ともに総務省「令和元年度高齢者の経済生活に関する調査結果」により作成)

レポート

資料1において主張されているように、今後も続く社会保障費の増大と日本の財政状況を考えれば、負担能力に応じた負担と **A** を進めていくことも一つの方法であろう。現在の社会保障制度を維持する一方で、各個人のできる備えをしていくことも必要であると考え

る。

一方で、資料2からは、現在の貯蓄額が備えとして **B** と回答した高齢者の方が半数を超えたことがわかる。そのような状況では、自助努力に任せることにも限界がある。また、資料3からわかるように、65歳を過ぎると就労者は全体の半分未満となり、今後の就労を見込むことも難しい。そのため、**A** を中心とすると、生活に困窮する世帯が増加する可能性があり、平均寿命が延びている現状ではそれがさらに増加することも予想される。そのように考えれば、**C** が重要になってくるであろう。そういった政策は、安心した老後に向けて必要ではあるが、それに頼りすぎれば国家の財政が悪化するという問題も抱えている。

福祉を誰が担うのかというテーマは難しいテーマではあるが、私自身も今後は社会を構成する一員になるので、引き続きこの問題を考えていきたい。

A**B****C**

- | | | |
|----------------|------|--------------|
| ① 政府主導による福祉 | 足りない | 国民の自助努力による福祉 |
| ② 政府主導による福祉 | 足りる | 国民の自助努力による福祉 |
| ③ 国民の自助努力による福祉 | 足りない | 政府主導による福祉 |
| ④ 国民の自助努力による福祉 | 足りる | 政府主導による福祉 |

【選択問題 1】

6 次の資料を読んで、クラスで街づくりの政策を話し合った際、生徒が街づくりの具体的な政策を次のページのカードにまとめた。まとめたカードのうち、資料で示されている街づくりに基づいた政策の組合せとして適切なものを、次のページの①～④のうちから一つ選べ。

解答番号は 23 。

資料

にぎわいの拠点となる JR 福山駅前の大型ビルが7年半閉鎖したままの広島県福山市。駅前再生の取り組みが徐々に広がり始めた。昨年末からの宿泊施設や飲食店の開業に続き、ビル群の解体・再開発も始まった。独自のコンパクトシティ推進策と両輪で全国の先進モデルともなる都市建設を目指す。

駅前再生はコンパクトシティ化対策と表裏一体でもある。福山市は独自に2050年の人口分布図を作り「商店や病院など生活関連施設が将来どう立地するかを考えながら、住宅建設などの生活設計を立てて」と訴える。商業施設などの出退店には半径500メートルの商圈人口が目安になる。一般に、コンビニエンスストアは3,000人、地域診療所は5,000人、食品スーパーは1万人などとされる。これを踏まえて将来の人口分布図を作った。市内全域に100メートル四方のメッシュをかけ、メッシュごとに約30年後の商圈人口を計算した。これを地図上で色分けし、ひと目で自宅周辺が将来どの程度の人口になるか見通せるようにした。今ある店が将来も残るか考えるヒントにもなる。

市は、住宅建設が制限される市街化調整区域でも、近くに住宅が50戸以上あれば宅地開発を特例的に認める「50戸連たん制度」の廃止も目指す。これまでは耕作放棄地の荒廃を抑える効果もあったが、コンパクトシティ化に逆行すると判断した。住宅取得世代の30～40代に「将来を見据えた居住地選択を」と訴える。同時に人口減地域に住む50代以上にも、過疎地型の新交通システム導入などを検討する。こうして「人口が減っても一定の商圈を保つことで生活サービスを維持できるよう居住を誘導し、全国モデルとして発信したい」(市都市計画課)考えた。

(日本経済新聞2019年7月9日掲載「福山駅前 再生へ弾み 宿泊施設や飲食店続々」より)

カードA

国が設けた基準に準じ、地方自治体のどこに住んでいても平等な生活が送れるように、生活関連施設や公共施設を域内にまんべんなく建設する。

カードB

地方自治体が将来の人口分布図を作成して、それに基づいて商店や病院など生活関連施設の立地を決定し、それを受けて住宅建設や開発の許可を出す。

カードC

地方自治体の将来的な予想に基づいて住民に居住地の選択を促し、合わせて人口が減少している地域には交通手段を確保してその沿線に居住するように誘導していく。

カードD

空き家や耕作放棄地を都市部からの移住希望者に対して無償で貸し出す政策を国が実施し、それを地方自治体が受けて制度化し、人口の増加を目指す。

- ① カードAとカードB
- ② カードBとカードC
- ③ カードAとカードC
- ④ カードBとカードD

【選択問題 1】

- 7 次の課題とそれに対する下のレポート1と次のページのレポート2中の **A** , **B** , **C** にあてはまるものの組合せとして適切なものを、次のページの①～④のうちから一つ選べ。解答番号は **23** 。

課題

今後の日本の課題の一つに、労働力人口の減少があります。それを補う対策の一つが非労働力人口の就労支援です。次の図にあるように、就業は希望しているものの、就業に対するさまざまな理由で求職活動を行わない人が少なくありません。そのような人を就業につなげていくために必要なことは何か、あなたの考えを述べなさい。

図

非労働力人口のうち、就業を希望する者が求職活動を行わない理由

(万人)

	就業希望者	適当な仕事がありそうにない						出産・育児のため	介護・看護のため	健康上の理由のため	その他
		総数	近くに仕事がありそうにない	自分の知識・能力があう仕事がありそうにない	勤務時間・賃金などが希望にあう仕事がありそうにない	今の景気や季節では仕事がありそうにない	その他				
男女計	330	96	17	18	34	3	24	70	19	66	69
実数											
男	99	32	6	8	7	2	10	0	4	27	32
女	231	64	11	10	27	1	14	70	15	38	38

注1：非労働力人口は、15歳以上の人口のうち「就業者」と「完全失業者」以外の者で、「通学」、「家事」、「その他(高齢者など)」が含まれる。

(総務省「労働力調査」(令和元年)により作成)

レポート1

私は安定した雇用を提供することが必要であると考えます。課題中の図からも非労働力人口のうち、就業希望者は女性が男性の約2倍で、求職活動を行わない最大の理由は **A** のためであることがわかります。それが家計の収入の減少にもなり、少子化の一因となっていると考えます。終身雇用制や **B** といった従来からの日本の労働市場の特徴を維持し、企業が安定した雇用を提供できる環境を政府が整えることによって、女性が仕事に復帰しやすくなると考えられます。安定した雇用を提供することは、女性の非労働力人口を減少させるだけでなく、少子化対策にもつながっていくと考えます。

レポート2

私は多様な働き方によって、労働力を効率的に活用できる仕組みが必要であると考えます。課題中の図からも非労働力人口のうち、一定数の就業希望者が時間や場所等のミスマッチによって求職活動を行っていないことがわかります。そのため、**C**などに代表される就業時間に縛られない働き方や、テレワークなどの決められた就業場所に縛られない働き方といった自由な働き方を雇用主が提供することで、就業者が増加すると考えます。それに向けて、雇用形態や就業場所、就業時間など、就労に関する規制を政府が緩和したり、多様な働き方を雇用主が提供できるように行政機関が促したりすることで、活用できていない労働力をより効率的に活用できると考えます。

A

- ① 出産・育児
- ② 介護・看護
- ③ 介護・看護
- ④ 出産・育児

B

- 年功序列型賃金制
- 年俸制
- 年功序列型賃金制
- 年俸制

C

- 裁量労働制
- 裁量労働制
- 固定時間制
- 固定時間制

【選択問題 1】

8 次の資料と次のページの会話文中の **A** , **B** , **C** にあてはまるものの組合せとして適切なものを、次のページの①～④のうちから一つ選べ。解答番号は **23** 。

資料

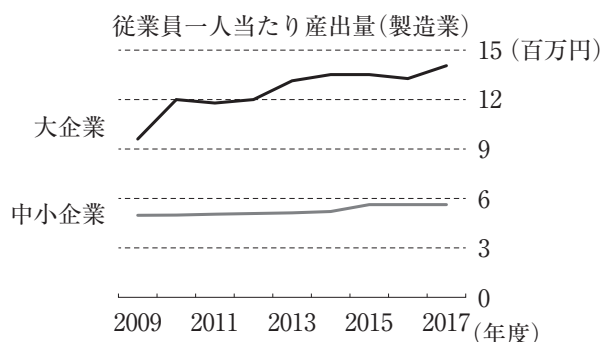
生産性を引き上げ、^{ほうせつ}包摂的な成長を促進するとともに、金融機関を強化するためには、中小企業の事業成果の向上が必要である。大企業と比較すると、日本の中小企業の生産性は低い。グラフをみると、2010年以降に **A** , その格差は大きい。(中略)中小企業が雇用の3分の2と生産の約半分を占めていることを考えれば、生産性格差の問題は重要である。中小企業の活性化は2013年の日本再興戦略の目標の一つであった。(中略)

中小企業の低い生産性は、新たな技術やデジタル化に対する投資不足に起因する部分もあり、これは中小企業の財務力の弱さや人的資本の不足、事業主の高齢化といった要因を反映している。政府は中小企業による新技術への投資に対する金融支援を拡充している。(中略)企業がデジタル化やその他の鍵となる技術を採用する誘因を再構成し強化するためには、競争を促す政策が必要である。このための有効な政策としては、以下が挙げられる。

- (1) 国際貿易と対内直接投資に対する障壁の **B** 。
- (2) 革新的な企業の拡大と劣後する企業の縮小を促進する雇用の柔軟性。
- (3) 市場による選抜の強化と、より生産的な用途に対する経営資源の再配分を通じた生産性の向上を促進するための倒産処理制度の改善。
- (4) 革新的な企業の創造を促進するベンチャーキャピタル投資。
- (5) 法人税率の引き下げによる起業の促進。

生産性を停滞させているもう一つの要因は、中小企業がほとんど成長せず、規模の経済による利益が限定的であることである。(中略)新規参入企業が古い企業に取って代わるという構造改革を通じて、生産性を上昇させることが可能である。小さな企業が成長すれば、中小企業の定義に従って得られる恩恵を失うこととなるため、手厚い政策支援が成長意欲を阻害している。最近の研究では、中小企業の定義に含まれている資本金要件が、企業の資本調達を上限未満に抑制する効果が有意に検出されている。

グラフ



(OECD『OECD 経済審査報告書 日本 2019年4月』により作成)

先生：資料を読んで、中小企業に対してどのような政策が必要だと思いましたか。

生徒X：資料の中の「中小企業の低い生産性は、新たな技術やデジタル化に対する投資不足に起因する部分もあり、これは中小企業の財務力の弱さや人的資本の不足、事業主の高齢化といった要因を反映している。」に注目しました。このような課題を中小企業のみで解決するのは難しいと思います。 **C** ような政策を進めることが、大企業と中小企業の生産性格差の是正には必要です。

生徒Y：私は、資料の中の「小さな企業が成長すれば、中小企業の定義に従って得られる恩恵を失うこととなるため、手厚い政策支援が成長意欲を阻害している。」という指摘に驚きました。確かに、そうした側面もあると思うので、 **C** ような政策を進めるべきではないと思いました。

先生：二人それぞれの考えをもったように、中小企業に対する政策には、「保護して育成する」という観点と「自立を支援する」という観点があります。この二つのどちらか一方の観点のみから政策を進めるのではなく、二つのバランスをとることも重要なかもしれません。

ア

大企業の従業員一人当たり産出量が上昇する一方、中小企業にはあまり変化がなく

イ

大企業と中小企業のいずれについても従業員一人当たり産出量にはほぼ変化がないが

ウ

政府が保護育成を図るのではなく、中小企業が自力で成長するために競争を促す

エ


競争を促すのではなく、政府が中小企業の保護育成を図る

- | | A | B | C |
|---|---|------|---|
| ① | ア | 引き上げ | ウ |
| ② | ア | 引き下げ | エ |
| ③ | イ | 引き上げ | エ |
| ④ | イ | 引き下げ | ウ |

【選択問題 1】

- 9 次のワークシートは、ディベートの準備のため、肯定側の立場をとる生徒が記入し、先生に提出したものである。ワークシート中の **A** , **B** , **C** にあてはまるものの組合せとして適切なものを、次のページの①～④のうちから一つ選べ。解答番号は **23** 。

ワークシート

論題	日本は、農産物の貿易自由化協定を積極的に締結していくべきである。是か非か。
論題に対して「肯定」の立場をとる理由	
<p>農産物の貿易自由化協定を締結することにより、日本だけでなく、相手国の非関税障壁や関税も削減・撤廃されることになる。このことは、 A 。</p> <p>少子高齢化が他国より早いペースで進んでいる日本では、今後国内の食市場が縮小することが予想される。一方で、アジアを中心とした新興国では経済成長、人口増加が進んでおり、今後、海外における食の需要拡大が見込まれている。おいしくて、安全な日本の農産物は、世界において高い評価を受けている。海外のニーズに合った高品質な日本の農産物をより多く輸出できるようになれば、農家の所得向上が期待できる。また、生産を拡大できる環境が整うことで、意欲ある担い手が新たに農業に参入するようになることも期待できる。</p>	
	
予想される「否定」の立場からの主張	
<p>農産物の貿易自由化が進み、これまで以上に大量の輸入農産物が流入してくれば、日本の農業は壊滅的な打撃を受けることになる。日本の農家は小規模農家の割合が高く、高齢化も進んでいるため、競争力の強化が難しい場合もある。そのため、小規模農家の離農が進み、食料自給率がさらに低下するおそれがある。国際的にみて低い日本の食料自給率がさらに低下することは、 B の観点から大きな問題である。農産物の貿易自由化協定を締結するよりも、まずは競争力の弱い日本の農家を保護・育成するための政策を推進し、食料自給率の向上に努めるべきである。</p>	
【先生のコメント】	
<p>貿易自由化がもたらす C についてもふれると、よりよい主張になるでしょう。これは、あなたが予想している相手側の主張に対する反論を考えるうえでも重要です。例えば、関税が撤廃されれば、外食業界で値下げがなされたりするなど、消費者に恩恵がもたらされることにふれてもよいでしょう。</p>	

ア

安価な外国産農産物の流入を抑制し，日本の農業を守ることにつながる

イ

日本にとっては，国際競争力のある農産物の輸出拡大を図る大きなチャンスである

ウ

輸出面の影響だけでなく，輸入面の影響

エ

農業に対する影響だけでなく，工業に対する影響

	A	B	C
①	ア	食糧管理制度	ウ
②	ア	食料安全保障	エ
③	イ	食糧管理制度	エ
④	イ	食料安全保障	ウ

【選択問題 2】

10 次の資料と会話文中の **A** , **B** にあてはまるものの組合せとして適切なものを、次のページの①～④のうちから一つ選べ。解答番号は **24** 。

資料

大きな反響を呼んだ1968年のギャレット・ハーディンの論文は、環境の利用を規制するための伝統的な方法が社会によって乗り越えられるか、または見捨てられてしまった時に生じる状態、すなわち、その著者が「共有地の悲劇」と呼んでいる状態について述べている。

「すべての人に開かれた牧場を考えよう。…その共有牧場においては、各自できる限り多くの家畜を飼おうとする。合理的な考え方をする人であれば、最も賢明な行動方針は、自分の家畜をもう一頭増やすことであるとの結論に至る。そして、もう一頭、さらに、もう一頭。…ところが、その牧場を共有するすべての理性的な人々が、この結論に至るのである。」共同体のそれぞれの構成員は、限界のある世界において、際限なく自分の家畜を増やそうとするシステムに取り込まれてしまう。共有牧場とは自由であると考えた社会において、各自が **A** を追求するならば、全体の破滅に至る。(中略)

この単純なシナリオは、家畜の頭数または自動車の台数を用いることによって、共同体の環境の質はその共同体の開発が持続的であるかどうかによって大きく左右されるものであることを示しており、また環境も開発も個人の行動に左右されるものであることを示している。

(国際連合広報センター『国連の手引き 環境と開発』により作成)

先生：資料は1992年に発行されたものですが、経済開発と環境への影響の関係について示唆に富んだ指摘がみられます。

生徒：「環境」と「開発」は両立することはできない、ということなのでしょうか。

先生：問題はバランスです。この間の授業で、持続可能な開発という理念を学びましたが、覚えていますか。

生徒：持続可能な開発とは、「未来の世代がその欲求を満たす能力を損なうことなく、現在の世代の欲求を満たす」という理念でしたよね。

先生：そうですね。この理念について説明するため、日本の環境省が2019年に発行した『こども環境白書』では、流しそうめんを用いた例を示しています。


生徒：この例では、持続可能な開発の理念を示しているのは **B** の方ですね。

先生：その通りです。現在においても、資料で指摘された「共有地の悲劇」のような状況が解消されているわけではありません。持続可能な開発を達成するため、さらなる努力が先進国と途上国の双方に求められています。

図 1



図 2



(図 1 と図 2 とともに、環境省『子ども環境白書』2019 年版により作成)

A

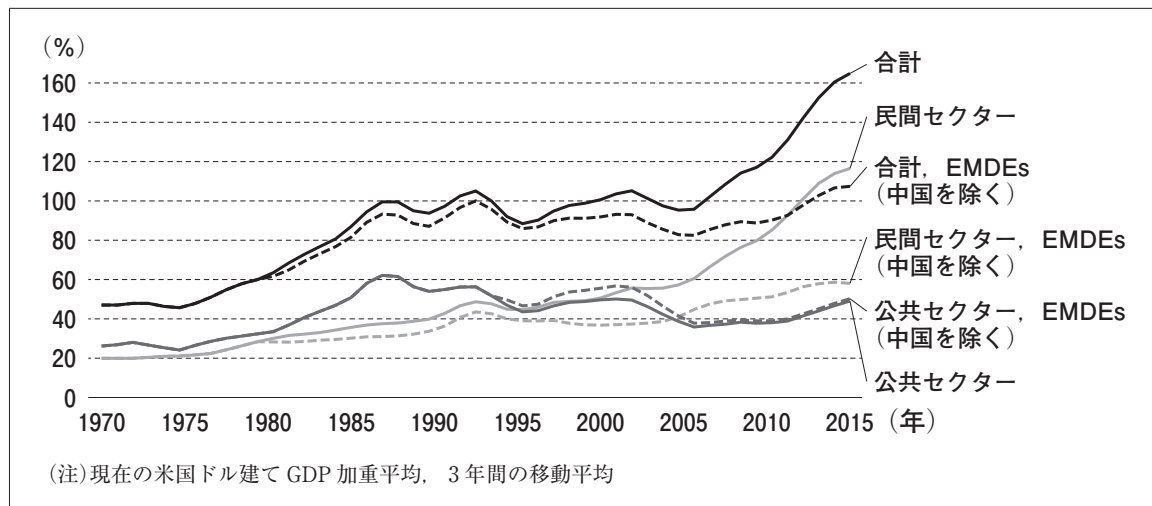
B

- | | |
|------------------|---|
| ① 自己の利益の最大化のみ | <input type="checkbox"/> 図 1 |
| ② 自己の利益よりも他者との協調 | <input checked="" type="checkbox"/> 図 2 |
| ③ 自己の利益の最大化のみ | <input checked="" type="checkbox"/> 図 2 |
| ④ 自己の利益よりも他者との協調 | <input checked="" type="checkbox"/> 図 1 |

【選択問題 2】

- 11 次の資料 1, 資料 2 と次のページの資料 3 を読んで, 次のページの会話文中の **A**, **B**, **C** にあてはまるものの組合せとして適切なものを, 次のページの①~④のうちから一つ選べ。解答番号は **24**。

資料 1 世界全体と EMDEs(新興国・途上国)の債務(対国内総生産(GDP)比)



(世界銀行ホームページにより作成)

資料 2

ケニアでは, モンバサとナイロビを結ぶ区間に, 米国主導で「スーパーハイウェイ」を建設する計画が浮上している。

計画を進めるのは, 歴史的に米政権とつながりが深い世界最大級の建設会社, 米バクテル社。ケニアのケニヤッタ大統領が 2018 年に米ホワイトハウスを訪れ, 事業を進めることでトランプ大統領と合意した。

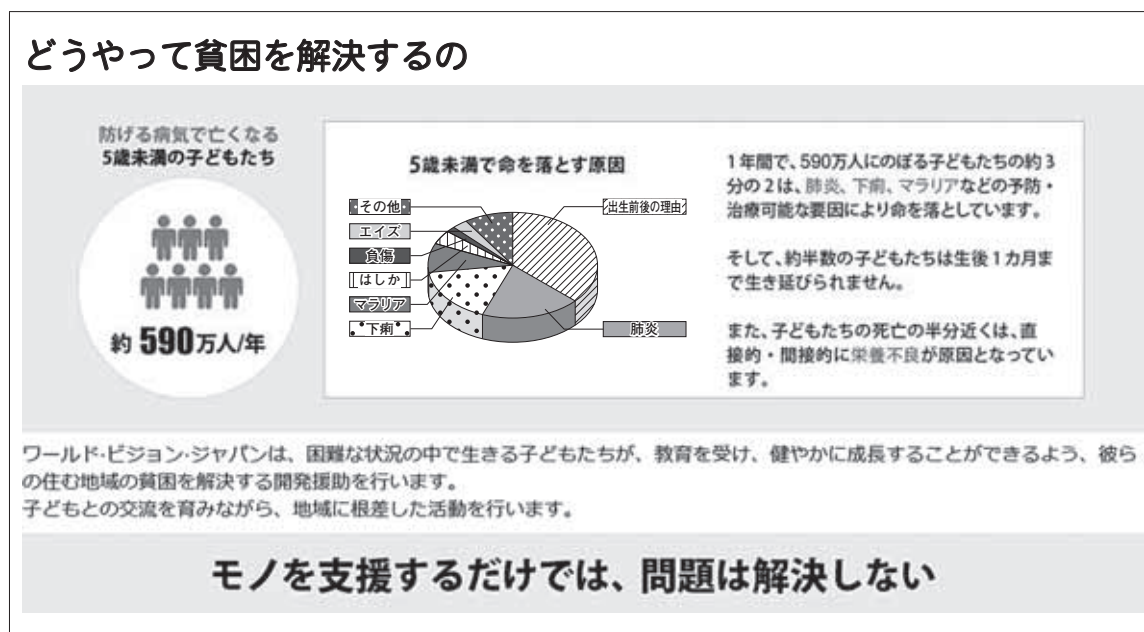
いまある一般道なら 10 時間程度かかる 500 キロ弱の区間を, 片側 3 車線の高速道路で 4 時間で結ぶというものだ。

米国のマッカーター駐ケニア大使はケニア紙の取材に, 高速道路は民間の資金を生かし, ケニア政府の負担を減らせると強調した。

モンバサの貨物取扱量は東アフリカ全体の 80 % を占める。今後の経済発展で増加が見込まれる貨物需要を高速道路に誘導し, 通行料金を 30 億ドル強と見積もられる建設費や維持費をまかなう計画という。

(朝日新聞 2020年6月6日掲載 「中国の鉄道事業にブレーキ、目立ち始めた「火の車」収支」より 承諾番号23-0311)
 ※朝日新聞社に無断で転載することを禁ずる。

資料 3



(国際協力 NGO ワールド・ビジョン・ジャパンホームページにより作成)

先 生：先進国と途上国の格差是正のためにどうすればよいか、話し合ってみましょう。

生徒 X：資料 1 を見ると、2010 年以降、新興国・途上国の債務が **A** 傾向にあることが分かります。新興国・途上国の債権国への依存が高まったり、経済活動への影響が出たりして、先進国との経済格差はますます広がりそうです。

生徒 Y：私は、格差是正に向け、途上国が自立できるよう自助努力を促すことが重要だと思います。そのためには基盤となる人材育成は欠かせません。まずは **B** のような、国の将来を担う子どもたちの命を守り、教育を充実させる活動が大切だと思います。

生徒 Z：私は、格差是正のためには、**C** のような、途上国への経済援助が必要だと思います。経済援助によって経済的な豊かさを享受できるようにすべきです。この例では、民間の資金を生かすことで、途上国の負担も減らせるようです。

先 生：白熱していますね。次回の授業でまた議論しましょう。

	A	B	C
①	増加	資料 3	資料 2
②	減少	資料 3	資料 2
③	増加	資料 2	資料 3
④	減少	資料 2	資料 3

【選択問題 2】

12 次の資料 1, 資料 2 と次のページのレポート中の **A**, **B**, **C** にあてはまるものの組合せとして適切なものを, 次のページの①～④のうちから一つ選べ。

解答番号は **24**。

資料 1

トルコによるシリア北部の越境攻撃で, 2万人のクルド人が土地を追われ, 隣国イラクに押し寄せている。米軍のシリア撤退が越境攻撃のきっかけとなったため, クルド人の中では「米国に裏切られた」との声が相次いだ。諸外国に翻弄^{ほんろう}され, 独立国家への道を阻まれてきた民族の怒りも渦巻いていた。(中略)

シリアのクルド人武装組織「人民防衛部隊」(YPG)は今, トルコの攻撃と対峙するため, シリアのアサド政権に接近している。YPG 幹部は「アサド氏と手を組むしか我々が生き残る道はない」と打ち明けた。

だが, シリア北部のクルド自治行政機関幹部は「アサド政権は一切信用できない。混乱に乗じてクルド人の土地を奪うつもりだ」と言い切った。クルド人にはシリアで迫害されてきた歴史があるためだ。そして, 「大国の思惑で我々の独立は阻止されてきたが, **A**」と語った。

(読売新聞 2019年11月8日掲載「クルド 渦巻く怒り」をもとに作成)

資料 2

アイヌ民族「先住民族」と初めて明記 交付金創設へ

政府は, 閣議で, アイヌ民族を先住民族として初めて位置づけ, アイヌ文化を生かした地域振興策を行うための交付金の創設などを盛り込んだ新たな法律案を決定しました。

閣議決定された法律案では, アイヌ民族を「先住民族」と初めて明記し, 「アイヌの人々が民族としての誇りを持って生活することができ, その誇りが尊重される社会の実現を図る」としています。(中略)

国のアイヌ政策推進会議の委員を務めた北海道アイヌ協会の理事長は, 法案で初めてアイヌ民族が先住民族と明記されたことについて「深い眠りから覚めた感じがする。 **B**」と述べ, 今後アイヌ民族への理解が広がり, 先住民族としての権利の獲得につながると期待感を示しました。

(NHKホームページ 政治マガジン「アイヌ民族『先住民族』と初めて明記 交付金創設へ」2019年2月15掲載分より一部抜粋)

レポート

私は、人種・民族問題についてまとめてみました。

資料1では、**C** 世界最大の民族集団と言われるクルド人の現状について述べられています。授業で学習した民族自決という理念や、**C** 現状を鑑みれば、「**A**」という彼らの思いも理解できます。

一方で、多民族が共に生きるという考えもあります。資料2にあるように、「**B**」という言葉に象徴されると思います。アイヌの人々がここまで多大な苦難の歴史を重ねてきたことを考えれば、この法案の閣議決定は意義のあることだと感じました。この法案は、平成31年4月に「アイヌの人々の誇りが尊重される社会を実現するための施策の推進に関する法律」として成立しています。

A

- ① 独立を断念し、土地を去る
- ② 独立の夢を決して諦めない
- ③ 独立を断念し、土地を去る
- ④ 独立の夢を決して諦めない

B

- 共生社会を建設する第一歩だ
- 共生社会を建設する第一歩だ
- 単一民族国家の一員となれる
- 単一民族国家の一員となれる

C

- パレスチナを占領する
- 国家をもたない
- 国家をもたない
- パレスチナを占領する

【選択問題 2】

- 13 次の資料 1, 資料 2 と次のページの資料 3 について, 生徒が次のページの意見ア, 意見イのように意見をまとめた。意見ア, 意見イの生徒が参考とした資料の組合せとして適切なものを, 次のページの①～④のうちから一つ選べ。解答番号は 24 。

資料 1 国土交通省インフラシステム海外展開行動計画 2020(概要)

この 1 年の取組例	
●国土交通大臣がインドネシア, ミャンマーなど延べ 35 件のトップセールスを実施	
●「質の高いインフラ」の海外展開を推進する「第 2 回日・アフリカ官民インフラ会議」開催	
日本企業が受注したプロジェクト例	
●トアマシナ港拡張事業(マダガスカル) 港湾施設の拡張整備及び増進を行う政府開発援助(ODA)事業で, 日本企業が受注	●ハノイ市下水道整備事業(ベトナム) 下水処理場などを整備する ODA 事業で, 日本企業が優位性を有する技術を活用し, 受注

(国土交通省ホームページにより作成)

資料 2

<p>阪神大震災で柔道家の父を失った東京都港区の会社員の男性が, 柔道の指導者として, 今夏の東京五輪出場を目指すパラオ共和国代表を支援している。(中略)</p> <p>「将来は国際貢献したい」と考えていた 2002 年春, パラオで警察官ら向けの柔道指導者を募る広告が目に入った。「好きなことをとことんやれ」。生前の父の口癖が頭をよぎり, 応募を決めた。</p> <p>会社を退職し, 2003 年 7 月, パラオに。柔道着も畳もない環境で毎日, 約 40 人の警察官らを指導した。残りの任期が半年となった 2005 年 2 月, パラオ柔道連盟を設立。国際柔道連盟にも加盟し, 五輪への道も開かれた。</p> <p>男性が帰国後は教え子らが中心となり, 後進を育成。2012 年のロンドン五輪に女子選手が初めて出場した際は, 男性もコーチとして選手村に入り, 試合の戦略を練った。初戦敗退に終わったが, パラオ柔道の歴史的な日となった。</p> <p>男性は今も時間を見つけては, パラオを訪れ, 稽古をつける。今後の国際大会で好成績を残してオセアニアの柔道連盟の推薦を得れば, 5 月にも東京五輪への出場が決まる。</p>

(読売新聞 2020 年 1 月 17 日掲載「夢舞台 亡き父と『一本』」をもとに作成)

資料3 カンボジア 巡回診療・手術活動



ジャパンハートは、たくさんの手術機材を1台の車に詰め込み、道路が舗装されていない道を約1時間かけて郊外へと向かいます。連携病院を巡回し、診療や手術を行います。10年にわたり続けているジャパンハートカンボジアの医療活動の原点でもあります。

本活動は大きく分けて2種類があります。ひとつは、2009年から10年にわたり継続している連携病院での巡回診療・手術活動です。そして、2019年10月より新たに始めた活動が、従来よりもさらにもう一步広く医療を届けるために開始した巡回診療活動です。その名も Mobile NEXT。これまでの巡回診療活動では医療を届けられていなかった地域を新たに開拓し、その地域のニーズを満たす診療を行っています。

～ジャパンハートとは～

2004年「日本発祥の国際医療NGO」として、創設者が、自身の長年の海外医療の経験をもとに、医療支援活動のさらなる質の向上を目指して設立。団体の活動は、日本から参加する多くの医療者やボランティアによって支えられている。

(特定非営利活動法人ジャパンハートホームページにより作成)

意見ア

個人の意思で、または意思のある人々が集まり国際貢献しています。自国の利益を超えた人類のための活動だと思います。

意見イ

国ぐるみで取り組み、プロジェクトは日本企業が受注しています。官民一体となって国益を追求していると思います。

意見ア

- ① 資料1
- ② 資料1と資料2
- ③ 資料2と資料3
- ④ 資料3

意見イ

- 資料2と資料3
- 資料3
- 資料1
- 資料1と資料2

政治・経済

注意事項

- 1 【共通問題】 から は、必ず解答すること。
解答番号は から 。
- 2 【選択問題1】 から までの5題から1題を選んで、解答する問題番号を記入及びマークした上で、解答欄に解答すること。
解答番号は 。
- 2題以上解答した場合は採点できないので注意すること。
- 3 【選択問題2】 から までの4題から1題を選んで、解答する問題番号を記入及びマークした上で、解答欄に解答すること。
解答番号は 。
- 2題以上解答した場合は採点できないので注意すること。