

令和3年度 日本史A・日本史B (50分)

注 意 事 項

- 1 試験開始の合図があるまで、この問題冊子の中を見てはいけない。
- 2 出題科目、ページ及び選択方法は、下表のとおりである。

出題科目	ページ	選 択 方 法
日本史A	1～26	左の2科目のうちから1科目を選択し、解答しなさい。
日本史B	27～63	

- 3 試験中に問題冊子の印刷不鮮明、ページの落丁・乱丁及び汚れ等に気付いた場合は、手を挙げて監督者に知らせること。
- 4 試験開始の合図前に、監督者の指示に従って、解答用紙の該当欄に以下の内容をそれぞれ正しく記入し、マークすること。

・①氏名欄

氏名を記入すること。

・②受験番号、③生年月日、④受験地欄

受験番号、生年月日を記入し、さらにマーク欄に受験番号(数字)、生年月日(年号・数字)、受験地をマークすること。

・⑤解答科目欄

解答する科目名を○で囲み、さらにその下のマーク欄にマークすること。

- 5 受験番号、生年月日、受験地が正しくマークされていない場合は、採点できないことがある。
- 6 解答科目が正しくマークされていない場合は採点できないので、必ず正しくマークすること。
- 7 解答は、解答用紙の解答欄にマークすること。例えば、解答番号が 10 である問いに対して②と解答する場合は、次の(例)のように解答番号10の解答欄の②にマークすること。

(例)

解答番号	解 答 欄			
10	①	②	③	④

- 8 問題冊子の余白等は適宜利用してよいが、どのページも切り離してはいけない。
- 9 試験終了後、問題冊子は持ち帰ってよい。

日 本 史 A

(解答番号 ~)

1 次の会話文と資料1・2を読み、後にある問1～問4に答えよ。

会話文

先生：次の資料1は、鉄道路線の名所や歴史が歌詞に歌われ大ヒットした『鉄道唱歌』です。
第一集の東海道編だけで66番まであります。

資料1

1番 ^{きてきいっせい}汽笛一声新橋を
はや我^{きしゆ}汽車は離れたり
^{あたご}愛宕の山(注1)に入りのこる
月を旅路の友として
10番 汽車より^{ずし}逗子(注2)をながめつつ
はや横須賀に着きにけり
見よやドックに集まりし
わが軍艦の壮大を

(『地理教育 鉄道唱歌 第一集 東海道編』)

(注1) 東京都港区にある丘。

(注2) 神奈川県の名。横須賀へ敷設された路線に駅ができた。

生徒：日本で初めての鉄道は、1872年に1番の歌詞に歌われる新橋駅と 駅との間で結ばれ、その後全国に路線が広がっていったのですよね。1番の歌詞からは旅が始まるワクワクした気持ちが表現されているように思います。当時の人びとが旅をするために、鉄道の路線が広がっていったのですか。

先生：鉄道開業当初、鉄道の敷設は、 が中心となって政府の事業として行われました。つまり、国家の政策と路線が広がった理由には関連があるということですね。

『鉄道唱歌』が発行された時期は、三国干渉後の「^{がしんしょうたん}臥薪嘗胆」という言葉に表されるよ
(a)うに、朝鮮半島と満州の支配権をめぐる大きな戦争に備えて国力を強化していく時期なのです。

生徒：10番の歌詞は、そのような時代背景をよく表していますね。

先生：当時、東海道線の一部として扱われていた、横須賀への線路が敷設された経緯は、資料2を読むと分かりますよ。
(b)

資料2 (意識してある)

横須賀または観音崎^{かんのんざき}(注3)へ停車場を設置する件

相模国の横須賀は第一海軍区^{だいちかいぐんく}(注4)の海軍港であり、造船所や武器庫・倉庫の他、病院や兵隊の宿舎や練習艦があり、それを鎮守府が管轄している、…(中略)…しかし、東京から横須賀・観音崎へはただ海運があるのみで、険しい丘が多く馬車も通れない、強風や高波のために運輸が途絶えてしまう。…(中略)…よって、鉄道の敷設は陸海軍の軍略上きわめて大事な問題であり、陸軍と海軍の両軍の勝敗に関係するため、至急に鉄道の設置について閣議で審議していただきたい。

明治十九(1886)年六月二十二日

海軍大臣 西郷従道

陸軍大臣 大山巖

内閣総理大臣 伊藤博文殿

(『日本鉄道史』より作成)

(注3) 神奈川県の名。東京湾の入り口にある重要な場所で砲台が置かれた。

(注4) 海軍の区画。全国を第一海軍区から第四海軍区に分け、それぞれに軍港を設置し鎮守府を置いた。

問1 A B に当てはまる語の組合せとして正しいものを、次の①～④のうちから一つ選べ。解答番号は 1 。

- ① A—神 戸 B—逓信省
- ② A—神 戸 B—工部省
- ③ A—横 浜 B—逓信省
- ④ A—横 浜 B—工部省

問2 下線部分『鉄道唱歌』が発行された時期を、次の年表の①～④のうちから一つ選べ。

解答番号は ^(a) 2 。

年 表

1872年	鉄道開通
	①
1894年	日清戦争勃発
	②
1904年	日露戦争勃発
	③
1914年	第一次世界大戦勃発
	④
1937年	日中戦争勃発

問 3 下線部分^(b)横須賀への線路が敷設された経緯について、資料2から読み取れることとして最も適切なものを、次の①～④のうちから一つ選べ。解答番号は 。

- ① 鉄道敷設を急ぐ伊藤博文が、横須賀に軍港をもつ海軍に依頼した。
- ② 鉄道を敷設することによって、横須賀に鎮守府を置くことを可能とする。
- ③ 鉄道の敷設は、陸海軍の物資輸送に関わる重要な問題である。
- ④ 鉄道敷設を急ぐ海軍は、陸軍には相談をせずに依頼した。

問 4 資料3とレポートを読み、 に当てはまる語の組合せとして正しいものを、下の①～④のうちから一つ選べ。解答番号は 。

資料3

みわたすかぎり青々と
若葉波うつ桑畑
山のおくまで養蚕の
ひらけしさまの忙しさ

(『地理教育 鉄道唱歌 第四集 信越・北陸編』)

レポート

鉄道唱歌は、東海道線について歌った資料1だけでなく、日本全国の路線のものがあることが分かり調べてみました。その結果、資料3から、国家の政策と路線が広がった理由に関連があるものを見つけることができました。資料3は群馬県を走る路線を歌にしたもので、歌詞からは の生産が盛んであったことが分かります。さらに調べた結果、生産された は重要な であるため、鉄道で横浜港に運ばれたことが分かりました。

- ① C—生 糸 D—海外輸出品
- ② C—生 糸 D—生活必需品
- ③ C—綿 糸 D—海外輸出品
- ④ C—綿 糸 D—生活必需品

- 2 隈板内閣と呼ばれた第1次大隈重信内閣について書かれた、次の資料1・2を読み、後にある問1～問4に答えよ。

資料1 勝海舟の日記(意識してある)

しかし今度の内閣も、もはやそろそろ評判が悪くなって来たが、あれでは内輪もめをして、到底長く続かないよ。だいたい、重要人物である大隈重信と板垣退助の性質がまるで違って、板垣はお人よしだし、大隈は抜け目のない人だから、とても仲良くしてられるものか。遅かれ早かれ喧嘩するにきまっているよ。大隈でも板垣でも、民間にいたころには、人のやっているのを冷たく批判して、自分はどうまくやれると思っていただろうが、さて引き渡されてみると、そうはうまくはいかないよ。

(『氷川清話』より作成)

資料2 大隈重信の自叙伝(意識してある)

この総選挙は実に無事に行われて、その結果はもちろん **A** が大多数。そこでこれならば大丈夫行ける、必ず **B** 政治は達成できると考えたのであって、国民の希望もまたそこにあった。

しかし閣僚の一部に、まだ十分に意志の疎通ができていない者がいて、それに乗じて藩閥政治家たちからの中傷を受け、あの尾崎行雄の共和演説が導火線となり、意外にも **A** の内部で争いがおこった。それは、板垣は尾崎に代わり桂太郎もしくは西郷従道にしようとし、私が犬養毅にしようとしたので反対し、藩閥政治家たちと協力して、これをやめさせようということになった。そのため内閣の内外は険悪な空気となり、相次いで来る中傷と仲違いさせようとする動きに耐えられず、ついに崩壊した。

(『大隈重信自叙伝』より作成)

問 1 に当てはまる語句の組合せとして正しいものを、次の①～④のうちから一つ選べ。解答番号は 。

- ① A—立憲民政党 B—藩閥政治家たちによる
- ② A—立憲民政党 B—憲法にもとづく
- ③ A—憲政党 B—藩閥政治家たちによる
- ④ A—憲政党 B—憲法にもとづく

問 2 下線部分大隈重信と板垣退助に関連して、国会開設の勅諭をうけて2人はそれぞれ政党を結成した。大隈が結成した立憲改進黨の主張と、大隈と板垣の共通点の組合せとして正しいものを、下の①～④のうちから一つ選べ。解答番号は 。

主張

- ア イギリス流の議院内閣制を主張するなど穏健的な自由主義
- イ フランス流の急進的な自由主義

共通点


- ウ 条約改正交渉について批判され、襲撃を受けた。
- エ 新政府の参議であったが、政変によって政府を去った。

- ① アーウ
- ② アーエ
- ③ イーウ
- ④ イーエ

問 3 資料1・2から読み取ることができる勝と大隈の考えについて述べた文として、誤っているものを、次の①～④のうちから一つ選べ。解答番号は 。

- ① 勝は、大隈と板垣の対立から第1次大隈内閣が長続きしないと考えている。
- ② 勝は、政権の運営は、大隈と板垣が批判してきたほど簡単ではないと考えている。
- ③ 大隈は、桂太郎か西郷従道を尾崎の後任にしたかった。
- ④ 大隈は、共和演説事件が第1次大隈内閣崩壊のきっかけの一つだと考えている。

問 4 次の絵について、その説明文の に当てはまる語句の組合せとして最も適切なものを、下の①～④のうちから一つ選べ。解答番号は 。



説明文

この絵は、明治 29 年に出版された雑誌に掲載されたものです。第 2 次伊藤博文内閣が誕生すると、板垣退助は内務大臣となります。自由民権運動のリーダー的存在から立場を変えて、 内務省の大臣となったことを、下のコマで 的に表現しています。

- | | |
|----------------|------|
| ① C—言論思想を取り締まる | D—肯定 |
| ② C—言論思想を取り締まる | D—批判 |
| ③ C—皇室事務を管理する | D—肯定 |
| ④ C—皇室事務を管理する | D—批判 |

3 次の表と会話文を読み、後にある問1～問4に答えよ。

表 全国中等学校優勝野球大会 歴代優勝・準優勝校

大会	年	優勝校	準優勝校	全国大会 代表校数	地方予選大会 参加校数
第1回	1915	京都二中(京都)	秋田中(秋田)	10	73
第2回	1916	慶応普通部(東京)	市岡中(大阪)	12	115
第3回	1917	愛知一中(愛知)	関西学院中(兵庫)	12	118
第4回	1918	中止		14	137
第5回	1919	神戸一中(兵庫)	長野師範(長野)	14	134
第6回	1920	関西学院中(兵庫)	慶応普通部(東京)	15	157
第11回	1925	高松商(香川)	早稲田実(東京)	21	302
第12回	1926	静岡中(静岡)	大連商(満州)	22	337
第14回	1928	松本商(長野)	平安中(京都)	22	410
第16回	1930	広島商(広島)	諏訪蚕糸(長野)	22	541
第17回	1931	中京商(愛知)	嘉義農林(台湾)	22	634

※第7～10回、13回、15回は表記していない。

会話文

生徒：この夏休みに「夏のスポーツ」というテーマで高校野球について調べてみました。今「夏の甲子園」と呼ばれている選手権大会は「全国中等学校優勝野球大会」として大正時代に始まっていることが分かりました。

先生：大正時代には大学野球とともに学生のスポーツとして定着したんですね。

生徒：そのようです。野球人気で観客が増加したため、鉄道会社によって新たに球場が作られ、それが現在の阪神甲子園球場であることが分かりました。1927年からは試合の実況中継が行われるなど、メディアの発達も野球人気を支えたようです。

先生：1918年は、地方の予選は行われたけれど、全国大会は行われなかったということですか。

生徒：そのようです。この年の8月に富山県の漁村の主婦たちの行動をきっかけに広がった暴動が理由で中止になったようです。


問 3 下線部分富山県の漁村の主婦たちの行動をきっかけに広がった暴動について、暴動の背景を説明する際に適切な関連する資料と仮説の組合せとして最も適切なものを、下の①～④のうちから一つ選べ。解答番号は 11。

関連する資料

ア

	米価	指数
1900(明治 33)年	11 円 32 銭	100
1905(〃 38)年	12 66	112
1910(〃 43)年	12 93	114
1915(大正 4)年	12 47	110
1916(〃 5)年	13 26	117
1917(〃 6)年	19 35	171
1918(〃 7)年	31 82	281
1919(〃 8)年	45 49	402

イ



仮 説

- ウ 暴動がおきたのは、農業の生産額が減少したことで市場への供給量が減少したからではないか。
- エ 暴動がおきたのは、安定して推移していた米価が高騰したからではないか。

- ① アーウ ② アーエ ③ イーウ ④ イーエ

問 4 表中から読みとれることとして適切でないものを、次の①～④のうちから一つ選べ。

解答番号は 12。

- ① 経済の低迷を背景に 1920 年代後半は、地方予選の参加校が減少したことが分かる。
- ② 日本の植民地となっていた地域からも、代表校が出場していたことが分かる。
- ③ 福沢諭吉や大隈重信にゆかりのある学校も出場していたことが分かる。
- ④ 日本の生糸産業に関連する学校が、決勝戦に進出していたことが分かる。

4 次の文を読み、後にある問1～問4に答えよ。

枢密院議長の清浦奎吾が **A** の支持を得て内閣を組織すると、それに反発した三つの政党が護憲三派を結成して対立した。^(a)総選挙で護憲三派が大勝すると、第一党になった **B** の党首が首相となり護憲三派の連立内閣が成立した。以後、^(b)「憲政の常道」と言われる政党政治が行われた時代が訪れた。^(c)

問1 **A** **B** に当てはまる語の組合せとして正しいものを、次の①～④のうちから一つ選べ。解答番号は **13**。

- ① A—貴族院 B—憲政会 ② A—貴族院 B—立憲国民党
 ③ A—衆議院 B—憲政会 ④ A—衆議院 B—立憲国民党

問2 下線部分^(a)総選挙は、次の表中のどの時期に行われたか。会話文を参考に最も適切なものを、下の①～④のうちから一つ選べ。解答番号は **14**。

表 衆議院選挙実施年と有権者数

年	有権者数	
1912	1,506,143	ア
1915	1,546,411	
1917	1,422,126	イ
1920	3,096,148	
1924	3,288,405	ウ
1928	12,408,678	
1930	12,812,895	エ

会話文

先生：有権者数の変化に何か特徴はあるかな。
 生徒：段階的に増加していることが分かります。
 先生：そうだね。直接国税の納税額の制限を徐々に下げることで、有権者数は増えていったんだね。
 生徒：1928年の総選挙の時には納税額による制限はなくなったと勉強しました。

- ① ア ② イ ③ ウ ④ エ

- 問 3 下線部分^(b)護憲三派の連立内閣について、この内閣が制定した治安維持法の内容を示した資料と、この法律が制定される背景となるできごとの組合せとして最も適切なものを、下の①～④のうちから一つ選べ。解答番号は 15。

資料(意識してある)

- ア 天皇制を変革したり私有財産を否定するようなことを目的に結社を組織したり、その事情を知ったうえでその組織に加入した者は10年以下の懲役または禁錮刑に処する。
イ 治安を守るために必要な場合には警察官が屋外の集会や運動をすることを制限、もしくは禁止、解散させ、屋内の集会も解散させることができる。

できごと

- ウ 労働組合期成会の指導の下で労働組合が相次いで結成された。
エ 初めて社会主義国との国交を樹立した。

- ① アーウ ② アーエ ③ イーウ ④ イーエ

- 問 4 下線部分^(c)「憲政の常道」と言われる政党政治が行われた時期に実施された経済政策を説明したものと適切なものを、次の①～④のうちから一つ選べ。解答番号は 16。

- ① 講和条約で得た賠償金を準備金として金本位制に移行した。
② 歳出の削減や増税、鉱山経営などの官営事業の払い下げを行い紙幣の整理を進めた。
③ 経済安定九原則が示されて物価の統制や賃金の安定が図られた。
④ 恐慌下の企業競争激化を背景に各産業部門のカルテルを法的に認めた。

- 5 資料1は、アメリカからハル＝ノートが示された直後に昭和天皇との間に交わされた会話における各重臣たちの主張をまとめたものである。これを読み、後にある問1～問4に答えよ。

資料1

(昭和天皇の「大変難しい時代になったね」との言葉に対して)

岡田啓介 : 戦争となると物資の補給能力について成功の見通しがあるかとても心配である。^(a)

平沼騏一郎 : すでに4年にわたる戦争を遂行している今日、さらに長期の戦争となれば困窮や欠乏に耐えなければならないので、民心を引き締めていく点については十分の施策と努力が必要である。^(b)

近衛文麿 : 自分は日米国交調整に努力してきたが、ついにその成果を挙げるができなかったのは大変残念だ。政府は日米交渉を続ける見込みがないと言っているが、外交交渉が決裂したからといってすぐに戦争に訴える必要があるだろうか。

広田弘毅 : 政府の説明によれば今日は外交上の危機に立っているように思われるが、すぐに戦争に突入するのはいかがなものか。

林銑十郎 : 政府が大本營(注1)と協力して十分検討した結論であるから、信頼するしかないと思う。

阿部信行 : 政府はあらゆる角度からよく考えたようだから、日米交渉を諦める以上の解決策は望めないと思う。ただ、中国民衆の心の動向については慎重に対処しなければならず、一度誤れば今日までに得た成果をも失ってしまう恐れがあると思う。

若槻礼次郎 : 大東亜共栄圏の確立とか東アジアの安定勢力とかの理想にとらわれて国力を使うことは非常に危険だから、よく考えなければならない。

(『木戸幸一日記』より作成)

(注1) 戦時または事変の際に、天皇に直属して陸海軍を統帥した最高機関。

問 1 下線部分物資の補給能力について成功の見通しがあるかとても心配である理由について、生徒 Z は資料 2 に基づいて考察文を書いた。 に当てはまる語句の組合せとして正しいものを、下の①～④のうちから一つ選べ。

解答番号は 。

資料 2 日本の主要貿易相手国・地域(1935年)

順位	輸 出	輸 入
1	中国	アメリカ
2	アメリカ	イギリス領インド
3	イギリス領インド	中国
4	インドネシア(注2)	オーストラリア
5	イギリス	ドイツ

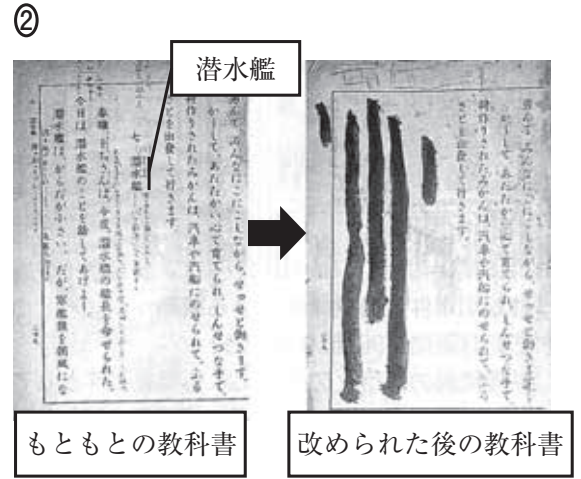
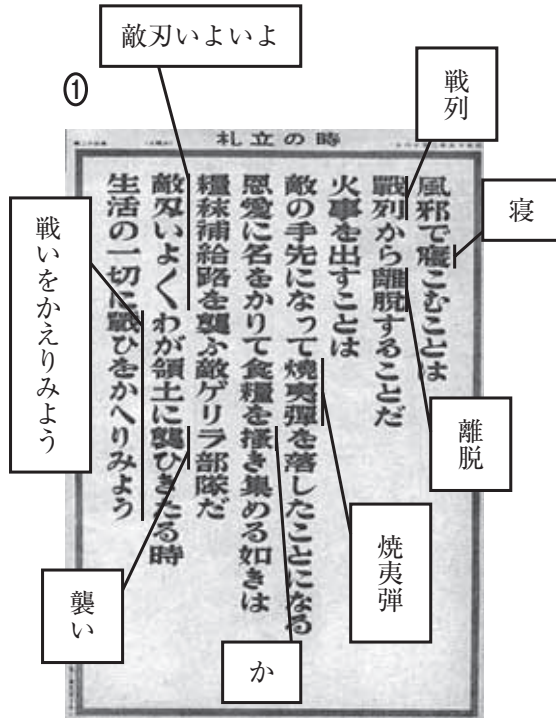
(注2) 1935年当時はオランダ領東インドと呼ばれていた。

考察文


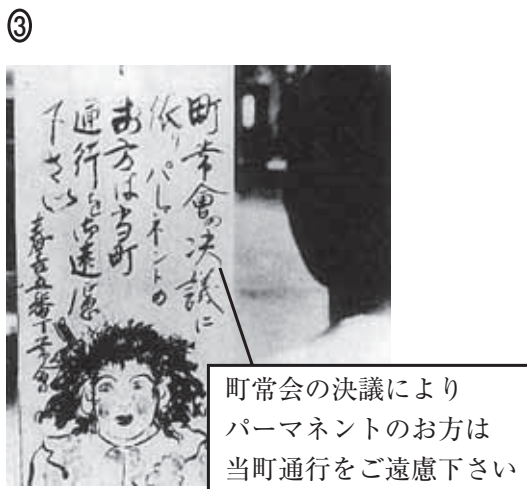
すでに行われていた に加え、主要貿易相手国は現在戦争中、およびこれから戦争をすることが予想された国家とその植民地が多いことから、
 と予想されたため。

- ① A—北大西洋条約機構の設立
B—援蔣ルートが危険にさらされて戦況が有利となる
- ② A—北大西洋条約機構の設立
B—貿易による外貨や物資の獲得が難しくなる
- ③ A—アメリカによる対日石油輸出の禁止
B—援蔣ルートが危険にさらされて戦況が有利となる
- ④ A—アメリカによる対日石油輸出の禁止
B—貿易による外貨や物資の獲得が難しくなる

問 2 下線部分**民心を引き締めるための政策が行われたことを示す資料として適切でないもの**を、次の①～④のうちから一つ選べ。解答番号は **18**。



出典：プロムナード日本史/浜島書店



問 3 資料 1 について述べた文として**適切でないもの**を、次の①～④のうちから一つ選べ。解答番号は **19**。

- ① この会話が行われた際の首相は東条英機である。
- ② 重臣の多くは開戦に消極的である。
- ③ 満州事変が勃発した際の首相は開戦に積極的である。
- ④ 平沼の言う「4年にわたる戦争」とは日中戦争のことである。

問 4 生徒 Y は資料 1 を読んでいくつかの疑問をもち、それを調べるために必要と思われる資料を用意した。両者の組合せとして適切でないものを、下の①～④のうちから一つ選べ。
 解答番号は 20。

疑 問

- ア 阿部信行の言う「今日までに得た成果」とはどのようなものだったか。
- イ 若槻礼次郎の言う「大東亜共栄圏」とはどのようなものだったか。

資 料

甲

- ・ 中国と国交がない状態で貿易を開始した。
- ・ 中華人民共和国政府を「中国で唯一の合法的な政府」と認めた。
- ・ 日中平和友好条約を締結した。

乙

- ・ 日満議定書を結び、正式に満州国を承認した。
- ・ 盧溝橋事件を発端として戦闘を展開し、南京を占領した。
- ・ 国民党の幹部である汪兆銘に、新しい政府を作らせた。

丙



「各民族が協力してイギリスをアジアから追い出そう」ということが書いてある

丁

オランダ領東インドの子どもたち



- ① アー甲 ② アー乙 ③ イー丙 ④ イー丁

6 表は、1946年および1970年に長谷川町子作『サザエさん』で取り上げられた、当時の社会情勢に関するテーマをまとめたものである。これを見て、後にある問1～問4に答えよ。


表

1946年		1970年	
テーマ	回数	テーマ	回数
海外からの復員	4	C	7
進駐軍	4	インフレーション	4
A のための遠出	4	猛烈社員	3
家の裏庭で野菜づくり	3	D	2
伝染病	2	三億円銀行強盗、 <u>経済大国日本</u> 、ゴミ (b) 処理、資本主義の矛盾、貨幣危機 など	1
B	2		
代用食、速成英語学習コース、不良食品、 <u>インフレーション</u> 、男女同権につ (a) いての討論会、兵士の帰宅 など	1		


(『戦後日本の大衆文化』より作成)

問 1 花子さんは、日本史の授業で学んだことと資料 1・2 から読み取れることを考え合わせて、表のテーマの言葉を用いながら文 1 を作った。 に当てはまる語の組合せとして正しいものを、下の①～④のうちから一つ選べ。解答番号は 。

資料 1



資料 2



おこめがわりの
えんどうの だ

(『長谷川町子全集 第一巻 サザエさん①』より作成)

文 1

敗戦直後には、人びとは「家の裏庭で野菜づくり」や「 のための遠出」などをして食糧確保に努めた。それは「海外からの復員」や「兵士の帰宅」などにより国内の人口が増加して食糧不足に拍車がかかり、食糧の「 」が十分に行われないことがあったためである。


- ① A—食糧買い出し B—配給 ② A—食糧買い出し B—輸出
 ③ A—引揚げ B—配給 ④ A—引揚げ B—輸出

問 2 太郎さんは、日本史の授業で学んだことと資料3・4から読み取れることを考え合わせて、表のテーマの言葉を用いながら文2を作った。 に当てはまる語の組合せとして正しいものを、下の①～④のうちから一つ選べ。解答番号は 。

資料3



資料4



(『サザエさん④』、『サザエさん④』より作成)

(注) 車の排気ガスなどに含まれる化学物質が紫外線と反応して発生する、目やのどを刺激する霧状の有害物質。

文2

「猛烈社員」に支えられた日本は高度経済成長を成し遂げ、「経済大国日本」となった。“人類の進歩と調和”をスローガンに、太陽の塔をシンボルとして行われた「 」はそのことを世界にアピールする機会となった。

一方「 」や「ゴミ処理」問題など「資本主義の矛盾」も噴出し、社会問題となった。

- | | | | |
|--------------|--------|--------------|------|
| ① C—日本万国博覧会 | D—欠食児童 | ② C—日本万国博覧会 | D—公害 |
| ③ C—東京オリンピック | D—欠食児童 | ④ C—東京オリンピック | D—公害 |

問 3 下線部分インフレーションの**原因**と**影響**について述べた文の組合せとして適切なものを、
下の①～④のうちから一つ選べ。解答番号は 23。

原因

ア 土地投機に支えられてバブル景気が進んだこと。

イ 終戦処理のため通貨が増発されたこと。

影響

ウ 大量の不良債権を抱えた金融機関の経営が悪化し、複合不況となった。

エ 基幹産業を巻き込んで二・一ゼネストが計画された。

- ① アーウ ② アーエ ③ イーウ ④ イーエ

問 4 下線部分**経済大国日本**について、そのことを示す 1970～1980 年代のできごととして適切なものを、次の①～④のうちから一つ選べ。解答番号は 24。

① 『経済白書』に「もはや戦後ではない」と記された。

② 太平洋ベルト地帯と呼ばれる巨大な重化学工業地帯が形成されはじめた。

③ 一人当たりの国民所得がアメリカを抜き、貿易黒字により世界最大の債権国となった。

④ 携帯電話の台数が一般の加入電話を上回った。

7 近現代の学習のまとめとして、生徒が行っている探究活動Ⅰ・Ⅱについて、後にある問1～問4に答えよ。


I

資料1

私の考えでは、われわれのこの薩摩訪問は大変な欺瞞^{ぎまん}的行為であって、東海道でリチャードソン(注1)の斬殺を命令した悪党(島津久光)(注2)と宴席をともにするなんて、まったく穏当なことではありません。私は、すくなくとも彼ほどいやな表情の顔を見たことがない、と言いたいくらいです。

(注1) イギリス人の商人。 (注2) 実際に命じたかどうかは明らかでない。

資料2 「列強クラブの仲間入り」



(『ビゴーが見た日本人』より作成)

会話文

先生：この班は、どのようなテーマで探究活動を行っていますか。

生徒X：「外国人が記した日本」というテーマを設定し、資料を集めています。資料1では **A** 事件を背景とした、イギリス外交官である筆者の薩摩訪問への抵抗感が述べられています。また資料2からは、その後イギリスと日本が接近したことが見て取れます。

先生：資料2が描かれた背景としては、どのようなことがあったのでしょうか。

生徒Y： **B** ことがあったと思います。

問 1

A

B

 に当てはまる語句の組合せとして最も適切なものを、次の①～④のうちから一つ選べ。解答番号は

25

 。

- ① A—フェートン号 B—領事裁判権の撤廃が約束された後、日清戦争に勝利した
 ② A—フェートン号 B—第一次世界大戦後、国際連盟の常任理事国となった
 ③ A—生 麦 B—領事裁判権の撤廃が約束された後、日清戦争に勝利した
 ④ A—生 麦 B—第一次世界大戦後、国際連盟の常任理事国となった

II

資料 3

美濃部達吉博士は、東京帝大の老教授で、三十年にわたって日本公法学界の第一人者だったが、反動的運動の犠牲者としてガリレオと同じ運命に見舞われることとなった。…(中略)…白髪教授に対する最初の攻撃は、まさにその貴族院の本会議でおこった。…(中略)…教授はこの説を三十年にわたって講義してきたし、天皇周辺でも容認されている学説だ。
 (a)

資料 4

貿易取引にあたり単一為替レートの早期決定が一般に要望されている。この要望はよく解っており、できるだけ早く実現できるように当局でも考えている。…(中略)…真の安定と進歩とは国家的諸問題を健全な財政通貨政策で処理することに立脚しなければならない。…(中略)…米国が要求し同時に日本が必要とすることは、対日援助を終わらせることと日本の自立のためへの国内建設的な行動である。…(中略)…すなわち日本の経済は両足に地をつけていず、竹馬にのっているようなものだ。竹馬の片足は米国の援助、他方は国内的な補助金の機構である。

会話文

生徒 Y：次は昭和時代に入り深刻な恐慌が続く中で、日本が対外進出をはかっていった後の資料です。

先 生：では資料 3 について簡単に説明してください。

生徒 Z：資料 3 は、日本に派遣されていた東欧の新聞社の記者による記事です。これまで受容されていた憲法学説が、社会情勢の変化により批判を受けたことを記しています。この記者は、その後太平洋戦争中に、スパイ容疑で逮捕されました。

先 生：東欧からもこのような派遣記者が来日していたのですね。私もはじめて知りました。

生徒 X：資料 4 は、敗戦した日本の占領政策に関わる文書です。主に経済政策の内容が書かれています。この時日本では、同じ人物がしばらく首相を務める長期政権になっていました。

先 生：資料はそれぞれ違う国の人物によるものを選んだことが分かりました。それで今後の探究活動の課題をどのように考えていますか。

(b)

問 2 資料 3・4 について述べた文として適切でないものを、次の①～④のうちから一つ選べ。

解答番号は 。

- ① 資料 3 が書かれた時の首相は、岡田啓介であった。
- ② 資料 3 のできごとがおこった背景として、普通選挙を求める動きが活発になったことがあった。
- ③ 資料 4 が示された時の首相は、吉田茂であった。
- ④ 資料 4 が示された背景には、アジアにおける冷戦の深まりがあった。

問 3 下線部分^(a)天皇について、明治時代以降の天皇に関連する次の文ア～ウを年代の古い順に正しく並べたものを、下の①～④のうちから一つ選べ。解答番号は 。

- ア 新日本建設に関する詔書の中で、自らの神格を否定した。
- イ 大津事件の際に、事件に関する報道の差し止めを行う緊急勅令を発した。
- ウ 張作霖爆殺事件の処理について、当時の首相を叱責した。

- ① ア→イ→ウ ② ア→ウ→イ ③ イ→ア→ウ ④ イ→ウ→ア

問 4 下線部分課題について、探究活動 I・II をさらに発展させるために生徒があげた課題と、
 (b) それに対して用意した資料の組合せとして最も適切なものを、下の①～④のうちから一つ選
 べ。解答番号は 28。

課 題

- ア 欧米人が記した資料のみでなく、違う地域の人々の立場から記された資料を探すと新しい視点が得られると思います。
- イ 日本が占領下から独立した後の時代の資料があれば、もっと考察の幅が広がると思います。

資 料

ウ

はむかえ！はむかえ！
 二人して抵抗の
 さてどっちが勝るか試してみよう
 第一戦は一月の一日まで
 日本の品物買うのをやめ
 …(中略)…
 第三戦は三月の三日まで
 とられし台湾とりかえし
 第四戦は四月の四日まで
 二十一カ条は取り消さねば

エ



- ① アーウ ② アーエ ③ イーウ ④ イーエ

(これで日本史 A の問題は終わりです。)


日 本 史 B

(解答番号 ~)

1 次のⅠ・Ⅱについて、後にある問1～問4に答えよ。

Ⅰ

資料1 荒神谷遺跡(島根県)から出土した銅剣



出典：国（文化庁保管）
写真提供：島根県立古代出雲歴史博物館

資料2 稲荷山古墳(埼玉県)から出土した鉄剣の銘文(意識してある)

辛亥年に記す。乎^ヲ獲^フ居^ケ臣は、…(中略)…(注)。代々、杖刀人の主として仕えてきて今に至る。獲^ワ加^カ多^タ支^シ鹵^{ケル}大王が斯^シ鬼^キ宮で在位していた時、私は大王が天下を治めるのを補佐した。この百回鍛えた名刀を作らせ、私が仕えてきた由来を記しておく。

(注) 中略の部分には乎獲居臣の先祖代々の名前が書いてある。

問 1 次の会話文は、資料 1 を見た生徒と先生のものである。 に当てはまる語句の組合せとして最も適切なものを、下の①～④のうちから一つ選べ。

解答番号は 。

会話文

生徒：銅剣がこんなにたくさんあったということは、それだけ戦いがあったことの証拠ですか。

先生：いいえ、そうとは言えません。この遺跡もそうですが、銅剣は として用いられたとみられる出土例が多いからです。

生徒：では、どういうものが、弥生時代に戦いがあったことの証拠になりますか。

先生：例えば という内容が記述されていることなどからは、この時代に戦いがあったことが推測されますね。

- | | | |
|---|-------|----------------------|
| ① | A—祭 器 | B—「好太王碑」に高句麗と倭国が争った |
| ② | A—祭 器 | B—『後漢書』東夷伝に倭国が大いに乱れた |
| ③ | A—農 具 | B—「好太王碑」に高句麗と倭国が争った |
| ④ | A—農 具 | B—『後漢書』東夷伝に倭国が大いに乱れた |

問 2 資料 2 の内容をもとに推定できることとして適切でないものを、次の①～④のうちから一つ選べ。解答番号は 。

- ① ワカタケル大王の葬られている古墳の場所。
- ② 日本語の人名や地名を、漢字を用いて表す方法。
- ③ この時期に天下を治めていた君主の称号。
- ④ ヲワケという人物が政権ではたしていた役割。

Ⅱ

レポート 生徒の行った日本刀についての自由研究

日本刀といえば、^そ反りの入った刀身の特徴とするもので、平安時代末期にその形状は完成したと言われる。もともと日本の刀は、真っ直ぐな刀身を持つ直刀が主流であった。しかし、7～9世紀の東北地方・北海道などによくみられる^{わらびてとう}蕨手刀は反りを持つもので、この影響を受けて、刀身の反った刀が次第に作られるようになり、何段階かの変化を経て、平安時代末期には日本刀へと変化していった。日本刀は、ただよく切れるだけでなく、折れても曲がってもいけないということも求められ、次第に技術改良も進んだ。異なる硬さの^{はがね}鋼を組み合わせることで、折れも曲がりもせず、よく切れる日本刀を作る、という技術は遅くとも鎌倉時代後期には確立していたとみられる。

資料3 『北野天神縁起絵巻』の一場面



問3 レポートの内容をふまえて、日本刀が誕生するまでの歴史について生徒がより研究を深めるためにすべきこととしてふさわしくないものを、次の①～④のうちから一つ選べ。

解答番号は 。

- ① 蝦夷との交流や、朝廷に帰順した蝦夷たちの分布を調べる。
- ② 鉄の生産地や鉄の加工技術の発展を調べる。
- ③ 武士が誕生して展開する中での戦い方の変化を調べる。
- ④ 朝廷が南北に分裂して戦乱が全国に展開したこととの関連を調べる。

問 4 次の会話文は、資料 3 を見た先生と生徒たちのものである。 に当てはまる人物の組合せとして最も適切なものを、下の①～④のうちから一つ選べ。

解答番号は 。

B

会話文

先生：この絵巻は鎌倉時代に描かれた『北野天神縁起絵巻』の一場面です。10世紀の初めにおこったできごとのようすが描かれています。黒い雲の上にいるのは、政変で左遷されて怨霊となったと噂された人物で、宮中で刀を振りかざしている左の人物はその政敵です。

生徒X：怨霊となったと噂された人物とは のことですね。

先生：はい、そうです。

生徒X：よく見ると、左の人物は刀を構えていますね。そういえば、レポートでは、日本において刀身の反った刀がどの時点で主流になったのかは、はっきりとは示されていませんでしたよね。

先生：そうでしたね。平安時代末期頃に日本刀が成立するまでのどこか、ということは分かりましたが。

生徒Y：絵巻では、左の人物の刀は、反りの入った形で描かれていますね。これは、10世紀の初めには、刀身の反った刀が宮中ですでに用いられていたと言える、確実な証拠になりますね。

生徒Z：その可能性もありますが、この絵巻が制作された鎌倉時代の刀が描かれている可能性も考えるべきなのではありませんか。

先生：皆、鋭い意見を出してくれたと思います。でも、絵巻という歴史資料に描かれた、左の人物の刀についての解釈としては、 さんの意見の方が妥当ですね。

- | | | | |
|----------|-------|----------|-------|
| ① C—菅原道真 | D—生徒Y | ② C—菅原道真 | D—生徒Z |
| ③ C—伴善男 | D—生徒Y | ④ C—伴善男 | D—生徒Z |

2 中世の一揆について述べた次のレポート1～5について、後にある問1～問4に答えよ。

レポート1

13世紀後半に成立した鎌倉幕府の歴史書『吾妻鏡』には、源頼朝が挙兵したばかりの治承4(1180)年9月30日の記事に、頼朝が味方につけようと新田義重という武士に手紙を送ったが、「東国未だ一揆せざるの時」であり、義重自身も名門の出身であったことから、頼朝に返事をしなかった、と書かれている。「東国未だ一揆せざる」とは、東国の という意味であると解釈できる。

レポート2

公家の日記などを抜粋した13世紀の歴史書『百鍊抄』には、嘉禎元(1235)年8月5日の延暦寺の動向として「衆徒一揆」という表現が用いられている。延暦寺などの僧侶たちが集団で合議し、その決定に基づいて、 ことは平安時代後期からよく見られたが、これも一揆の原型であると考えられる。

レポート3

南北朝の内乱の中で、地頭などの形で所領を支配していた領主たちは在地に土着し、 と呼ばれるようになるが、彼らはしばしば一揆を結ぶようになり、時には守護による支配にも抵抗した。

レポート4

康暦元(1379)年には佐々木氏、土岐氏などの守護大名たちが花の御所を取り囲んで管領細川頼之の罷免を將軍足利義満に訴えたが、当時の公家の日記には、「佐々木、土岐などの一揆衆のしわざである」と記されている。その後の義満は ようになるが、將軍の邸宅を守護大名たちが取り囲む行為はその後も発生した。

レポート5

室町時代には一揆はさらに盛んになった。正長元(1428)年の正長の徳政一揆、文明17(1485)年に始まった山城の国一揆、長享2(1488)年に始まった加賀の一向一揆、天文元(1532)年から京都の市中で自治を行った法華一揆などは特に有名である。

問 1 に当てはまる語句の組合せとして最も適切なものを、次の①～④のうちから一つ選べ。解答番号は 。

- ① A—百姓たちが反乱をおこしていない B—僧兵たちが神輿などをついで強訴を行う
- ② A—百姓たちが反乱をおこしていない B—極楽往生を求め踊念仏を行う
- ③ A—武士たちがまだまとまっていない B—僧兵たちが神輿などをついで強訴を行う
- ④ A—武士たちがまだまとまっていない B—極楽往生を求め踊念仏を行う

問 2 に当てはまる語句の組合せとして最も適切なものを、次の①～④のうちから一つ選べ。解答番号は 。

- ① C—国 人 D—応永の乱などを通じて有力な守護の勢力の削減につとめる
- ② C—国 人 D—近江・美濃・尾張の3国に初めて半済令を出すなど守護の権限を拡大する
- ③ C—国 造 D—応永の乱などを通じて有力な守護の勢力の削減につとめる
- ④ C—国 造 D—近江・美濃・尾張の3国に初めて半済令を出すなど守護の権限を拡大する

B

問 3 次の資料は、下線部分^(a)正長の徳政一揆についての日記である。この内容に対する問いとして適切でないものを、下の①～④のうちから一つ選べ。解答番号は 。

資 料

正長元年九月 日、一天下の土民(注1)蜂起す。徳政と号し、酒屋、土倉、寺院等を破却(注2)せしめ、^{ぞうもつ ほしいまま}雑物等 恣にこれを取り、^{しゃくせん ことごと}借錢等 悉くこれを破る。管領これを成敗す(注3)。凡そ亡国の基、^{おおよ もと}これに過ぐべからず。日本開白(注4)以来、土民蜂起是れ初めなり。

(『大乘院日記目録』、原漢文)

(注1) 農民や馬借などの一般庶民を支配者側が呼ぶ言い方。

(注2) 壊すこと。

(注3) 管領の畠山満家がこれを討伐した。

(注4) 日本の始まり。

- ① 庶民たちは破壊活動をしているが、なぜその際に「徳のある政治」を意味する「徳政」という言葉を用いたのだろうか。
- ② 庶民たちが蜂起をおこしたのが初めてだと書いてあるが、それが本当だとしたら、今まで蜂起がなかったのはなぜだろうか。
- ③ 高利貸しである土倉だけでなく、酒屋や寺院まで攻撃されたのはなぜだろうか。酒屋や寺院と、金銭の貸し借りはどのような関係があったのだろうか。
- ④ 幕府はなぜ要求を受け入れて徳政令を発布したのだろうか。幕府にとっての利点は何だろうか。

問 4 下線部分^(b)一向一揆が盛んになった背景として考えられるものとして最も適切なものを、次の①～④のうちから一つ選べ。解答番号は 。

- ① 寺院が豪族の権威を示すものとなったから。
- ② 鎮護国家思想に基づき朝廷から保護されたから。
- ③ 民衆への熱心な布教活動があったから。
- ④ 幕府の有力者から帰依を受けたから。

3 次のⅠ・Ⅱについて、後にある問1～問4に答えよ。

Ⅰ

資料(意識してある)

国持大名(注1)の転封は例のないことであるとして、譜代大名ばかりに転封を命じられることは、片方だけを^{ひいき}贖^{ひいき}しており、よくないことである。転封による出費は、およそ十年の痛みとなると昔から申し伝えられている。そのため、昔は転封があると、必ず領地が増加されたものである。ついこの前までは、金^{かし}が下賜されたこともあった。しかし、近年、領地の加増や金の下賜がないのは、それを行うと幕府にとって都合が悪いからである。国持大名を痛めず、譜代大名を痛めることに何の道理があるとも言い難い。老中になれば、関八州(注2)に転封をするのも無益である。姫路・兵庫・淀^{よど}・郡山^{こおりやま}などは要衝の地であるといっ
て、幼少の者が大名となると転封をするのは、古い仕来りばかりを守っているだけで、無益である。幼少の大名でも、家老がしっかりとしており、武義を忘れなければ転封をさせなくても良いだろう。

(『政談』より作成)

(注1) 律令国郡の一国一円あるいはそれに準ずる範囲を領有する大名のこと。

(注2) 相模、武蔵、安房、上総、下総、常陸、上野、下野の8か国の総称のこと。

会話文

先生：この資料は、江戸幕府8代将軍徳川吉宗に儒学者の荻生徂徠が献上した『政談』という資料だよ。徳川吉宗は **A** をした将軍ですね。

生徒：荻生徂徠は資料の中で大名の転封について論じていますね。

先生：そうだね。国持大名と譜代大名の転封について、両者を比較しながら自分の考えを述べている部分だね。

生徒：特に私は、下線部分について興味を持ちました。この時期、幕府が大名の転封に対して支援を行わなかった理由について、「**B**」というテーマで調べてみます。

先生：良いテーマですね。是非レポートにまとめて、次の授業の時に発表してください。

問 1 に当てはまる語句の組合せとして最も適切なものを、次の①～④のうちから一つ選べ。解答番号は 。

- | | | |
|---|---------------------|-----------------|
| ① | A—目安箱の設置や公事方御定書の制定 | B—なぜ藩政改革は行われたのか |
| ② | A—目安箱の設置や公事方御定書の制定 | B—幕府財政は悪化していたのか |
| ③ | A—生類憐みの令の制定や湯島聖堂の設立 | B—なぜ藩政改革は行われたのか |
| ④ | A—生類憐みの令の制定や湯島聖堂の設立 | B—幕府財政は悪化していたのか |

問 2 次のア・イは実際に行われた大名の転封について示したものである。資料で批判されている転封の具体例として適切であるかどうかの組合せとして正しいものを、下の①～④のうちから一つ選べ。解答番号は 。

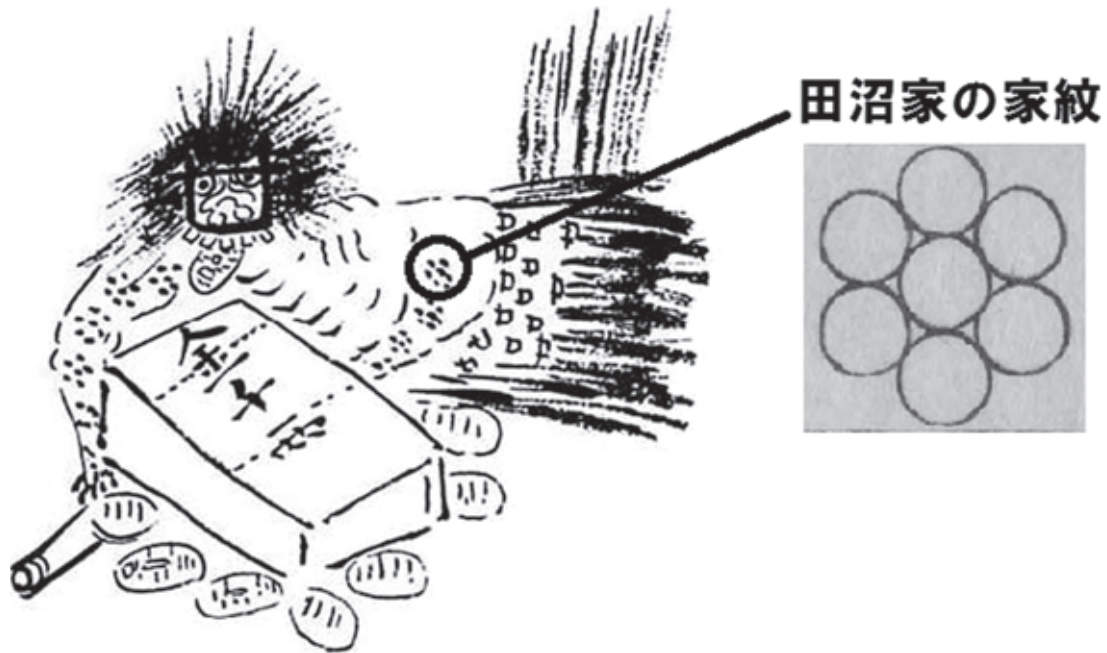
ア 老中に就任した大名が、下総国の佐倉藩^{さくら}に転封を命じられた。

イ 姫路を領有した大名が、幼少であったため、転封を命じられた。

- | | | | | | |
|---|---------|---------|---|---------|---------|
| ① | ア—適切である | イ—適切である | ② | ア—適切である | イ—適切でない |
| ③ | ア—適切でない | イ—適切である | ④ | ア—適切でない | イ—適切でない |

Ⅱ

図



会話文

生徒：図に描かれたばけものは、誰のことを間接的に批判して描かれたものだろう。

先生：図に描かれたばけものの体には、田沼家の家紋である七曜星しちようせいが書き込まれており、金貨や千両箱も描かれていることから、賄賂わいろや縁故による政治が横行した時代を生きた田沼意次を批判して描いたものだと分かるよ。この図に描かれた特徴を考えると **C** も田沼意次を批判して描かれたものであることが分かるね。

生徒：たしかにそう言われてみると、図のばけものの歯も、田沼意次が老中の時に鑄造された南鐐二朱銀を示しているようですね。田沼意次は、ばけものとして描かれるくらい人びとを困らせる政治を行ったのですね。


先生：そうした一面があるのはたしかだね。でも、田沼意次は、長崎貿易の拡大や蝦夷地開発計画を進めたことなどから **D** と評価されることもあるよ。

生徒：そうなのですか。たしかに田沼意次が活躍した宝暦から天明期にかけて、国学や蘭学などの諸学問や、美術・文学など、多方面で多彩な文化も発展しましたよね。一人の人物の功績を評価する際は、功罪両面に光をあてていく必要がありますね。

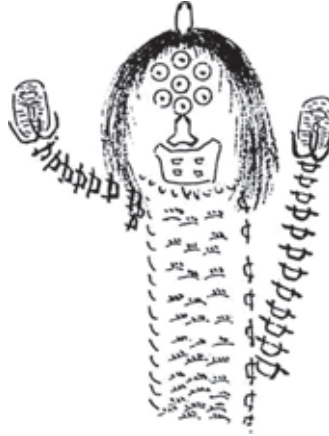
問 3 C に当てはまる絵と D に当てはまる語句の組合せとして適切なものを、下の①～④のうちから一つ選べ。解答番号は 11。

絵

ア



イ



語 句

ウ 質素・儉約を基本とし、農村復興政策に取り組んだ人物

エ 重商主義を基調とし、積極的な経済政策を展開した人物

① アーウ

② アーエ

③ イーウ

④ イーエ

B

問 4 下線部分多彩な文化に関するこの時期の資料とその説明の組合せとして適切なものを、下の①～④のうちから一つ選べ。解答番号は 12。

資料

ア



イ



説明

- ウ 書家や俳人らが、明や清の影響を受けて描いた文人画である。
- エ 江戸の画家の作品で、絹地に彩色した肉筆画として描かれた。

- ① アーウ ② アーエ ③ イーウ ④ イーエ

4 次の会話文と資料1・2を読み、後にある問1・問2に答えよ。

会話文

先生：次の資料1は、鉄道路線の名所や歴史が歌詞に歌われ大ヒットした『鉄道唱歌』です。
第一集の東海道編だけで66番まであります。

資料1

- 1番 きてきいっせい 汽笛一声新橋を
はや我きしゃ汽車は離れたり
あたご 愛宕の山(注1)に入りのこる
月を旅路の友として
- 10番 汽車よりずし逗子(注2)をながめつつ
はや横須賀に着きにけり
見よやドックに集まりし
わが軍艦の壮大を

(『地理教育 鉄道唱歌 第一集 東海道編』)

(注1) 東京都港区にある丘。

(注2) 神奈川県の名。横須賀へ敷設された路線に駅ができた。

生徒：日本で初めての鉄道は、1872年に1番の歌詞に歌われる新橋駅を起点に敷設が始まり、その後全国に路線が広がっていったのですよね。1番の歌詞からは旅が始まるワクワクした気持ちが表現されているように思います。当時の人びとが旅をするために、鉄道の路線が広がっていったのですか。

先生：鉄道開業当初、鉄道の敷設は、政府の事業として行われました。つまり、国家の政策と路線が広がった理由には関連があるということですね。『鉄道唱歌』が発行された時期は、三国干渉後の「がしんしょうたん臥薪嘗胆」という言葉に表されるように、朝鮮半島と満州の支配権をめぐる大きな戦争に備えて国力を強化していく時期なのです。

生徒：10番の歌詞は、そのような時代背景をよく表していますね。

先生：当時は、東海道線の一部として扱われていた、横須賀への線路が敷設された経緯は、資料2を読むと分かりますよ。

資料2 (意識してある)

横須賀または^{かんのんざき}観音崎(注3)へ停車場を設置する件

相模国の横須賀は^{だいちかいぐんく}第一海軍区(注4)の海軍港であり、造船所や武器庫・倉庫の他、病院や兵隊の宿舎や練習艦があり、それを鎮守府が管轄している、…(中略)…しかし、東京から横須賀・観音崎へはただ海運があるのみで、険しい丘が多く馬車も通れない、強風や高波のために運輸が途絶えてしまう。…(中略)…よって、鉄道の敷設は陸海軍の軍略上きわめて大事な問題であり、陸軍と海軍の両軍の勝敗に関係するため、至急に鉄道の設置について閣議で審議していただきたい。

明治十九(1886)年六月二十二日

海軍大臣 西郷従道

陸軍大臣 大山巖

内閣総理大臣 伊藤博文殿

(『日本鉄道史』より作成)

(注3) 神奈川県の名。東京湾の入り口にある重要な場所で砲台が置かれた。

(注4) 海軍の区画。全国を第一海軍区から第四海軍区に分け、それぞれに軍港を設置し鎮守府を置いた。

問1 下線部分横須賀への線路が敷設された経緯について、資料2から読み取れることとして適

切なものを、次の①～④のうちから一つ選べ。解答番号は 13。

- ① 鉄道敷設を急ぐ伊藤博文が、横須賀に軍港を持つ海軍に依頼した。
- ② 鉄道を敷設することによって、横須賀に鎮守府を置くことを可能とする。
- ③ 鉄道の敷設は、陸海軍の物資輸送に関わる重要な問題である。
- ④ 鉄道敷設を急ぐ海軍は、陸軍には相談をせずに依頼した。

問 2 資料 3 とレポートを読み、 に当てはまる語の組合せとして正しいものを、下の①～④のうちから一つ選べ。解答番号は 。

資料 3

みわたすかぎり青々と
若葉波うつ桑畑
山のおくまで養蚕の
ひらけしさまの忙しさ

(『地理教育 鉄道唱歌 第四集 信越・北陸編』)

レポート

鉄道唱歌は、東海道線について歌った資料 1 だけでなく、日本全国の路線のものがあることが分かり調べてみました。その結果、資料 3 から、国家の政策と路線が広がった理由に関連があるものを見つけることができました。資料 3 は群馬県を走る路線を歌にしたもので、歌詞からは の生産が盛んであったことが分かります。さらに調べた結果、生産された は重要な であるため、鉄道で横浜港に運ばれたことが分かりました。

- ① A—生 糸 B—海外輸出品
- ② A—生 糸 B—生活必需品
- ③ A—綿 糸 B—海外輸出品
- ④ A—綿 糸 B—生活必需品

- 5 隈板内閣と呼ばれた第1次大隈重信内閣について書かれた、次の資料1・2を読み、後にある問1・問2に答えよ。

資料1 勝海舟の日記(意識してある)

しかし今度の内閣も、もはやそろそろ評判が悪くなって来たが、あれでは内輪もめをして、到底長く続かないよ。だいたい、重要人物である大隈重信と板垣退助の性質がまるで違って、板垣はお人よしだし、大隈は抜け目のない人だから、とても仲良くしてられるものか。遅かれ早かれ喧嘩するにきまっているよ。大隈でも板垣でも、民間にいたころには、人のやっているのを冷たく批判して、自分ほうまくだと信じていたんだろうが、さて引き渡されてみると、そうほうまくだはいかないよ。

(『氷川清話』より作成)

資料2 大隈重信の自叙伝(意識してある)

この総選挙は実に無事に行われて、その結果はもちろん **A** が大多数。そこでこれならば大丈夫行ける、必ず **B** 政治は達成できると考えたのであって、国民の希望もまたそこにあった。

しかし閣僚の一部に、まだ十分に意志の疎通ができていない者がいて、それに乗じて藩閥政治家たちからの中傷を受け、あの尾崎行雄の共和演説が導火線となり、意外にも **A** の内部で争いがおこった。それは、板垣は尾崎に代わり桂太郎もしくは西郷従道にしようとし、私が犬養毅にしようとしたので反対し、藩閥政治家たちと協力して、これをやめさせようということになった。そのため内閣の内外は険悪な空気となり、相次いで来る中傷と仲違いさせようとする動きに耐えられず、ついに崩壊した。

(『大隈重信自叙伝』より作成)

問 1 に当てはまる語句の組合せとして正しいものを、次の①～④のうちから一つ選べ。解答番号は 。

- ① A—立憲民政党 B—藩閥政治家たちによる
- ② A—立憲民政党 B—憲法にもとづく
- ③ A—憲政党 B—藩閥政治家たちによる
- ④ A—憲政党 B—憲法にもとづく

問 2 下線部分大隈重信と板垣退助に関連して、国会開設の勅諭をうけて2人はそれぞれ政党を結成した。大隈が結成した立憲改進黨の主張と、大隈と板垣の共通点の組合せとして正しいものを、下の①～④のうちから一つ選べ。解答番号は 。

主 張

- ア イギリス流の議院内閣制を主張するなど穏健的な自由主義
- イ フランス流の急進的な自由主義

共通点

- ウ 条約改正交渉について批判され、襲撃を受けた。
- エ 新政府の参議であったが、政変によって政府を去った。

- ① アーウ ② アーエ ③ イーウ ④ イーエ

B

6 次のⅠ・Ⅱについて、後にある問1～問4に答えよ。

Ⅰ

表 全国中等学校優勝野球大会 歴代優勝・準優勝校

大会	年	優勝校	準優勝校	全国大会 代表校数	地方予選大会 参加校数
第1回	1915	京都二中(京都)	秋田中(秋田)	10	73
第2回	1916	慶応普通部(東京)	市岡中(大阪)	12	115
第3回	1917	愛知一中(愛知)	関西学院中(兵庫)	12	118
第4回	1918	中止		14	137
第5回	1919	神戸一中(兵庫)	長野師範(長野)	14	134
第6回	1920	関西学院中(兵庫)	慶応普通部(東京)	15	157
第11回	1925	高松商(香川)	早稲田実(東京)	21	302
第12回	1926	静岡中(静岡)	大連商(満州)	22	337
第14回	1928	松本商(長野)	平安中(京都)	22	410
第16回	1930	広島商(広島)	諏訪蚕糸(長野)	22	541
第17回	1931	中京商(愛知)	嘉義農林(台湾)	22	634

※第7～10回, 13回, 15回は表記していない。

会話文

生徒：この夏休みに「夏のスポーツ」というテーマで高校野球について調べてみました。今「夏の甲子園」と呼ばれている選手権大会は「全国中等学校優勝野球大会」として大正時代に始まっていることが分かりました。

先生：大正時代には大学野球とともに学生のスポーツとして定着したんですね。

生徒：そのようです。野球人気で観客が増加したため、鉄道会社によって新たに球場が作られ、それが現在の阪神甲子園球場であることが分かりました。1927年からは試合の実況中継が行われるなど、メディアの発達も野球人気を支えたようです。

先生：1918年は、地方の予選は行われたけれど、全国大会は行われなかったということですか。

生徒：そのようです。この年の8月に富山県の漁村の主婦たちの行動をきっかけに広がった暴動が理由で中止になったようです。

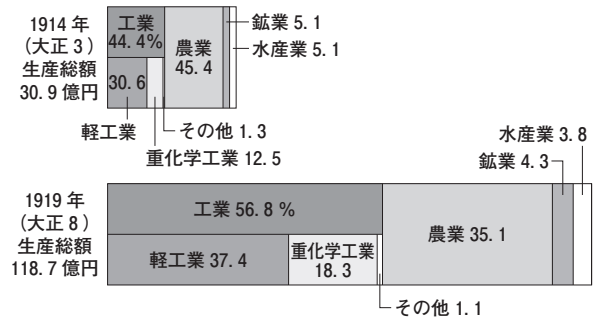
問 1 下線部分富山県の漁村の主婦たちの行動をきっかけに広がった暴動について、暴動の背景を説明する際に適切な関連する資料と仮説の組合せとして最も適切なものを、下の①～④のうちから一つ選べ。解答番号は 17。

関連する資料

ア

	米価	指数
1900(明治 33)年	11 円 32 銭	100
1905(〃 38)年	12 66	112
1910(〃 43)年	12 93	114
1915(大正 4)年	12 47	110
1916(〃 5)年	13 26	117
1917(〃 6)年	19 35	171
1918(〃 7)年	31 82	281
1919(〃 8)年	45 49	402

イ



仮 説

- ウ 暴動がおきたのは、農業の生産額が減少したことで市場への供給量が減少したからではないか。
- エ 暴動がおきたのは、安定して推移していた米価が高騰したからではないか。

- ① アーウ ② アーエ ③ イーウ ④ イーエ

問 2 表中から読みとれることとして適切でないものを、次の①～④のうちから一つ選べ。

解答番号は 18。

- ① 経済の低迷を背景に 1920 年代後半は、地方予選の参加校が減少したことが分かる。
- ② 日本の植民地となっていた地域からも、代表校が出場していたことが分かる。
- ③ 福沢諭吉や大隈重信にゆかりのある学校も出場していたことが分かる。
- ④ 日本の生糸産業に関連する学校が、決勝戦に進出していたことが分かる。

Ⅱ

枢密院議長の清浦奎吾が内閣を組織すると、それに反発した三つの政党が護憲三派を結成して対立した。総選挙^(a)で護憲三派が大勝すると、第一党の党首が首相となり護憲三派の連立内閣^(b)が成立した。以後、「憲政の常道」と言われる政党政治が行われた時代が訪れた。

問 3 下線部分^(a)総選挙は、次の表中のどの時期に行われたか。会話文を参考に最も適切なものを、下の①～④のうちから一つ選べ。解答番号は 19。

表 衆議院選挙実施年と有権者数

年	有権者数	
1912	1,506,143	ア
1915	1,546,411	
1917	1,422,126	イ
1920	3,096,148	
1924	3,288,405	ウ
1928	12,408,678	
1930	12,812,895	エ

会話文

先生：有権者数の変化に何か特徴はあるかな。
 生徒：段階的に増加していることが分かります。
 先生：そうだね。直接国税の納税額の制限を徐々に下げることで、有権者数は増えていったんだね。
 生徒：1928年の総選挙の時には納税額による制限はなくなったと勉強しました。

① ア

② イ

③ ウ

④ エ

- 問 4 下線部分護憲三派の連立内閣について、この内閣が制定した治安維持法の内容を示した資料と、この法律が制定される背景となるできごとの組合せとして最も適切なものを、下の①～④のうちから一つ選べ。解答番号は 20。

資料(意識してある)

- ア 天皇制を変革したり私有財産を否定するようなことを目的に結社を組織したり、その事情を知ったうえでその組織に加入した者は10年以下の懲役または禁錮刑に処する。
イ 治安を守るために必要な場合には警察官が屋外の集会や運動をすることを制限、もしくは禁止、解散させ、屋内の集会も解散させることができる。

できごと

- ウ 労働組合期成会の指導の下で労働組合が相次いで結成された。
エ 初めて社会主義国との国交を樹立した。

- ① アーウ ② アーエ ③ イーウ ④ イーエ

B

- 7 資料1は、アメリカからハル＝ノートが示された直後に昭和天皇との間に交わされた会話における各重臣たちの主張をまとめたものである。これを読み、後にある問1・問2に答えよ。

資料1

(昭和天皇の「大変難しい時代になったね」との言葉に対して)

岡田啓介 : 戦争となると物資の補給能力について成功の見通しがあるかとても心配である。先程から政府の説明があるが、まだ納得できていない。

平沼騏一郎 : すでに4年にわたる戦争を遂行している今日、さらに長期の戦争となれば困窮や欠乏に耐えなければならないので、民心を引き締めていく点については十分の施策と努力が必要である。

近衛文麿 : 自分は日米国交調整に努力してきたが、ついにその成果を挙げるができなかったのは大変残念だ。政府は日米交渉を続ける見込みがないと言っているが、外交交渉が決裂したからといってすぐに戦争に訴える必要があるだろうか。

広田弘毅 : 政府の説明によれば今日は外交上の危機に立っているように思われるが、すぐに戦争に突入するのはいかがなものか。

林銑十郎 : 政府が大本營(注1)と協力して十分検討した結論であるから、信頼するしかないと思う。

阿部信行 : 政府はあらゆる角度からよく考えたようだから、日米交渉を諦める以上の解決策は望めないと思う。ただ、中国民衆の心の動向については慎重に対処しなければならず、一度誤れば今日までに得た成果をも失ってしまう恐れがあると思う。

若槻礼次郎 : 大東亜共栄圏の確立とか東アジアの安定勢力とかの理想にとらわれて国力を使うことは非常に危険だから、よく考えなければならない。

(『木戸幸一日記』より作成)

(注1) 戦時または事変の際に、天皇に直属して陸海軍を統帥した最高機関。

問 1 下線部分物資の補給能力について成功の見通しがあるかとても心配である理由について、生徒 Z は資料 2 に基づいて考察文を書いた。 に当てはまる語句の組合せとして正しいものを、下の①～④のうちから一つ選べ。

解答番号は 。

B

資料 2 日本の主要貿易相手国・地域(1935年)

順位	輸 出	輸 入
1	中国	アメリカ
2	アメリカ	イギリス領インド
3	イギリス領インド	中国
4	インドネシア(注2)	オーストラリア
5	イギリス	ドイツ

(注2) 1935年当時はオランダ領東インドと呼ばれていた。

考察文

すでに行われていた に加え、主要貿易相手国は現在戦争中、およびこれから戦争をすることが予想された国家とその植民地が多いことから、
 と予想されたため。

- ① A—北大西洋条約機構の設立
B—援蔣ルートが危険にさらされて戦況が有利となる
- ② A—北大西洋条約機構の設立
B—貿易による外貨や物資の獲得が難しくなる
- ③ A—アメリカによる対日石油輸出の禁止
B—援蔣ルートが危険にさらされて戦況が有利となる
- ④ A—アメリカによる対日石油輸出の禁止
B—貿易による外貨や物資の獲得が難しくなる

問 2 生徒 Y は資料 1 を読んでいくつかの疑問をもち、それを調べるために必要と思われる資料を用意した。両者の組合せとして適切でないものを、下の①～④のうちから一つ選べ。
解答番号は 22。

疑 問

- ア 阿部信行の言う「今日までに得た成果」とはどのようなものだったか。
- イ 若槻礼次郎の言う「大東亜共栄圏」とはどのようなものだったか。

資 料

甲

- ・ 中国と国交がない状態で貿易を開始した。
- ・ 中華人民共和国政府を「中国で唯一の合法的な政府」と認めた。
- ・ 日中平和友好条約を締結した。

乙

- ・ 日満議定書を結び、正式に満州国を承認した。
- ・ 盧溝橋事件を発端として戦闘を展開し、南京を占領した。
- ・ 国民党の幹部である汪兆銘に、新しい政府を作らせた。

丙



丁



- ① アー甲 ② アー乙 ③ イー丙 ④ イー丁

8 表は、1946年および1970年に長谷川町子作『サザエさん』で取り上げられた、当時の社会情勢に関するテーマをまとめたものである。これを見て、後にある問1・問2に答えよ。


表

1946年		1970年	
テーマ	回数	テーマ	回数
海外からの復員	4	C	7
進駐軍	4	インフレーション	4
A のための遠出	4	猛烈社員	3
家の裏庭で野菜づくり	3	D	2
伝染病	2	三億円銀行強盗，経済大国日本，ゴミ処理，資本主義の矛盾，貨幣危機など	1
B	2		
代用食，速成英語学習コース，不良食品，インフレーション，男女同権についての討論会，兵士の帰宅 など	1		


(『戦後日本の大衆文化』より作成)

問 1 花子さんは、日本史の授業で学んだことと資料 1・2 から読み取れることを考え合わせて、表のテーマの言葉を用いながら文 1 を作った。 に当てはまる語の組合せとして正しいものを、下の①～④のうちから一つ選べ。解答番号は 。

資料 1



資料 2



おこめがわりの
えんどうの だ

(『長谷川町子全集 第一巻 サザエさん①』より作成)

文 1

敗戦直後には、人びとは「家の裏庭で野菜づくり」や「 のための遠出」などをして食糧確保に努めた。それは「海外からの復員」や「兵士の帰宅」などにより国内の人口が増加して食糧不足に拍車がかかり、食糧の「 」が十分に行われないことがあったためである。

- ① A—食糧買い出し B—配給 ② A—食糧買い出し B—輸出
 ③ A—引揚げ B—配給 ④ A—引揚げ B—輸出

問 2 太郎さんは、日本史の授業で学んだことと資料3・4から読み取れることを考え合わせて、表のテーマの言葉を用いながら文2を作った。 C D に当てはまる語の組合せとして正しいものを、下の①～④のうちから一つ選べ。解答番号は 24。

資料3



資料4



(『サザエさん④』、『サザエさん④』より作成)

(注) 車の排気ガスなどに含まれる化学物質が紫外線と反応して発生する、目やのどを刺激する霧状の有害物質。

文2

「猛烈社員」に支えられた日本は高度経済成長を成し遂げ、「経済大国日本」となった。
 “人類の進歩と調和”をスローガンに、太陽の塔をシンボルとして行われた「 C 」
 はそのことを世界にアピールする機会となった。
 一方「 D 」や「ゴミ処理」問題など「資本主義の矛盾」も噴出し、社会問題となった。

- | | | | |
|--------------|--------|--------------|------|
| ① C—日本万国博覧会 | D—欠食児童 | ② C—日本万国博覧会 | D—公害 |
| ③ C—東京オリンピック | D—欠食児童 | ④ C—東京オリンピック | D—公害 |

9 富士山及びその周辺について述べた I・II を読み、後にある問 1～問 4 に答えよ。

I

古来、日本列島の多くの地域では、地震やそれに伴う津波、火山噴火が発生し、天変地異が多発した。特に表 1 から分かる通り、富士山の噴火の記録は、古くから歴史書に記された。

一方、富士山は信仰の対象とも位置付けられていった。人びとは、激しく吹き上げる噴火に対し、あらぶり怒る神の姿を重ねていたものと考えられている。

表 1 富士山の噴火に関する記録とその状況

年 代	噴火の状況	特に名前がついた噴火
781 年	山麓に降灰し、木の葉が枯れた(『続日本紀』)	
800～802 年	砕石が「足柄路(注1)」を塞いだので「 <small>ふさ</small> 菅荷途 <small>はこねみち</small> 延暦噴火(注2)」を開いた(『日本紀略』(注3))	<small>えんりやく</small> 延暦噴火
864～866 年	溶岩流が本栖湖と、 <small>もとすこ</small> せの海(注4)に流れ込んだ(『日本三代実録』)	<small>じょうがん</small> 貞観噴火
999 年	噴火(『本朝世紀』(注5))	
1083 年	爆発的な噴火(『扶桑略記』など)	
1435 年	富士山に炎が見えた(『王代記』)	
1511 年	河口湖付近で異様な鳴動が聞こえ、 <small>かまいわ</small> 鎌岩が燃えた(『妙法寺記』)	
1707 年	噴火前日から地震がおこる。12月16日から2週間にわたって爆発的な噴火がおこり、周囲に大量の火山灰が降り積もった(史料多数)。	<small>ほうえい</small> 宝永噴火



(「富士山ハザードマップ検討委員会中間報告」より作成)

- (注 1) 関本(現神奈川県南足柄市)から足柄峠へ抜ける道。古代の東海道が通っていた。
- (注 2) 足柄路よりも太平洋側を通っていた古代の道。
- (注 3) 平安時代後期に編さんされた歴史書。六国史の抜粋と、六国史以降、後一条天皇までの歴史を記す。
- (注 4) 9世紀半ばまで富士山麓に存在した湖。
- (注 5) 平安時代末期に編さんされた歴史書。鳥羽上皇の命で編さんされた。

問 1 表 1 の **X** の部分から読み取れる内容として適切でないものを、次の①～④のうちから一つ選べ。解答番号は **25**。

- ① 律令国家が編さんした歴史書に富士山の噴火に関する記述が見られる。
- ② 延暦噴火では、古代の東海道の交通に大きな影響を及ぼした。
- ③ 噴火により、周辺の民家が燃えたという記述が歴史書の中に見られる。
- ④ 貞観噴火では、周辺の湖に溶岩流が流れ込んだ。

問 2 表 1 の **Y** の期間におこったできごとについて述べた次の文ア～ウを年代の古い順に正しく並べたものを、下の①～④のうちから一つ選べ。解答番号は **26**。

- ア 武田晴信(のちの信玄)が、実子の安産祈願のために富士山麓の神社に願文を奉納した。
- イ 源頼朝が征夷大將軍に就任した翌年、富士山麓で大規模な巻狩り(狩猟の一種)を行った。
- ウ 足利尊氏やその弟の直義によって、富士山麓の神社に領地が寄進された。

- ① イ→ア→ウ ② イ→ウ→ア ③ ウ→ア→イ ④ ウ→イ→ア

問 3 下線部分宝永噴火について、この噴火の影響として図1から読み取れることと、図2を説明した記述のうち に当てはまる文の組合せとして最も適切なものを、次のページの①～④のうちから一つ選べ。解答番号は 。

図1 噴火により降り積もった火山灰の分布

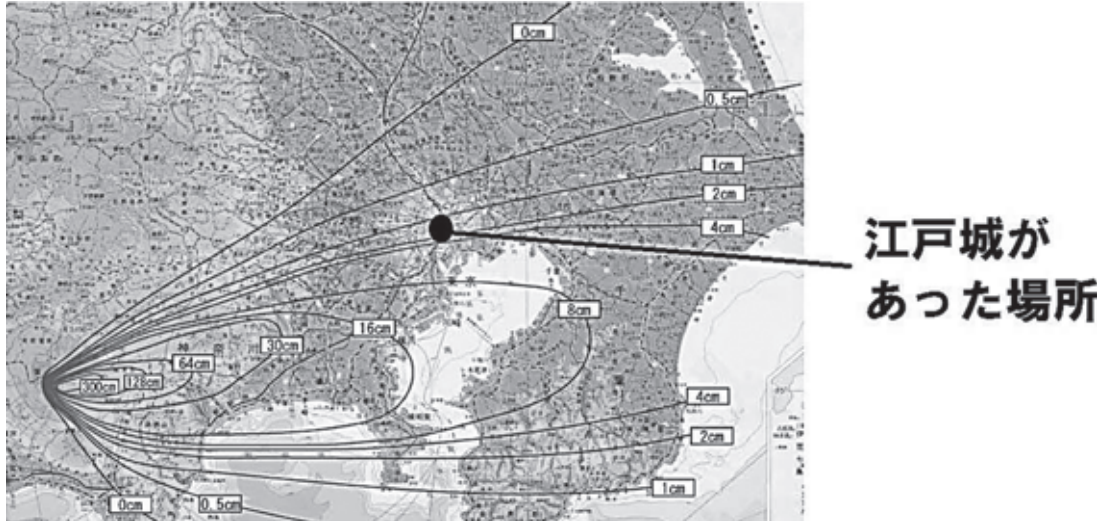
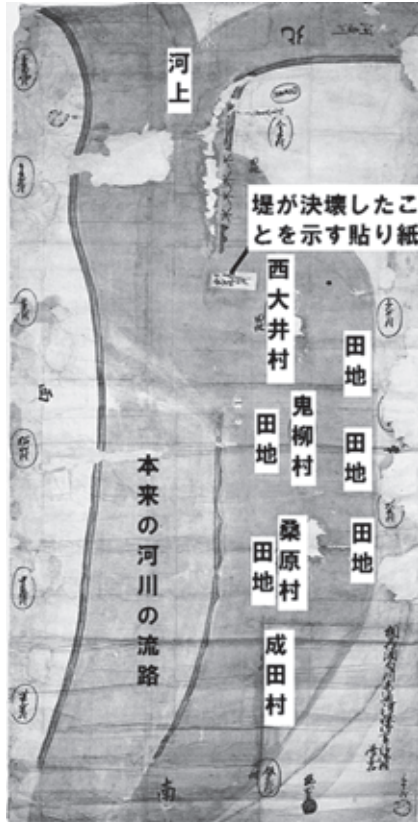


図2 噴火後に被災地域で作成された絵図

図2の説明



周辺の被災地域では、図2の絵図が書き残された。この絵図が描かれたことから、噴火後、火山灰が、 ことが分かる。

読み取れること

- ア 江戸城付近では、8～16 cm の火山灰が降り積もった。
- イ 現在の茨城県や千葉県など、広い範囲で火山灰が観測された。

文

- ウ 田畑や山野にも降り注いだか、農作物への影響はほとんどなかった
- エ 河川に大量に流入し、河床が上昇したため、大雨が降ると洪水が発生した

- ① アーウ ② アーエ ③ イーウ ④ イーエ

B

Ⅱ

生徒が近代の富士山について調べてみると、日本が台湾を植民地として獲得して以降、台湾にある玉山(当時の新高山)が富士山を抜いて、当時の日本で最も標高の高い山となったことが分かった。

そのような中で、生徒は戦前の小学校で教えられていた唱歌(現在の音楽にあたる科目)の教科書の中に、次の資料1・2のような歌が掲載されていることを知った。生徒はこの資料に描かれていることをもとに、考察をまとめた。

資料1

二 青空高くそびえ立ち からだに雪の着物着て 霞のすそを遠く曳く 富士は日本一の山	一 あたまを雲の上に出し 四方の山を見おろして かみなりさまを下に聞く 富士は日本一の山
---	--

(『尋常小学唱歌 第二学年用』より作成)

資料2

二 今、日本にたずね来る よその国人あおぐ山 いくまん年ののちまでも 世界だい一、神の山	一 大昔から雲の上 雪をいただく富士の山 いく千まんの国みんの 心きよめた神の山
--	--

(『うたのほん 下』より作成)

考 察

資料1・2によると、当時の小学校では、富士山を **B** 唱歌が歌われていたことが分かる。私は、富士山は、日本で最も標高の高い山ではなくなった時期もあったのに、なぜ唱歌の題材として歌われたのかを考えてみた。私は、その理由の一つに、富士山が資料1・2で「日本一の山」、「神の山」と歌われていることなどから、日本国民に対し **C** ためのシンボルとして教科書で教えられたのではないかと考えた。

問 4 **B** **C** に当てはまる語句の組合せとして最も適切なものを、次の①～④のうちから一つ選べ。解答番号は **28**。

- ① B—たたえる C—国民意識を高める
- ② B—たたえる C—環境保全の大切さを伝える
- ③ B—低く評価する C—国民意識を高める
- ④ B—低く評価する C—環境保全の大切さを伝える

