

世 界 史 B

(解答番号 ~)

1 次の文章に関連して、問1～問2に答えよ。

山口県の高校で、生徒と先生が会話している。

先生： 県の特産の一つは木材です。どんなところに使われたか、知っていますか。

生徒： 奈良の東大寺が平氏政権によって焼き討ちに遭ったとき、復興に当たった仏僧の重源が、周防国すおうのくにや長門国ながとくにの木材を使って再建したと聞いています。

先生： その通りです。でも、周防国の木材はもっと広く使われていました。重源は、明州(寧波)の阿育王寺(a)の舍利殿建立の際にも、周防国の材木を寄進しています。

生徒： 海を越えて中国まで輸出していたのですか。なぜ、わざわざ日本から輸入する必要があったのでしょうか。

先生： 日本から材木を送った当時、江南地方では木材の消費や森林開発が進み、柱にできるほどの木材(b)が十分に手に入らなかったのです。重源と同時代に書かれた資料を見てみましょう。

明州は水陸の景色のすぐれた場所で、山並みは深くてすばらしく、昔は大木や深い森があって、谷沿いに平地が広がっていて、竹や木も生い茂っていた。大水になったとしても、地盤は木々の根のおかげでゆるむことはなく、流れ出てしまう量も多くはなかった。…ところが近年になって、木材の価格が上がり、木が相次いで切られた。…平地の竹や木もこのためにみななくなり、大水になっても林の木々もないため、水があふれる勢いを抑えることができなくなってしまった。

(江南地方の水利と環境について書かれた記録)

このことから何がわかりますか。

生徒： 中国、特に江南地方は緑が豊かだと思っていましたが、 のですね。

先生： そうです。経済発展と環境破壊の問題は、最近になって始まったことではないのですよ。

問 1 下線部分^(a)阿育王寺は、仏教を保護した古代インドのアショーク王にちなんで名付けられた仏教寺院である。仏教について述べた文として適切なものを、次の①～④のうちから一つ選べ。解答番号は 。

- ① 指導者は、教皇とよばれた。
- ② 『論語』が経典の一つとされた。
- ③ スンナ派とシーア派に分かれた。
- ④ ガウタマ＝シッダールタが創始した。

問 2 下線部分^(b)日本から材木を送った当時、江南地方では木材の消費や森林開発が進みとあるが、 は、会話文中の資料を読み解いて、当時の状況について推察した発言である。 に当てはまる文と、その当時の中国大陸の情勢を示した地図との組合せとして正しいものを、下の①～④のうちから一つ選べ。解答番号は 。

あ



い




(注) 図中の着色の部分は勢力範囲を示す。

	<input type="text" value="A"/>	中国大陸の情勢
①	竹や木が茂って水害の原因になっていたので、伐採が進められた	あ
②	竹や木が茂って水害の原因になっていたので、伐採が進められた	い
③	商用目的での伐採で山林が減少したせいで、水害がおきやすくなった	あ
④	商用目的での伐採で山林が減少したせいで、水害がおきやすくなった	い

2 1～3の文章と図版に関連して、問1～問8に答えよ。

1 子どもたちの遊びの一つにお手玉遊びがある。ヒッタイトの石碑には、お手玉遊びらしき様子が彫られている。紀元前5世紀頃には、^(a)ギリシア世界の子どもたちの間で、羊のかかとの骨を使ったお手玉遊びが流行した。やがて、^(b)ユーラシア大陸の東西交易路を通り、^(c)インドや中国にも伝えられた。アジアでは骨のかわりに身近にある小石を使うようになり、日本では「石子(いしなご)」「石名取(いしなどり)」と称する遊びとして広がった。記録には、聖徳太子が水晶でできた「石名取玉」で遊んだと記されている。



奈良時代の「石名取玉」

2 綱引きは古来より日本だけでなく世界中で行われてきた。6世紀、中国の梁において書かれた『荊楚歳時記』には、綱引きが長江中流域の正月立春の行事として行われていたことが記されている。また唐の時代に編纂された『隋書』には、中国の南部において、綱引きが豊穰^{ほうじょう}をもたらすまじない^(e)として信じられているという説明がある。新年の豊穰儀礼という性格は、中国だけではなく、朝鮮や日本、東南アジア^(f)における綱引きに共通している。男女で対抗し、女性に勝たせることで豊穰を願うことも行われた。このような特色は稲作の伝播と関係していると考えられている。



那覇の大綱引き

問 5 下線部分^(e)唐に関して、次の資料から考えられる当時の人々のようすについて述べた文として最も適切なものを、下の①～④のうちから一つ選べ。解答番号は 7。

ある者は15歳から、北方の黄河地方の防備に召集され、そのまま40歳になるまでも、西方の辺境に屯田兵となっている。出征した時には、村長が兵士のために(成人を祝って)頭を包んでくれたのであったが、帰って来ると、頭はもう白くなっているのに、またもや国境地帯の守備に行かねばならぬ。

- ① 八旗制による兵役の負担が重くなっている。
- ② 十分の一税による租税の負担が重くなっている。
- ③ 地丁銀制による租税の負担が重くなっている。
- ④ 府兵制による兵役の負担が重くなっている。

問 6 下線部分^(f)東南アジアの建造物を、次の①～④のうちから一つ選べ。解答番号は 8。

①



ケルン大聖堂

②



ボロブドゥール

③



クフ王のピラミッド

④



コロッセウム

3 今日まで根強い人気を誇っているゲームのチェスは、紀元前のインドに起源を有している。それが、6世紀にササン朝に入り、さらにイスラーム世界に伝わった。11世紀頃には、地中海や黒海を経てヨーロッパに伝わり、やがて王侯貴族の娯楽として流行した。しかしその後、より簡単で様々な駆け引きが可能であったトランプ・ゲームに主役の座を奪われてしまった。



チェスの駒

問7 下線部分イスラーム世界の出来事について述べた次の(ア)~(ウ)を、古いものから順に正しく並べたものを、下の①~④のうちから一つ選べ。解答番号は 。

- (ア) ムハンマドが聖遷を行った。
- (イ) イラン革命によって、パフレヴィー朝が滅んだ。
- (ウ) メフメト2世がビザンツ帝国を滅ぼした。

- ① (ア)→(イ)→(ウ)
- ② (ア)→(ウ)→(イ)
- ③ (ウ)→(ア)→(イ)
- ④ (ウ)→(イ)→(ア)

問8 下線部分ヨーロッパの13世紀のようすについて述べた文として適切なものを、次の①~④のうちから一つ選べ。解答番号は 。

- ① チャーチルが、「鉄のカーテン」演説を行った。
- ② アレクサンドル2世が、農奴解放令を發布した。
- ③ ジョン王が、マグナ=カルタ(大憲章)を承認した。
- ④ サン=マルティンが、アルゼンチンを独立に導いた。

3 1～2の文章と図版に関連して、問1～問5に答えよ。

1 生徒と先生が、図を見ながら会話している。

先生： 図の茶屋新六交趾渡航図巻は、朱印船貿易のようすを描いたもので、交趾(ベトナム中部)の港町ホイアンの町並みなどが描かれています。

生徒： 朱印船というのは、江戸幕府によって海外への渡航を許可された貿易船のことですね。

先生： そうです。当時、ポルトガル船が、日本の銀と中国の生糸との交易で莫大な利益を上げていました。そこで徳川家康は、積極的に海外との交易を図ったのですが、明との正式な貿易は再開できなかつたこともあり、朱印船の渡航先は東南アジア中心となりました。

生徒： 図には、日本町の書き込みがあります。現地の日本人は、何をしていたのですか。

先生： 朱印船に積み込む、生糸や皮革・香木などの商品を買付けていました。また、ホイアンには、日本町の近くに中国人町があり、ここは、日中の出会い貿易の場でもあったのです。

生徒： 確か、1635年、幕府によって日本人の海外渡航と帰国が禁止され、朱印船貿易の時代は終わってしまいますが、日本町はどうなったのですか。

先生： 中国船を介して交易を続けた現地の日本人もいました。しかし、次第に日本町は衰退し、18世紀には消滅したようです。



図 茶屋新六交趾渡航図巻(部分)

問 1 下線部分^(a)明との正式な貿易は再開できなかつたとあるが、このことの背景と考えられる事柄について述べた文として適切なものを、次の①～④のうちから一つ選べ。

解答番号は 。

- ① 日本が、白村江の戦いで敗れた。
- ② 豊臣秀吉が、朝鮮に侵攻した。
- ③ 洪秀全が挙兵し、太平天国を建てた。
- ④ 関東軍が、柳条湖事件をおこした。

問 2 下線部分^(b)朱印船貿易の時代に関連して、この時期の東南アジアのようすについて述べた文として適切なものを、次の①～④のうちから一つ選べ。解答番号は 。

- ① オランダが、バタヴィアを根拠地とした。
- ② フランスが、ワーテルローの戦いで敗れた。
- ③ モンゴル軍が、アッバース朝を滅ぼした。
- ④ 東南アジア諸国連合(ASEAN)が結成された。


2 コロンブスについて調べていた高校生の手嶋さんは、コロンブスが、スペイン王室の支援を得て、西まわりでインドをめざす航海に出発したことを知った。そこで、このことについて記した資料を参考にしながら学習し、疑問に思ったことをメモにまとめた。

資料 サンタフェ協約書

コロンが、1492年4月17日、グラナダ郊外のサンタフェにおいて、王室側と結んだ協約書によれば、第一に、コロンを、発見するあらゆる陸地及び諸島の終身提督とし、その死後は、相続人がこれを継承すること、…第三に、提督領の版図において購入または交換し、または発見し、取得するすべての物品、例えば真珠、金、銀、香料、その他あらゆる種類の物品については、取得した経費を差し引いた残りの十分の一をコロンに与え、十分の九を両国王のものとする、…となっている。

(注) コロンは、コロンブスのスペイン語名。

サンタフェ協約書(部分)



メモ 疑問に思ったこと

- ・そもそもコロンブスが、西まわりでインドをめざしたのはなぜだろうか。
- ・コロンブスや、彼に続いた人々の征服によって先住民の生活はどうなったのだろうか。

問 3 下線部分 1492年に関連して、この年のイベリア半島における出来事について述べた文として適切なものを、次の①～④のうちから一つ選べ。解答番号は 13。

- ① スペインによるレコンキスタ(国土回復運動)が完了した。
- ② フランコが反乱をおこし、スペイン内戦が始まった。
- ③ アレクサンドロス大王が、東方遠征に出発した。
- ④ 民衆が、圧政の象徴とされたバステューユ牢獄を攻撃した。

問 4 下線部分西まわりでインドをめざしたことに関連して、地球球体説を唱え、コロンブスの航海に影響を与えた人物と、コロンブスが航海に出発する前にヨーロッパで刊行されていた世界地図との組合せとして正しいものを、下の①～④のうちから一つ選べ。

解答番号は 14。



あ マルテルスの世界地図



い オルテリウスの世界地図

	人物	世界地図
①	シェイクスピア	あ
②	シェイクスピア	い
③	トスカネリ	あ
④	トスカネリ	い

問 5 下線部分先住民の生活はどうなったのだろうかとあるが、コロンブスに続いた征服者たちは、先住民とその土地の支配を、スペイン王から委託された。この制度の名称と、支配のようすについて述べた文との組合せとして正しいものを、次の①～④のうちから一つ選べ。

解答番号は 15。

	制度の名称	支配のようす
①	イクター制	ジズヤ(人頭税)を徴収した。
②	イクター制	銀鉱山や大農園などで酷使した。
③	エンコミエンダ制	ジズヤ(人頭税)を徴収した。
④	エンコミエンダ制	銀鉱山や大農園などで酷使した。


4 1～2の文章と図版に関連して、問1～問4に答えよ。

1 19世紀のアジアでは、欧米諸国の進出により経済が打撃を受ける一方で、欧米の技術を導入して工業を発展させようとする動きもみられた。インドのボンベイ(現ムンバイ)の貿易商であつたジャムセットジ=タタは、1874年、イギリスから購入した紡績機を用い、国内の綿花を原料として綿糸生産を始めた。1880年代からは、主に中国に向けて綿糸を大量に輸出した。

日本の大阪でも、1880年代にイギリス製の紡績機が導入され、綿糸の生産が増大した。1893年、タタと渋沢栄一の尽力により、インド産の綿花を輸入するための日本初の国際定期航路が神戸・ボンベイ間に開通した。原料が安価に輸入されるようになったことで、大阪の紡績業は急成長し、中国市場では日本産とインド産の綿糸が激しく競争した。中国では、インドや日本から輸入した綿糸を用いた、手織りの綿布生産が盛んになった。



ジャムセットジ=タタ(タタ財閥の創業者)



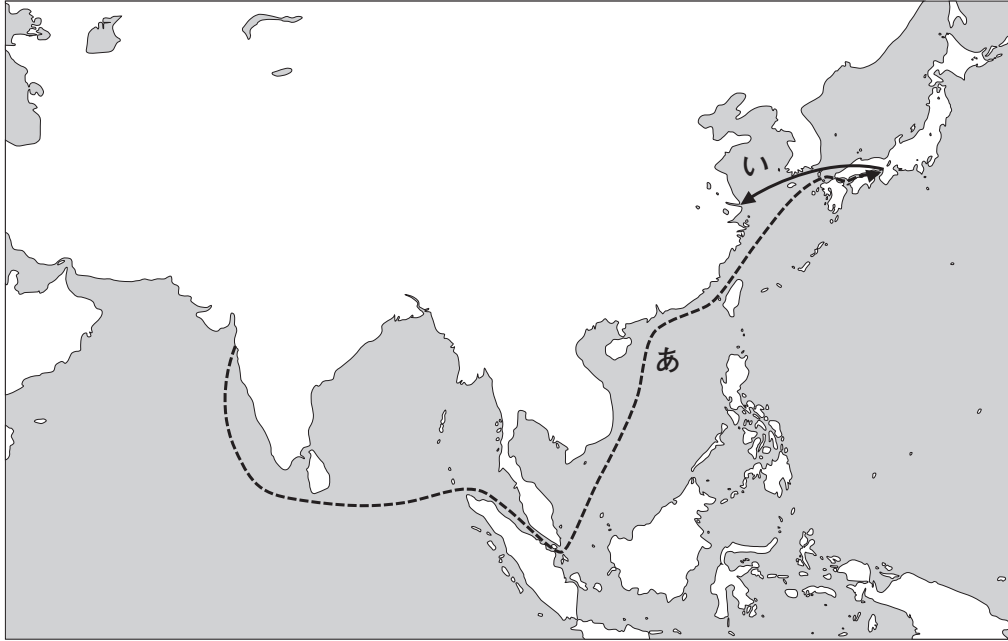
大阪の紡績工場(大正時代)

問1 下線部分インドの19世紀のようすについて述べた文として適切なものを、次の①～④のうちから一つ選べ。解答番号は 16。

- ① レーニンが、新経済政策(ネップ)を実施した。
- ② ヴァルダマーナが、ジャイナ教を開いた。
- ③ アヘン戦争に敗れ、香港島を割譲した。
- ④ イギリスの女王を皇帝とするインド帝国が成立した。

問 2 下線部分日本初の国際定期航路が開通した後の商品の動きについて、次の略地図は、本文^(b)で説明されている内容を図示したものである。略地図中のあといに当たる商品の組合せとして正しいものを、下の①～④のうちから一つ選べ。解答番号は 17。

B




	あ	い
①	綿花	綿糸
②	綿布	綿花
③	綿糸	紡績機
④	紡績機	綿花

2 トマス＝エディソンは、少年だった南北戦争の頃、アメリカ合衆国北部を走る列車の中で新聞を売りながら、列車の一室で科学実験を行っていたこと^(c)で知られる。電気に関心を持った彼は、電信技師となった後、自ら研究所を立ち上げて発明に打ち込んだ。

1877年の蓄音機や、1879年の電灯といったエディソンの発明などは、電気の時代の幕開けを告げ、世界経済の発展に貢献した。彼は電灯を売る会社を設立し、さらに、発電から送電ま^(d)でを請け負って電気製品の普及に努めた。ただし、その後に発電や送電のしくみとして定着したのは、エディソンの直流方式ではなく、ニコラ＝テスラが開発した交流方式であった。



エディソンと蓄音機



ニコラ＝テスラ

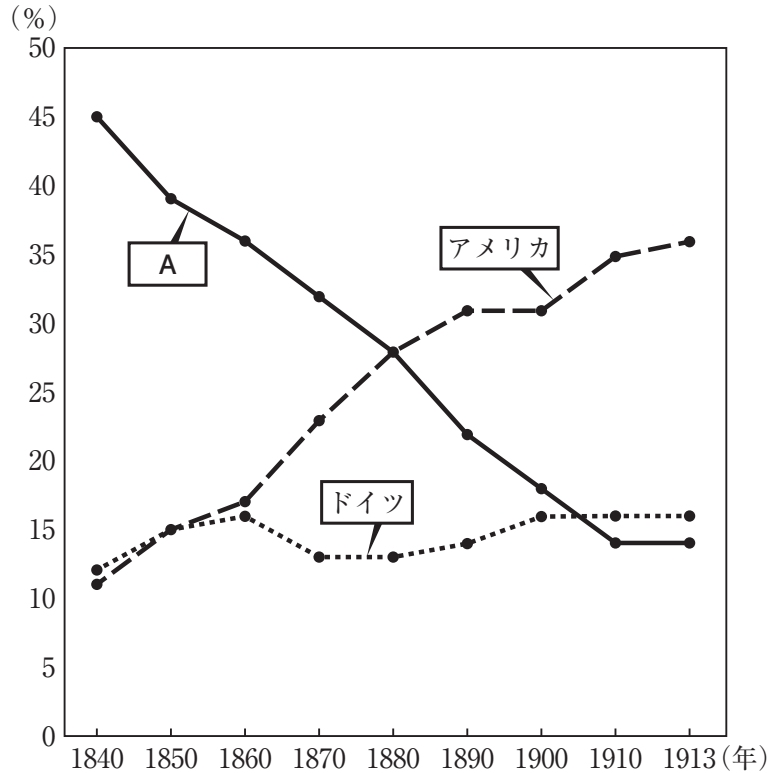
問 3 下線部分南北戦争に関連して、その要因について述べた文として適切なものを、次の①～

④のうちから一つ選べ。解答番号は 。

- ① 奴隷制をめぐり、北部諸州と南部諸州が対立した。
- ② 課税をめぐり、13植民地とイギリス本国が対立した。
- ③ 神聖ローマ帝国で、カトリックとプロテスタントが対立した。
- ④ 朝鮮半島で、韓国と北朝鮮が対立した。

問 4 下線部分^(d)世界経済に関する次のグラフについて、A に当てはまる国と、世界の工業生産に占める A の割合がこのように変動した主な理由と考えられるものとの組合せとして正しいものを、下の①～④のうちから一つ選べ。解答番号は 19。

B



グラフ 世界の工業生産に占める各国の割合

	A	理 由
①	スペイン	他の国々に産業革命が広がったため
②	スペイン	黒死病(ペスト)によって経済が打撃を受けたため
③	イギリス	他の国々に産業革命が広がったため
④	イギリス	黒死病(ペスト)によって経済が打撃を受けたため

5 1～2の文章と図版に関連して、問1～問6に答えよ。

1 生徒と先生が、図1～図3を見ながら、20世紀の広告の内容について会話している。

生徒： 20世紀の広告をたくさん集めてみました。図1はアメリカ合衆国のチラシ広告で、家電製品がたくさん載っていました。この時期から家電製品があったんですね。

先生： 1929年頃になると、アメリカ合衆国では全家庭の7割に電気が通っていましたからね。デパートなどで家電製品が大量に販売され、大衆消費社会を迎えていた時期です。

生徒： 図2は1925年の上海の広告です。国産品の愛用を勧める広告だという解説が付いていたのですが、なぜ国産品を勧めていたのですか。

先生： この時期は中国への外国資本の進出に抵抗する意識が高まっており、外国の製品を排斥しようとしていたのです。^(a)消費活動を促す側面だけでなく、政治的な側面も持っている広告だといえますね。

生徒： 図3はナチス政権の時代、雑誌『画報ドイツ空軍』に載っていた広告です。飛行機に使う^(c)素材の広告で、飛行機のガラス越しに敵の輸送船が描かれているようなのですが、これにも政治的な側面があるのでしょうか。

先生： この広告で注目すべき点は、ドイツの軍事産業に絡めて、素材の優秀さをアピールしている点です。これには、ヒトラーが1935年に行った再軍備宣言の影響があると考えられます。^(d)



図1 1920年代のアメリカ合衆国の広告




図2 1925年の上海の広告



図3 ナチス政権の時代の広告


問 1 下線部分^(a)大衆消費社会に関連して、20世紀前半のアメリカ合衆国のようすについて説明した文として適切なものを、次の①～④のうちから一つ選べ。解答番号は 20。

- ① 携帯電話が普及していた。
- ② ヴェルサイユ宮殿が建てられた。
- ③ ルネサンスとよばれる文化運動が活発になった。
- ④ ラジオを聞く家庭が増えた。


問 2 下線部分^(b)中国への外国資本の進出に抵抗する意識に関連して、1925年に上海でおこった反帝国主義運動を、次の①～④のうちから一つ選べ。解答番号は 21。

- ① 公民権運動
- ② ワッハーブ運動
- ③ 五・三〇運動
- ④ ラダイト運動

問 3 下線部分^(c)飛行機について、動力飛行機の初飛行に成功した人物を、次の①～④のうちから一つ選べ。解答番号は 22。



グリム兄弟



ワット



ライト兄弟



キュリー夫妻

問 4 下線部分^(d)ヒトラーについて述べた文として適切なものを、次の①～④のうちから一つ選べ。解答番号は 。

- ① 全権委任法を成立させ、一党独裁を実現した。
- ② アラブ人の特権を廃止し、イスラーム法に基づく政治を行った。
- ③ ドイモイ政策を行い、市場経済を取り込んだ。
- ④ 十字軍遠征を行い、聖地イェルサレムの奪還を目指した。

2 生徒と先生が、カード1～カード3を見ながら、第一次世界大戦後のパレスチナ地方について会話している。

生徒： 第一次世界大戦中のパレスチナ地方に関する協定をカードにまとめていたのですが、カード1～カード3のように三つも協定が出てきました。私の調べ方が間違っていたのでしょうか。

先生： いいえ。間違っていないよ。実際に三つ結んでいたのです。

生徒： でも、これらの協定を全て実現させようとするとう矛盾がおきませんか。

先生： その通りです。実際、このイギリスの多重外交は、後の混乱を招く原因となりました。^(e)

カード1

サイクス・ピコ協定 1916年

イギリスがフランスとロシアに対して結んだ協定。

大戦後、イギリスはヨルダンとイラク中部を、フランスはシリアを、ロシアはイスタンブル周辺と東部州を治めることに加え、パレスチナを国際管理にすることを定めた。^(f)

カード2

フセイン(フサイン)・マクマホン協定(書簡) 1915年

イギリスがメッカの太守のフセインと結んだ協定。

オスマン帝国内のアラブ人が反乱をおこすことを条件に、大戦後、アラブ国家の独立を認めることを約束した。

カード3

バルフォア宣言 1917年

イギリスがユダヤ人に対して約束した宣言。

アメリカやイギリス在住のユダヤ人から、第一次世界大戦の資金を援助してもらうことを条件に、パレスチナ地方におけるユダヤ人の民族郷土(ナショナル・ホーム)の樹立に対する支持を約束した。

問 5 下線部分^(e)後の混乱について述べた文として適切なものを、次の①～④のうちから一つ選べ。解答番号は 。

- ① エジプトとオスマン帝国の間で、エジプト＝トルコ戦争がおこった。
- ② 日本と清の間で、日清戦争がおこった。
- ③ ローマとカルタゴの間で、ポエニ戦争がおこった。
- ④ イスラエルとアラブ諸国の間で、第1次中東戦争がおこった。

問 6 下線部分^(f)ロシアの第一次世界大戦中のようすについて述べた文として適切なものを、次の①～④のうちから一つ選べ。解答番号は 。

- ① ニューディールを実施した。
- ② 「平和に関する布告」を発表した。
- ③ ピカソが「ゲルニカ」を描いた。
- ④ 名誉革命がおこった。

6 1～2の文章と図版に関連して、問1～問5に答えよ。

1 南極の存在が人々に広く知られるようになったのは、19世紀以降である。やがて、南極の探査に関わったイギリス、^(a)フランス、ノルウェーや、南極に近いアルゼンチン、チリ、オーストラリアなどの国々が、領有権を主張するようになった。第二次世界大戦後には、冷戦体制における2大国であるアメリカ合衆国やソ連も、この争いに介入した。

こうした状態を調停するために開かれた国際会議において、日本政府を代表して参加した文部省官僚の木田宏は、日本国憲法の前文と第9条の英文を配布した。これによって、難航していた会議の流れが変わり、^(b)1959年に南極条約が成立した。南極条約では、南極に関する領有権の主張は凍結され、核実験などの軍事利用は禁止された。1966年に成立した、宇宙の平和利用と領有権の放棄を定めた宇宙条約にも、南極条約の影響を見ることができる。日本国憲法は、^(c)第二次世界大戦後の国際秩序の変化に影響を与えてきたのである。



1947年、文部省発行『あたらしい憲法のはなし』中の挿し絵
(木田宏が作成を担当)

問 1 下線部分^(a)フランスの第二次世界大戦後の対外政策について述べた文として適切なものを、次の①～④のうちから一つ選べ。解答番号は 。


- ① 勘合貿易を行った。
- ② アルジェリアの独立を認めた。
- ③ 中国の門戸開放を唱えた。
- ④ ネルチンスク条約を結んだ。

B

問 2 下線部分^(b)1959年におこったキューバ革命の指導者を、次の①～④のうちから一つ選べ。解答番号は 。



カストロ



ソクラテス



ホセ＝リサル



サッチャー

問 3 下線部分^(c)第二次世界大戦後の国際秩序の変化に関連して、核兵器の廃絶に向かう国際協力を主題とした年表を作成する場合、年表中の **A** に当てはまる語句として適切なものを、下の①～④のうちから一つ選べ。解答番号は **28**。

1950年代	第1回原水爆禁止世界大会開催，南極条約採択
1960年代	部分的核実験禁止条約調印
1980年代	A 調印
1990年代	包括的核実験禁止条約(CTBT)採択

- ① ウェストファリア条約
- ② 不戦条約(ブリアン・ケロッグ条約)
- ③ 日米和親条約
- ④ 中距離核戦力(INF)全廃条約

2 チェコスロヴァキアの体操選手チャスラフスカは、1964年の東京オリンピック女子体操個人総合で金メダルを獲得し、日本でも「五輪の名花」とよばれて人気を博した。この4年後の1968年、チャスラフスカにとって2度目のオリンピックであるメキシコ大会の直前に、チェコスロヴァキアで民主化を求める運動「プラハの春」^(d)がおこった。チャスラフスカは民主化運動に賛同したため、メキシコ大会でも四つの金メダルを獲ったものの、運動が **B** によって弾圧された後は不遇の時代を過ごした。1989年の民主化運動^(e)によって、チェコスロヴァキアの共産党独裁が打倒されると、チャスラフスカの名誉も回復された。1995年には、国際オリンピック委員会の委員にも就任した。



チャスラフスカ(表彰台中央)

問 4 次の資料は、下線部分「プラハの春」に介入した **B** に対するプラハ市民の抵抗のよう
(d)
 すを示すものである。 **B** に当てはまる語句と、この資料の解釈として考えられるもの
 との組合せとして正しいものを、下の①～④のうちから一つ選べ。解答番号は **29**。

一群の戦車隊がナ＝プシーコピエ通りを下ってきた時のことだ。数百人のプラハ市民がこぶしをふりあげながら、盛んに罵声を飛ばしている。すると突然、車椅子に乗っていた障害者が、先頭の戦車をめがけて舗道から飛び出した。…障害者は絶叫した。「おれはファシズムと戦って、両足をなくした。今度は、モスクワから来たファシズムが、そのけりをつけてくれるだろう。さあ、俺をひき殺せ！」

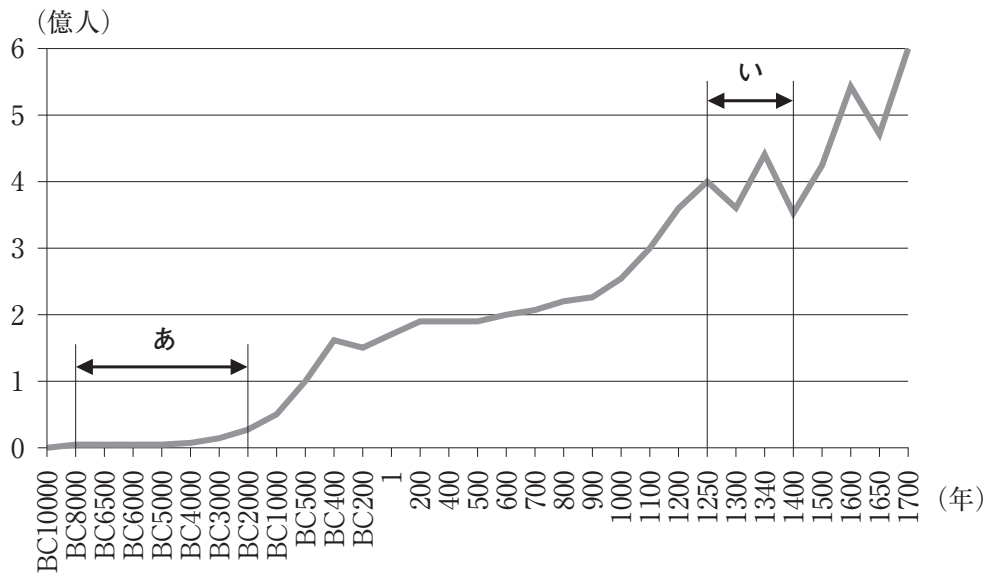
	B	解釈として考えられるもの
①	ワルシャワ条約機構軍	資料中の「障害者」は、民主化を求めている。
②	ワルシャワ条約機構軍	資料中の「障害者」は、民主化の要求を弾圧しようとしている。
③	オスマン帝国	資料中の「障害者」は、民主化を求めている。
④	オスマン帝国	資料中の「障害者」は、民主化の要求を弾圧しようとしている。

問 5 下線部分 1989年の民主化運動に関連して、この頃に中国でおこった出来事について述べ
(e)
 た文として適切なものを、次の①～④のうちから一つ選べ。解答番号は **30**。

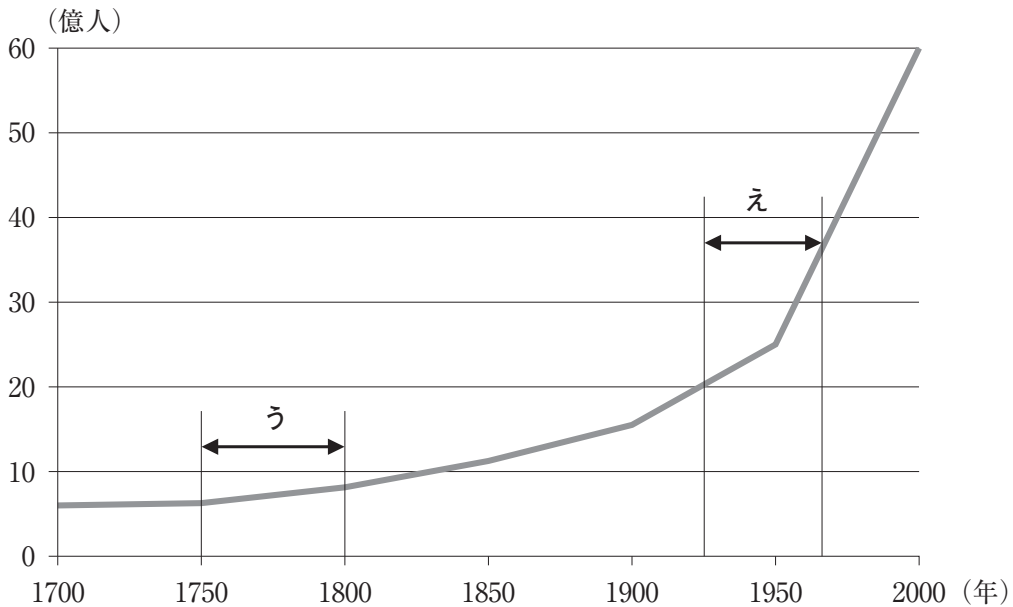
- ① 東学を中心とする農民反乱がおこった。
- ② 天安門広場での民主化を求める集会が弾圧された。
- ③ 陳独秀が、啓蒙雑誌『新青年』を発行した。
- ④ 第4回選挙法改正で、女性参政権が認められた。

7 次の文章と図版に関連して、問1～問2に答えよ。

窒素・リン酸・カリは肥料の三要素とよばれる養分である。農業生産を続けるためには、肥料を与えるなどして、これらの養分を土壤に補わなければならない。中世のヨーロッパで行われていた輪作である **A** の農法は、土壤における窒素を回復させるために行われていたが、輪作や有機肥料に頼る食糧生産の増加は限界があった。世界の人口は下のグラフ1とグラフ2で示したような変化をしているが、20世紀以降の急激な人口増加には、化学肥料の普及も大きく関わっている。



グラフ1 紀元前1万年から1700年までの世界人口の変化(推計)



グラフ2 1700年から2000年までの世界人口の変化(推計)

(U.S. Census Bureauのデータより作成。)

