

令和2年度 世界史A・世界史B (50分)

注 意 事 項

- 1 試験開始の合図があるまで、この問題冊子の中を見てはいけない。
- 2 出題科目、ページ及び選択方法は、下表のとおりである。

出題科目	ページ	選 択 方 法
世界史A	1～28	左の2科目のうちから1科目を選択し、解答しなさい。
世界史B	29～58	

- 3 試験中に問題冊子の印刷不鮮明、ページの落丁・乱丁及び汚れ等に気付いた場合は、手を挙げて監督者に知らせること。
- 4 試験開始の合図前に、監督者の指示に従って、解答用紙の該当欄に以下の内容をそれぞれ正しく記入し、マークすること。

・①氏名欄

氏名を記入すること。

・②受験番号、③生年月日、④受験地欄

受験番号、生年月日を記入し、さらにマーク欄に受験番号(数字)、生年月日(年号・数字)、受験地をマークすること。

・⑤解答科目欄

解答する科目名を○で囲み、さらにその下のマーク欄にマークすること。

- 5 受験番号、生年月日、受験地が正しくマークされていない場合は、採点できないことがある。
- 6 解答科目が正しくマークされていない場合は採点できないので、必ず正しくマークすること。
- 7 解答は、解答用紙の解答欄にマークすること。例えば、

10

と表示のある解答番号に対して②と解答する場合は、次の(例)のように解答番号10の解答欄の②にマークすること。

(例)

解答番号	解 答 欄
10	① ② ③ ④

- 8 問題冊子の余白等は適宜利用してよいが、どのページも切り離してはいけない。
- 9 試験終了後、問題冊子は持ち帰ってよい。

世 界 史 A

(解答番号 ~)

1 次の文章に関連して、問1～問2に答えよ。

山口県の高校で、生徒と先生が会話している。

先生： 県の特産の一つは木材です。どんなところに使われたか、知っていますか。

生徒： 奈良の東大寺が平氏政権によって焼き討ちに遭ったとき、復興に当たった仏僧の重源が、すおうのくに周防国やながのくに長門国の木材を使って再建したと聞いています。

先生： その通りです。でも、周防国の木材はもっと広く使われていました。重源は、明州(寧波)の阿育王寺の舍利殿建立の際にも、周防国の材木を寄進しています。

生徒： 海を越えて中国まで輸出していたのですか。なぜ、わざわざ日本から輸入する必要があったのでしょうか。

先生： 日本から材木を送った当時、江南地方では木材の消費や森林開発が進み、柱にできるほどの木材が十分に手に入らなかったのです。重源と同時代に書かれた資料を見てみましょう。

明州は水陸の景色のすぐれた場所で、山並みは深くてすばらしく、昔は大木や深い森があって、谷沿いに平地が広がっていて、竹や木も生い茂っていた。大水になったとしても、地盤は木々の根のおかげでゆるむことはなく、流れ出てしまう量も多くはなかった。…ところが近年になって、木材の価格が上がり、木が相次いで切られた。…平地の竹や木もこのためにみななくなり、大水になっても林の木々もないため、水があふれる勢いを抑えることができなくなってしまった。

(江南地方の水利と環境について書かれた記録)

このことから何がわかりますか。

生徒： 中国、特に江南地方は緑が豊かだと思っていましたが、 のですね。

先生： そうです。経済発展と環境破壊の問題は、最近になって始まったことではないのですよ。

問 1 下線部分^(a)阿育王寺は、仏教を保護した古代インドのアショーカ王にちなんで名付けられた仏教寺院である。仏教について述べた文として適切なものを、次の①～④のうちから一つ選べ。解答番号は 。

- ① 指導者は、教皇とよばれた。
- ② 『論語』が経典の一つとされた。
- ③ スンナ派とシーア派に分かれた。
- ④ ガウタマ＝シッダールタが創始した。

問 2 下線部分^(b)日本から材木を送った当時、江南地方では木材の消費や森林開発が進みとあるが、 は、会話文中の資料を読み解いて、当時の状況について推察した発言である。 に当てはまる文と、その当時の中国大陸の情勢を示した地図との組合せとして正しいものを、下の①～④のうちから一つ選べ。解答番号は 。

あ



い




(注) 図中の着色の部分は勢力範囲を示す。

	<input type="text" value="A"/>	中国大陸の情勢
①	竹や木が茂って水害の原因になっていたので、伐採が進められた	あ
②	竹や木が茂って水害の原因になっていたので、伐採が進められた	い
③	商用目的での伐採で山林が減少したせいで、水害がおきやすくなった	あ
④	商用目的での伐採で山林が減少したせいで、水害がおきやすくなった	い

2 次の文章と図版に関連して、問1～問4に答えよ。

子どもたちの遊びの一つにお手玉遊びがある。ヒッタイトの石碑には、お手玉遊びらしき様子が彫られている。紀元前5世紀頃には、^(a)ギリシア世界の子どもたちの間で、羊のかかとの骨を使ったお手玉遊びが流行した。やがて、^(b)ユーラシア大陸の東西交易路を通り、^(c)インドや中国にも伝えられた。アジアでは骨のかわりに身近にある小石を使うようになり、日本では「石子(いしなご)」^(d)「石名取(いしなどり)」と称する遊びとして広がった。記録には、聖徳太子が水晶でできた「石名取玉」で遊んだと記されている。



奈良時代の「石名取玉」

3 1～2の文章と図版に関連して、問1～問5に答えよ。

1 生徒と先生が、図を見ながら会話している。

先生： 図の茶屋新六交趾渡航図巻は、朱印船貿易のようすを描いたもので、交趾(ベトナム中部)の港町ホイアンの町並みなどが描かれています。

生徒： 朱印船というのは、江戸幕府によって海外への渡航を許可された貿易船のことですね。

先生： そうです。当時、ポルトガル船が、日本の銀と中国の生糸との交易で莫大な利益を上げていました。そこで徳川家康は、積極的に海外との交易を図ったのですが、明との正式な貿易は再開できなかつたこともあり、朱印船の渡航先は東南アジア中心となりました。

生徒： 図には、日本町の書き込みがあります。現地の日本人は、何をしていたのですか。

先生： 朱印船に積み込む、生糸や皮革・香木などの商品を買付けていました。また、ホイアンには、日本町の近くに中国人町があり、ここは、日中の出会い貿易の場でもあったのです。

生徒： 確か、1635年、幕府によって日本人の海外渡航と帰国が禁止され、朱印船貿易の時代は終わってしまいますが、日本町はどうなったのですか。

先生： 中国船を介して交易を続けた現地の日本人もいました。しかし、次第に日本町は衰退し、18世紀には消滅したようです。



図 茶屋新六交趾渡航図巻(部分)

問 1 下線部分^(a)明との正式な貿易は再開できなかつたとあるが、このことの背景と考えられる事柄について述べた文として適切なものを、次の①～④のうちから一つ選べ。

解答番号は 。

- ① 日本が、白村江の戦いで敗れた。
- ② 豊臣秀吉が、朝鮮に侵攻した。
- ③ 洪秀全が挙兵し、太平天国を建てた。
- ④ 関東軍が、柳条湖事件をおこした。

問 2 下線部分^(b)朱印船貿易の時代に関連して、この時期の東南アジアのようすについて述べた文として適切なものを、次の①～④のうちから一つ選べ。解答番号は 。

- ① オランダが、バタヴィアを根拠地とした。
- ② フランスが、ワーテルローの戦いで敗れた。
- ③ モンゴル軍が、アッバース朝を滅ぼした。
- ④ 東南アジア諸国連合(ASEAN)が結成された。

2 高校生の和泉さんは、夏休みの宿題でジャガイモの歴史について調べ、次のレポートを作成し、世界史の授業で発表した。

ジャガイモの歴史

ジャガイモのふるさとアンデス

原産地はアメリカ大陸のアンデス高地。紀元前 4000 年頃より、野生種から栽培種に改良されてきた。現在も数百種のジャガイモが栽培されている。

先住民族の村の生活は、古アメリカ文明を支えた作物である **A** とジャガイモの栽培が中心。しかし、標高 3,000 メートル以上で育つのはジャガイモだけ。

自然の気候を利用し、ジャガイモの保存食チューニョをつくる。このような昔からの営みを守り続けてきた。

チューニョ



戦争と飢饉がきっかけで、ヨーロッパでジャガイモが普及

ヨーロッパへは、16 世紀にスペインによってもたらされるが、広く栽培されることはなかった。ドイツでは、17 世紀以降、たびたびおこった戦争や飢饉によって、次第にジャガイモ栽培が普及した。ジャガイモは、厳しい冬や夏の長雨でも収穫できた。

また、19 世紀初頭にイギリスに併合されたアイルランドでは、住民の大半を占める小作農は、ジャガイモを主食としていた。しかし 1840 年代に、ジャガイモの疫病によって始まった「ジャガイモ飢饉」では、100 万人以上の人々が、飢餓や栄養失調が原因で亡くなり、多くの人々が **B** 。

ドイツのジャガイモ料理



問 3 下線部分アンデス高地を中心に栄えていたが、16世紀前半にスペイン人のピサロによって滅ぼされた国と、 に当てはまるアメリカ大陸原産の穀物との組合せとして正しいものを、次の①～④のうちから一つ選べ。解答番号は 。

	滅ぼされた国	<input type="text" value="A"/>
①	ローマ帝国	トウモロコシ
②	ローマ帝国	コメ
③	インカ帝国	トウモロコシ
④	インカ帝国	コメ

問 4 に当てはまる文を、次の①～④のうちから一つ選べ。
解答番号は 。

- ① 東南アジアに移住し、華僑とよばれた
- ② 略奪や交易に従事し、ヴァイキングとよばれた
- ③ バビロンに強制的に移住させられた
- ④ 移民として、アメリカ合衆国などへ渡った

問 5 下線部分 17 世紀以降、たびたびおこった戦争 に関連して述べた、次の文章中の **C** に当てはまる人物を、下の①～④のうちから一つ選べ。解答番号は **11**。

18 世紀半ば、プロイセン国王 **C** は、オーストリア継承戦争と七年戦争を戦い、プロイセンの強国化を実現した。**C** は、上からの改革を推し進め、啓蒙専制君主とよばれた。また、ジャガイモ栽培を農民に奨励した人物としても知られている。

①



ヌルハチ

②




エリザベス 1 世

③



アクバル

④



フリードリヒ 2 世


4 1～2の文章と図版に関連して、問1～問6に答えよ。

1 19世紀のアジアでは、欧米諸国の進出により経済が打撃を受ける一方で、欧米の技術を導入して工業を発展させようとする動きもみられた。インドのボンベイ(現ムンバイ)の貿易商であつたジャムセットジ=タタは、1874年、イギリスから購入した紡績機を用い、国内の綿花を原料として綿糸生産を始めた。1880年代からは、主に中国に向けて綿糸を大量に輸出した。

日本の大阪でも、1880年代にイギリス製の紡績機が導入され、綿糸の生産が増大した。1893年、タタと渋沢栄一の尽力により、インド産の綿花を輸入するための日本初の国際定期航路が神戸・ボンベイ間に開通した。原料が安価に輸入されるようになったことで、大阪の紡績業は急成長し、中国市場では日本産とインド産の綿糸が激しく競争した。中国では、インドや日本から輸入した綿糸を用いた、手織りの綿布生産が盛んになった。



ジャムセットジ=タタ(タタ財閥の創業者)

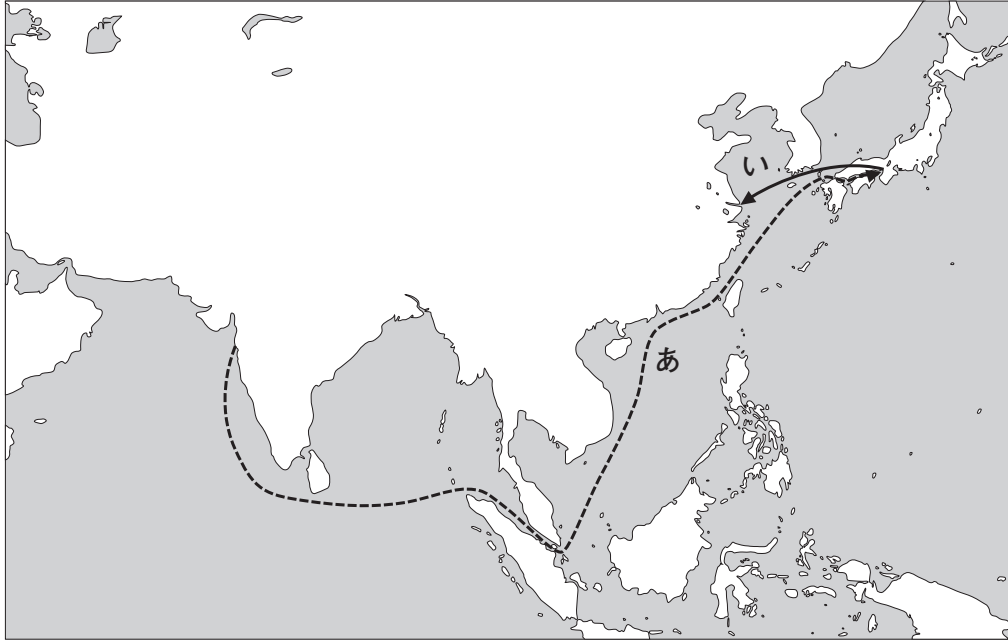


大阪の紡績工場(大正時代)

問1 下線部分インドの19世紀のようすについて述べた文として適切なものを、次の①～④のうちから一つ選べ。解答番号は 12。

- ① レーニンが、新経済政策(ネップ)を実施した。
- ② ヴァルダマーナが、ジャイナ教を開いた。
- ③ アヘン戦争に敗れ、香港島を割譲した。
- ④ イギリスの女王を皇帝とするインド帝国が成立した。

問 2 下線部分日本初の国際定期航路が開通した後の商品の動きについて、次の略地図は、本文^(b)で説明されている内容を図示したものである。略地図中のあといに当たる商品の組合せとして正しいものを、下の①～④のうちから一つ選べ。解答番号は 13。



	あ	い
①	綿花	綿糸
②	綿布	綿花
③	綿糸	紡績機
④	紡績機	綿花

2 1811年、フリードリヒ＝クルップは、ドイツ西部のエッセンに^{ちゅうてつ}鑄鉄工場を開いた。当時は^(c)イギリスの鉄製品が入ってこなかったため、事業は成長したが、イギリスからの輸入が再開されると経営は悪化した。彼が1826年に亡くなると、その子アルフレートが14歳で事業を引き継いだ。ドイツで^(d)鉄道の建設が進むと、鉄道機械の製造により会社は急成長した。

アルフレートは、兵器の分野への進出もめざましい。青銅製の大型砲が主流だった時代に、彼は鑄鉄製の大型砲を製造し、1851年の^(e) A で注目を集めた。クルップ社の大型砲はプロイセン軍に大量に納入され、ドイツ帝国成立につながった2度の戦争で威力を発揮した。



ロンドンで開催された A



クルップ社の大型砲

問 3 A に当てはまる語句を、次の①～④のうちから一つ選べ。解答番号は 14 。

- ① 第1回オリンピック大会
- ② 第1回万国博覧会
- ③ 主要国首脳会議(サミット)
- ④ アジア・アフリカ会議

問 4 下線部分^(c)当時はイギリスの鉄製品が入ってこなかったことについて、その要因として適切なものを、関係する次の資料を参考にしながら、下の①～④のうちから一つ選べ。
解答番号は 15 。

第2条 イギリス諸島とのあらゆる商取引、通信を禁止する。…

第5条 イギリス商品の取引は禁止される。イギリスに属する全ての商品もしくは、イギリスの工場および植民地に由来する全ての商品は正当な戦利品とされる。

- ① 洪武帝が、海禁政策を実施した。
- ② コンスタンティヌス帝が、ミラノ勅令を発した。
- ③ ナポレオンが、大陸封鎖令を発した。
- ④ トルーマンが、封じ込め政策を実施した。

問 5 下線部分^(d)鉄道に関する次の文章を読み、**B** と **C** に当てはまる語句の組合せとして正しいものを、下の①～④のうちから一つ選べ。解答番号は **16**。

欧米諸国は、進出した先に鉄道を建設した。ドイツは、バグダード鉄道の建設を通じてオスマン帝国に影響力を広げようとする **B** 政策を進めた。アジア諸国では、こうした進出に対する反発も生じた。たとえば、中国でおこった **C** では、「扶清滅洋」を唱えて蜂起した集団が、西洋を象徴するものとして鉄道を破壊した。

	B	C
①	3 B	黄巾の乱
②	3 B	義和団事件
③	大躍進	黄巾の乱
④	大躍進	義和団事件

問 6 下線部分^(e)ドイツ帝国成立につながった2度の戦争について、1866年と1870年におこった各戦争で、それぞれプロイセンが戦った国として適切なものを、次の①～④のうちから一つ選べ。解答番号は **17**。

- ① 清とロシア
- ② イギリスとメキシコ
- ③ イランとアメリカ合衆国
- ④ オーストリアとフランス

5 1～2の文章と図版に関連して、問1～問7に答えよ。

1 生徒と先生が、図1～図3を見ながら、20世紀の広告の内容について会話している。

生徒： 20世紀の広告をたくさん集めてみました。図1はアメリカ合衆国のチラシ広告で、家電製品がたくさん載っていました。この時期から家電製品があったんですね。

先生： 1929年頃になると、アメリカ合衆国では全家庭の7割に電気が通っていましたからね。デパートなどで家電製品が大量に販売され、大衆消費社会を迎えていた時期です。

生徒： 図2は1925年の上海の広告です。国産品の愛用を勧める広告だという解説が付いていたのですが、なぜ国産品を勧めていたのですか。

先生： この時期は中国への外国資本の進出に抵抗する意識が高まっており、外国の製品を排斥しようとしていたのです。^(a)消費活動を促す側面だけでなく、政治的な側面も持っている広告だといえますね。

生徒： 図3はナチス政権の時代、雑誌『画報ドイツ空軍』に載っていた広告です。飛行機に使う^(c)素材の広告で、飛行機のガラス越しに敵の輸送船が描かれているようなのですが、これにも政治的な側面があるのでしょうか。

先生： この広告で注目すべき点は、ドイツの軍事産業に絡めて、素材の優秀さをアピールしている点です。これには、ヒトラーが1935年に行った再軍備宣言の影響があると考えられます。^(d)



図1 1920年代のアメリカ合衆国の広告




図2 1925年の上海の広告



図3 ナチス政権の時代の広告


問 1 下線部分^(a)大衆消費社会に関連して、20 世紀前半のアメリカ合衆国のようすについて説明した文として適切なものを、次の①～④のうちから一つ選べ。解答番号は 。

- ① 携帯電話が普及していた。
- ② ヴェルサイユ宮殿が建てられた。
- ③ ルネサンスとよばれる文化運動が活発になった。
- ④ ラジオを聞く家庭が増えた。


問 2 下線部分^(b)中国への外国資本の進出に抵抗する意識に関連して、1925 年に上海でおこった反帝国主義運動を、次の①～④のうちから一つ選べ。解答番号は 。

- ① 公民権運動
- ② ワッハーブ運動
- ③ 五・三〇運動
- ④ ラダイト運動

問 3 下線部分^(c)飛行機について、動力飛行機の初飛行に成功した人物を、次の①～④のうちから一つ選べ。解答番号は 。



グリム兄弟



ワット



ライト兄弟



キュリー夫妻

問 4 下線部分^(d)ヒトラーについて述べた文として適切なものを、次の①～④のうちから一つ選べ。解答番号は 。

- ① 全権委任法を成立させ、一党独裁を実現した。
- ② アラブ人の特権を廃止し、イスラーム法に基づく政治を行った。
- ③ ドイモイ政策を行い、市場経済を取り込んだ。
- ④ 十字軍遠征を行い、聖地イェルサレムの奪還を目指した。

2 高校生の森さんと関さんが、20世紀初頭のイギリスとフランスの植民地を図4・図5にまとめ、会話している。

森さん： 僕はアフリカの植民地の状況を調べてみたんだけど、図4のように、イギリスは南北に、フランスは東西に植民地を展開していたようです。

関さん： そうすると、アフリカの中央あたりでイギリス軍とフランス軍が衝突して、戦争がおきそうだけど、そういった戦争はおきなかったのですか。

森さん： 1898年に、アフリカの植民地化の過程でイギリス軍とフランス軍が遭遇した事件^(e)があったけど、フランスが譲歩したことで、戦争にはならなかったようです。関さんは東南アジアの植民地の状況を調べていたのですよね。そちらはどんな状況だったのですか。

関さん： どちらがイギリスの植民地で、どちらがフランスの植民地だったかをメモし忘れたんですけど、東南アジアでは図5のように、あの領域とビルマ(ミャンマー)が植民地になっていました。

森さん： あの領域とビルマ(ミャンマー)のちょうど間にあるシャム(タイ)には色がついていないけど、ひょっとして独立国だったんですか。

関さん： そうなんです。イギリスとフランスの勢力均衡政策にも助けられたのですが、19世紀からのシャム(タイ)の政策^(f)が功を奏して、独立を維持できていたのです。

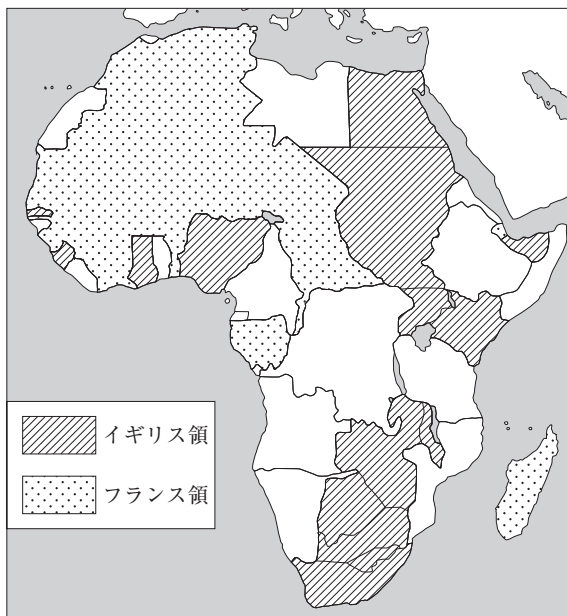


図4 20世紀初頭の 아프리카における植民地



図5 20世紀初頭の東南アジアにおける植民地

問 5 下線部分^(e)アフリカの植民地化の過程でイギリス軍とフランス軍が遭遇した事件を、次の

①～④のうちから一つ選べ。解答番号は 。

- ① アンボイナ事件
- ② ファショダ事件
- ③ 血の日曜日事件
- ④ ドレフェス事件

問 6 図 5 のあの領域に関連して、次の資料は、1919 年のパリ講和会議に提出された「アンナン人民の要求」の一部である(アンナンとはベトナムを指す)。 に当てはまる国と、資料から読み取れる内容との組合せとして正しいものを、下の①～④のうちから一つ選べ。

解答番号は 。

連合国が勝利した日から、隷属させられている全ての民族は…、公理と正義の時代という前途が必ずや彼らにもおとずれることを心の底から希望しています。

民族原則が理想の領域から現実の領域へと転化し、各民族の神聖なる自決権が真のものと認められるのを待ちながら、旧アンナン国、現 領インドシナの人民は、連合国政府ならびに尊敬する 政府に対して、以下のささやかな要求を提出します。

(注) 「連合国」とは第一次世界大戦の戦勝国を指す。

	<input type="text" value="A"/>	資料から読み取れる内容
①	フランス	国際連盟への加入を求めた。
②	フランス	民族の自決権を求めた。
③	イギリス	国際連盟への加入を求めた。
④	イギリス	民族の自決権を求めた。

問 7 下線部分^(f)19 世紀からのシャム(タイ)の政策について述べた文として適切なものを、次の

①～④のうちから一つ選べ。解答番号は 。

- ① オバマが、核なき世界の重要性を訴えた。
- ② ハンムラビ王が、法典を発布した。
- ③ ラーマ 5 世(チュラロンコン)が、西欧化を推進した。
- ④ 鄧小平が、改革・開放政策を推進した。

6 1～2の文章と図版に関連して、問1～問6に答えよ。

1 南極の存在が人々に広く知られるようになったのは、19世紀以降である。やがて、南極の探査に関わったイギリス、^(a)フランス、ノルウェーや、南極に近いアルゼンチン、チリ、オーストラリアなどの国々が、領有権を主張するようになった。第二次世界大戦後には、冷戦体制における2大国であるアメリカ合衆国やソ連も、この争いに介入した。

こうした状態を調停するために開かれた国際会議において、日本政府を代表して参加した文部省官僚の木田宏は、日本国憲法の前文と第9条の英文を配布した。これによって、難航していた会議の流れが変わり、^(b)1959年に南極条約が成立した。南極条約では、南極に関する領有権の主張は凍結され、核実験などの軍事利用は禁止された。1966年に成立した、宇宙の平和利用と領有権の放棄を定めた宇宙条約にも、南極条約の影響を見ることができる。日本国憲法は、^(c)第二次世界大戦後の国際秩序の変化に影響を与えてきたのである。



1947年、文部省発行『あたらしい憲法のはなし』中の挿し絵
(木田宏が作成を担当)


問 1 下線部分^(a)フランスの第二次世界大戦後の対外政策について述べた文として適切なものを、次の①～④のうちから一つ選べ。解答番号は 。

- ① 勘合貿易を行った。
- ② アルジェリアの独立を認めた。
- ③ 中国の門戸開放を唱えた。
- ④ ネルチンスク条約を結んだ。

問 2 下線部分^(b)1959年におこったキューバ革命の指導者を、次の①～④のうちから一つ選べ。解答番号は 。



カストロ



ソクラテス



ホセ＝リサル



サッチャー

問 3 下線部分^(c)第二次世界大戦後の国際秩序の変化に関連して、核兵器の廃絶に向かう国際協力を主題とした年表を作成する場合、年表中の **A** に当てはまる語句として適切なものを、下の①～④のうちから一つ選べ。解答番号は **27**。

1950年代	第1回原水爆禁止世界大会開催，南極条約採択
1960年代	部分的核実験禁止条約調印
1980年代	A 調印
1990年代	包括的核実験禁止条約(CTBT)採択


- ① ウェストファリア条約
- ② 不戦条約(ブリアン・ケロッグ条約)
- ③ 日米和親条約
- ④ 中距離核戦力(INF)全廃条約

2 冷戦下、アメリカ合衆国とソ連^(d)はともに、第二次世界大戦中にドイツが開発したミサイルV2の技術の入手に努め、ロケット開発にしのぎを削った。核爆弾を搭載したロケットは、圧倒的な威力を持つからである。先行したのはソ連で、1957年に世界初の人工衛星スプートニクの打ち上げに成功した。これにショックを受けたアメリカ合衆国もただちに巻き返しを図った。1964年にアメリカ合衆国が打ち上げたシンコム3号は、地球の自転と同じ周期で公転することができる初の人工衛星で、翌年から本格化したベトナム戦争^(e)のための情報収集に重要な役割を果たした。

^(f)1964年の東京オリンピックは、衛星中継が行われた初の大会だった。この時の通信を担ったのも、シンコム3号だった。現在の生活に欠かせない気象情報など、人工衛星によって成り立っている多くの情報システムは、宇宙開発による軍事技術から転用されたものなのである。



1964年東京オリンピック開会式の様子



人工衛星シンコム3号

問 4 下線部分^(d)ソ連の 1950 年代のようすについて述べた文として適切なものを、次の①～④のうちから一つ選べ。解答番号は 。

- ① アダム＝スミスが、『諸国民の富』を著した。
- ② ブラントが、東方外交を展開した。
- ③ フルシチョフが、スターリン批判を行った。
- ④ ルターが、『九十五カ条』の論題を発表した。

問 5 下線部分^(e)ベトナム戦争について、次の資料は、この戦争で交戦していたある国の戦争目的を示す資料である。その国名を、下の①～④のうちから一つ選べ。解答番号は 。

南ベトナムが共産主義者の手に落ちれば、自由世界から人口 2000 万人の国が(共産世界へ)移ってしまうことになる。南ベトナムを失えば、自由世界にとっての東南アジアの重要性をこれ以上論ずることはまったく意味がなくなる。

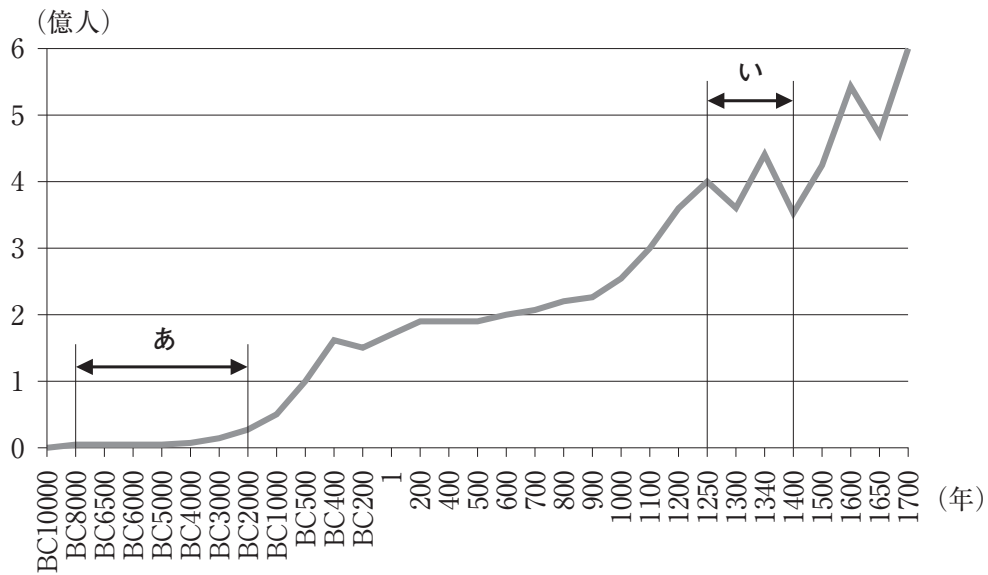
- ① ポーランド
- ② アメリカ合衆国
- ③ 中華人民共和国
- ④ ソ 連

問 6 下線部分^(f)1964 年の東京オリンピックに参加しなかった国に、南アフリカ共和国がある。その当時の南アフリカ共和国のようすについて述べた文として適切なものを、次の①～④のうちから一つ選べ。解答番号は 。

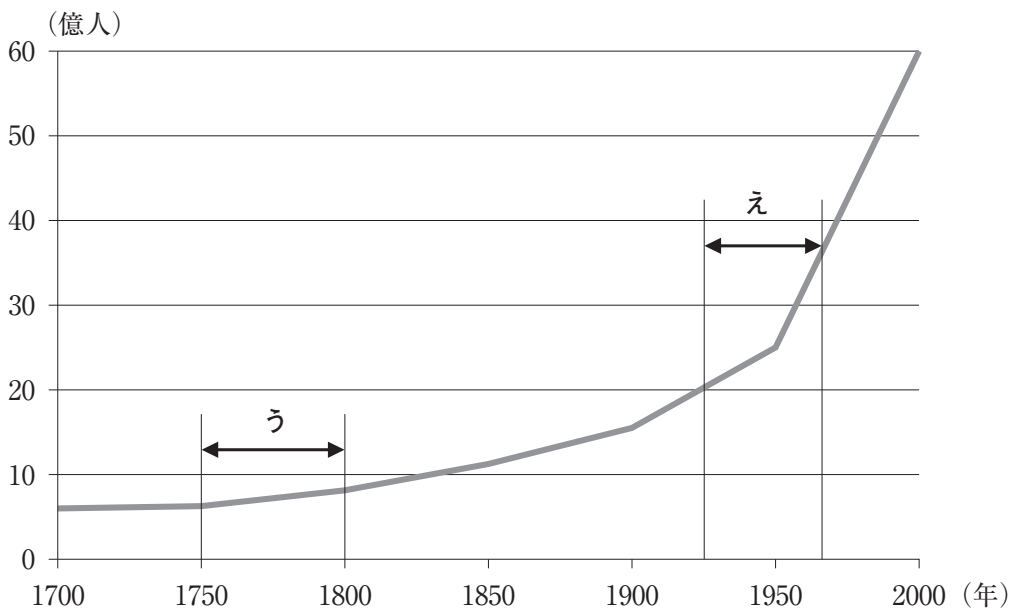
- ① 辮髪が強制されていた。
- ② チャーティスト運動が行われていた。
- ③ ペリクレスの下で、直接民主政が行われていた。
- ④ アパルトヘイトとよばれる人種隔離政策が行われていた。

7 次の文章と図版に関連して、問1～問2に答えよ。

窒素・リン酸・カリは肥料の三要素とよばれる養分である。農業生産を続けるためには、肥料を与えるなどして、これらの養分を土壤に補わなければならない。中世のヨーロッパで行われていた輪作である **A** の農法は、土壤における窒素を回復させるために行われていたが、輪作や有機肥料に頼る食糧生産の増加は限界があった。世界の人口は下のグラフ1とグラフ2で示したような変化をしているが、20世紀以降の急激な人口増加には、化学肥料の普及も大きく関わっている。



グラフ1 紀元前1万年から1700年までの世界人口の変化(推計)



グラフ2 1700年から2000年までの世界人口の変化(推計)

(U.S. Census Bureauのデータより作成。)

問 1 に当てはまる語句を，次の①～④のうちから一つ選べ。解答番号は 。

- ① 郡県制
- ② 一条鞭法
- ③ 三圃制
- ④ 囲い込み

問 2 グラフ 1 と グラフ 2 の あ～え の 時期 について，人口 の変化 の 要因 と 考え られ る 事柄 と して 最も 適切 な もの を，次 の ①～④ の うち から 一つ 選べ。解答 番号 は 。

- ① あの 時期 では，狩猟・採集 の 獲得 経済 から 農耕・牧畜 の 生産 経済 へ の 移行 が 進ん だ。
- ② いの 時期 では，植 民 地 拡 大 に よ り，モ ノ カ ル チ ャ ー 経 済 が 進 ん だ。
- ③ うの 時期 では，動 力 源 が 石 炭 から 石 油 へ と 変 わ っ た。
- ④ えの 時期 では，大 西 洋 三 角 貿 易 に よ り，奴 隸 が 大 量 に 大 陸 間 を 移 動 し た。

(これで世界史 A の問題は終わりです。)