

令和元年度 現代社会 (50分)

注意事項

- 1 試験開始の合図があるまで、この問題冊子の中を見てはいけない。
- 2 この問題冊子は42ページである。
試験中に問題冊子の印刷不鮮明、ページの落丁・乱丁及び汚れ等に気付いた場合は、手を挙げて監督者に知らせること。
- 3 試験開始の合図前に、監督者の指示に従って、解答用紙の該当欄に以下の内容をそれぞれ正しく記入し、マークすること。
 - ・①氏名欄
氏名を記入すること。
 - ・②受験番号、③生年月日、④受験地欄
受験番号、生年月日を記入し、さらにマーク欄に受験番号(数字)、生年月日(年号・数字)、受験地をマークすること。
- 4 受験番号、生年月日、受験地が正しくマークされていない場合は、採点できないことがある。
- 5 解答は、解答用紙の解答欄にマークすること。例えば、

と表示のある解答番号に対して②と解答する場合は、次の(例)のように解答番号10の解答欄の②にマークすること。

(例)

解答番号	解 答 欄
10	① ② ③ ④

- 6 問題冊子の余白等は適宜利用してよいが、どのページも切り離してはいけない。
- 7 試験終了後、問題冊子は持ち帰ってよい。

現代社会

(解答番号 ~)

1 次の会話文を読んで、問1～問3に答えよ。

先生：今回の授業では、前回の授業で学んだ^(a)生命倫理をめぐる現状と諸課題について、みなさんから一つずつ提言を發表してもらいたいと思います。現状を支持する考えに基づいての提言でも、諸課題を批判する観点からの提言でも結構です。それでは始めてください。

優子：私は **A** はどこまで認められるのかについて提言したいと思います。私たちにとって、自由に生きるということは何にもまして大切なことです。そして、自由という考え方を個人の側面からみると、他人に迷惑をかけなければ何をしても良い、それが自由だと考えることもできるでしょう。前回の授業で、代理出産について取り上げられましたが、代理出産は子供が欲しいと願うカップルと第三者の代理出産を扱う業者との間に交わされる契約に基づくものです。つまり、互いに自由な意思に基づいて契約が交わされているのです。このような場合、双方が納得していれば、問題がないと言い切れるのでしょうか。代理母が産んだ子供の引き渡しを拒否するという事例もあるようです。生まれてくる子供の人権はどうなるのでしょうか。

真男：みなさんは、リビング・ウィルという言葉を知っていますか。私は、リビング・ウィルに示されるように、自分の人生をいかに生きるかを決めることはその人の自由であるという観点から **B** の考え方について提言したいと思います。先ほどの優子さんの提言に関連させて言うと、私は、自由に考え自由に選択するということは、どんな場面でも最優先されるべきだと考えます。人の死とは厳^{げんしよく}粛なものであり、死んでいく人にとってだけではなく、周囲の人にとっても無縁ではない大きな出来事であることは理解できます。人の死とはその人にとってだけの死ではないということですよね。それでも、自分の生のあり方を決めるのは自分自身しかないと思うのです。私は、例えば、尊厳死の考え方などはもっと理解され、尊重されるべきだと考えます。

仁美：私は、新しい科学技術は積極的に活用すべきだという立場から提言します。科学技術の発展は、今まで不可能とされていた事柄を次々と可能なものに変えてきています。今、世界では人口が70億人を突破し、人口爆発とよばれる急激な人口増加が進展しています。これにともなって、世界各地で、特に発展途上国を中心に、深刻な食糧不足問題が発生しているのです。しかし、例えば **C** 技術を応用することで、品種改良が進み、食糧増産が可能となり、飢^{きが}餓の問題から人類のすべての人々が逃れることが可能になるかもしれないのです。科学技術の進歩が人間社会をよりよいものにしていく好例だと思います。私は、先端科学技術の正しい利用は、人類に大きな喜びを与えるものであると考えています。

一郎：私は、臓器移植におけるルールについて提言したいと思います。現在、提供される臓器の数は不足していると聞きます。このような貴重な臓器をどのように公正に分配するのか、大きな問題だと考えています。それは、臓器とは単に取引される対象である物品ではなく、分配においては効率だけを優先することは許されず、より一層の公正さが求められると考えるからです。私は、皆が納得できるようなルールに従っていくことが大切だと思います。

先生：それでは、今出された提言をもとに、何が問題とされているかをそれぞれ整理した上で、互いにどう考えるかを話し合ってみましょう。

問 1 会話文中の **A** , **B** , **C** にあてはまるものの組合せとして適切なものを、下の①～④のうちから一つ選べ。解答番号は **1** 。

A にあてはまる選択肢

- ア 自己決定権
- イ 身体的自由

B にあてはまる選択肢

- ウ クオリティー・オブ・ライフ
- エ リプロダクティブ・ヘルス／ライツ

C にあてはまる選択肢

- オ 遺伝子組み換え
- カ 再生医療

	A	B	C
①	ア	ウ	オ
②	イ	ウ	カ
③	ア	エ	カ
④	イ	エ	オ

問 2 下線部分^(a)生命倫理に関連して、次の会話文中の **D** , **E** , **F** にあてはまるものの組合せとして適切なものを、次のページの①～④のうちから一つ選べ。

解答番号は **2** 。

会話文

優子：生命倫理をめぐって、科学技術の発展とその利用をめぐって、どのようなあり方が正しいのかが問題になっているのですね。

真男：うん、どうやら、何が正しいのかという考え方の対立がいろいろな意見の対立を生み出しているようだね。

仁美：先生にお聞きしたいのですが、何をもちて正しいことだと判断するのか、その基準となるような考え方はあるのですか。

先生：そうですね、どのようにして正しい行為をとるべきかを考えるときに用いられる考え方として、結果を重視する帰結主義の考え方や、公正などの義務を重視する義務論の考え方がありますね。

優子：難しそうな言葉ですね。どういう考え方なのですか。

先生：まず、真男君。君のいうとおり科学技術の利用についてはさまざまな意見の対立があるわけだけど、そもそもなぜ先端の科学技術が用いられるのかな。

真男：それは、科学技術の利用によって人々の暮らしが豊かになり、より健康な生活を送ることができるようになるからです。もちろん、他人に害をあたえたり、人々が不幸になったりするような、例えば公害をまき散らすなどというマイナスの側面があるような技術は用いられるべきではないと思います。

先生：君の説明は、有用な科学技術の利用は結果として多くの人々の幸福を増すことになる、だから積極的に用いるべきだということだよ。これが、帰結主義の考え方だよ。帰結主義の考え方は「最大多数の最大幸福」という言葉で表現することもできるね。つまり、多くの人々にとって幸せの総量が最大となるような方法を選ぶべきだ、という考え方です。

優子：私はそこに引っかかるのです。多くの人々が幸せになるとしても、例えば生殖医療に関わるすべての技術が用いられることが許されるとは思えないのです。

先生：そうですね、ですから帰結主義の考え方に対して、幸福の量の大小で行為を決定すること自体が間違っているという批判があるのです。なぜならば、何を幸福と考えるのかは個人で違うのだから、幸福を判断の基準におく帰結主義の考え方は公正をめざすという点からも問題があり、正しいとはいえないというのです。このように公正などの義務を重視する義務論の立場からは、 **D** とされます。

一郎：今の説明を聞いて、私はこんな例を考えてみました。臓器移植の際に、臓器を必要とする条件が全く同じであるとしたうえで、社会的にみて有能な科学者やスポーツ選手、芸術家などに優先して臓器を提供すべきだという意見があったとしたら、この例はどちらの考え方に立っていることになるのでしょうか。

真男：有能な科学者やスポーツ選手，芸術家などが優先的に臓器提供を受ける方が，社会にとってより一層有益ではないかという前提があるとすれば，**E** の考え方だと思ふな。

仁美：一郎君の考えたような例を提示されると，人間の命や尊厳に違いがある，尊いものとそうでないものがあると認めるようで受け入れがたいですね。

先生：一郎君が示した例は，思考実験といって，ある一定の条件の下である問題を考えると，どのような結論が導き出されるのか考察してみようというものです。示されたような例に対して，公正を重視する義務論の立場からは，**F** という批判があります。

優子：大切なのは，どちらの考え方が正しいかということではないように思います。個人や社会全体の幸福を追求することは否定されることではないし，一方で，公正であることの重要性を見失ってはいけないと思うのです。両方の考え方を踏まえて，みんなが納得できるやり方を探求すべきだと思います。生命倫理について考え，話し合うことは，人間がどうあるべきかを深く考えるきっかけになると思うわ。

D にあてはまる選択肢

ア 幸福にもさまざまな質があるので，より高い質をもった幸福を求める行動原則に従って行為することが正しいことである

イ あらゆる人にとって当てはめることのできる行動原則に従って行為することが正しいことである

E にあてはまる選択肢

ウ 帰結主義

エ 義務論

F にあてはまる選択肢


オ 一人一人の人間は等しく尊厳をもつのであるから，少しでも多くの人々がより大きな福利を受けることができるようにすべきである

カ 誰もみんなの幸福のためのたんなる手段とされてはならず，誰かの幸せという目的のために他の誰かをたんなる手段としてのみ用いることは許されない

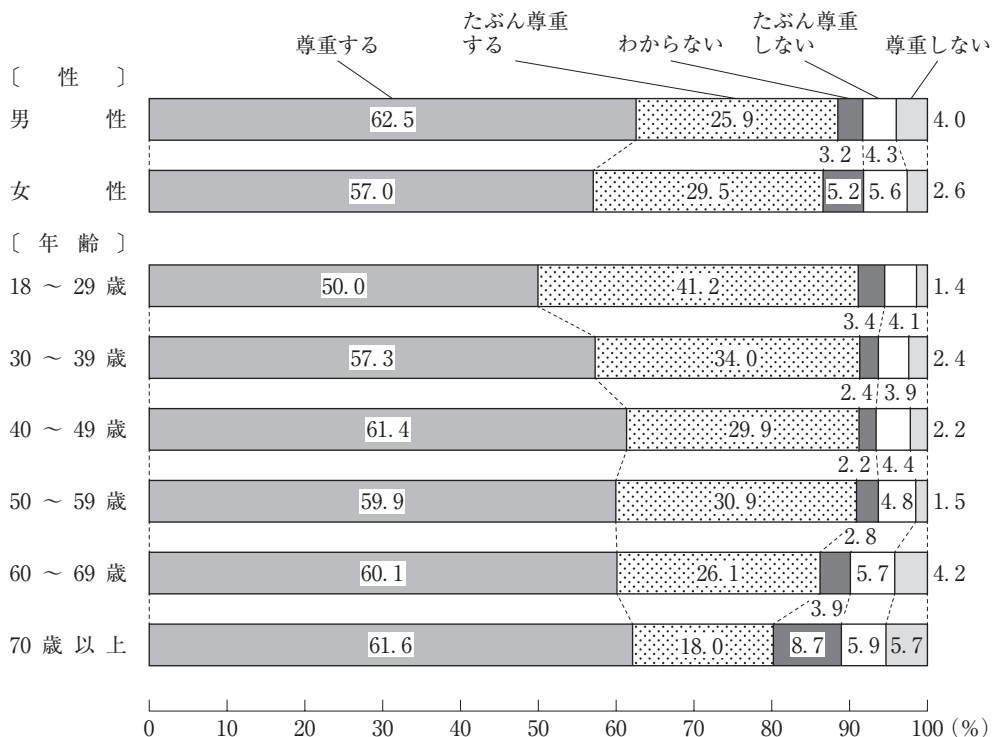
	D	E	F
①	ア	ウ	オ
②	イ	ウ	カ
③	ア	エ	カ
④	イ	エ	オ

問 3 下線部分臓器移植について、次のグラフ1、グラフ2、グラフ3について説明する文章として適切なものを、次のページの①～④のうちから一つ選べ。解答番号は 3。

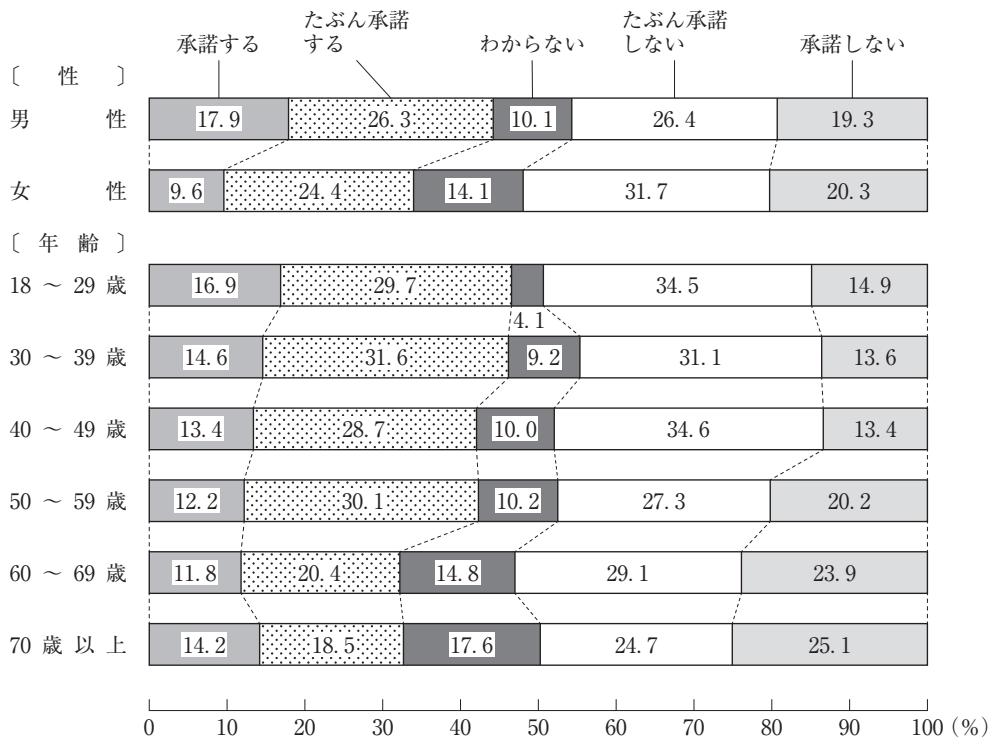
グラフ1 脳死または心停止下で臓器提供の意思



グラフ2 家族が脳死または心停止下で臓器提供を表示していた場合の対応



グラフ3 家族が脳死または心停止下で臓器提供を表示していなかった場合の対応



(注) グラフの数値は四捨五入しているため、合計値が100にならない場合がある。

(内閣府「移植医療に関する世論調査(平成29年8月調査)」により作成)

- ① 脳死または心停止下で臓器提供の意思についてみると、「提供したくない」と「どちらかといえば提供したくない」と答えた割合の合計は、男性よりも女性の方が大きく、年齢別でみると年齢層が上がるほど大きくなる。家族が脳死または心停止下で臓器提供を表示していた場合、「尊重する」と答えた割合をみると、18～29歳が他の年齢層よりも大きい。
- ② 脳死または心停止下で臓器提供の意思についてみると、男女共に「提供したくない」と答えた割合より「提供したい」と答えた割合が大きく、すべての年齢層で「提供したくない」と答えた割合より「提供したい」と答えた割合が大きい。家族が脳死または心停止下で臓器提供を表示していた場合、「尊重する」と答えた割合の合計をみると、男性よりも女性の方が大きい。
- ③ 脳死または心停止下で臓器提供の意思についてみると、「提供したい」と「どちらかといえば提供したい」と答えた割合の合計は、女性よりも男性の方が大きく、年齢別でみると18～29歳が他の年齢層よりも大きい。家族が脳死または心停止下で臓器提供を表示していなかった場合、男女共に「承諾する」と答えた割合より「承諾しない」と答えた割合が大きい。
- ④ 脳死または心停止下で臓器提供の意思についてみると、男女共に「提供したい」と答えた割合より「提供したくない」と答えた割合が大きく、年齢別でみると「提供したい」と答えた割合は年齢層が上がるほど大きくなる。家族が脳死または心停止下で臓器提供を表示していなかった場合、「承諾する」と答えた割合は年齢層が上がるほど大きくなる。

2 次の文章を読んで、問1～問3に答えよ。

文章



- 問 1 下線部分^(a)大人になるとに関連して、次のレポートは、大人になることについて、ある生徒がまとめたものである。レポート中の **A** , **B** にあてはまる語句の組合せとして適切なものを、下の①～④のうちから一つ選べ。解答番号は **4** 。

レポート

中学生から高校生へと大人に近づくにつれて、個人として、自由になるとともに、責任を感じる機会が増えてきました。だから大人になるとは、そのように責任を引き受けていくようになることなのだと思います。

ではその責任とは何か。サルトルというフランスの哲学者が「**A**」という言葉で、人間の在り方を述べていたことを手掛かりに考えました。この言葉は、人間はまずこの世に存在し、そのあとに自らの自由な選択によって自分が「何であるか」という本質をつくり上げるのだという意味です。自由な選択に基づくがゆえに、その分、責任も全面的に引き受けなければなりません。私はここから、自分の個人としての責任は、自分が「何であるか」ということも見据えながら、考えられるべきものなのだと思います。自分本位になり過ぎないように、人間としての在り方生き方も意識して、これから社会に参加したいと思います。

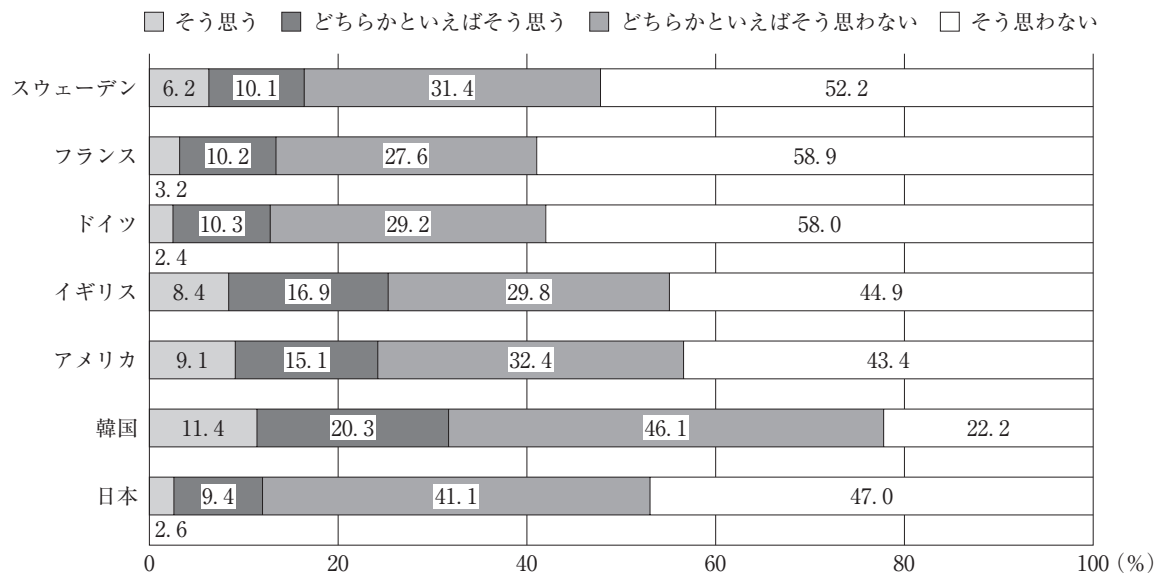
また、エリクソンというアメリカの精神分析学者の考え方を手掛かりにすると、高校生である今は、大人としての責任を、社会から猶予^{ゆうよ}されている **B** の時期にあるとも言えます。だからこそ、今のうちに、自分にどんな責任が果たせるか、考えていきたいと思います。

A**B**

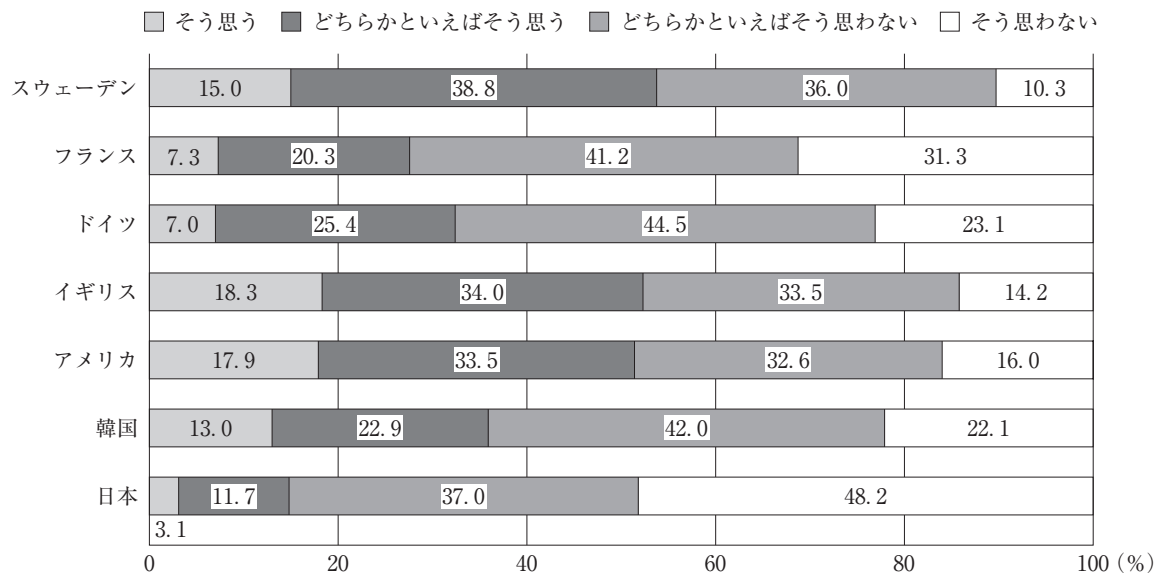
- | | |
|-------------|----------|
| ① 実存は本質に先立つ | モラトリアム |
| ② 実存は本質に先立つ | イニシエーション |
| ③ 本質は実存に先立つ | モラトリアム |
| ④ 本質は実存に先立つ | イニシエーション |

問 2 下線部分自分を離れて正しく判断してゆくに関連して、若者の意識に関する次のグラフ 1、
 (b) グラフ 2、グラフ 3 を説明する文章として適切なものを、次のページの①～④のうちから
 一つ選べ。解答番号は 5。

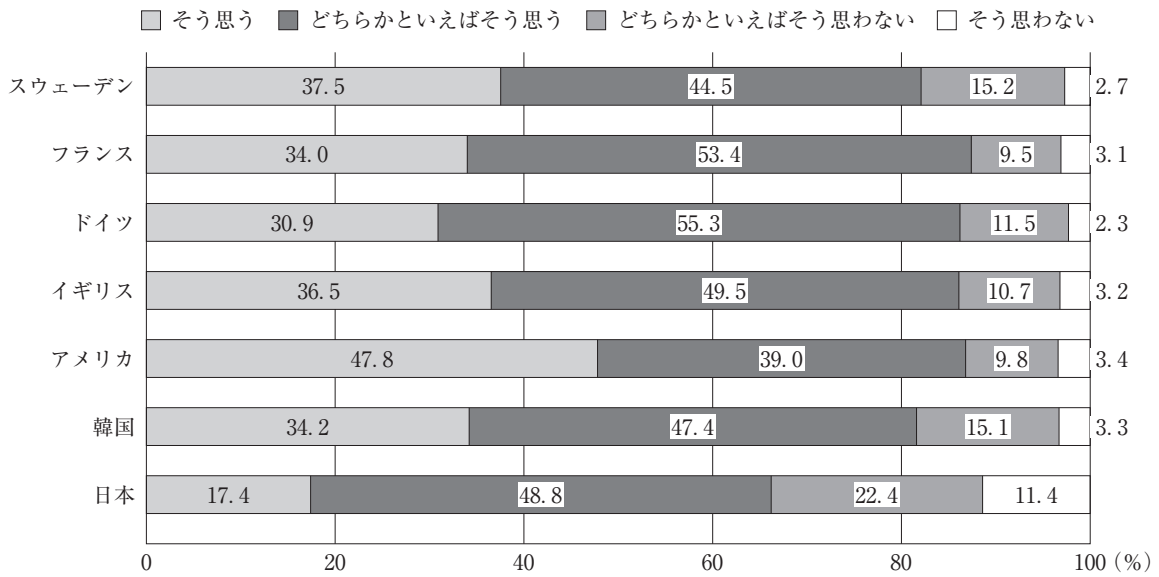
グラフ 1 40 歳くらいになったとき、「有名になっている」と思いますか



グラフ 2 40 歳くらいになったとき、「世界で活躍している」と思いますか



グラフ3 40歳くらいになったとき、「幸せになっている」と思いますか



(注) グラフの数値は四捨五入しているため、合計値が100にならない場合がある。

(内閣府「我が国と諸外国の若者の意識に関する調査(平成26年6月)」により作成)

- ① グラフ1をみると、「有名になっている」に「そう思う」と「どちらかといえばそう思う」と答えた割合の合計が2割を超えている国はイギリス、アメリカ、韓国である。グラフ2をみると、イギリス、アメリカ、韓国の3か国はすべて、「世界で活躍している」に「そう思う」と「どちらかといえばそう思う」と答えた割合の合計が5割を超えている。
- ② グラフ1をみると、「有名になっている」に「そう思わない」と「どちらかといえばそう思わない」と答えた割合の合計が8割を超える国はスウェーデン、フランス、ドイツ、日本である。グラフ3をみると、スウェーデン、フランス、ドイツ、日本の4か国はすべて、「幸せになっている」に「そう思わない」と「どちらかといえばそう思わない」と答えた割合の合計が3割を超えている。
- ③ グラフ1をみると、「有名になっている」に「そう思わない」と答えた割合は、日本よりもフランスの方が10ポイント以上、高くなっている。グラフ2をみると、「世界で活躍している」に「そう思わない」と答えた割合は、フランスよりも日本の方が10ポイント以上、高くなっている。
- ④ グラフ1をみると、「有名になっている」に「そう思う」と答えた割合は、日本よりもドイツの方が10ポイント以上、高くなっている。グラフ3をみると、「幸せになっている」に「そう思う」と答えた割合は、ドイツよりも日本の方が10ポイント以上、高くなっている。

問 3 下線部分自分ばかりを中心にして、物事を判断してゆくに関連して、次の会話文中の C ^(c) , D にあてはまるものの組合せとして適切なものを、下の①～④のうちから一つ選べ。解答番号は 6 。

会話文

雅貴：自我と孤独への思いをテーマにした日本の文学作品がいくつかあるけれど、そういった作品の一部の登場人物は、自分の考えに従うべきか、他者の考えと合わせるべきか、葛藤^{かっとう}しているようだった。彼らの在り方を踏まえて、私たちはどのような在り方をすべきなんだろうね。

健人：私は、自分の考えに従うことで、他者とぶつかってしまうのは、とても疲れる生き方だと思う。だから、授業で学んだ「和」の精神を意識すること、つまり C ような在り方も、大切なことだと思うよ。「和」という言葉に、そのまま日本的なものを意味する用法があるのは、 C 姿勢に日本的なよさも見出せるからだよ。

綾香：確かに、「和」という考え方は、感情や情緒によるつながりを重視するもので、日本人同士の結束を支える面もあったよね。でも、私は、そういうつながりだけでなく、西洋近代の人々の D を重視する考え方に基づいて、各個人がもっと自分を基準に、合理的に判断していくことも、これからは大切だと思うよ。

雅貴： D には、筋道を立てて、論理的に正しく考え、判断する力という意味があったよね。この力を活かして、純粹に自分の頭で考えることができれば、他者や環境に流されず、自分の正しいと思うことをすることができるのかもしれないね。

健人：そういう在り方も素敵だね。でもこうやって二人の考え方に触れることで、改めて「和」の大切さにも気づかされるな。みんなでなごやかに調和し、理想に向かって話し合いをすることはこんなにも楽しいんだね。

綾香：そうだね。人間の在り方は反省されながら見つめ直されてきたわけだし、私たちもさらにじっくり考えてみるのもいいかもしれないね。

C

D

- | | |
|--------------------|----|
| ① 自分が正しいと思うことを優先する | 感性 |
| ② 自分が正しいと思うことを優先する | 理性 |
| ③ 他者と協調することを重視する | 感性 |
| ④ 他者と協調することを重視する | 理性 |

3 次の会話文を読んで、問1～問3に答えよ。

朋美：「現代社会」の課題レポートのテーマ、何にするか決まった？

泰典：僕は「平和主義」をテーマにしようと思っているんだ。
(a)

千絵：ずいぶん難しそうなテーマを選んだのね。どうしてそれにしたの？

泰典：授業で平和主義について学習したときに、日本の安全保障のこととか、自衛隊の国際貢献のこととかを学んで、もっといろいろ調べてみたいって興味を持ったんだ。世界平和のために日本はどのような役割を果たすべきかを考えることが必要だと思うから。それで千絵さんは何をテーマにするの？

千絵：私は「地方自治」について調べているの。「地方創生」とか言われているけど、私たちの町にもいろいろな課題があるわ。特に地方公共団体が自立的に地域を運営していくためには、財政的な課題があると思うのよ。だから地方財政の充実が大事だと思って。

泰典：地方自治のことは僕たちにとっても身近なテーマだし、面白そうだね。大変かもしれないけどがんばってね。朋美さんは、どんなテーマにするの？

朋美：私は「二院制」について調べようと思うんだ。前に授業で聞いた「もし第一院と一致するならば第二院は無用であるし、一致しないならば有害である」という、フランス革命期の政治家として活躍したシェイエスの言葉が印象に残っていて、二院制の意義について、もっと深く調べてみたいと考えたのよ。
(c)

千絵：お互い、いいレポートが書けるといいね。

- 問 1 下線部分平和主義に関連して、次の泰典さんが作成したレポート中の **A** , **B** , **C** ^(a) にあてはまるものの組合せとして適切なものを、次のページの①～④のうちから一つ選べ。解答番号は **7** 。

泰典さんが作成したレポート

日本国憲法第9条は、まず第1項で戦争の放棄を、そして第2項で戦力の不保持と **A** を規定している。憲法制定当初は、帝国議会における吉田茂の答弁にあるように完全非武装を定めたものと理解されていたが、その後、米ソ間の緊張が高まり冷戦が始まると、アメリカは日本の再軍備を求めるようになり、日本では自衛隊と日米安全保障条約を柱とする安全保障体制が構築されることとなった。

1950年に発足した警察予備隊を前身として1954年に創設された自衛隊は、「自衛のための必要最小限度の実力」とされ、「専守防衛」を原則として、「我が国の平和と独立を守り、国の安全を保つため、直接侵略及び間接侵略に対し我が国を防衛することを主たる任務とし、必要に応じ、公共の秩序の維持に当たるもの」とされた。自衛隊の民主的統制のために、文民である内閣総理大臣が自衛隊の最高指揮監督権を持つという **B** の原則が貫かれている。

日米安全保障条約は1951年に締結され、1960年に改定された。この条約により、在日米軍が日本に駐留し、有事においては日米が共同で防衛にあたることが規定された。日米の具体的な協力のあり方は、1978年に策定されたガイドラインで定められ、以降、二度にわたってガイドラインの見直しが行われた。2015年のガイドラインの改定では、その前年に、 **C** こともあり、安全保障におけるアメリカとの協力のあり方に大きな変更があった。

A にあてはまる選択肢

- ア 交戦権の否認
- イ 非核三原則

B にあてはまる選択肢

- ウ チェック・アンド・バランス
- エ シビリアン・コントロール

C にあてはまる選択肢

- オ 日本周辺での有事に際し、自衛隊が米軍の後方支援を行うことを定めた周辺事態法が制定された
- カ 従来の憲法解釈を変更し、集団的自衛権の行使を限定的に容認する閣議決定が行われた

	A	B	C
①	ア	ウ	オ
②	ア	エ	カ
③	イ	ウ	カ
④	イ	エ	オ

問 2 下線部分地方自治に関連して、次の千絵さんが作成したレポート中の **D** , **E** , **F** , ^(b)**G** にあてはまる語句の組合せとして適切なものを、下の①～④のうちから一つ選べ。解答番号は **8** 。

千絵さんが作成したレポート

これまでの日本の地方自治は、国からの関与を受けることが多く、地域の特色を踏まえた独自の政策を実行することが難しかった。そこで、これを改めて地方公共団体の自立性を高めるための地方分権改革が行われた。1999年、地方自治法など国と地方の関係に関する法律が一括して改正された。その結果、国の指揮監督のもとに地方公共団体に行わせる **D** は廃止され、地方公共団体の事務は、法定受託事務と **E** に分類されることとなり、地方公共団体が国から自立して独自にその地域を運営できるようにしていくための制度が整えられた。

しかし、自立的に地域を運営していくためには、多くの地方公共団体が財政的な課題をかかえている。地方公共団体の財源には、地方税を中心とする自主財源のほか、国から交付され地方公共団体が用途を自主的に決定できる **F** と、国から用途を特定して交付される **G** や、地方債などの依存財源があるが、自主財源の割合が少なく、財政的に国に依存している状態である。地方財政の充実が、今後の大きな課題となっている。

	D	E	F	G
①	自治事務	機関委任事務	国庫支出金	地方交付税交付金
②	自治事務	機関委任事務	地方交付税交付金	国庫支出金
③	機関委任事務	自治事務	国庫支出金	地方交付税交付金
④	機関委任事務	自治事務	地方交付税交付金	国庫支出金

問 3 下線部分^(c)二院制に関連して、次の朋美さんが作成したレポート中の , にあてはまるものの組合せとして適切なものを、下の①～④のうちから一つ選べ。

解答番号は 。

朋美さんが作成したレポート

二院制を採用している場合でも、議会がどのような二院によって構成されているかというのは、国ごとに違っている。例えば、イギリスでは、下院が選挙によって選出される議員で構成されるのに対して、上院は国王によって任命された貴族や聖職者によって構成される。また、連邦制をとるアメリカでは、両院とも選挙で選出された議員によって構成されるが、各州から人口比例で選出される下院は全国民の代表であるのに対して、各州から2名ずつ選出される上院は各州の代表としての性格を持つ。日本では、国会は衆議院と参議院の二院からなっている。両議院とも「全国民を代表する選挙された議員」で構成されるが、それぞれ異なる選挙制度で選出されており、衆議院は任期が4年で解散もあるため、その時々々の民意を反映しやすいのに対して、参議院は任期が6年と長く解散もないため、長期的な視点で法案の審議を行う「良識の府」としての役割を果たしている。このように二つの議院があることで、 ことができるのである。ただ日本では、参議院の選挙制度に比例代表制が導入されたこともあって、参議院も政党化が進み、現在では衆議院と参議院の違いが薄れてしまったという指摘がある。

二院制をとる場合、両院の議決が一致しないことによる審議の停滞を防ぐために、一方の議院に、より大きな権限を認めていることが多いが、日本においては衆議院の優越を認めている。例えば、衆議院が可決した法律案を参議院が否決した場合、 。

にあてはまる選択肢

- キ 選挙方法が異なる二つの議院で法案の審議を行うことにより、慎重に法案を審議する
- ク 同時進行で二つの議院が法案の審議を行うことにより、迅速に法律を成立させる

にあてはまる選択肢

- ケ 両院協議会を開いても意見が一致しなければ、衆議院の議決がそのまま国会の議決となる
- コ 衆議院で、出席議員の3分の2以上の多数で再可決されれば、法律となる

	<input type="text" value="H"/>	<input type="text" value="I"/>
①	キ	ケ
②	キ	コ
③	ク	ケ
④	ク	コ

4 次の会話文を読んで、問1～問3に答えよ。

ポスター

先生：前回の授業で提起した、現在の私たちの人権についての宿題は進んでいますか？

春子：私は2018年の法務省のポスターをみつけました。このポスターは **A** という宣言の70周年に関連して作成されたものです。ここには「みんなで築こう 人権の世紀」というスローガンが書かれていました。

先生：この宣言は、1948年12月10日に、第3回国連総会で採択されました。国連加盟国が達成すべき共通の人権基準の宣言として国連人権委員会が起草したものです。

春子：はい。その後、1950年には毎年12月10日に記念行事が行われることが国連で決議されました。日本では1949年から毎年12月10日を最終日とする1週間が、「人権週間」として定められています。



(法務省HPより)

先生：この宣言の内容に法的拘束力を持たせるために、**B** が採択されました。これは、社会権的規約(A規約)、自由権的規約(B規約)、及び二つの選択議定書で構成されています。

春子：私は、法務省が発行している「人権の擁護」という冊子と、法務省のホームページに挙げられている「啓発活動強調事項」などから、現代の人権課題を調べようと考えました。

夏雄：私は、平成29年10月調査の内閣府の^(a)人権擁護に関する世論調査を調べてきました。

秋代：私は人権について、身の回りの問題を調べようと思っていましたので、地元の人権について学べる施設がないかと考えてみました。そこで思い出したのが、昨年見に行った人権についての啓発施設でした。

春子：どんなところだったのですか？

秋代：いくつかのコーナーにわかれているのですが、一番面白かったコーナーについては、施設のパンフレットにこう書かれています。——「人権」について考えることは難しいことではなく、「相手の立場になって考える」ことが基本です。——このコーナーでは、まちのジオラマにタブレット端末をかざし、クイズで日常生活の中にある人権課題に気づき、学ぶことができます。

夏雄：そのようなクイズは、人権についての新しい気づきにつながるかもしれませんね。

冬樹：私は、一昨日、秋代さんからこの施設の話聞いたので、^(b)身の回りの人権課題を感じるようなクイズを作ろうと思い、始めたのですが、まだ完成していません。


先生：なるほど、それぞれ進んでいるようですね。来週の発表が楽しみです。

問 1 会話文中の **A** , **B** にあてはまる語句の組合せとして適切なものを, 次の①～④のうちから一つ選べ。解答番号は **10** 。

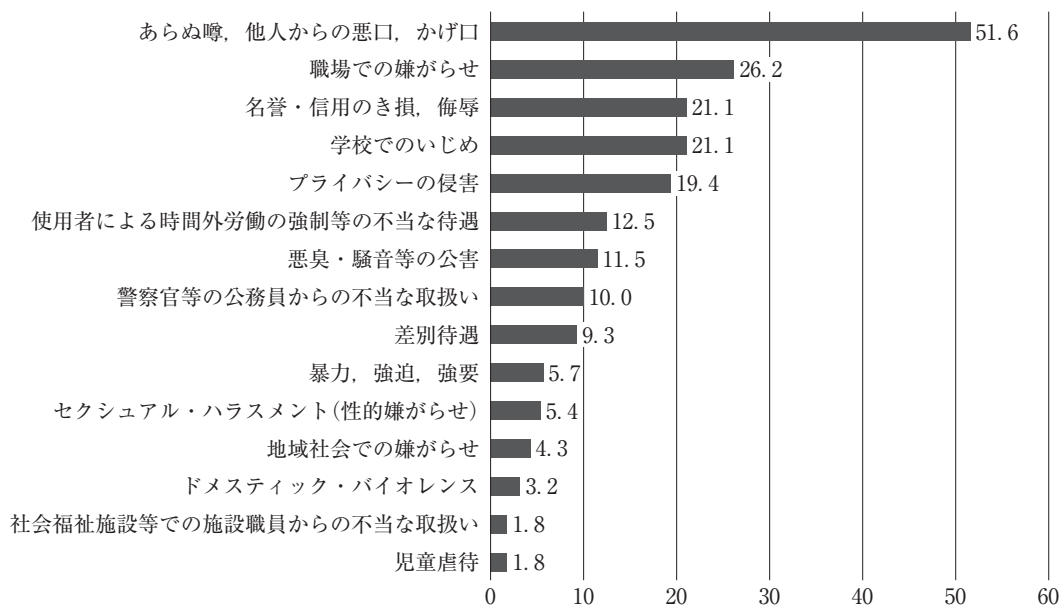
- | | |
|--------------|----------|
| A | B |
| ① 人及び市民の権利宣言 | ワシントン条約 |
| ② 人及び市民の権利宣言 | 国際人権規約 |
| ③ 世界人権宣言 | ワシントン条約 |
| ④ 世界人権宣言 | 国際人権規約 |

問 2 下線部分^(a)人権擁護に関する世論調査に関連して, 次のグラフ 1, グラフ 2, グラフ 3 から読み取れる内容として適切なものを, 20 ページの①～④のうちから一つ選べ。
解答番号は **11** 。

グラフ 1 自分の人権が侵害されたと思ったことがあるか (%)

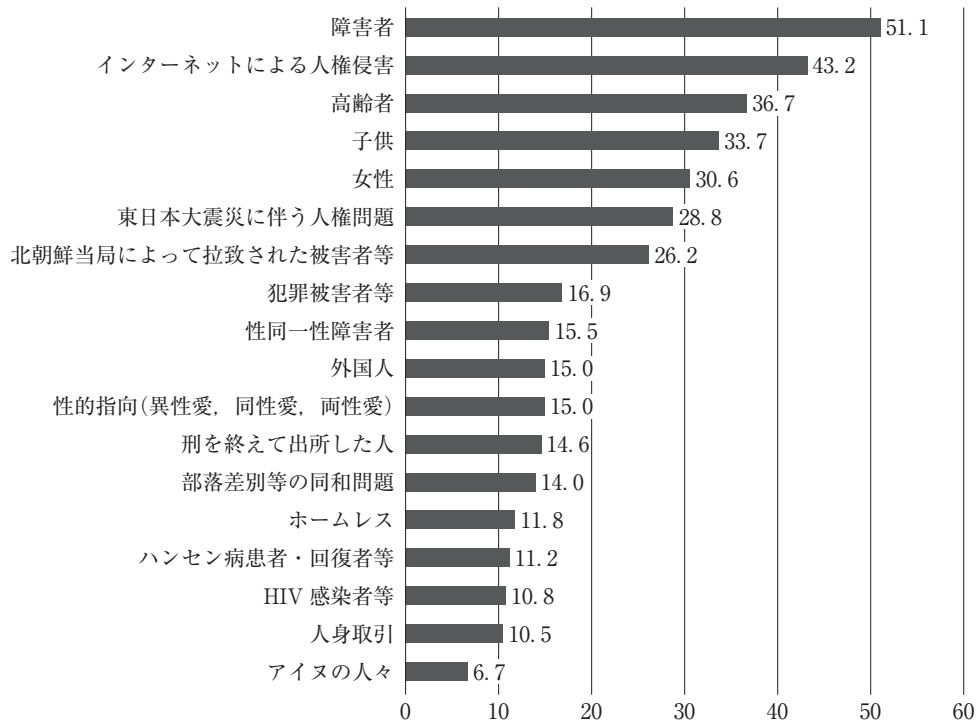


グラフ2 人権が侵害されたと思ったのはどのような場合か(複数回答) (%)



(注) グラフ中の「差別待遇」は「人種・信条・性別・社会的身分等により、就職や結婚等の社会生活の上で不平等又は不利益な取扱いをされた」を、「暴力、強迫、強要」は「社会的地位、慣習、脅迫等により、本来義務のないことをやらされたり、権利の行使を妨害された」を、「ドメスティック・バイオレンス」は「配偶者やパートナーからの暴力」をさす。

グラフ3 日本における人権課題について関心があるものはどれか(複数回答) (%)



(注) グラフ中の「性同一性障害者」は「生物学的な性と性自認(こころの性)が一致しない者」を、「人身取引」は「性的搾取、強制労働等を目的とした人身取引」をさす。

(内閣府「人権擁護に関する世論調査(平成29年度10月調査)」により作成)

- ① グラフ1をみると、自分の人権が侵害されたと思ったことがあると答えた人の割合は、女性が男性より高く、年齢別には「30～39歳」の年齢層が最も高い。グラフ2をみると、人権侵害の内容は、「あらぬ噂、他人からの悪口、かげ口」と答えた人の割合が50%を超えている。グラフ3をみると、人権課題に対する関心について、「障害者」「インターネットによる人権侵害」「高齢者」「子供」「女性」と答えた人の割合がそれぞれ30%を超えている。
- ② グラフ1をみると、自分の人権が侵害されたと思ったことがあると答えた人の割合は、女性が男性より高く、年齢別には「30～39歳」の年齢層が最も高い。グラフ2をみると、人権侵害の内容は、「ドメスティック・バイオレンス」と答えた人の割合が50%を超えている。グラフ3をみると、人権課題に対する関心について、「ホームレス」「ハンセン病患者・回復者等」「人身取引」「アイヌの人々」と答えた人の割合がそれぞれ30%を超えている。
- ③ グラフ1をみると、自分の人権が侵害されたと思ったことがあると答えた人の割合は、男性が女性より高く、年齢別には「70歳以上」の年齢層が最も高い。グラフ2をみると、人権侵害の内容は、「あらぬ噂、他人からの悪口、かげ口」と答えた人の割合が50%を超えている。グラフ3をみると、人権課題に対する関心について、「ホームレス」「ハンセン病患者・回復者等」「人身取引」「アイヌの人々」と答えた人の割合がそれぞれ30%を超えている。
- ④ グラフ1をみると、自分の人権が侵害されたと思ったことがあると答えた人の割合は、男性が女性より高く、年齢別には「70歳以上」の年齢層が最も高い。グラフ2をみると、人権侵害の内容は、「ドメスティック・バイオレンス」と答えた人の割合が50%を超えている。グラフ3をみると、人権課題に対する関心について、「障害者」「インターネットによる人権侵害」「高齢者」「子供」「女性」と答えた人の割合がそれぞれ30%を超えている。

問3 下線部分身の回りの人権課題に関連して、新しい人権にかかわる法や制度の説明として適切なものを、次の①～④のうちから一つ選べ。解答番号は 12。

- ① 氏名、住所、顔写真などの個人情報がインターネット上に流出することを防止すべきだという考え方のもと、特定秘密保護法が制定されている。
- ② 政治や行政についての情報を広く公開すべきだという考え方のもと、国及び地方公共団体における情報公開制度が定められている。
- ③ 私的な情報をみだりに公開されないというプライバシーの権利を保障することを目的として、通信傍受法が制定されている。
- ④ 人々が自分の意見を表明するためにマスメディアなどにアクセスする権利を保障することを目的として、刑事補償制度が定められている。

5 次の生徒の発表メモを見て、問1～問5に答えよ。

発表メモ

「働き方改革」を考える

政府は経済成長戦略の一つとして雇用改革を進め、「雇用維持型」から「労働移動支援型」への転換を図っている。中でも、私が注目しているのが「働き方改革」だ。なぜなら、働き方は自身^(a)が将来働くことや生活に直結する重要なことだからだ。

2016年、政府は「働き方改革推進室」を内閣官房に設置し、「一億総活躍社会」実現のためのチャレンジとして、「働き方改革」を位置付けた。その背景の一つには、A歳の生産年齢人口の減少があり、「働き方改革推進室」は取り組むべき課題を以下の9つにまとめた。

- ① 同一労働同一賃金など非正規雇用の処遇改善
- ② 賃金の引き上げと労働生産性の向上
- ③ 時間外労働の上限規制の在り方など長時間労働の是正
- ④ 雇用吸収力の高い産業への転職・再就職支援，人材育成，格差を固定化させない教育の問題
- ⑤ テレワーク，副業・兼業といった柔軟な働き方
- ⑥ 働き方に中立的な社会保障制度・税制など女性・若者が活躍しやすい環境整備
- ⑦ 高齢者の就業促進
- ⑧ 病気の治療，そして子育て・介護と仕事の両立
- ⑨ 外国人材の受け入れ問題

2018年に入り、時間外労働の上限規制などを含む「働き方改革」関連法案が成立し、企業^(b)などの雇用主は法律への対応に迫られている。以前は毎日深夜まで働いていた私の父も、現在勤める再就職した会社で残業時間の制限やテレワークの導入が開始されたため、効率的に働く工夫をしているそうだ。これまでのやり方を変えるのは大変なことだが、余裕のできた時間を、趣味やボランティア活動などに充てたいと話している。

このように考えると、私たちが実際に働き始めるときには、日本的経営の特徴とされてきた終身雇用制やB賃金、企業別労働組合などはもちろんのこと、高校や大学卒業後の新卒一括採用や、一つの組織のみで働くことなど、これまでの「当たり前」が通用しない可能性^(c)がある。「働き方改革」の目指す柔軟な働き方は、私にとって希望もあるが、労働市場において、常にスキルを高める努力をしなければならず、市場価値のある者でないと生き残れないかもしれないという不安もある。

しかし、私たちは「生き残れるのは変化に対応できる者である」という言葉から、希望を持つこともできる。今後の自身の働き方はどうありたいのか、あるべきなのか、そのために何を^(d)していけばいいのか。経済社会の動きに着目しながら、未来を見据えて考えていきたい。

問 1 発表メモ中の **A** , **B** にあてはまる語句の組合せとして適切なものを, 次の①~④のうちから一つ選べ。解答番号は **13** 。

- | A | B |
|----------|----------|
| ① 15~64 | 年功序列型 |
| ② 18~69 | 成果型 |
| ③ 15~64 | 成果型 |
| ④ 18~69 | 年功序列型 |

問 2 下線部分^(a)働き方に関連して, 日本の現在の労働を巡る状況に関する記述として適切なものを, 次の①~④のうちから一つ選べ。解答番号は **14** 。

- ① 「働き方改革」によって開始された裁量労働制は, 労働者がどのような業務であるかに関わらず, あらかじめ見込まれる残業代を受け取り, 働き方を決める制度である。
- ② 過労死や過労自殺などが社会問題となっている影響を受け, 1970年代に比べ, 労働組合の組織率は高くなっている。
- ③ 男女雇用機会均等法の改正により, 募集・採用・配置・昇進に関して男性, 女性を問わず性別を理由とした差別が禁止されている。
- ④ バブル経済以降継続する好景気により, 雇用者全体に占める非正規雇用者数の割合は1990年代から減少傾向にある。

問 3 下線部分**企業**に関連して、次の説明文を読み、生徒の会話文中の **C** , **D** , **E** ^(b) にあてはまるものの組合せとして適切なものを、次のページの①～④のうちから一つ選べ。解答番号は **15** 。

説明文

A社とB社という二つのゲーム小売店が、競争を展開している。現在、A社、B社ともに同じゲームソフト「X」を6,500円で販売し、月間30万円の利潤をそれぞれ得ている。今、両社が新たにゲームソフト「X」を5,500円へ「値下げ」の戦略を検討するとき、次の表はA社、B社が「現状維持」、「値下げ」のどちらの戦略を選択するかによって、得られる利潤をそれぞれまとめたものである。ただし、ここでは市場にゲーム小売店がA社とB社しか存在せず、他の条件は一定とする。

表

		B 社	
		現状維持	値下げ
A 社	現状維持	B社の利潤 30万円 A社の利潤 30万円	B社の利潤 40万円 A社の利潤 10万円
	値下げ	B社の利潤 10万円 A社の利潤 40万円	B社の利潤 20万円 A社の利潤 20万円

会話文

美来：私はゲームソフト「X」が好きだから、A社とB社ともに「値下げ」戦略をとってほしいな。消費者としては値下げでゲームソフトが安く買えるなら、その分お得よね。それに、どちらで買っても安いゲームソフトが買えるわけでしょう。

隆志：確かにそうだね。ただ、A社とB社ともに「値下げ」戦略をとると、両社の利潤の合計はどの条件よりも小さくなるよ。A社とB社がそれぞれ自社の利潤を最大化するためには、**C** ことが必要だね。

美来：なるほど。でも、それだと相手の出方次第で自社の利潤が決まってしまうというわけね。A社とB社それぞれが自社だけの利潤を増やそうと行動すれば、両社の利潤の合計が小さくなってしまうから、**D** ことで、望ましい状態を目指すのではないかしら。

隆志：「現代社会」の授業で習った寡占市場のことだよね。寡占市場では、**E** と言われているよ。どうやら、これは寡占市場を「ゲーム理論」という経済モデルで説明した例のようだ。この理論をもう少し勉強して、実際の寡占市場を考察してみよう。

C にあてはまる選択肢

- ア 自社だけが「現状維持」戦略をとり、もう一方は「値下げ」戦略をとる
- イ 自社だけが「値下げ」戦略をとり、もう一方は「現状維持」戦略をとる

D にあてはまる選択肢

- ウ A社とB社がともに「現状維持」戦略をとり、両社の利潤の合計を最大化する
- エ A社とB社がともに「値下げ」戦略をとり、両社の利潤の合計を最大化する

E にあてはまる選択肢

- オ 価格の下方硬直性がおきやすい
- カ 価格競争がおきやすい

	C	D	E
①	ア	ウ	カ
②	ア	エ	オ
③	イ	エ	カ
④	イ	ウ	オ

問 4 下線部分一つの組織のみで働くことに関連して、生徒の会話文を読み、会話文中の **F** , **G** ^(c) にあてはまるものの組合せとして適切なものを、次のページの①～④のうちから一つ選べ。解答番号は **16** 。

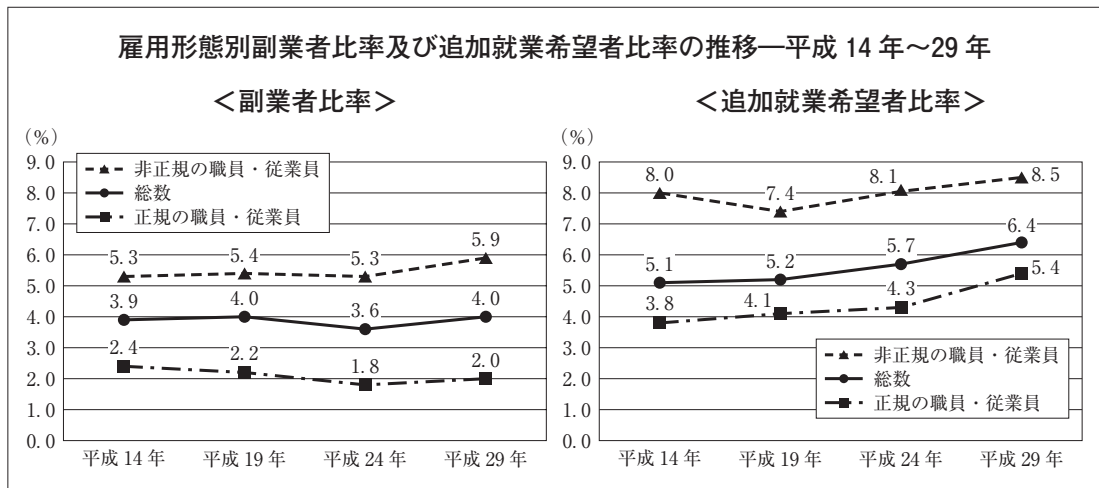
会話文

絢香：「現代社会」のレポート発表は、就業者が「本業」以外に仕事をしたり、複数の仕事を
持ったりする「副業(複業)」をテーマにしようと思っているの。

真人：柔軟な働き方を認める背景には、深刻な人手不足があるようだね。「本業」を疎かに
してはダメだけど、一人当たりの生産性を高めていくことは重要だろうな。

絢香：まず、副業の現状を把握しようとして、調べていたら、資料を見つけたの。ただ、こ
のままだと発表資料にならないような気がするのだけど、何が足りないのかな。

資料



(注) 「追加就業希望者」とは、現在就いている仕事を続けながら、他の仕事もしたいと思っている者をいう。
(総務省『就業構造基本調査』(2017 年)より)

真人：この資料だと、**F** ようだね。総務省の『就業構造基本調査』(2017 年)を見てみたらどうだろう。(パソコンを操作して…)それにほら、こんな記事も見つけたよ。

記事

2018年8月31日 新聞記事

2018年8月31日 新聞記事（前頁のつづき）

絢香：本当だ。でも…，私の見つけたグラフでは副業者比率が「4.0」，追加就業希望者比率が「6.4」で足すと「10.4」になるのに，記事では「10.5％に達した」と書かれてある…あれ？ どちらかが間違っているのかしら。

真人：これも情報の元データを確認する必要があるそうだね。副業者数と追加就業者数を合計した数を全就業者数で除す，つまり割り算してみることで違いを確認できるよ。この場合，四捨五入の関係でどちらも合っているのかもしれない。

絢香：なるほど，情報の元データに当たることがとても必要なのね。他に何かアドバイスはあるかしら。

真人：そうだね。記事にあるように柔軟な働き方を認める企業が地方を含め，全国的に広がり始めていることを確かめるには，**G**が必要じゃないかな。あとは具体的な事例があると面白くなると思う。

絢香：準備にもう少し時間がかかりそうだけど，頑張ってみる。どうもありがとう！

F にあてはまる選択肢

- ア 就業者のうち，副業を持っていたり持つことを希望したりする人の人数しか分からない
- イ 就業者のうち，副業を持っていたり持つことを希望したりする人の比率しか分からない

G にあてはまる選択肢

- ウ 首都圏の「副業人口」の年毎の変化を調べていくことなど
- エ 都道府県別の「副業人口」の年毎の変化を調べていくことなど

	F	G
①	ア	ウ
②	ア	エ
③	イ	エ
④	イ	ウ

問 5 下線部分経済社会の動きに関連して、現代日本の金融に関する記述として適切なものを、次の①～④のうちから一つ選べ。解答番号は 。

- ① 日本銀行は、金融政策のみならず、財政政策の全般を行い、経済の動きを調整する機能を持っている。
- ② 日本銀行は、国債などの売買を行うことで金融市場の資金需給に影響を与え、政策金利を誘導する公開市場操作を金融政策の手段としている。
- ③ 金融庁の指導により「投資から貯蓄へ」家計の資産形成が促され、2018年12月時点では、家計の金融資産構成は現金・預金よりも株式等が多くなっている。
- ④ 国際競争力を強化するために実施された日本版金融ビッグバンの主な目的は、規制強化を通じて金融機関の保護を促進することである。

6 次のレポートを読んで、問1～問5に答えよ。

レポート

夏休みに、インドネシアで働いている叔父を訪ねました。

叔父はアジア諸国の他、アメリカやヨーロッパなど世界各地で産業廃棄物の処理等を行う、日本企業のX社の技術者として、インドネシアで働いています。

^(a) 私は、インドネシアで叔父から教えてもらったことや、自分自身で調べたことをまとめました。

インドネシアは世界第4位の約2億6000万人の人口を持ち、東南アジア諸国連合(ASEAN)^(b)のGDPのうち、約37%を占めています。主な産業としては石炭や天然ガスなどの鉱業の他、熱帯の気候を生かした米や野菜栽培などの農業が盛んです。また、日本との貿易も活発^(c)に行われており、日本からは機械や電気機器を輸入する一方、日本へは液化天然ガスや石炭などを輸出しています。

インドネシアは経済成長が著しく、2008年からの10年間で一人当たりのGDPは2倍以上に増加しました。私が訪れた首都のジャカルタの市街は、昼夜問わず非常に多くの人で賑わっていて、東京よりも活気があるように感じました。しかしながら、叔父の話では、人口が集中する都市部での生活水準がここ数年で目に見えて向上した一方、農村部や^{とうしょ}島嶼部では **A** などのインフラストラクチャーの整備が不十分だったり、一部の店舗でブランド品のコピー商品や、違法にコピーされたCDやDVDの海賊版など知的財産権を侵害すると思われる商品が売られたりしているなど、今後解決していかなければならない課題もあるとのことでした。

調べてみると、日本政府の発展途上国支援を実施する機関として **B** がインドネシアの農村部などにおけるインフラストラクチャー整備の支援を行ったり、文化庁などの行政機関を中心に知的財産の保護に関する意識の啓発活動などを行ったりするなど日本政府も様々な協力をしていることが分かりました。また、インドネシアに進出する日本企業も増加傾向であり、今後日本との関係も一層深まっていくのではないかと感じました。

今回初めての海外旅行でしたが、見聞きしたことを参考にして、他の国や地域についても^(d)調べてみたいと思います。

問 1 レポート中の **A** , **B** にあてはまるものの組合せとして適切なものを, 下の①~④のうちから一つ選べ。解答番号は **18** 。

A にあてはまる選択肢

- ア 労働時間の削減による雇用機会の維持・増加
- イ 経済活動の基盤となる上下水道や道路

B にあてはまる選択肢

- ウ 非営利組織(NPO)
- エ 国際協力機構(JICA)

	A	B
①	ア	ウ
②	ア	エ
③	イ	ウ
④	イ	エ

問 2 下線部分日本企業のX社(a)に関連して, X社の活動について述べた文のうち正しいもの二つの組合せとして適切なものを, 下の①~④のうちから一つ選べ。解答番号は **19** 。

- ア X社がインドネシアであげた収益を日本に送金すると, 日本の第一次所得収支にプラスされる。
- イ X社が海外で事業を行う際には, 必ず進出先の国の企業と合同会社を設立しなければならない。
- ウ X社がインドネシアの現地従業員に支払った給与は, インドネシアのGDPに計上される。
- エ X社が海外で事業を行う際には, 国連貿易開発会議(UNCTAD)の許可が必要である。

- ① アとイ ② ウとエ ③ アとウ ④ イとエ

- 問 3 下線部分^(b)東南アジア諸国連合(ASEAN)に関連して、次の会話文中の **C** , **D** にあてはまるものの組合せとして適切なものを、次のページの①～④のうちから一つ選べ。
解答番号は **20** 。

会話文

先生：雄志君は夏休みにインドネシアに行ったそうですね。楽しめましたか。

雄志：はい。旅行をきっかけに、ASEAN 諸国について調べて次の表 1 にまとめてみました。

表 1

国名	名目 GDP (億ドル) 2015 年	一人当たり名目 GDP(ドル) 2015 年	人口 (万人) 2017 年	輸出額 (億ドル)	輸入額 (億ドル)
ブルネイ	161	38,010	43	64	32
カンボジア	167	1,070	1,601	120	144
インドネシア	8,870	3,440	26,351	1,443	1,356
ラオス	118	1,740	686	23	39
マレーシア	3,206	10,570	3,162	1,894	1,684
ミャンマー	624	1,160	5,337	114	168
フィリピン	3,576	3,550	10,492	563	859
シンガポール	2,883	52,090	571	3,381	2,919
タイ	3,885	5,720	6,904	2,140	1,957
ベトナム	1,826	1,990	9,554	1,766	1,741
ASEAN	25,316	—	64,701	11,507	10,899

(注) 輸出額、輸入額は 2016 年のデータ。ただし、ブルネイ、カンボジア、ラオス、ミャンマーは 2015 年のデータ。
(『データブックオブ・ザ・ワールド 2018』により作成)

先生：この表 1 を見て、雄志君はどんなことが分かりましたか。

雄志：インドネシアが ASEAN の名目 GDP の 40 % 近くを占めていることが分かりました。

先生：確かにインドネシアは ASEAN 加盟国の中で名目 GDP が大きいですね。せっかく ASEAN 加盟全 10 か国についてまとめたのですから、各国のデータを比較して何か分かることがないか考えてみるとよいですよ。

雄志：比較してですか…分かりました。考えてみます。

——— 後日 ———

雄志：この表 1 から各国のデータを比較してみました。名目 GDP と一人当たり名目 GDP

を見ると、**C**ということが分かりました。

先生：よい点に気づくことができましたね。

雄志：他にも、貿易と GDP の関係に着目して **D**ということも分かりました。

C にあてはまる選択肢

ア 名目 GDP の上位 3 か国はインドネシア、タイ、フィリピンですが、一人当たり名目 GDP を見るとシンガポールの金額が一番大きくなっている

イ 名目 GDP は人口が多い国ほど金額が大きくなる傾向がありますが、一人当たり名目 GDP は人口が多い国ほど低くなっている

D にあてはまる選択肢

ウ 名目 GDP が 1,000 億ドル未満の国は、ブルネイを除くといずれも輸入額が輸出額よりも 2 倍以上大きくなっている

エ 輸出額が 1,400 億ドル以上の国は、ベトナムを除くといずれも名目 GDP が 2,500 億ドル以上となっている

	C	D
①	ア	ウ
②	ア	エ
③	イ	ウ
④	イ	エ

- 問 4 下線部分貿易^(c)に関連して、生徒のメモ中の【ア】～【オ】の記述のうち、正しいものの組合せとして適切なものを、次のページの①～④のうちから一つ選べ。解答番号は 21。

メモ

最近、自由貿易協定(FTA)や経済連携協定(EPA)に関するニュースなどをよく目にします。私が訪れた【ア】インドネシアも東南アジア諸国連合(ASEAN)加盟国とヨーロッパ連合(EU)加盟国間の関税の引き下げなどを目的に設立された、アジア太平洋経済協力会議(APEC)に加盟しています。その他に、【イ】アメリカやカナダ、メキシコの3か国による北米自由貿易協定(NAFTA)や南米南部共同市場(MERCOSUR)なども貿易に関するルールを策定しています。

また、日本のFTAやEPAなどについても調べ、資料1を見つけました。

資料1 日本の発効済み2か国間EPA(2019年2月現在)

国	発効年
シンガポール	2002
メキシコ	2005
マレーシア	2006
チリ	2007
タイ	2007
インドネシア	2008
ブルネイ	2008
フィリピン	2008
スイス	2009
ベトナム	2009
インド	2011
ペルー	2012
オーストラリア	2015
モンゴル	2016

(外務省ホームページにより作成)

資料1からは、日本が結んでいる【ウ】2か国間の協定はメキシコやチリ、スイス、ペルー、オーストラリアを除くと全てアジアの国となっていることが分かります。一方で、資料2を見ると異なる点が見えてきます。

資料2 2018年3月末時点での各国・地域のFTAカバー率(%)

日本	中国	韓国	アメリカ	EU
23.3	37.7	68.2	39.0	32.8

(注) 協定発効済みのデータ。

(経済産業省ホームページにより作成)

資料2は各国や地域のFTAカバー率に関するものです。FTAカバー率とは、一国の貿易全体に占めるFTA・EPA締結国との貿易の割合のことです。資料2を見ると、他の国や地域と比較して日本のFTAカバー率は高くないことが分かります。また、資料2の【エ】5つの国や地域で比較すると、発効済みの国・地域におけるカバー率が最も高いのは韓国で、2番目はEUであることも読み取れます。

この他にも日本は、2016年に署名された環太平洋パートナーシップ協定(TPP)に関わっています。しかし2017年に【オ】アメリカがTPPからの離脱を表明したことにより、新たな経済協力の方法が模索されています。

貿易協定に参加する国が多くなるほど、利害が対立し交渉が難しくなることを考えると、合意が得やすい国と国、国と地域との間でFTAやEPAを締結する動きが加速しているのではないかと予想しました。

- ① 【ア】と【イ】と【エ】
- ② 【ア】と【ウ】と【エ】
- ③ 【イ】と【ウ】と【オ】
- ④ 【イ】と【エ】と【オ】

- 問 5 下線部分^(d)海外旅行に関連して、次の発表原稿中の **E** , **F** にあてはまるものとして適切なものを、次のページの①～④のうちから一つ選べ。解答番号は **22** 。

発表原稿

海外に出かけるとき、日本円を外国通貨に両替することになります。みなさんは、テレビや新聞などで「本日の外国為替相場 1 ドル 113 円」などというのを見たことがあると思います。私は、この相場通りの金額で両替ができると考えていましたが、実際にはそうでないことが分かりました。

表 2 を見てください。この表 2 は、日本国内のある銀行で通貨を両替する際の相場を表しています。ドルを例にしてみると、この日の相場では、日本円を売って 1 ドルと交換する場合は 116 円、1 ドルを売って日本円と交換する場合は 110 円となっています。そして、同日の外国為替相場は 1 ドル 113 円でした。つまり、円から 1 ドルに両替する際と、1 ドルから円に両替する際、それぞれについて 3 円の手数料がかかることが分かります。表 2 中の通貨に関して、相場が変わらなかったと仮定したとき、旅行前に円と両替した外国通貨を日本に持ち帰ってくると、日本円を外国通貨に両替したときよりも **E** 。

また、貿易の際の支払い手段等で世界中で需要のあるドルやユーロと比べ、その他の通貨は需要が低い傾向にあるため、銀行が保有したり、日本円に両替するのにかかる費用や手間も大きくなります。したがって、ドルやユーロと比べ両替手数料は割高になっています。例えば、日本の銀行が為替の変動を利用して利益を得ようとして、外国為替相場が円安傾向となった際に **F** と考えたとします。そのような場合、需要の低い外国通貨は思うようなタイミングで取引できないこともあるため、為替相場の変動時に抱える銀行のリスクも大きくなると言えます。そのため、それぞれの外国通貨によって異なる両替手数料を設定することになるのです。

表 2

国・地域	通貨	日本円から外貨へ	外貨から日本円へ
アメリカ	1 ドル	116 円	110 円
EU	1 ユーロ	132 円	124 円
中国	1 元	18 円	14 円
インドネシア	100 ルピア	1 円	0.5 円
タイ	100 バーツ	387 円	305 円
フィリピン	1 ペソ	2.4 円	1.8 円

(三井住友銀行ホームページにより作成)

E にあてはまる選択肢

- ア 不利な相場で外国通貨を日本円に両替することになります
- イ 有利な相場で外国通貨を日本円に両替することができます

F にあてはまる選択肢

- ウ 外国通貨を売って円を買う
- エ 外国通貨を買って円を売る

	E	F
①	ア	ウ
②	ア	エ
③	イ	ウ
④	イ	エ

7 次の会話を読んで、問1～問2に答えよ。

先生：やあ君たち、元気そうですね。

まはな：あっ先生、こんにちは。同じお店にいらっしゃったのですね。このお店のパスタやピザは、おいしいですよ。

先生：そうですね。さっき食べ終わって、今から会計をするところなのです。ところで、テーブルに「現代社会」の教科書や資料集を広げて、どうしたのですか。

しょう：冬休みが終わった後の授業で、発表をすることになっているので、ランチをしながらテーマについて話し合っていたんです。

あきは：そろそろ、部活動があるから、行かないといけないわ。

こうた：僕も塾があるから、行かないといけないな。

まはな：それじゃあ、私たちも会計をしましょうか。

先生：君たち、まだかなりパスタやピザが残っているけど、そんなに残すのですか。

まはな：でももうお腹いっぱいだし、こんなにたくさんあるとは思わなかったんです。

あきは：無理して食べたらお腹をこわしてしまうかもしれないよね。

先生：君たち、食品ロス^(a)という言葉は聞いたことがありますか。食品ロスとは、食べられる状態であるにも関わらず、廃棄される食品のことを言うのですよ。食品ロスは、2015年の国連サミットで採択された「持続可能な開発のための2030アジェンダ」で定められた「持続可能な開発目標(SDGs)」でも取りあげられるなど、近年、関心が高まっています。発表のテーマですが、「食品ロス」にしたらどうでしょうか。

しょう：そうですね。食品ロスってよく聞きますが、実は現状について全然分かりません。僕は、日本国内で1年間に消費にまわされた食料の量や食品廃棄物の量を調べて、そのうちのどれくらいが食品ロスとなっているのかを調べてみるよ。日本で食品ロスが増えているのか、減っているのかについて知るために、数年分を調べてみようかな。

こうた：食品ロスは、食品メーカーや小売店、飲食店、家庭など食べることに関係する場所で発生するものだよ。僕は、食品メーカーや小売店、飲食店、家庭などで、どういうものが食品ロスになっているのかを調べてみるね。

あきは：食品ロスは、ある意味で豊かさの結果でもあるから、必然的に生まれてしまう部分もあると思うわ。日本だけではなく世界各国でも食品ロスの問題は、同じように起こっているはずだから、どの地域で多くの食料が消費されずに捨てられているかを調べてみるわ。

まはな：私は食品ロスという言葉自体知らなかったから、いまいち実感がわかないわ。だから、例えば1人1日当たりだと、どれくらいの食品ロスを発生させているのかなど、実感のわく具体例を調べてみるわ。

先生：発表のテーマとそれぞれが調べる内容が決められて良かったですね。持続可能な社会に向けて、食品ロスは改善しなければならない世界全体の課題の一つだと思います。私た

ちは何ができるのか考え、行動していくことが大切です。ところで、その残ってしまったパスタやピザは、持ち帰りができるかもしれません。店員さんに聞いてみてはどうでしょうか。

しょう：はい。そうしてみます。

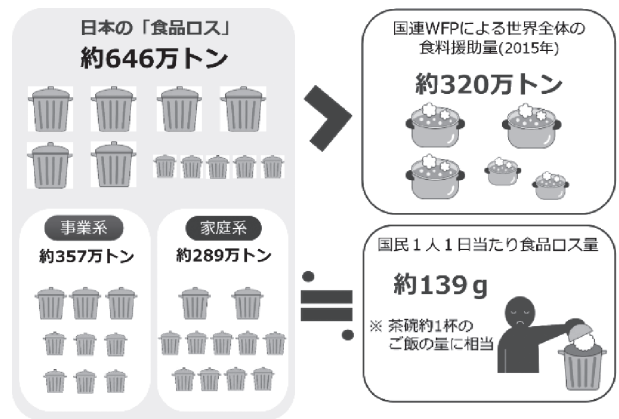
問 1 会話文に関連して、しょう、こうた、あきは、まはなの4人が、この先調査を進める際に利用すると考えられる資料の組合せとして適切なものを、次のページの①～④のうちから一つ選べ。解答番号は 23。

資料1 食品ロスの発生場面(平成27年度)

		食品ロスとなっているもの
事業者	食品メーカー	定番カット食品や期限を超えた食品などの返品 製造過程で発生する印刷ミスなどの規格外品
	小売店	新商品販売や規格変更に合わせて店頭から撤去された食品 期限を超えたなどで販売できなくなった在庫など
	レストランなどの飲食店	客が食べ残した料理 客に提供できなかった仕込み済みの食材など
	家庭	調理の際に食べられる部分を捨てている 食べ残し 冷蔵庫などに入れたまま期限を超えた食品など

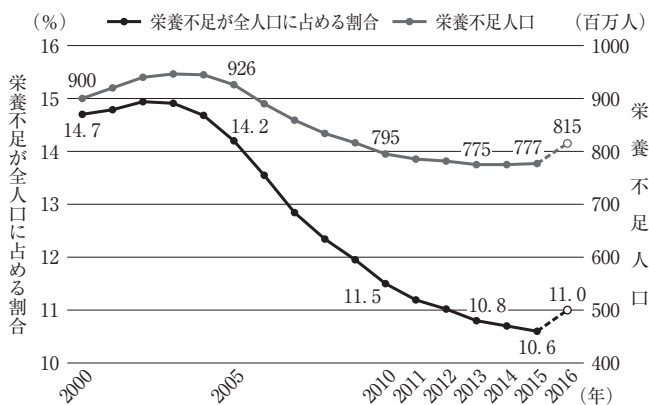
(政府広報オンライン「『食品ロス』を減らそう」により作成)

資料2 日本の食品ロスの現状(平成27年度)



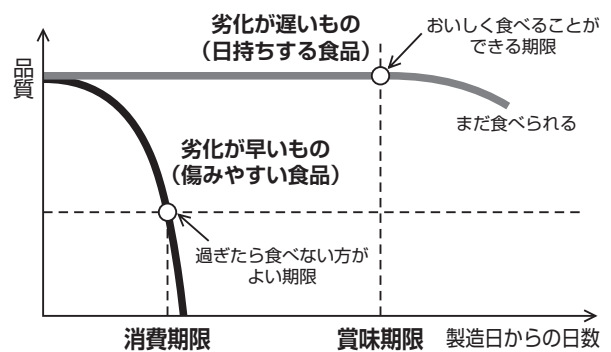
(農林水産省「食品ロスの削減に向けて～食べものに、もったいないを、もういちど。～」により作成)

資料3 世界の栄養不足人口



(消費者庁消費者政策課「食品ロス削減関係参考資料(平成30年6月21日版)」により作成)

資料4 消費期限と賞味期限のイメージ



(消費者庁消費者政策課「食品ロス削減関係参考資料(平成30年6月21日版)」により作成)

資料5 食用仕向量・食品廃棄物等・食品ロスの推計結果の推移

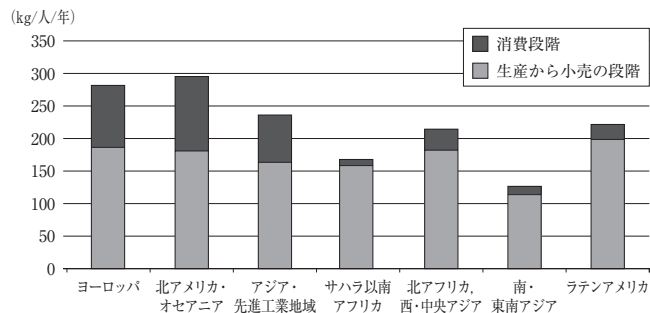
	食用仕向量	食品廃棄物等	うち食品ロス
平成 24 年度	8,464 万トン	2,801 万トン	642 万トン
平成 25 年度	8,339 万トン	2,797 万トン	632 万トン
平成 26 年度	8,294 万トン	2,775 万トン	621 万トン
平成 27 年度	8,291 万トン	2,842 万トン	646 万トン

(環境省「食品廃棄物等の利用状況等(平成 27 年度推計)」により作成)

(注) 食用仕向量とは、1 年間に国内で消費にまわされた食料の量(国内市場に出回った食料の量)を表す。

	しょう	こうた	あきほ	まはな
①	資料 1	資料 5	資料 6	資料 2
②	資料 1	資料 5	資料 3	資料 4
③	資料 5	資料 1	資料 3	資料 4
④	資料 5	資料 1	資料 6	資料 2

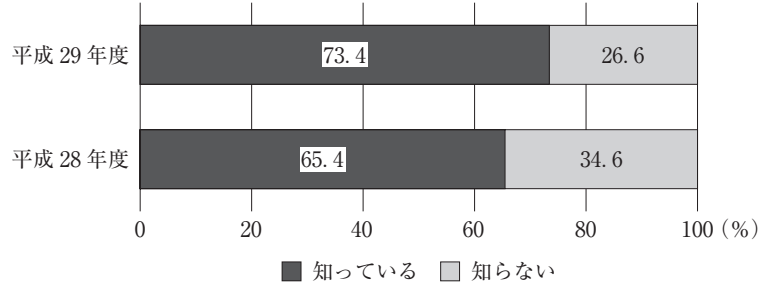
資料6 各地域における消費及び消費前段階での1人当たり食料のロスと廃棄量



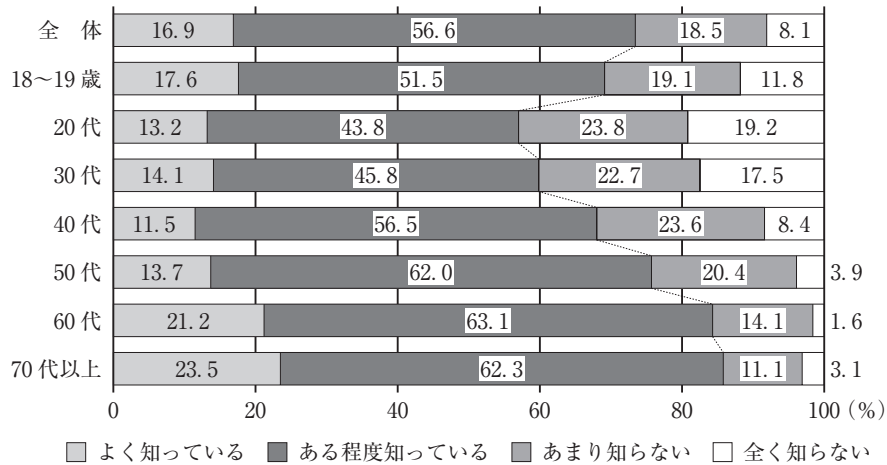
(国際農林業協働協会「世界の食料ロスと食料廃棄—その規模、原因および防止策」より)

問 2 下線部分^(a)食品ロスに関連して、次のグラフ 1、グラフ 2、グラフ 3 について説明する文章として適切なものを、次のページの①～④のうちから一つ選べ。解答番号は 24。

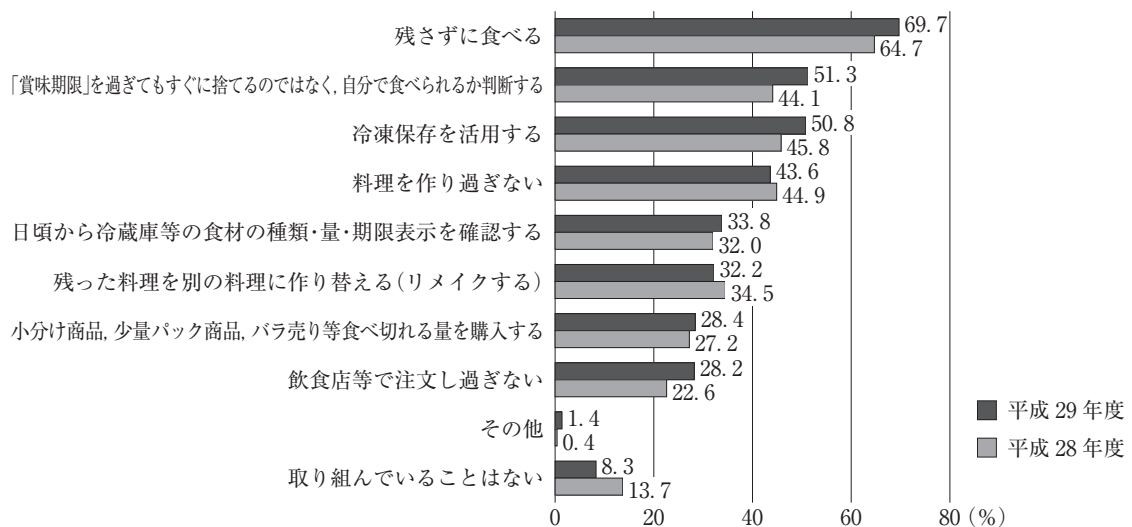
グラフ 1 食品ロス問題の認知度



グラフ 2 食品ロス問題の年代別認知度 (平成 29 年度)



グラフ 3 食品ロスを減らすための取組



(注) グラフの数値は四捨五入しているため、合計値が 100 にならない場合がある。

(消費者庁「平成 29 年度 消費者の意識に関する調査 結果報告書 —食品ロス削減の周知及び実践状況に関する調査—」により作成)

- ① グラフ1をみると、食品ロス問題を「知っている」と答えた割合は、平成29年度では7割以上であり、平成28年度に比べて増加している。グラフ2をみると、食品ロス問題を「よく知っている」「ある程度知っている」と答えた割合の合計は、20代以降年代が上がるごとに高くなっており、60代と70代以上では8割を超えている。グラフ3をみると、平成29年度では食品ロスを減らすための取組として、「残さずに食べる」と答えた割合が最も高くなっている。
- ② グラフ1をみると、食品ロス問題を「知らない」と答えた割合は、平成29年度も平成28年度も3割を超えている。グラフ2をみると、食品ロス問題を「全く知らない」「あまり知らない」と答えた割合の合計が最も高かった年代は20代であり、70代以上と比べてその差は40ポイントを超えている。グラフ3をみると、平成29年度で食品ロスを減らすための取組として、「取り組んでいることはない」と答えた割合は、平成28年度と比較して減少している。
- ③ グラフ1をみると、食品ロス問題を「知っている」と答えた割合は、平成29年度も平成28年度も7割を超えている。グラフ2をみると、食品ロス問題を「よく知っている」「ある程度知っている」と答えた割合の合計が最も高かった年代は70代以上であり、20代と比べてその差は20ポイントを超えている。グラフ3をみると、平成29年度で食品ロスを減らすための取組として、「料理を作り過ぎない」と答えた割合は、平成28年度と比較して増加している。
- ④ グラフ1をみると、食品ロス問題を「知らない」と答えた割合は、平成29年度では3割以下であり、平成28年度に比べて減少している。グラフ2をみると、食品ロス問題を「全く知らない」「あまり知らない」と答えた割合の合計は、20代と30代では6割を超えている。グラフ3をみると、平成29年度では食品ロスを減らすための取組として、「取り組んでいることはない」と答えた割合が50.8%となっている。

