

平成29年度 政治・経済 (50分)

注 意 事 項

- 1 試験開始の合図があるまで、この問題冊子の中を見てはいけない。
- 2 この問題冊子は44ページである。
試験中に問題冊子の印刷不鮮明、ページの落丁・乱丁及び汚れ等に気付いた場合は、手を挙げて監督者に知らせること。
- 3 試験開始の合図前に、監督者の指示に従って、解答用紙の該当欄に以下の内容をそれぞれ正しく記入し、マークすること。
 - ・①氏名欄
氏名を記入すること。
 - ・②受験番号、③生年月日、④受験地欄
受験番号、生年月日を記入し、さらにマーク欄に受験番号(数字)、生年月日(年号・数字)、受験地をマークすること。
- 4 受験番号、生年月日、受験地が正しくマークされていない場合は、採点できないことがある。
- 5 解答は、解答用紙の解答欄にマークすること。例えば、

10

と表示のある解答番号に対して②と解答する場合は、次の(例)のように解答番号10の解答欄の②にマークすること。

(例)

解答 番号	解 答 欄			
10	①	②	③	④

- 6 問題冊子の余白等は適宜利用してよいが、どのページも切り離してはいけない。
- 7 試験終了後、問題冊子は持ち帰ってよい。

注意事項は裏表紙に続きます。この問題冊子を裏返して必ず読むこと。

ただし、問題冊子を開かないこと。

政治・経済

(解答番号 ~)

【共通問題】

次の会話文を読んで、問1～問6に答えよ。

あすか：昨日は私の18歳の誕生日だったんだ。

しんじ：おめでとう。18歳になったということは、有権者になったということだね。

あすか：衆議院や参議院の選挙で投票できるってことだよ。法律案や内閣が提出した予算案を
(a) 審議する国会議員を選ぶってことは、私たちの生活を決めることになるんだよね。
(b) 今まで政治のことなんか考えたことがない私が、いろいろな問題についてちゃんと考え
(c) て投票できるかな。

しんじ：「今まで政治のことなんか考えたことがない」って言ったけど、本当にそうかな。学校の授業のなかで、身近な問題について考えてきたよ。例えば、「通学路にある横断歩道に信号機をつけるべきか」という論題でディベートをしたりしたよね。

あすか：それって政治なの。政治って、国の在り方を問うような大きな問題を考えることじゃないの。

しんじ：「地方自治は民主主義の最良の学校」という言葉があるんだけど、国の在り方を問うよう
(d) な大きな問題を考えることだけではなく、身近な問題について地域の一員として積極的に考えていくことも政治だよ。

あすか：そういえば、私たちのまちは、選挙権年齢が18歳に引き下げられる前に、で、中学生にも投票権を認めたことがあったよね。

しんじ：そうだね。の結果には法的拘束力がないけれど、身近な問題を考える絶好の機会だったんじゃないかな。

あすか：そうか、私は、これまで政治のことを考えてこなかったわけじゃないんだね。ちょっと有権者としての自信がもてたよ。それに、政治に興味も出てきたかな。

しんじ：それはよかった。そうそう、国や地方公共団体の選挙だけでなく、有権者になると、衆議院議員総選挙のときに、に対する国民審査というかたちで司法に関わ
(e) ることにもなるんだよ。

あすか：そうなんだ。有権者になるっていうことは、政治にいろいろなかたちで関わっていくということなんだね。国民権ということばについて学んではいたけれども、今まではあまりピンときてなかったんだ。今はその重みを少し実感している。

問 1 会話文中の **A** , **B** にあてはまる語句の組合せとして適切なものを, 次の①～④のうちから一つ選べ。解答番号は **1** 。

A**B**

- | | |
|-------------------|-------------|
| ① 地方特別法の賛否を問う住民投票 | 最高裁判所裁判官 |
| ② 地方特別法の賛否を問う住民投票 | すべての裁判所の裁判官 |
| ③ 住民投票条例にもとづく住民投票 | 最高裁判所裁判官 |
| ④ 住民投票条例にもとづく住民投票 | すべての裁判所の裁判官 |

問 2 下線部分^(a)衆議院や参議院に関連して, 国会の会期などを示した次の資料 1 において, 特別国会にあてはまるものを, 下の①～④のうちから一つ選べ。解答番号は **2** 。

資料 1 国会会期一覧

国会回次	召集日	会期終了日	会期
第 186 回国会	平成 26 年 1 月 24 日	平成 26 年 6 月 22 日	150 日
第 187 回国会	平成 26 年 9 月 29 日	平成 26 年 11 月 21 日 (衆議院解散による)	54 日
第 188 回国会	平成 26 年 12 月 24 日	平成 26 年 12 月 26 日	3 日
第 189 回国会	平成 27 年 1 月 26 日	平成 27 年 9 月 27 日	245 日
第 190 回国会	平成 28 年 1 月 4 日	平成 28 年 6 月 1 日	150 日

(衆議院ホームページにより作成)

- ① 第 187 回国会
- ② 第 188 回国会
- ③ 第 189 回国会
- ④ 第 190 回国会

問 3 下線部分^(b)内閣に関連して、内閣総理大臣について述べた文として適切なものを、次の①～④のうちから一つ選べ。解答番号は 。

- ① 内閣総理大臣は、国会議員の中から国会が指名し、天皇によって任命される。
- ② 内閣総理大臣は、法案提出権をもっていないが、国会が可決した法律案に対する拒否権をもっている。
- ③ 内閣総理大臣は、すべての国務大臣を国会議員の中から任命しなければならない。
- ④ 内閣総理大臣は、内閣不信任決議案が可決された場合、衆議院と参議院を解散することができる。

問 4 下線部分^(c)私たちの生活に関連して、次の状況Cと状況Dにおいて、それぞれの状況で主張されている新しい人権の組合せとして適切なものを、下の①～④のうちから一つ選べ。解答番号は 。

状況C

ガンの宣告を受けた私に対して、医師は抗ガン剤による治療を勧め、その効果と副作用を十分に説明してくれた。しかし、私は、その説明をふまえたうえで、抗ガン剤による治療を断ろうと思う。

状況D

インターネット上に、私の名前、住所と電話番号が公開されているのを見つけた。このようなかたちで私の個人情報が流出するのは困るので、サイトの管理者に削除を依頼しようと思う。

- | 状況C | 状況D |
|---------|-----------|
| ① 自己決定権 | 知る権利 |
| ② 自己決定権 | プライバシーの権利 |
| ③ 生存権 | 知る権利 |
| ④ 生存権 | プライバシーの権利 |

問 5 下線部分^(d)地方自治に関連して、地方財政の歳入状況を示した次の資料 2 についての会話文を讀んだうえで、**E**、**F**、**G** にあてはまる語句の組合せとして適切なものを、次のページの①～④のうちから一つ選べ。解答番号は **5**。

資料 2 地方財政における歳入純計決算額の状況

区 分	決 算 額 (億円)			全体に占める割合(%)		
	平成 16 年度	平成 19 年度	平成 26 年度	16 年度	19 年度	26 年度
E	335,388	402,668	367,855	35.9	44.2	36.0
地方譲与税	11,641	7,146	29,369	1.2	0.8	2.9
地方特例交付金	11,048	3,120	1,192	1.2	0.3	0.1
F	170,201	152,027	174,314	18.2	16.7	17.1
G	124,598	103,365	155,189	13.3	11.3	15.2
地方債	123,753	95,844	115,185	13.2	10.5	11.3
その他	157,793	147,644	177,732	17.0	16.2	17.4
合 計	934,422	911,814	1,020,835	100.0	100.0	100.0

注：資料中の数値は、四捨五入したもので、合計が合わない場合もある。

(総務省『地方財政の状況』、『地方財政白書』により作成)

りょう：平成 16 年度と平成 19 年度の歳入純計決算額の状況を比べてみると、歳入における **E** の割合が増加し、**F** と **G** の割合が減少しているね。

かつみ：それは授業で習った三位一体の改革の成果のあらわれかもね。

りょう：でも、平成 19 年度と平成 26 年度の歳入純計決算額の状況を比べてみると、**E** の割合が減少して、**F** と **G** の割合が増加しているんだけど。

かつみ：本当だ。おそらく、**E** の決算額と割合が減ったのは、景気の悪化が影響しているんじゃないのかな。

りょう：なるほど、そうかもしれないね。そうすると、**F** の決算額と割合が増加したのは税収が十分でなく財源が乏しい地方公共団体を、国が支援しようとした結果なのかな。

かつみ：そう考えることができるね。じゃあ、**G** の決算額と割合が増加したのは、なぜだろう。

りょう：しかも、特定財源である **G** が全体に占める割合は、平成 16 年度よりも平成 26 年度の方が大きくなっているね。

かつみ：もしかしたら、国の経済政策や東日本大震災への対応の影響なのかな。特に、復興のための公共事業が増えたし。

りょう：そう考えると説明がつくね。私たちの推測があっているか、調べてみようよ。

E

- ① 地方交付税交付金
- ② 地方交付税交付金
- ③ 地方税
- ④ 地方税

F

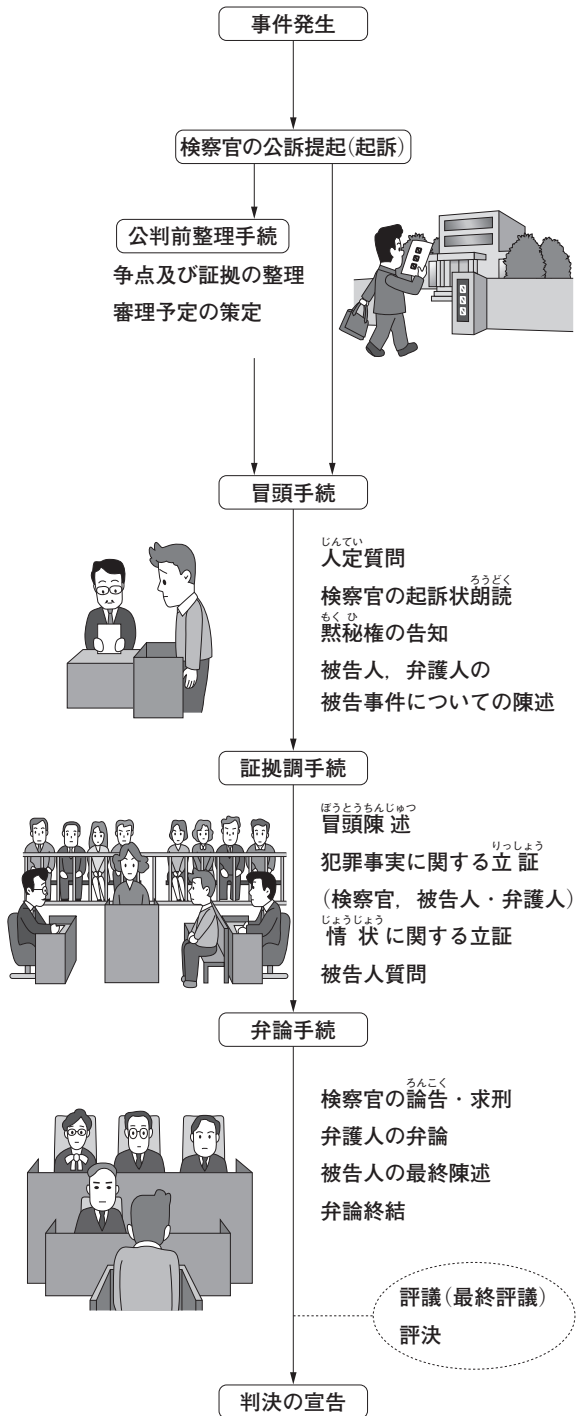
- 地方税
- 国庫支出金
- 地方交付税交付金
- 国庫支出金

G

- 国庫支出金
- 地方税
- 国庫支出金
- 地方交付税交付金

問 6 下線部分^(e)司法に関連して、次のページのカードH、カードI、カードJ、カードKは、裁判の流れを表した次の図を参考に生徒が説明したものである。図で示された裁判についての説明として適切なものを、次のページの①～④のうちから一つ選べ。解答番号は 6。

図 裁判の流れ



(最高裁判所事務総局「裁判所ナビ」により作成)

カードH

㊦の裁判では、裁判官と調停委員の斡旋で、話し合いによって争いの解決をはかることもできます。

カードI

㊦の裁判では、国や地方公共団体がおこなった処分等で不利益を受けた人がその適法性を争います。

カードJ

㊦の裁判では、金銭・土地などの財産争いや、離婚問題、相続問題など人間の紛争の解決を図ります。

カードK

㊦の裁判では、被告人が自分で費用を負担して弁護人を依頼できない場合、国に弁護人をつけてもらうことができます。

- ① カードH
- ② カードI
- ③ カードJ
- ④ カードK

【共通問題】

2 次の文章を読んで、問1～問5に答えよ。

グローバル化の進展により、国際的な発言力を有する非政府組織(NGO)や国家予算規模の収益を上げる多国籍企業などの非国家主体が国際社会においてより重要な役割を果たすようになってきていると同時に、様々なテロの地域的拡散など懸念される状況が生じつつある。

アメリカ合衆国は、軍事力や経済力のみならず、価値や文化といったソフトパワーを含めた総合的な国力において、今なお世界で主導的な地位を占めている。その一方で、新興国の台頭等によりパワーバランスの変化が生じている。(中略)

2016年は日本の国際連合加盟60周年の記念の年である。1956年12月18日、日本は80番目の国際連合加盟国となった。国際連合加盟は日本の国際社会への復帰を象徴する出来事であり、これにより、戦後日本の国際協調主義が本格的に始まった。戦後復興を果たした日本は、国際連合という多国間外交の場で、国際社会の責任ある一員として、平和国家としての歩みを確かなものとし、積極的に国際貢献を行ってきた。(中略)

国際連合創設から70年を経て、冷戦の終結など、国際社会を取り巻く状況は大きく変化した。国際社会は、国家間の戦争だけでなく、紛争やテロ、貧困、環境問題、感染症など、国境を越えた様々な課題に直面している。日本は国際連合の場を活用しながら、こうした地球規模の課題の解決や世界の平和と繁栄に一層積極的に貢献していく。(中略)

日本を取り巻く環境を安定的なものにする上で、近隣諸国との関係強化は重要な基礎となる。2015年11月には韓国において約3年半ぶりとなる日中韓サミットが開催され、3か国による協力の枠組みが完全に回復し、日中韓サミットの定期的開催が再確認された。

厳しさを増す安全保障環境を踏まえ、アジア太平洋地域における、自由や民主主義をはじめとする価値を共有するパートナーとの協力関係の強化が重要である。

(『平成28年版外交青書』により作成)

問 1 下線部分^(a)国際社会に関連して、次のレポートは国際法について書かれたものである。レポート中の **A** , **B** , **C** にあてはまる語句の組合せとして適切なものを、下の①～④のうちから一つ選べ。解答番号は **7** 。

レポート

17世紀前半に『戦争と平和の法』を著したオランダの法学者 **A** によって国際法の基礎がつくられました。彼は、「国際法の父」とよばれました。

国際法は、国家間で約束した **B** と国際社会で積み重なってできてきた **C** からなります。**C** のなかには外交特権のように成文化されたものもあります。

A**B****C**

- | | | | |
|---|--------|-------|-------|
| ① | グロティウス | 国際慣習法 | 条約 |
| ② | グロティウス | 条約 | 国際慣習法 |
| ③ | カント | 条約 | 国際慣習法 |
| ④ | カント | 国際慣習法 | 条約 |

問 2 下線部分アメリカ合衆国(b)に関連して、次の資料はアメリカ合衆国の大統領選挙について述べたものである。資料中の **D** , **E** , **F** にあてはまるものの組合せとして適切なものを、下の①~④のうちから一つ選べ。解答番号は **8** 。

資料

(米大統領選州別の選挙人獲得結果)	(米大統領選の得票数)
-------------------	-------------

上の図を見るとアメリカ合衆国の大統領選はドナルド・トランプ氏が勝利したが、得票数ではトランプ氏がクリントン氏を **D** ことがわかる。

トランプ氏が接戦を制したのはアメリカ独特の「選挙人制度」が背景にある。 **E** を選び、その選挙人が大統領を決める仕組みだ。大半の州は1票でも多く得票した候補がその州の選挙人を全て獲得する「勝者総取り方式」を採用しているため、選挙人の獲得ではトランプ氏がクリントン氏を **F** 。

- | D | E | F |
|-----------|----------------|----------|
| ① 上まわっている | 各州に割り当てられた選挙人 | 下まわっている |
| ② 下まわっている | 各州の上院議員と同数の選挙人 | 上まわっている |
| ③ 上まわっている | 各州の上院議員と同数の選挙人 | 下まわっている |
| ④ 下まわっている | 各州に割り当てられた選挙人 | 上まわっている |

問 3 下線部分^(c)国際連合について述べた文として適切なものを、次の①～④のうちから一つ選べ。解答番号は 。

- ① 第二次世界大戦中にイギリス首相チャーチルとアメリカ大統領フランクリン・ローズヴェルトによって発表された大西洋憲章は国際連合成立の基礎となった。
- ② 国際連合の主要機関の一つに経済社会理事会があるが、安全保障理事会と同様にアメリカなどの五大国に拒否権が与えられている。
- ③ 国際連合の事務局はアメリカのニューヨークに置かれており、これまでの事務総長は常任理事国から選出されている。
- ④ 国際連合総会によって「平和のための結集」決議が採択され、この決議をもとに湾岸戦争において多国籍軍が結成された。

問 4 下線部分^(d)冷戦に関連して、次のレポートは、冷戦期のアジアやアフリカなどの国々の行動について書かれたものである。レポート中の , , にあてはまるものの組合せとして適切なものを、下の①～④のうちから一つ選べ。解答番号は 。

レポート

冷戦期において、アジアやアフリカなどの多くの国々は、アメリカやソ連のどちらの側にも属さずに政治的独立をめざす 主義をとり、 とよばれました。1955年にインドネシアのバンドンで 会議が開催され、平和十原則が採択されました。

- | | <input type="text" value="G"/> | <input type="text" value="H"/> | <input type="text" value="I"/> |
|---|--------------------------------|--------------------------------|--------------------------------|
| ① | 非軍事 | 東西両陣営 | アジア・アフリカ |
| ② | 非軍事 | 第三世界 | アセアン |
| ③ | 非同盟 | 第三世界 | アジア・アフリカ |
| ④ | 非同盟 | 東西両陣営 | アセアン |

問 5 下線部分^(e)近隣諸国との関係強化に関連して、日本の外交関係について述べた文として適切なものを、次の①～④のうちから一つ選べ。解答番号は 。

- ① 1950年代にソ連との間に平和条約が結ばれたことで、国際連合加盟が認められた。
- ② 1960年代に調印された日韓基本条約によって、韓国との国交正常化が実現した。
- ③ 1970年代に日中共同声明が出されたが、中国との平和条約は結ばれなかった。
- ④ 1980年代にアメリカとの間にINF全廃条約が結ばれた。

【共通問題】

3 次の文章を読んで、問1～問6に答えよ。

1964年、東京オリンピックが開催された。このころ、カラーテレビが白黒テレビに取って代わった。2020年に東京オリンピック・パラリンピックの開催を控えている現代では、高画質な液晶テレビが主流となり、現実と勘違いしてしまいそうな世界に誘い^{いざな}でくれることがある。電話をスマートフォンへと進化させるようなイノベーション(技術革新)^(a)は、私たちの暮らしを一変させる。

優れた製品の開発は、研究者や技術者たちの血と汗の結晶が染み付いている。熱湯を注いで、たった数分で出来上がるインスタントラーメンは、開発者たちの数年に及ぶエネルギーと思いが注ぎ込まれている。失敗の連続は挫折を生み続け、成功して初めて、大きな報酬や所得^(b)を手にすることが可能となる。彼らは多大なるリスクを引き受けたがゆえに、サクセスストーリーを完成させたのであろう。日本では、大金を得ることを汚らわしいと捉えられる面もあるが、小さな^(c)リスクだけを負うだけでは、私たちが満足するような製品は、生み出されにくいかもしれない。

難産による成功は、開発者たちが報われる瞬間であろう。が、このとき、製品の製造方法を簡単に真似されてしまえば、それまでの苦労は水の泡になってしまう。なぜなら、他の企業^(d)が[A]からである。であれば、開発者たちの意欲が損なわれてしまう。そのため、知的財産^(e)という概念やその権利が必要になってくる。要は、発明や著作などの知的形成物を保護しようとするのである。社会全体での繁栄を考えたとき、期間を定めたある程度の独占は致し方ないと考えているのである。

イノベーションの連続が、私たちの生きる社会を進化させる。変化の激しい現代社会は、知的財産権の運用をバランスよく進めていかなければならない。その保護を強化しすぎると、開発者が社会における豊かさを独占し、脆弱^{ぜいじゃく}にしてしまえば、開発者たちのやる気を奪い、活力ある社会にならなくなってしまうからである。そんな中、インスタントラーメンの開発には目を見張るところがある。あえて、製造方法を公開してしまったのである。それは食品業界や社会全体の繁栄を考慮してのことだという。現代の社会では、インスタントラーメンは世界中で愛されており、安価で手頃な食品は、発展途上国では、時に人々の命を救っている。

問 1 文章中の **A** にあてはまるものとして適切なものを、次の①～④のうちから一つ選べ。解答番号は **12**。

- ① 同じような製品を作ってしまう、市場で売り出してしまう
- ② 同じような製品を市場で買い占めてしまう
- ③ まったく異なる製品を作ってしまう、市場で売り出してしまう
- ④ まったく異なる製品を市場で買い占めてしまう

問 2 下線部分イノベーション(技術革新)^(a)に関連して、次の文章は、四人の経済学者たちが示した景気循環についての理論を簡潔にまとめたものである。これらのうち、イノベーション(技術革新)を起因とする景気循環の周期(波動)について述べている理論として適切なものを、下の①～④のうちから一つ選べ。解答番号は **13**。

経済学者 クズネッツ

彼が考えた景気循環の周期は約 20 年程度である。人口の移動やそれにもとづく住宅やビル、工場などの建築財の更新は、おおよそそのくらいの期間で景気を上昇させる。

経済学者 キチン

彼が考えた景気循環の周期は約 40 か月程度である。自由経済では、商品の在庫が一時的に過剰になるので、景気の上昇は中断してしまうが、また、再び上昇局面になる。

経済学者 コンドラチェフ

彼が考えた景気循環の周期は約 50 年程度である。例えば、産業革命とその後の低迷期、鉄道や鉄鋼の発達とその反動による低迷期と、そのような繰り返りで景気は循環している。

経済学者 ジュグラール

彼が考えた景気循環の周期は約 10 年程度である。機械などの設備はおおよそ耐用年数がそのくらいの期間になっているので、設備更新とともに景気の上昇局面は訪れる。

- ① 経済学者 クズネッツ
- ② 経済学者 キチン
- ③ 経済学者 コンドラチェフ
- ④ 経済学者 ジュグラール

- 問 3 下線部分^(b)所得に関連して、次の文章はある生徒が、授業を受けた後にまとめたものである。文章中の **B** にあてはまるものとして適切なものを、下の①～④のうちから一つ選べ。解答番号は **14**。

資本主義経済において、所得を平等に分配することは難しいようだ。それゆえ、所得の再分配という機能が注目され、この機能が働くように様々な方策が採られているのである。所得格差を是正するような仕組みには、社会保障の他に、課税方式が活用されている。考え方としては、水平的公平より垂直的公平という考え方のほうが、この仕組みには合致しているようだ。例えば、**B** は垂直的公平を実現しようとする課税方式に近いであろう。

- ア 同額の消費には、同額の税額を負担する消費税
イ 所得が高ければ高いほど、高税率を課す所得税
ウ 相続などで一定以上の財産を取得した個人に課す相続税

- ① アとイ
② アとウ
③ イとウ
④ アとイとウ

- 問 4 下線部分(c)小さなリスクに関連して、次の文章はある高校生の相談に対して、金融機関で働く叔父が送ったメール文である。文章中の **C** にあてはまるものとして適切なものを、下の①～④のうちから一つ選べ。解答番号は **15**。

メール、ありがとう。元気そうでなによりです。

ずいぶんと、頑張って、アルバイトをしたんですね。素晴らしい。手にしたお金、お給料を来年に進学予定の大学で学費の足しにすると、これまた、素晴らしい。やはり、君は僕の自慢の甥っ子ですね。

さて、ご相談の返答です。君にとっては大きな金額をどのような形にするかということです。大人の世界では、資産を運用するなどと言ったりします。金融や金融商品に興味をもっているのは、「さすが。僕の甥っ子！」と感心しています。でも、今、手にしたお金は、あなたにとって、大学の学費というとても大切なものでしょう。もし、失ってしまったり、減らしてしまったりしたら、大学進学を断念する事態になりかねません。ご存知の通り、リスクを大きくとれば、大きな利益を得る可能性が高くなりますが、今回は堅実な運用方法をおススメします。リスクが最も小さくなる方法を探るべきでしょう。ですから、**C** するのが賢明でしょうね。ちょっと、お堅い言い方をしてみました(笑)仕事柄、いつもこんな感じになってしまうのです(´;ω;`)

リスクが高くなる金融商品は、君が就職して、少し生活に余裕が出てきてから、考えるといいと思いますよ。もう、学費の目途はたったとのことですから、これからは勉強に専念してくださいね。希望の大学に入学できますことを、心から祈っています!!!

Good luck!

- ① 自己資本比率が国内で最も高い都市銀行に預金
- ② 新技術を活かして冒険的な経営に挑んでいるベンチャー企業の株式に投資
- ③ 粉飾決算をしていることが明らかな大手企業の社債を購入
- ④ デフォルトの可能性が指摘されている財政赤字を有する外国の国債を購入

- 問 5 下線部分^(d)企業に関連して、次の図は、ある旅行会社が作成したパンフレットの一部分である。この企業は旅行代金の決定について、下の分析による予想データを活用した。これらの図と予想データを参考に、需要と供給の関係から図中にある **D**、**E**、**F** にあてはまるものの組合せとして適切なものを、下の①～④のうちから一つ選べ。
解答番号は **16**。

図

✈ ✈ ～憧れの〇〇〇〇〇～ ✈ ✈

直行便利！ 当社AAAランクのデラックスホテルに2連泊！

旅行代金 6～12万円(お一人様, 税別)

出発日

3月18日(土)	3連休(土日&春分の日)!	D 円
4月10日(月)	平日, ゆったり, のんびり!	E 円
5月3日(水, 祝)	ゴールデンウィーク出発!	F 円

予想データ

	航空機搭乗率	宿泊ホテル稼働(利用率)
3月18日(土)	90%	90%
4月10日(月)	50%	50%
5月3日(水, 祝)	100%	100%

- ア 60,000
イ 108,000
ウ 120,000

- | | D | E | F |
|---|---|---|---|
| ① | ア | イ | ウ |
| ② | イ | ア | ウ |
| ③ | イ | ウ | ア |
| ④ | ウ | ア | イ |

問 6 下線部分^(e)知的財産について、これを専門に扱う裁判所が置かれているところとして適切なものを、次の①～④のうちから一つ選べ。解答番号は 。

- ① 最高裁判所
- ② 東京高等裁判所
- ③ 東京地方裁判所
- ④ 東京家庭裁判所

【共通問題】

4 次の会話文を読んで、問1～問5に答えよ。

生徒：「G7が開催されました」というニュースを聞きました。

先生：一般的に「G」はグループという意味で、「G」には大きく分けて二つあるといわれています。一つは主要国のトップが集まる首脳会議(サミット)です。1973年の第四次中東戦争に起因する **A** 以降の世界経済の混乱に対処するため、1975年フランスのジスカール・デスタン大統領の提唱で日本、アメリカ、イギリス、フランス、西ドイツ、イタリアの各国の首脳が集まりました。これが、サミットのはじまりです。翌年には、カナダが加わりG7体制ができました。もう一つは、財務相・中央銀行総裁会議です。1985年、日本、アメリカ、イギリス、フランス、西ドイツの5か国が為替市場への協調介入で **B** を是正することで合意したプラザ合意からだと言われています。

生徒：Gに続く数字は、会議に参加する国の数なんですね。7は、会議に参加する7か国を指すんですね。G7は、主要7か国の世界経済の問題に対する政策協調の場なんですね。

先生：現在、会議にはEUの代表も加わっていて、G7は、主要7か国・地域を指します。G7の国では、ドルやユーロなどの主要通貨を発行しており、G7の経済政策や通貨政策は世界経済に大きな影響を与えています。

生徒：BRICSなど新興国の存在感も高まっている気がするんですが。

先生：国際通貨基金(IMF)の統計などを調べてみると、世界経済全体に占めるG7の経済規模^(a)(名目GDP)構成比は、BRICSなどの新興国の経済発展に伴い、低下してきていることがわかります。また、2008年の金融危機を乗り切るには、新興国の経済政策に頼る必要もあり、先進国と新興国で構成する20か国・地域(G20)の存在感が高まりました。

生徒：今や、世界経済の問題を話し合う主な舞台はG20になっていて、G7の地位は低下しているのでしょうか。

先生：中期的には、新興国の影響力が増し続けるでしょう。ただ、中国の経済成長^(c)には陰りが見えはじめ、石油や天然ガスなど資源価格の下落^(d)でブラジルやロシアの景気も低迷しています。

生徒：だからまた、G7が打ち出す対策に注目が集まっているんですね。でも、やはり、G7だけでは世界経済を支えられませんよね。

先生：G7は、世界のさまざまな問題に対応してきた蓄積もあり、G20より意見がまとまりやすいと言えます。

生徒：G7より多様な国・地域が集まるG20は、意見が割れがちですね。だから、G7の役割はまだ大きく、一致団結することで、世界経済の安定化に向けたG20の議論をリードすることが期待されているんですね。

問 1 会話文中の **A** , **B** にあてはまる語句の組合せとして適切なものを, 次の①～④のうちから一つ選べ。解答番号は **18** 。

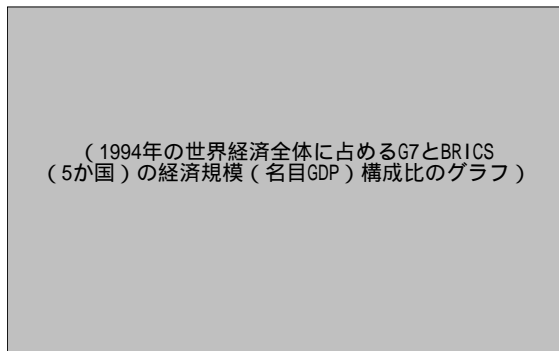
A	B
① 第一次オイルショック	ドル高
② リーマンショック	ドル安
③ 第一次オイルショック	ドル安
④ リーマンショック	ドル高

問 2 下線部分^(a)国際通貨基金(IMF)について述べた文として適切なものを, 次の①～④のうちから一つ選べ。解答番号は **19** 。

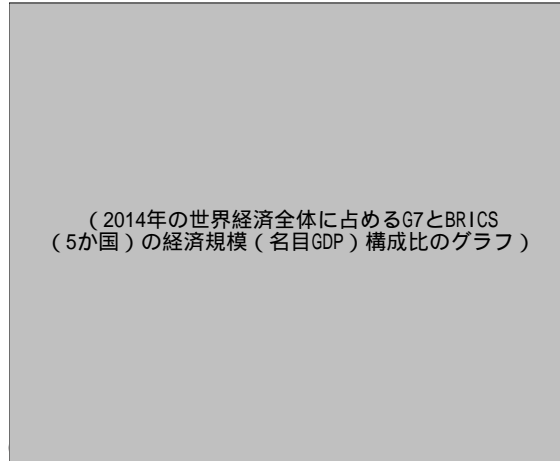
- ① 南北問題の解決を目指して, 先進国間の自由な意見交換・情報交換を通じて, 経済成長, 貿易自由化, 途上国支援に貢献してきた機関である。
- ② 貿易における無差別原則などの基本的ルールを規定し, 多角的貿易体制の基礎を築き, 貿易の自由化の促進を通じて世界経済の成長に貢献してきた機関である。
- ③ 世界銀行グループの初期の頃からの機関で, 中所得かつ信用貸しのできる貧しい国が貧困を削減できるように長期に資金を供与することを目的の一つとしている。
- ④ 加盟国からの出資等を財源として, 対外的な支払い困難(外貨不足)に陥った加盟国に, 短期に資金を供与することを目的の一つとしている。

- 問 3 下線部分^(b)世界経済全体に占める G 7 の経済規模(名目 GDP)構成比に関連して、次の資料 1、資料 2、生徒のコメントを見て、 にあてはまるものとして適切なものを、下の①～④のうちから一つ選べ。解答番号は 。

資料 1



資料 2



生徒のコメント

資料 1、資料 2 は、1994 年と 2014 年の世界経済全体に占める G 7 と BRICS(5 か国)の経済規模(名目 GDP)構成比です。 ので、世界経済全体に占める G 7 の地位は相対的に低下し、BRICS の地位が上がっているとみることができます。

- ① G 7 の世界経済全体に占める経済規模(名目 GDP)構成比は、1994 年には 90 % 近くあったが、2014 年には 50 % を切っている
- ② G 7 の世界経済全体に占める経済規模(名目 GDP)構成比は、1994 年には 70 % 近くあったが、2014 年には 40 % を切っている
- ③ 1994 年と 2014 年を比較すると、2014 年には G 7 の世界経済全体に占める経済規模(名目 GDP)構成比が、約 21 ポイント減少したのに対し、BRICS は約 15 ポイント増加している
- ④ 1994 年と 2014 年を比較すると、2014 年には G 7 の世界経済全体に占める経済規模(名目 GDP)構成比が、約 21 ポイント増加したのに対し、BRICS は約 15 ポイント減少している

問 4 下線部分中国の経済成長に関連して、中国経済についての次のア～エが示す事柄を年代の古い順に並べたものとして適切なものを、下の①～④のうちから一つ選べ。

解答番号は 。

ア

イ

ウ

エ

① ア → イ → ウ → エ

② ア → イ → エ → ウ

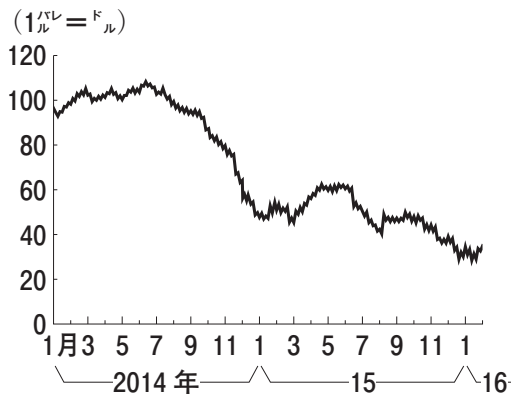
③ イ → ア → ウ → エ

④ イ → ア → エ → ウ

問 5 下線部分^(d)石油や天然ガスなど資源価格の下落に関連して、次のグラフ1、グラフ2、グラフ3を参考に、会話文の **D**、**E**、**F** にあてはまる語句として適切なものを、次のページの①～④のうちから一つ選べ。解答番号は **22**。

グラフ1

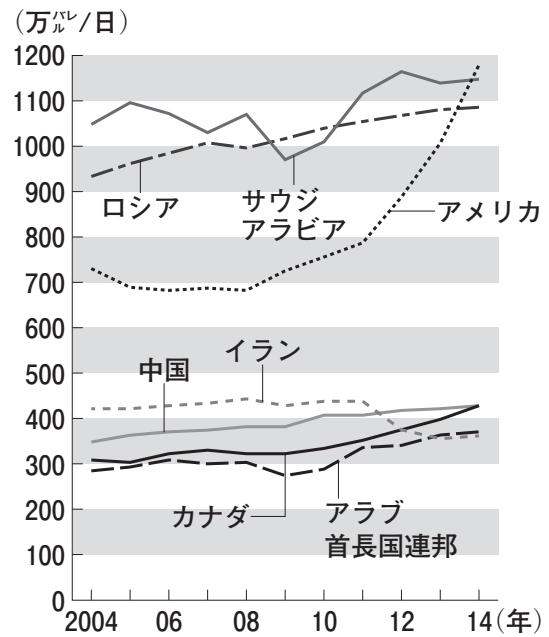
原油価格の動き WTI 原油先物価格



注：WTI 原油先物価格は、世界の代表的な原油価格指標である。
(朝日中高生新聞「世界経済を揺るがす原油安」より)

グラフ2

主要産油国の生産量の推移

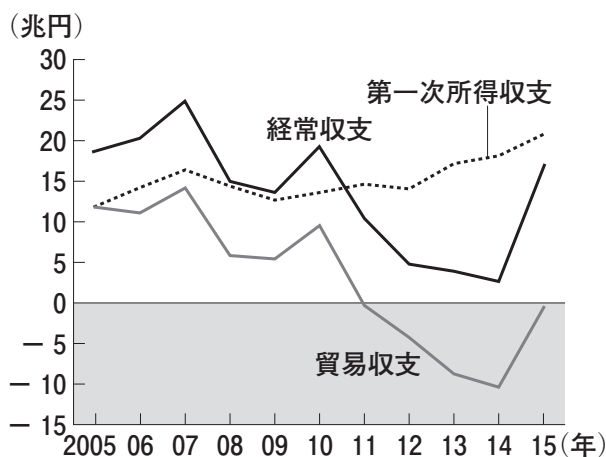


※英石油大手 BP の資料から

(毎日新聞「サラリーマン1年生・なるほドリマン君 米国の産油、なぜ世界一になったの? =回答・清水憲司」より)

グラフ3

日本の経常収支



(朝日新聞「15年国際収支、経常黒字が大幅増16.6兆円」より)

先生：今日は、グラフを参考に、なぜ原油価格が急激に下がったのか考えてみよう。

生徒：2014年7月頃には、1バレル(約159リットル) = D ドルを超えていたのが、2016年1月頃には1バレル = 40ドルを切っていますね。

先生：まず、需要面からみると、新興国の景気減速が響いたんだ。原油消費量がアメリカに次ぐ規模となった中国の成長率が落ち込んで、原油需要の伸びも鈍ったんだ。

生徒：供給面では、どうだったんですか。

先生：2000年代後半からアメリカのシェールオイルの生産が急増したんだ。地中深くの^{けつがん}頁岩(シェール)層に含まれるシェールオイルが、技術革新で大量に掘削できるようになり供給量が増えたんだ。

生徒：2014年、アメリカの産油量は2013年の産油量1位の E を上回り、首位に浮上したんですね。

先生：また、アメリカは2014年には、原油輸出を40年ぶりに再開すると決めたんだ。

生徒：他にも下がった要因はあるんですか。

先生：イランが国際原油市場に復帰するのも価格が下がった要因だ。原油価格が大きく下がれば、産油国が話し合いで生産を減らすのが一般的だった。その中心的な役割を果たしてきたのが、中東やアフリカなどの産油国でつくるOPECだった。過去、何度もOPECは、原油価格が値崩れしそうになると協調して生産量を減らすことで値崩れを防いできた。だが、急激に原油安になったこの時期、生産量を調整する話し合いは、E とイランの断交など加盟国の対立でうまくまとまらなかったんだ。

生徒：原油安が続けばどうなるんですか。

先生：原油安は、短期的には、日本の2015年の F の赤字額を縮小させ、経常収支の黒字額を大幅に増やした。ただ長い目で見れば、産油国の財政が悪化して中東などの政情が不安定になる懸念もある。不安を抱えた投資家が、手持ちの資金を安全な資産に移す動きが本格化すれば、株価の下落によって世界経済に大きな混乱をもたらす可能性もあるんだ。

生徒：原油価格の動向を見ると、世界経済や私たちの生活にどんな影響があるかがわかるんですね。

	D	E	F
①	120	カナダ	貿易収支
②	100	サウジアラビア	貿易収支
③	120	カナダ	第一次所得収支
④	100	サウジアラビア	第一次所得収支

【選択問題 1】

- 5 次の資料と次のページの会話文を読み、資料と会話文中の **A** , **B** , **C** , **D** にあてはまるものの組合せとして適切なものを、次のページの①～④のうちから一つ選べ。解答番号は **23** 。

資料

朝日新聞社に無断で転載することを禁じる
承諾番号：19-3149

カナダの西岸のバンクーバー。中心部に最貧困地域のダウントウン・イーストサイドがある。福祉国家カナダの別の顔だ。「たくさんの人が薬物依存で苦しみ、心も病んでいる。僕は幸い、貧乏なだけだけど。」拾った日用品などを売って暮らしの足しにしているバンデルミーリンさんは言う。

リビングストーンさんはこうした住民を公園に集め、ルールの下で運営する青空市の世話人を務めてきた。ボランティアの自治活動だ。「役所は、私がボランティア活動をやっているのが気に入らないの」

リビングストーンさんは生活保護を受けているからだ。子ども4人を育てたシングルマザーで、行政が提供するアパートに暮らす。長男は障害があって働けないが、手当を受けて同じ建物で一人暮らし。残る3人のうち2人は独立し、リビングストーンさんは「働ける」と認定されたのだ。

行政側は昨冬、「就労計画を履行せず」として生活保護を打ち切った。リビングストーンさんは不服を申し立てて撤回させたが、いつ止められるかわからない。

そもそも生活保護は申請しないと享受できない。心身に不調を抱える貧困層にはハードルが高く、この地域でも受け取っていない人は多いという。

受給者が本当に困っているのか。生活保護が **A** を財源とする以上、問わざるをえない原則だ。受給者は所得や資産を厳しくチェックされる。働けるなら賃金労働に就くことが求められ、行政にとってボランティアは「ぜいたく」だ。

ボランティアも労働ととらえるリビングストーンさんは「生活保護は懲罰的だ」と言う。生活保護は屈辱感や不当な差別と結びつきやすいとも感じる。友人の運動家とともに、生活保護の代替案として実施を求めてきたのが「ベーシックインカム(BI)」だ。

政府が、国民に就労の状況に関わらず最低限必要なお金を支給する制度。究極的には、年金や生活保護など既存の社会保障すべてを置き換えるものだ。発想は古くからあったが、格差の拡大を背景に世界的に注目されはじめた。カナダでも、オンタリオ州でBI導入実験が検討されている。

単なる **B** と批判もあるが、カナダでBIを求めてきた活動家ライナーさんは、「BIがあることで人々はリスクを恐れず、創造性に富む起業が増える」と話す。

(朝日新聞 平成28年8月22日より作成)

先生：資料は、「ベーシックインカム(BI)」の考え方を示しています。この問題については、授業でも取り上げましたね。皆さんは、このBIという考え方をどう思いますか。

しんご：私は、BIに可能性を感じました。現在の世界はグローバル化が進み、市場は拡大していますが、多くの力がない人々は際限ない競争で疲弊しています。非正規雇用など問題は山積みです。また、保護を受けることが懲罰的に感じる制度は改善すべきです。従来型の福祉は、働ける者は働けの考え方が前提となり、貧困者に絞って給付することで、受給者の自尊心を傷つけやすく、差別につながるのではないのでしょうか。従来型の福祉では解決できないところにきていると思います。

ようこ：私は、従来型の福祉に限界がきているという点には同感ですが、その解決策として **C** であるBIには賛成できません。結局は、資料中でも触れているように野放図な支出増で単なる **B** になる可能性が高いと思います。**D** に転換していくべきです。

しんご：財源の問題については、現在の社会保障の整理で原資となるお金をねん出できるそうです。また、「BIがあることで人々はリスクを恐れず、創造性に富む起業が増える」とあるようにBIには、**D** につながる可能性もあると思います。

ようこ：私は、やはり反対です。スイスではBI導入の国民投票の結果、賛成は23%にとどまり、否決されたと聞きました。導入した場合、移民の増加が予想され、支出が際限なく増える可能性があるからだそうです。結局は、政府に頼る意識を助長させることにならないのでしょうか。

先生：意見が分かれていますね。もう少しいろいろと調べていきましょう。

ア 寄付

イ 税

ウ リストラ

エ バラマキ

オ 国民が自分の力で生きていく自助努力を促す福祉

カ 国民の最低限度の生活を保障する政府主導の福祉

	A	B	C	D
①	ア	ウ	オ	カ
②	ア	ウ	カ	オ
③	イ	エ	カ	オ
④	イ	エ	オ	カ

【選択問題 1】

- 6 次の生徒のレポート「映画から考える日本の政治」を読み、レポート中の **A** , **B** , **C** にあてはまるものの組合せとして適切なものを、次のページの①～④のうちから一つ選べ。解答番号は **23** 。

レポート

「映画で考える日本の政治」のレポートのテーマとして、私は、地域活性化を題材とした「人生、いろどり」を選びました。この映画は、人口が減少する過疎地である徳島県上勝町^{かみかつ}で行われた「葉っぱビジネス」についてのものです。この映画の主人公である農協職員のモデルとなったのは、上勝町など地方自治体と **A** が出資する第3セクター方式で法人化された株式会社「いろどり」の横石知二社長です。葉っぱや花などを料理のつまもの(料理を引き立てるために添えられる葉っぱや枝花など)として出荷する「^{いろどり}彩事業」^{おこ}を興し、地域を活性化させた人物です。



(©2012「人生、いろどり」政策委員会より)

葉っぱをつまものという商品にする仕組みづくり^{おこ}に知恵が絞られ、つまもの^{いろどり}の生産技術や注文情報、市況などの共有化を図る情報ネットワークシステムづくりに力が入れました。町の防災無線を活用した農家へのファックスでの注文の一齐送信から始まり、現在はタブレット端末で出荷情報、各農家の売上高や売上順位なども情報提供しています。こうした一連の努力が実を結び、「彩事業」の売上高は伸びていき、株式会社「いろどり」が設立されたのです。現在、売上高は2億円を超え、生産農家は200軒近くになり、たった4軒の農家だった「彩事業」は、上勝町の主力産業にまで成長しています。しかも、その主な担い手は高齢の女性たちであり、生き生きと働くその姿が全国発信され、「彩事業」のみならず上勝町もブランド化していきました。高齢者が生き生きと生活する上勝町に魅かれ、Iターン移住する人も増えています。最近、そうした移住者による起業が相次いでおり、上勝町は新たな展開を見せ始めています。大きなきっかけとなったのが、体験就労を行う内閣府による地域密着型 **B** 研修事業です。これは地域ビジネスの人材育成を目的としており、全国各地から研修生が上勝町に集まり、「彩事業」などを学びました。農家にとっても有意義な事業となりました。若い人に農作業などを教え

ることで高齢者が元気になったのです。「彩事業」も30年近くになり、後継者育成が急務でしたが、研修生の中から町に移住して「彩農家」となる人まで現れています。また、研修終了後の定住希望が続出しています。その多くが地域ビジネスの起業を希望しています。上勝町は **B** 終了後、町単独で同様の事業を継続させ、「いろどり **B** 」と名付けられています。

さらに、上勝町は「上勝町ごみゼロ宣言」を出し、ごみの資源化(リサイクル)に取り組んだり、商品を量り売りする「上勝百貨店」の経営や古民家を活用したシェアカフェなどの起業ラッシュが起きたりしています。その多くが、町外から移住してきた若者たちが担い手となっています。おばあちゃんの町として知られる上勝町が、再度大化けするかもしれません。

私は、映画をスタートとして上勝町について調べ、厳しい話ばかり聞いていた日本の過疎地域の未来像が描けて、とてもわくわくしました。上勝町の事例は、地域がその地域独特の特色を生かしながら地域の活性化を果たしていくモデルケースになると思います。上勝町の事例に触れることで、これからの地域社会において必要なことは、 **C** 開発であることが実感できました。

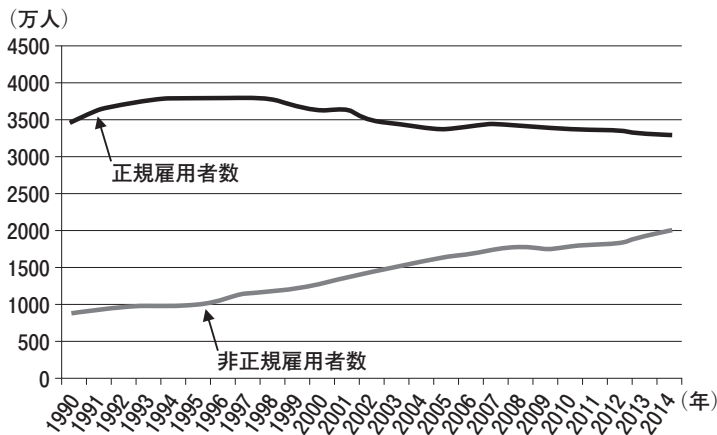
- | | A | B | C |
|---|----|----------|---------------------|
| ① | 民間 | インターンシップ | その地域既存の資源を利用した持続可能な |
| ② | 国家 | インターンシップ | たくさんの資金を投じた大規模な |
| ③ | 民間 | ハローワーク | たくさんの資金を投じた大規模な |
| ④ | 国家 | ハローワーク | その地域既存の資源を利用した持続可能な |

【選択問題 1】

7 次の資料1，資料2，資料3は，ある高校で行われた働き方に関する政策をテーマとした模擬投票において使用されたものである。二つの架空の政党の主張にある **A**，**B**，**C** にあてはまるものの組合せとして適切なものを，次のページの①～④のうちから一つ選べ。解答番号は **23**。

資料1

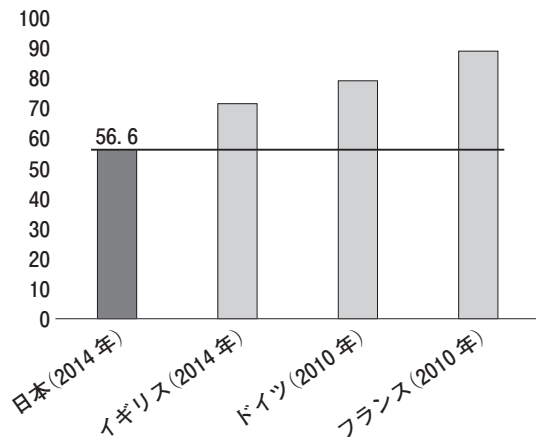
正規・非正規雇用者数(実数)



(総務省統計局ホームページにより作成)

資料2

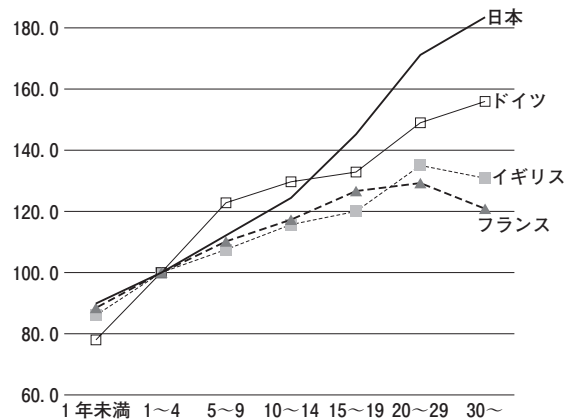
各国のフルタイム労働者の賃金を100とした時のパートタイム労働者の賃金水準



注：時間当たり賃金(日・英は残業代除く。独・仏は残業代を含む)

資料3

製造業の勤続年数別賃金格差 (2015年)



注：日本以外は勤続1～5年＝100 日本のみ勤続1～4年＝100

(資料2，資料3ともに日本経済団体連合会『同一労働同一賃金の実現に向けて』により作成)

X党

わが党のスローガンは、「正規雇用を守れ！」であり、「同一労働同一賃金」の実現には反対である。

日本は伝統的な雇用慣行として終身雇用制、年功序列型賃金制を採用してきた。しかしながら、**A**にあるように、非正規雇用の割合が徐々に増え、この体制は崩れつつある。安定した雇用と働いた年数に応じて給料が上がっていくシステムは労働者に安心感を与えてきたと考える。今後「同一労働同一賃金」が始まると、非正規雇用の賃金を上げるために正規雇用の賃金が引き下げられたり、昇給が見送られたりする可能性が高い。また、「同一労働同一賃金」で正規雇用を非正規雇用に転換する企業が増えることが予想され、非正規雇用の割合もさらに進むと考えられる。

私たちは、「同一労働同一賃金」の実現が、日本の伝統的な雇用慣行をさらに破壊することにつながると考える。日本型雇用慣行をできる限り維持していき、正規雇用の割合を増やしていくことこそ、労働格差の問題の解決につながると考えている。

Y党

わが党のスローガンは、「働き方改革！」であり、そのために「同一労働同一賃金」の実現を推進していきたい。

現在の日本では、**B**にあるように、他国と比べて正規雇用と非正規雇用の賃金の格差が大きい。ヨーロッパ各国では、「職務内容が同一または同等の労働者には、同一の賃金を支払う」ことを原則としており、日本でもこの制度を導入していきたいと考える。現在は仕事の内容が同じであるにも関わらず、もらえる賃金が大きく違う現状があるが、これは是正されていくべきものである。また、日本は、男性と比べて女性の方が勤続年数が短く、非正規雇用者に占める女性の割合が高い。**C**にあるように、勤続年数が短いと給料が抑えられる傾向があり、女性は男性に比べて賃金が低くなってしまふことが推測される。労働における男女差別の解消においても「同一労働同一賃金」は大きな役割を果たすと考えている。

私たちは、非正規雇用の問題、雇用における男女差別の問題の解消のために「同一労働同一賃金」の実現を主張する。

A**B****C**

- | | | |
|--------|------|------|
| ① 資料 1 | 資料 2 | 資料 3 |
| ② 資料 2 | 資料 3 | 資料 1 |
| ③ 資料 3 | 資料 1 | 資料 2 |
| ④ 資料 1 | 資料 3 | 資料 2 |

【選択問題 1】

- 8 次の資料に関して、生徒がレポートにまとめて班で発表した。発表に対して、班の中で、次のページの意見ア，意見イ，意見ウ，意見エがでた。レポートと同じ立場の意見の組合せとして適切なものを、次のページの①～④のうちから一つ選べ。解答番号は **23**。

資料

下請かけこみ寺

中小企業の取引上の悩み相談を相談員や弁護士が受け付けます。

相談無料・秘密厳守・匿名可能

中小企業庁委託事業
経済産業省 中小企業庁

(中小企業庁ホームページにより作成)

レポート

中小企業の立場から調べてみると、「取引先が契約どおり代金を支払ってくれない。」「原材料が下がっているはずだとして一方的に単価を下げられた。」「売り上げ不振を理由に、部品の引き取りを断られた。」など困ったことを相談する「下請かけこみ寺」があることを知りました。中小企業は、取引上、やはり弱い立場におかれていると思います。中小企業の自助努力にまかせずに、中小企業を守るための政策を行い、積極的に国は保護をしていくべきです。

みなさんは、中小企業に対する政策についてどう考えますか。

意見ア

中小企業は、独自の技術を活用し、日本経済をけん引していく十分な力があるから、自由に経済活動ができるようにすべきだよ。

意見イ

中小企業は地域と一体となって活動できるから、きめ細やかなサービスを提供できる特徴を生かせるように規制を撤廃すべきだね。

意見ウ

中小企業の資本は、脆弱^{ぜいじゃく}なため、代金支払いが遅れることで経営が困難になることもあるから、政府による資本援助の仕組みが必要だよ。

意見エ

中小企業の部品の価格は、原料の高騰でもなかなか引き上げることが難しいこともあるから、大企業との関係を調整する機関を国が設置すべきだよ。

- ① 意見アと意見イ
- ② 意見アと意見ウ
- ③ 意見イと意見エ
- ④ 意見ウと意見エ

【選択問題 1】

- 9 次の資料1と資料2に関して、生徒が会話している。資料1と次のページの会話文中の **A** , **B** , **C** にあてはまるものの組合せとして適切なものを、次のページの①～④のうちから一つ選べ。解答番号は **23** 。

資料1

(食料自給率に関する新聞記事)

資料2



(農林水産省ホームページより作成)

X：昨日ラーメンを食べてきたんだ。

Y：ええ，いいね。何ラーメン。

X：博多ラーメン。とんこつで美味しかった。そういえば，その店の新聞で，資料1を見つけたんだ。

Y：何が気になったの。

X：今の日本にとっては，**A**は重要な課題だよ。そのお店の人が資料2の小麦についても教えてくれたんだ。

Y：どんな小麦。

X：そこのラーメンの小麦は，輸入小麦に負けないように，ラーメンに合う小麦を地元の農家と協力して開発して使用しているんだって。

Y：なんで，そんなことをするの。今までだって輸入した小麦で美味しいラーメンを食べてきたのだから，輸入小麦の方が安いし，輸入小麦でいいんじゃない。

X：いや，このままだと**C**の農作物が減少してしまうよ。もし輸入がストップしたら大好きなラーメンも食べられなくなるかもしれないよ。だから，**C**の小麦を使用した方がいいよ。

Y：そうかな。僕は，今のままでも安定した供給をできているのだから，輸入小麦でいいと思うよ。

A

B

C

- | | | |
|---------|----|----|
| ① 食料自給率 | 国内 | 海外 |
| ② 食料自給率 | 海外 | 国内 |
| ③ 作付面積率 | 海外 | 国内 |
| ④ 作付面積率 | 国内 | 海外 |

【選択問題2】

10 次の資料中の **A** , **B** , **C** にあてはまるものの組合せとして適切なものを、
下の①～④のうちから一つ選べ。解答番号は **24** 。

資料

(COPIに関する新聞記事)

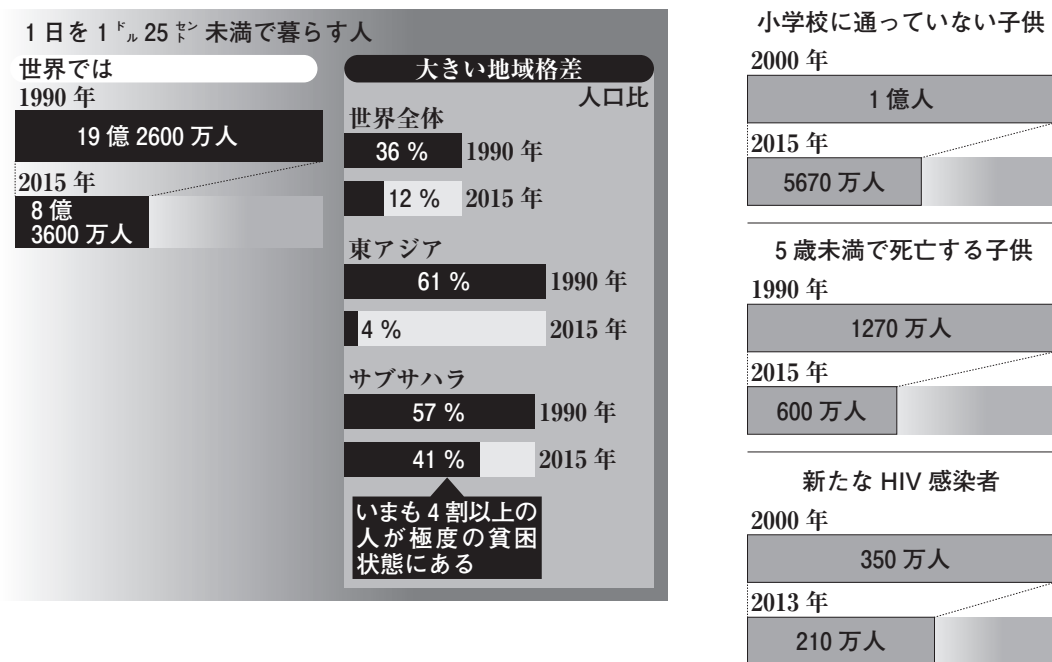
	A	B	C
①	リオ宣言	先進国	途上国
②	リオ宣言	途上国	先進国
③	パリ協定	途上国	先進国
④	パリ協定	先進国	途上国

【選択問題 2】

11 次の資料1，資料2と次のページの会話文を読んで，会話文中の **A** ， **B** ， **C** にあてはまるものの組合せとして適切なものを，次のページの①～④のうちから一つ選べ。
 解答番号は **24** 。

資料1

主な開発の成果



資料2

世界の成長から取り残されたサブサハラ。中でも，人口200万人の小国レソトの貧困は深刻だ。成人人口(15～49歳)のHIVの感染率(約23%)や，5歳未満の幼児死亡率(約10%)は世界最悪の水準にある。(中略)産業が乏しいレソト。1日1ドル25セント未満で暮らす人が人口の約5割を占める。特に農村部の貧困は深刻だ。トムロコシ栽培が主産業のハレブル村では，1か月の世帯収入が600～2,000円ほどで電気も水道もない。井戸水に頼る暮らしだ。(中略)エイズによる孤児の問題も深刻だ。レスル区長によると，学校に通う児童の大半が，片親か両親をエイズで亡くしている。マタペロさんは，母をエイズで亡くした。父もエイズで他界。今は祖母や妹と暮らす。母の死後，水くみや調理など家事の手伝いが増えた。

(資料1，資料2ともに朝日新聞 平成27年7月8日より作成)

朝日新聞社に無断で転載することを禁じる
 承諾番号：19-3149

先 生：みなさん、ミレニアム開発目標(MDGs)は知っていますか。

高橋さん：開発分野における国際社会の共通目標でしたよね。2000年の国連サミットで採択された「国連ミレニアム宣言」に基づいて決められたもので、貧困の撲滅や初等教育の完全普及など8つの分野で具体的な目標と指標を定めたものです。その期限が2015年までで、7月には報告書が出されました。

松友さん：私も読みました。そして今回の報告書を読んで、先進国は無償資金提供などの贈与中心の経済援助を改めるべきだと感じました。 **A** を中心とした考え方を進めることが、真の国際援助のあるべき姿だと思います。

先 生：松友さん、それはどうしてですか。

松友さん：私は高校に入り、発展途上国の間でも経済発展に成功した国と、貧困や飢餓に苦しむ国との格差が表面化した **B** 問題にずっと興味があり、解決策を考えてきました。**資料1**を見てください。1日の生活費が1ドル25セント未満の極度の貧困状態にある人口は、世界全体の36%から12%に減少して、大きく成果をあげています。贈与中心の経済援助から脱し、発展途上国の人々が自分たちの手で成長していくことを支援する時期にさしかかっていると思います。

高橋さん：私はそうは思いません。世界には、まだまだ自らの手で成長していくほどの力がない国がたくさんあります。**資料2**を見てください。レソトという国では、1日の生活費が1ドル25セント未満で暮らす人が、計算すると **C** 万人もいることとなります。これは世界最悪の水準にあり、自分たちの手で成長していくことは不可能に近いのです。ですから **A** を中心とした考え方を進めるのではなく、無償資金提供などを行うべきです。

先 生：国連事務総長はミレニアム開発目標を「極度の貧困をあと一世代でこの世からなくせるところまで来た」と成果を強調し、一方で地域や男女差での偏りを認め「あまりにも多くの人々が置き去りにされている」とも指摘しました。そして国連では、ミレニアム開発目標の後継として2030年までの新たな目標になる持続可能な開発目標(SDGs)を採択しました。

	A	B	C
①	自立	南北	200
②	自立	南南	100
③	援助	南北	100
④	援助	南南	200

【選択問題 2】

- 12 次の資料と次のページの会話文を読んで、資料と会話文中の **A** , **B** , **C** にあてはまるものの組合せとして適切なものを、次のページの①～④のうちから一つ選べ。
解答番号は **24** 。

資料

バルカン半島や黒海周辺など、欧州の「境界」にあたる地域のバランスパワーは、冷戦終結後に大きく変化しました。そうした中でこの地域の古い姿が再び現れてきたと思います。欧州、オスマン帝国、ロシアという伝統的な枠組みがよみがえってきたのです。冷戦時代、ソ連の影響下にある欧州の社会主義国を「東欧」という概念で一くくりにしてしまいました。ソ連が崩壊し、冷戦構造がなくなると、ポーランドやハンガリーなどと、旧オスマン帝国領だったバルカン諸国はやはり違うということがはっきりしました。「東欧」は消えてしまったのです。

ギリシアを始め、オスマン帝国に支配されていた地域では、民族という概念が希薄でした。カトリック、正教徒、イスラム教徒と宗教で区別していた。18世紀後半に西欧諸国から「民族を単位とする国民国家」という考え方が持ち込まれ、19世紀になると、正教徒としてまとめられていた人たちが、「民族」を掲げて、オスマン帝国の支配から自立しようとした。とはいえ、すんなりと国民国家へ移行したわけではありません。オスマン帝国領は、多様な人々が交ざり合って暮らしていました。そこへ国民国家システムを持ち込んでも無理がある。帝国とは多様な人々をゆるやかに統合する存在ですから、「東欧」のオーストリア・ハンガリー帝国領でも、状況は似たようなものでした。オスマン帝国崩壊後の1923年、トルコとギリシアは「住民交換」をやります。トルコのアナトリアなどに住んでいたギリシア系の正教徒と、ギリシア領内のトルコ系イスラム教徒を入れ替えた。そこまでやらないと国民国家になれなかったんです。現在のバルカンでも民族と国民が一致している国はほとんどない。どうやっても少数民族を抱え込むことになる。(中略)

今後、旧ユーゴ諸国もEU加盟を目指すでしょうが、民族問題は残り続ける。ただ、バルカンの国々が、西欧的な制度や考え方と相いれないわけではありません。ブルガリアとルーマニアは2007年にEUに入ったけれど、今のところ大きな問題は生じていない。文化や伝統、そして歴史的背景は異なっても、**A** は可能です。

冷戦という例外的な時代が終わって、それ以前の歴史と現在がつながりました。もちろん、19世紀のままではなく、今の黒海周辺やバルカンは、米国という大きな要素抜きには考えられない。それでも、ところどころに19世紀からの連続性が垣間見えます。21世紀に新たに生じた要素と、19世紀までの伝統的構造の両方を一緒に考えることで、初めて「欧州の境界」の全体像が見えてくると思います。

桐生さん：「欧州の境界」についての資料を見つけたよ。

山縣さん：そもそもバルカン半島や黒海周辺には伝統的な枠組みがあって、冷戦構造がむしろ異なっていたという考えはとても興味深いね。

桐生さん：ギリシアやオスマン帝国あたりでは、もともと民族という概念が希薄だったと書いてあるね。ということは民族単位で分離・独立することは間違っているのかな。

山縣さん：たしかに今でも民族と国民が一致している国はほとんどないからね。けれど、世界を見渡すとチェチェン紛争やユーゴスラビア紛争など民族同士が争う悲しい事件は多く見られるし、民族ごとで分離・独立することを求めてもいいのではないかな。

桐生さん：「サラダボウル」と形容されるアメリカのように、いろいろな問題も出てきているけれども **B** 国もあるよ。だから民族の **A** は、できないことではないと思うな。

山縣さん：冷戦構造が終わり混とんとしている今だからこそ、アメリカ大統領が「十四か条の平和原則」で提唱した **C** の考え方を僕は尊重すべきだと思うな。少数民族は歴史的に見ても、弾圧され続けてきたのだから。

桐生さん：たしかに民族問題が解決することは難しいかもしれないね。けれど、僕は資料に書いてあるように、文化や伝統、そして歴史的背景は異なっても、 **A** することは可能だと信じたいな。

	A	B	C
①	協調	多数の異なった民族が共存している	民族自決
②	独立	多数の異なった民族が共存している	民族自決
③	協調	一つの民族のみで構成されている	多文化
④	独立	一つの民族のみで構成されている	多文化

【選択問題 2】

- 13 次のレポートを読んで、レポートと同じ立場のカードとして適切なものを、次のページの①～④のうちから一つ選べ。解答番号は 24。

レポート

国際環境の変化が激しい現在、国際社会における日本の役割のあり方はどうあるべきなのか、私が今一番関心を持っていることである。

先日、ベトナムにて日本政府と企業が連携して「国益」を追求しているという新聞記事を見た。その記事によると、ベトナムの農協で活躍しているのは、日本の機材メーカーの精米プラントで、もみすりから乾燥、精米、そして袋詰めまでできるという。これまで使われてきた精米設備は性能が悪く、米農家は、もみを収穫しても精米設備が足りないため、多くを白米にできなかった。そのままにすれば腐ってしまうため、結果、買い付け業者に足元を見られ、もみを買いたたかれてきた。それが日本の機材メーカーが、長くて細い米が折れないように精米できる機器を開発したことで、農家の人たちは自分たちで白米にし、高く売ることが出来るようになったと記事には書かれている。ベトナムの精米プラントは国際協力機構(JICA)が政府開発援助(ODA)で機材メーカーから買って設置、機器の代金や人件費などは計約1億円にのぼるそうである。

日本政府は2012年度から、ODAで中小企業の海外展開を本格的に支援しており、発展途上国に流れ込む日本の民間資金はODAの約4倍の451億ドルになっている。政府はこのお金の流れをもっと太くし、発展途上国のためだけでなく日本企業にも収益をあげてもらおうと思っているらしい。今回のケースは、農協の精米プラントが順調に稼働すれば、農家の所得が増え、企業も他の農協や精米業者に精米機を売りやすくなる、という算段だという。

今回調べてみて、一番印象に残ったことは、「発展途上国のためだけでなく日本企業にも収益をあげてもらおう」という点である。先進国となった日本は、発展途上国の支援をもっと積極的に行い、人類全体の幸福をはかる取組を今以上に行っていく義務がある。さらに国内の経済成長率が昔のようにプラス一辺倒ではない現在、人類全体の幸福をはかるだけでなく、企業などを含め、支援している日本全体にもプラスになるような支援のあり方が望ましいと考える。

カードA

発展途上国には、経済成長の礎となるインフラ整備が最優先です。インフラ整備が進めば、発展途上国も、現地に進出している日本企業にもプラスになります。ですから、企業の海外進出を支援するためにODAを利用すべきです。

カードB

先進国や国際機関は、食料や安全な水、医療や教育といった人間の安全保障が満たされていない発展途上国の国民へ直接行きわたるようにすることが大事です。ODAによって、日本企業が利益をあげるべきではありません。

カードC

そもそもODAは国民が納めた税金が財源になっています。発展途上国のためではなく、国内の社会保障やインフラ整備、または企業への補助金など自国のために使うべきです。

カードD

日本は90%以上が中小企業であり、その中小企業の高い技術によって経済が成り立っています。その高い技術は日本の発展のためだけに使われるべきで、海外に流出してしまうようなことは絶対にしてはいけません。

- ① カードA
- ② カードB
- ③ カードC
- ④ カードD

政治・経済

注意事項

- 1 【共通問題】 から は、必ず解答すること。
解答番号は から 。
- 2 【選択問題1】 から までの5題から1題を選んで、解答する問題番号を記入及びマークした上で、解答欄に解答すること。
解答番号は 。
- 2題以上解答した場合は採点できないので注意すること。
- 3 【選択問題2】 から までの4題から1題を選んで、解答する問題番号を記入及びマークした上で、解答欄に解答すること。
解答番号は 。
- 2題以上解答した場合は採点できないので注意すること。