

平成30年度 日本史A・日本史B (50分)

注 意 事 項

- 1 試験開始の合図があるまで、この問題冊子の中を見てはいけない。
- 2 出題科目、ページ及び選択方法は、下表のとおりである。

出題科目	ページ	選 択 方 法
日本史A	1～30	左の2科目のうちから1科目を選択し、解答しなさい。
日本史B	31～60	

- 3 試験中に問題冊子の印刷不鮮明、ページの落丁・乱丁及び汚れ等に気付いた場合は、手を挙げて監督者に知らせること。
- 4 試験開始の合図前に、監督者の指示に従って、解答用紙の該当欄に以下の内容をそれぞれ正しく記入し、マークすること。

・①氏名欄

氏名を記入すること。

・②受験番号、③生年月日、④受験地欄

受験番号、生年月日を記入し、さらにマーク欄に受験番号(数字)、生年月日(年号・数字)、受験地をマークすること。

・⑤解答科目欄

解答する科目名を○で囲み、さらにその下のマーク欄にマークすること。

- 5 受験番号、生年月日、受験地が正しくマークされていない場合は、採点できないことがある。
- 6 解答科目が正しくマークされていない場合は採点できないので、必ず正しくマークすること。
- 7 解答は、解答用紙の解答欄にマークすること。例えば、解答番号が 10 である問いに対して②と解答する場合は、次の(例)のように解答番号10の解答欄の②にマークすること。

(例)

解答番号	解 答 欄			
10	①	②	③	④

- 8 問題冊子の余白等は適宜利用してよいが、どのページも切り離してはいけない。
- 9 試験終了後、問題冊子は持ち帰ってよい。

日 本 史 A

(解答番号 ~)

1 次の資料Ⅰ・Ⅱをみて、明治初期の日本社会や文化に関する各問いに答えよ。

資料Ⅰ 「江戸時代の江の島」



資料Ⅱ 「明治時代の江の島」



問 1 資料Ⅰと資料Ⅱを比較した次の説明文の空欄 **A** **B** に当てはまる語句の組合せとして正しいものを、下の①～④のうちから一つ選べ。解答番号は **1**。

政府は、明治時代初期に神仏分離令を発し **A** を禁止した。この令により、資料Ⅰにあった **B** が取り壊され、資料Ⅱでは描かれていないことが分かる。

- ① A—修験道 B—鳥居 ② A—修験道 B—三重塔
③ A—神仏習合 B—鳥居 ④ A—神仏習合 B—三重塔

問 2 資料Ⅱは、明治時代の西洋画家、高橋由一の作品である。次の①～④のうちから、高橋由一の作品を一つ選べ。解答番号は 。

①



②



③



④



(東京書籍「ビジュアルワイド図説日本史」より)

2 次の資料(意識してある)をみて、後にある各問いに答えよ。

資料



(岩波書店「ビゴー『トバエ』全素描集」より)

「岩倉使節団で会見後、私、伊藤博文は、^(a) ビスマルク様の考える国づくりに共鳴し、日本においてもそのような国を実現したいと考え、崇拝するようになりました。あなた様の御利益^{りやく}のおかげで、病気で死ぬことも暗殺もされず、無事に正月を迎えました。御礼を兼ね鏡餅を供え、元日にお祈り致します。現在、私が率いる政府は「大同団結運動」^(b)が活発になり大変な状況です。しかし、今年も私を見捨てずお助けくださり、良い方向に導いてください。宜しく願い致します。南無妙法蓮陀仏、アーメン」

問 1 下線部分伊藤博文は、^(a) ビスマルク様の考える国づくりに共鳴し、日本においてもそのような国を実現したいと考えた。伊藤が目指した国として最も適切なものを、次の①～④のうちから一つ選べ。解答番号は 。

- ① 議会を有するが主権を持つ天皇と行政を担う政府の権限が強い国
- ② 天皇を国と国民統合の象徴とし、主権者の国民が議員を選び政治を決める国
- ③ 人民を主権者とし、一院制による議会政治、連邦制による国
- ④ 人権や自由を保護し、外国人にも日本国民と同等の権利を規定した国

問 2 下線部分^(b) 大同団結運動に関連する自由民権運動のできごとについて、次のア～ウの文を年代の古い順に正しく並べたものを、下の①～④のうちから一つ選べ。解答番号は 。

- ア 国会開設を要求する中心組織となった、国会期成同盟が結成された。
- イ 藩閥政治を批判し、国会開設を目指す民撰議院設立の建白書が提出された。
- ウ 言論の自由、地租軽減、外交失策の回復を要求する三大建白運動が展開された。

- ① ア→イ→ウ ② ア→ウ→イ ③ イ→ア→ウ ④ イ→ウ→ア

3 次の生徒のレポートを読み、後にある各問いに答えよ。

レポート

●テーマ 近代における公園の役割

「公園」は、明治になり西洋文化流入の中で日本に広まりました。そこで、東京を代表する2つの公園を取り上げ、公園の役割を考えていきたいと思います。

上野公園は、もともと寛永寺境内の一部で江戸時代、江戸庶民の花見の名所でした。この地は、戊辰戦争に関連する上野戦争の激戦地で、^(a) 一帯は荒廃しましたが、後に公園として整備されました。またこの公園では、内務省主導で する内国勸業博覧会や日清戦争祝勝会が行われました。

その後、上野公園の役割は、日比谷公園が担いました。この地は、官公庁が周辺に存在し、皇居前広場に隣接しているため、首都の都市計画にも組み込まれ、明治36(1903)年に整備されました。この地では、日露戦争に関わる祝勝会や日露戦争の講和条約に関する集^(b)会、^(c)大隈重信など政治家の国葬、内閣弾劾の国民大会などが催されました。

このように、近代に日本に流入した公園は、 を結び付ける場としての役割も担っていたことが分かりました。

問1 に当てはまる語句の組合せとして正しいものを、次の①～④のうちから一つ選べ。解答番号は 。

- ① A—国際的な学問や芸術が交流し、科学技術や経済成長の可能性を提示
B—政府と国民，国民と国民
- ② A—国際的な学問や芸術が交流し、科学技術や経済成長の可能性を提示
B—会社の株式を一族が独占的に所有した組織同士
- ③ A—国内の産業発展への寄与を目的に、機械・美術工芸品などを展示・即売
B—政府と国民，国民と国民
- ④ A—国内の産業発展への寄与を目的に、機械・美術工芸品などを展示・即売
B—会社の株式を一族が独占的に所有した組織同士

問 2 下線部分^(a)戊辰戦争の間に行われたできごととして適切でないものを、次の①～④のうちから一つ選べ。解答番号は 。

- ① 朝廷と幕府が連携し政局を安定させるため、将軍の妻に天皇の妹が迎えられた。
- ② 天皇が神々に誓う形で、新政府の方針が示された。
- ③ 天皇一代につき、一つの元号を使用し元号を変更しないことを定めた。
- ④ 民衆の守るべき心得が、新政府によって示された。

問 3 下線部分^(b)日露戦争に関連するできごとについて、次のア～ウの文を年代の古い順に正しく並べたものを、下の①～④のうちから一つ選べ。解答番号は 。

ア 日本に対し、ロシア・ドイツ・フランスが遼東半島を清に返還するよう要求した。

イ イギリスの清に対する権益と日本の清や韓国に対する権益を相互承認する同盟を調印した。

ウ 清への列強進出に対して、清国内の宗教結社や民衆が反発する事件がおこった。

- ① ア→イ→ウ ② ア→ウ→イ ③ イ→ア→ウ ④ イ→ウ→ア

問 4 下線部分^(c)日露戦争の講和条約に関する集会について描かれた資料の説明として適切なものを、下の①～④のうちから一つ選べ。解答番号は 8。

資料



(幻戯書房「帝都公園物語」より)

決議(意識してある)

外務大臣など日本全権が結んだ講和条約は、大日本帝国の勝利を無駄にしている。国の重大な事柄を間違った方向に進めている。そこで私は、外務大臣をはじめとした現在の内閣に対し、この条約を無効にするとともに、国民全員に謝罪することを要求する。

明治 38 年 9 月 5 日

日比谷公園に於ける国民大会

(「絵葉書資料館」所蔵)

- ① 日の丸やアドバルーンなどが描かれ「国民大会」と書かれていることから、講和条約を結んだ相手国に対して謝罪を要求していることが分かる。
- ② 帽子や旗を振る行為を通して、「条約無効」を訴える決議に対して参加者が賛成を示していることが分かる。
- ③ 人々が小旗を振ったり大きな流れ旗を立てていることから、「戦争勝利」を祝う集会が開かれていることが分かる。
- ④ 人々が、文章を読み上げている人に注目していることから、この人物は「現在の内閣」の一員であることが分かる。

4 次のⅠ～Ⅲについて、後にある各問いに答えよ。

Ⅰ

資料1 (意識してある)

文官大臣問題に関する経過

一 大正3年陸軍省官制改正(予後備大臣制)当時における論議

瓦解した西園寺内閣の後、山本内閣が成立したところで…大正2年3月12日犬養毅、尾崎行雄他84名は重ねて次の質問を内閣に提出した。

「現内閣は、陸海軍大臣の任用に関する制限を本議会議中に実現する意志があるか。」

これに対し、山本首相の答弁は、

「いかにも現行制度は、憲政の運用上支障がないことを保つのが難しいと言えます。つきましては、政府は、これに対して慎重に審議を行い、相応の改正を施すことを考えております。」

二 大正10年第44議会における問答

代議士鈴木梅四郎は「陸海軍大臣を文官になさるおつもりはありませんか」と質問し、これに対し総理大臣の原敬は、次のように答弁した。

「海陸軍大臣は、先年(山本内閣時)の改定によって必ずしも現役の将官でなくてもよろしいということになっております。そのような事を経ての現行の制度でありますから、今日早急にこれ以上変更する必要はないと思います。今後はどのようになりましようか、現役ではないものがすでに任に当たっていいというくらいなら、文官組織になる時代も来るかも知れませんが、今改定する考えがあるかないかという質問に答えるとすれば、今すぐに改定する意志は持っておりません。」

(高橋是清「文官大臣問題に関する経過」により作成)

問1 資料1に関する説明として適切でないものを、次の①～④のうちから一つ選べ。

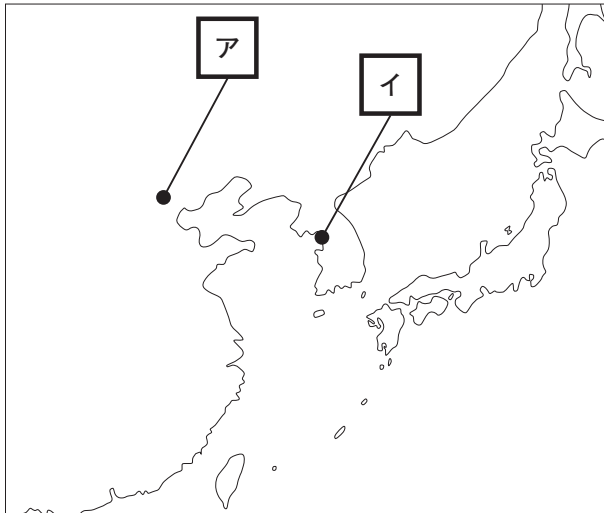
解答番号は 。

- ① 資料1中の議論の背景には、陸軍の協力をえられなかった内閣の総辞職があった。
- ② 資料1には、内閣における軍部の影響力が弱まる制度改正が行われたようすが書かれている。
- ③ 首相であった山本権兵衛は、軍部大臣任用に関する制度を改正する意向を示している。
- ④ 首相であった原敬は、軍部大臣の文官任用のなるべく早い実現を主張している。

問 2 下線部分^(a)西園寺が全権の一人として参加した第一次世界大戦の講和会議の結果、絵の運動がおこった。この運動がおこった場所と目的の組合せとして適切なものを、下の①～④のうちから一つ選べ。解答番号は 10。

(「北京大学」及び「不平等条約をとりやめろ(意識してある)」と記載されている。

場 所



目 的

- ウ ヴェルサイユ条約の内容への批判
- エ 併合条約の撤廃

① アーウ

② アーエ

③ イーウ

④ イーエ

Ⅱ

資料2 (意識してある)

A 内閣も超然内閣で、世はこれを「特権内閣」といった。しかし私(尾崎行雄)は、この内閣が目前に控えた総選挙を一党一派に偏らず、最も公平に行って、最大多数を得た党派の首領を後継首相に推薦し、辞職すれば、同じ超然主義でも立派なものだと思った。…果たして研究会(注1)の参謀の手は、政友会に伸びた。これが政友会分裂の直接原因となったのである。…内閣擁護派の分立には、徳望ある床次総務(注2)を引き出さねばならぬというので、それに成功し、一派は政友会から分離して、政友本党を立てた。…そうして、この非政府側の三派が、またも憲政擁護を唱えて**結束**^(b)し、共同作戦に出ることになった。

(注1) 当時の貴族院での最大派。この時の首相も幹部の一人であった。

(注2) 政友会の有力者である床次竹二郎のこと。

(『尾崎罌堂全集第十一卷』により作成)

資料3 (意識してある)

加藤(友三郎)内閣は我が党(政友会)の延長内閣というべきものである。…山本(権兵衛)内閣は未曾有の大地震に遭い、非常重大の場合であったから、救急の事業に協賛して少しずつ憲政の常道を正すつもりで、二者ともに一時的に政権を任せただのであるが、今度三度目の超然内閣を見るに至ってもはやこれを容認することはできない。…今もしこれを正さず憲政の逆転を許してしまえば、今後はこれを正す機会はなく、憲政破損の大責任は我が党を挙げて負わざるをえず、このことは実に我々の我慢できないところである。…

A 内閣の組織は特権階級の団体たる研究会が主としてこれを担当してできあがった内閣で、反対の各派を網羅して組織したいわゆる貴族院内閣である。

(『立憲政友会史 補訂版 第五卷』により作成)

- 問 3 資料 2 中の下線部分^(b)結(束)した背景について述べた下の文章の に当てはまる語句の組合せとして最も適切なものを、資料 2 と表 1 を参考に、下の①～④のうちから一つ選べ。解答番号は 。

表 1 政友会分裂前後の衆議院議席数(総数 464)

分裂前		→ 分裂後	
立憲政友会	278	政友本党	149
憲政会	103	立憲政友会	129
革新倶楽部	43	憲政会	103
その他	37	革新倶楽部	43
欠 員	3	その他	37
		欠 員	3

総選挙を前にして、 内閣支持に回った政友本党を ために結(束)をした。

- ① A—清浦奎吾 B—党内分裂させる ② A—清浦奎吾 B—議席数で上回る
 ③ A—斎藤実 B—党内分裂させる ④ A—斎藤実 B—議席数で上回る

- 問 4 資料 2・資料 3 から読み取れることとして適切でないものを、次の①～④のうちから一つ選べ。解答番号は 。

- ① 資料 2 の筆者は、護憲三派連立内閣成立のいきさつについて、述べている。
 ② 資料 2 の筆者は、 内閣に選挙を公平に実施することを期待している。
 ③ 双方の資料の筆者は、同じ政党に所属していることが分かる。
 ④ 双方の資料の筆者の 内閣に対する評価は、同じではないことが分かる。

Ⅲ

表2 産業別資本金額の推移

(単位：万円)

	資本金総額	工業	農業	商業	水陸運輸業
1885年(明治18年)	5,066	777	145	1,585	2,558
1886年(明治19年)	5,049	1,473	105	994	2,477
1887年(明治20年)	6,786	2,001	292	1,924	2,568
1888年(明治21年)	11,767	3,903	396	2,141	5,127
1889年(明治22年)	18,362	7,020	812	3,594	6,986
1890年(明治23年)	22,548	7,752	823	3,608	10,363

〔『日本帝国統計年鑑』により作成〕

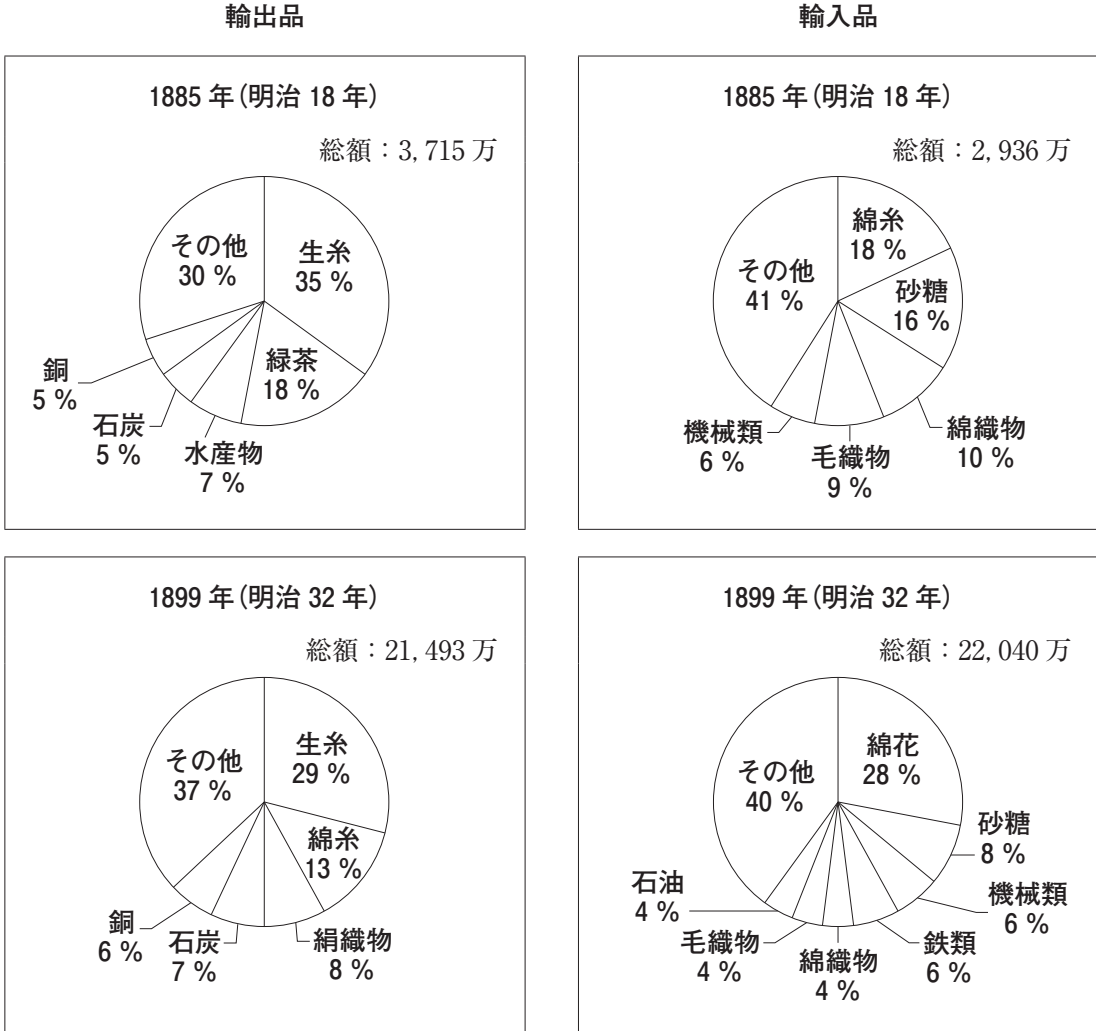
問5 表2について説明した次の文章の に当てはまる語句の組合せとして最も適切なものを、下の①～④のうちから一つ選べ。解答番号は 。

1885年に銀本位制が確立したことで物価が安定し、利子率が下がった。そのため、企業は資金を借りやすくなり、お金に余裕がある人は を行い、企業の資本金は大幅に増加した。表2を分野別に見ると といえる。

- | | |
|------------|------------------------|
| ① C—投資より貯金 | D—資本金の増加率が最も大きいのは商業である |
| ② C—投資より貯金 | D—工業分野のみが、資本金が増え続けている |
| ③ C—貯金より投資 | D—資本金の増加率が最も大きいのは商業である |
| ④ C—貯金より投資 | D—工業分野のみが、資本金が増え続けている |

問 6 グラフから読み取れる日本の貿易や産業の変化について誤っているものを、下の①～④のうちから一つ選べ。解答番号は 14。

グラフ



(『日本貿易精覧』などにより作成)

- ① 工業化が進んだが、機械類の輸入額は変化しなかった。
- ② 製糸業が発達し、生糸の輸出額が増えた。
- ③ 綿糸を生産する紡績業が発達したが、原材料は輸入品に頼った。
- ④ 輸出品の総額が5倍以上になった。

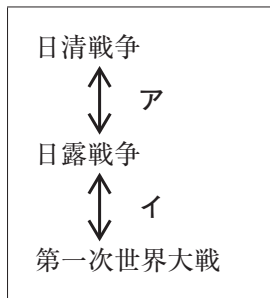
問 7 次の資料 4 はある首相の演説である。この演説に関係する法律が制定された時期及び理由の組合せとして最も適切なものを、下の①～④のうちから一つ選べ。解答番号は 15。

資料 4 (意識してある)

あたかも我が国の鉄道の国有主義は、諸君らも承知のように今始まったものではありません。…鉄道の普及は経済上軍事上一日の猶予もない急務であったのですが、当時の財政の状態がこの実行を許さなかったのです。そのために一部を民業にゆだねる政策をとったのですが、これは鉄道の速やかな整備を行うための便宜的な措置だったことは明らかです。ゆえに民間の営業を許すにあたっては、ゆくゆくは皆国有にするという条件を…

(中西健一『日本私有鉄道史研究』により作成)

時 期



理 由

- ウ 戦争がおこった時、効率よく兵や物資を運べるという軍事的理由
- エ 鉄道業の収益の独占により、国家財政が潤うという経済的理由

- ① アーウ ② アーエ ③ イーウ ④ イーエ

問 8 日本の産業革命の背景には、多くの労働者の存在があった。その労働状況を著した明治期の出版物として適切でないものを、次の①～④のうちから一つ選べ。解答番号は 16。

- ① 政教社が雑誌『日本人』にて、炭鉱の過酷な労働実態を紹介した。
- ② 農商務省が、『職工事情』を刊行した。
- ③ 横山源之助が、『日本之下層社会』を記した。
- ④ 小林多喜二が、『蟹工船』を著した。

5 次のⅠ～Ⅲについて、後にある各問いに答えよ。

Ⅰ

写真1 (国立国会図書館「http://www.ndl.go.jp/modern/img_r/K002/K002-003r.html」より)

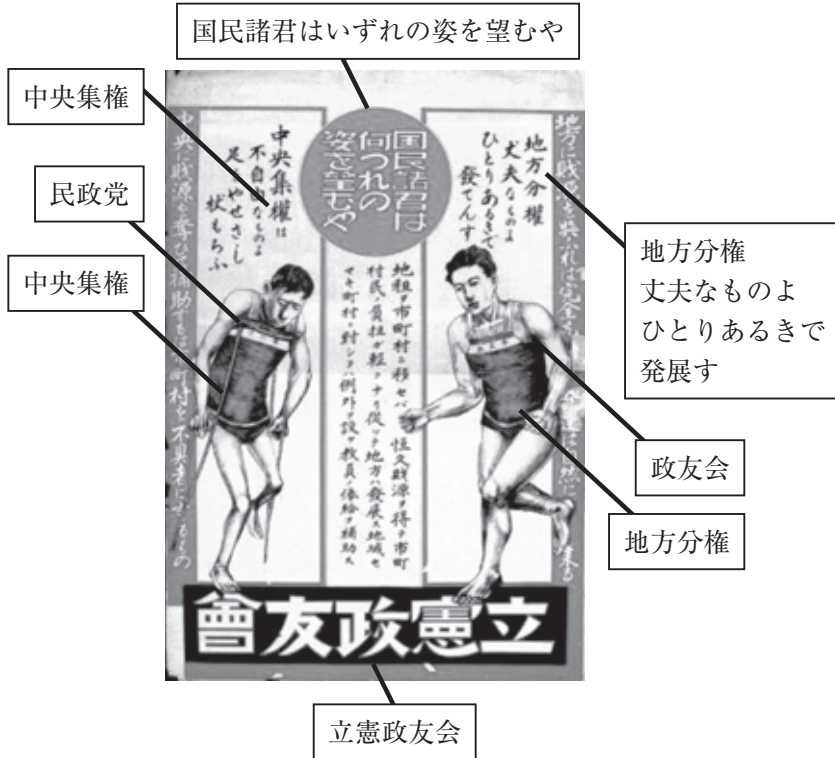


写真2 (国立国会図書館「http://www.ndl.go.jp/modern/img_r/K002/K002-002r.html」より)



問 1 写真 1 および写真 2 は、1928(昭和 3)年に行われた最初の男子普通選挙の時のポスターである。当時の政党の主張について適切なものを、次の①～④のうちから一つ選べ。

解答番号は 。

- ① 立憲政友会は、地方分権を主張している。
- ② 立憲政友会は、中央集権を主張している。
- ③ 立憲民政党は、積極的な財政政策を主張している。
- ④ 立憲民政党は、緊縮的な財政政策を批判している。

II

満州(中国東北部)への開拓移民政策は、軍部の要請であると同時に、^(a)農村の恐慌対策の一環でもあった。^(b)

満州事変を主導した関東軍参謀の石原莞爾は、当時、「満蒙問題私見」で、満州と蒙古は、政治的には国防上の拠点であり、 を統治し、中国に対して影響力を行使する根拠であり、経済的には ものになると述べている。

問 2 に当てはまる語句の組合せとして最も適切なものを、次の①～④のうちから一つ選べ。解答番号は 。

- ① A—樺 太 B—昭和恐慌下の日本を助ける
- ② A—樺 太 B—大東亜共栄圏を構成する
- ③ A—朝 鮮 B—昭和恐慌下の日本を助ける
- ④ A—朝 鮮 B—大東亜共栄圏を構成する

問 3 下線部分^(a)満州について、表 1 と表 2 から読み取れることの正誤の組合せとして適切なものを、下の①～④のうちから一つ選べ。解答番号は 19。

表 1 「満州国」の産業開発

生産量(万 t)	石 炭	鉄 鉱 石	せん てつ 鉄
1938(昭和 13)	1599	329	86
1943(昭和 18)	2600	540	173

表 2 日本人経営の企業における賃金格差

	工 場		鉱 山	
	実取賃金	日本人男性に対する比率	実取賃金	日本人男性に対する比率
日本人	3.78 円	100.0 %	3.33 円	100.0 %
朝鮮人	1.52 円	40.2 %	1.30 円	39.0 %
中国人	1.09 円	28.8 %	0.98 円	29.4 %

ア 「満州国」では、日中戦争が長期化すると、産業開発もしだいに停滞していった。


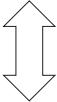
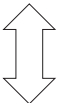

イ 日本人経営の企業内において、民族の違いによる賃金格差はみられなかった。

- ① アー正 イー正 ② アー正 イー誤
③ アー誤 イー正 ④ アー誤 イー誤

問 4 下線部分^(b)農村の恐慌について、この時期の状況として適切なものを、次の①～④のうちから一つ選べ。解答番号は 20。

- ① 都市民衆は農村への買出しや闇市での闇買い、家庭での自給生産で飢えをしのいだ。
② 政府による米の強制的買上げ制度(供出制)が実施されたが、食料難が深刻になっていった。
③ 農産物価格は下落して、農家は著しく困窮し、激しい小作争議が各地でおこった。
④ 戦争景気のアメリカ市場には生糸などを輸出し、貿易は大幅な輸出超過となった。

Ⅲ
年 表

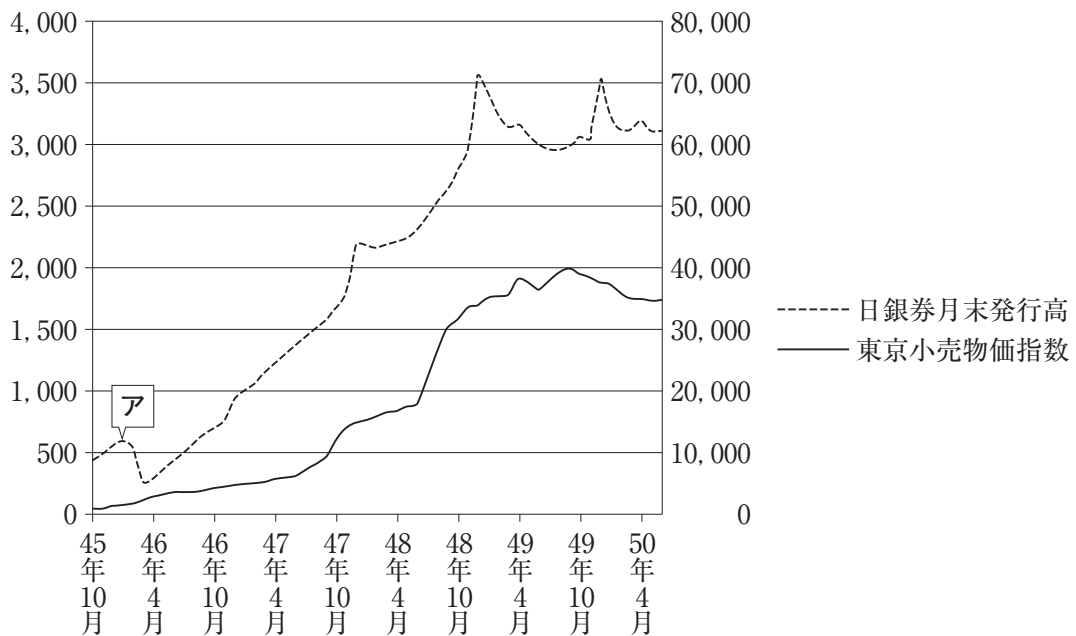
1945年	政府がポツダム宣言を受諾した。
	あ
1951年	サンフランシスコ平和条約が調印された。
1956年	『経済白書』で「もはや戦後ではない」と記された。
	い
1960年	日米新安全保障条約が調印された。
	う
1973年	第一次石油危機がおこった。
	え
2015年	選挙権年齢が満18歳以上に引き下げられた。……甲

問 5 年表中 **あ** の時期のできごとについて、**A** **B** に当てはまる語句の組合せとして正しいものを、下の①～④のうちから一つ選べ。解答番号は **21**。

幣原内閣は、**グラフのア**の時期にあたる1946(昭和21)年2月、**A** 阻止のために金融緊急措置令を出して、預金を封鎖して旧円の流通を禁止し、新円の引き出しを制限することによって貨幣流通量を **B** させようとした。**A** の抑制にある程度成果はあったものの、抑えきることはできなかった。

グラフ 日本銀行券発行高・物価水準の推移(1945年10月～1950年4月)

(左軸 = 日銀券発行高：単位 = 億円，右軸 = 東京小売物価指数：1914年7月 = 100)



- ① A—インフレーション B—増加
- ② A—インフレーション B—減少
- ③ A—デフレーション B—増加
- ④ A—デフレーション B—減少

問 6 写真 3 は年表中 う の時期の沖縄のようすである。写真から読み取れる内容の正誤の組合せとして正しいものを、下の①～④のうちから一つ選べ。解答番号は 22 。

写真 3 (「<https://www.okinawa.ccbc.co.jp/profile/history.html#htab5>」より)



ア 沖縄の日本返還を祝う横断幕が、道路に掲げられている。

イ それまでアメリカの施政権下にあったため、自動車の通行区分が日本の法令と異なっている。

① アー正 イー正

② アー正 イー誤

③ アー誤 イー正

④ アー誤 イー誤

問 7 年表中 甲 の 2015 年に公職選挙法改正により選挙権年齢が満 18 歳以上に引き下げられた。写真 4 および写真 5 は、ある時期に衆議院議員選挙法が改正された後に行われた最初の総選挙のポスターと投票所のようなものである。この選挙法改正の時期として正しいものを、下の①～④のうちから一つ選べ。解答番号は 23。

写真 4



写真 5



(写真4 公益財団法人市川房江記念会「http://www.ichikawa-fusae.or.jp/archives/example_32.html」より)

表 ※選挙法の改正順に記載してある。

選挙人数(対全人口比率)	選挙人の資格年齢	直接国税の納付額	
45万人(1.1%)	満25歳以上	15円以上	
98万人(2.2%)	満25歳以上	10円以上	… ア
307万人(5.5%)	満25歳以上	3円以上	… イ
1241万人(20.8%)	満25歳以上	制限なし	… ウ
3688万人(50.4%)	満20歳以上	制限なし	… エ

① ア

② イ

③ ウ

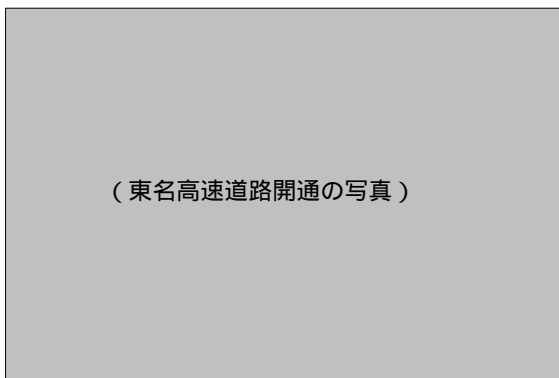
④ エ

問 8 年表中 い, う, え の時期のできごとについて, 次の写真を年代の古い順に正しく並べたものを, 下の①～④のうちから一つ選べ。解答番号は 24。

ア (毎日新聞社「<http://showa.mainichi.jp/news/1956/12/post-21ff.html>」より)



イ



ウ (時事通信社「https://www.jiji.com/jc/d4?p=was101-jlp09483406&d=d4_aa」より)



- ① ア→イ→ウ ② ア→ウ→イ ③ イ→ア→ウ ④ イ→ウ→ア

- 6 19世紀末以降にわが国が結んだ条約等(一部は意識してある)を記したカードⅠ～Ⅴ及び、東アジア及びヨーロッパについて記した地図 i・ii について、後にある各問いに答えよ。なお、カードは、年代の古い順に並べてあり、地図 i・ii の縮尺は、同一ではない。

カードⅠ

第二条 清は、次の土地の主権などを日本に割讓^{かつじょう}する。

- 一 奉天省南部の地 二 **A** 及びその付属の諸島 三 澎湖列島

カードⅡ

第4条 各締約国の主力艦の合計トン数(排水量に換算)は、アメリカ合衆国は525,000トン、イギリスは525,000トン、…日本は315,000トンを超えてはいけない。

第5条 締約国は、35,000トン(排水量に換算)を超える主力艦を取得・建造してはいけない。

第19条 アメリカ合衆国及びイギリス、日本は、次に挙げる各国の領土における要塞や海軍の拠点について、この条約を署名する時点での現状維持を約束する。

カードⅢ

第一条 ドイツ及び **B** は、日本が大東亜における新しい秩序を建設する上での指導的地位を認め、かつ尊重する。

第三条 三締約国のいずれかの一国が、現在行われている欧州戦争または日支紛争(注)に参入していない国から攻撃されたときは、三国は相互に援助することを約束する。

注：「支」は「支那」の略で、china を語源とする。当時の日本では、中国大陸(を統治する国家)を支那とよんだ。

カードⅣ

第五条 各締約国は、日本国の領域におけるいずれか一方への武力攻撃が、自国の平和及び安全を危うくするものであることを認め、自国の憲法上の規定及び手続に従って共通の危険に対処するように行動することを宣言する。

第六条 日本国の安全に寄与し、並びに極東における国際の平和及び安全の維持に寄与するため、**※** (注)は、その陸軍、空軍及び海軍が日本国において施設及び区域を使用することを許される。

注：**※** は、ある国家の名称である。

カードⅤ

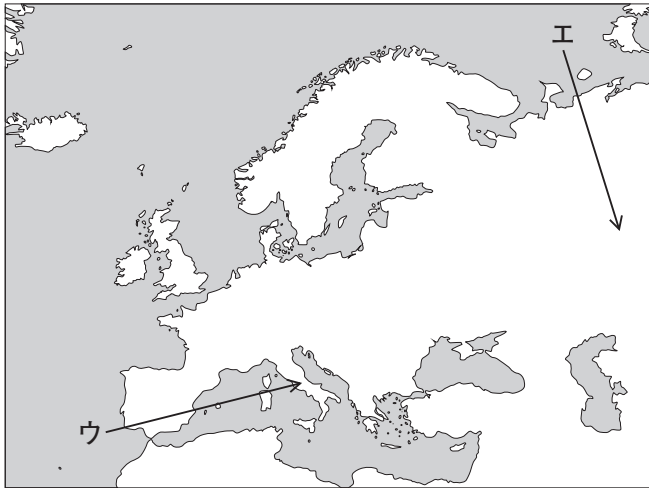
一 日本国と中華人民共和国との間のこれまでの不正常的な状態は、この共同声明が発出される日に終了する。

三 中華人民共和国政府は、**A** が中華人民共和国の領土の不可分の一部であることを重ねて表明する。日本国政府は、この中華人民共和国政府の立場を十分理解し、尊重し、ポツダム宣言第八項に基づく立場を堅持する。

地図 i



地図 ii



問 1 カードⅠ・Ⅴの空欄 **A** 及び、カードⅢの空欄 **B** に当てはまる場所の位置の組合せとして正しいものを、次の①～④のうちから一つ選べ。解答番号は **25**。

- ① A—地図 i のア B—地図 ii のウ ② A—地図 i のア B—地図 ii のエ
 ③ A—地図 i のイ B—地図 ii のウ ④ A—地図 i のイ B—地図 ii のエ

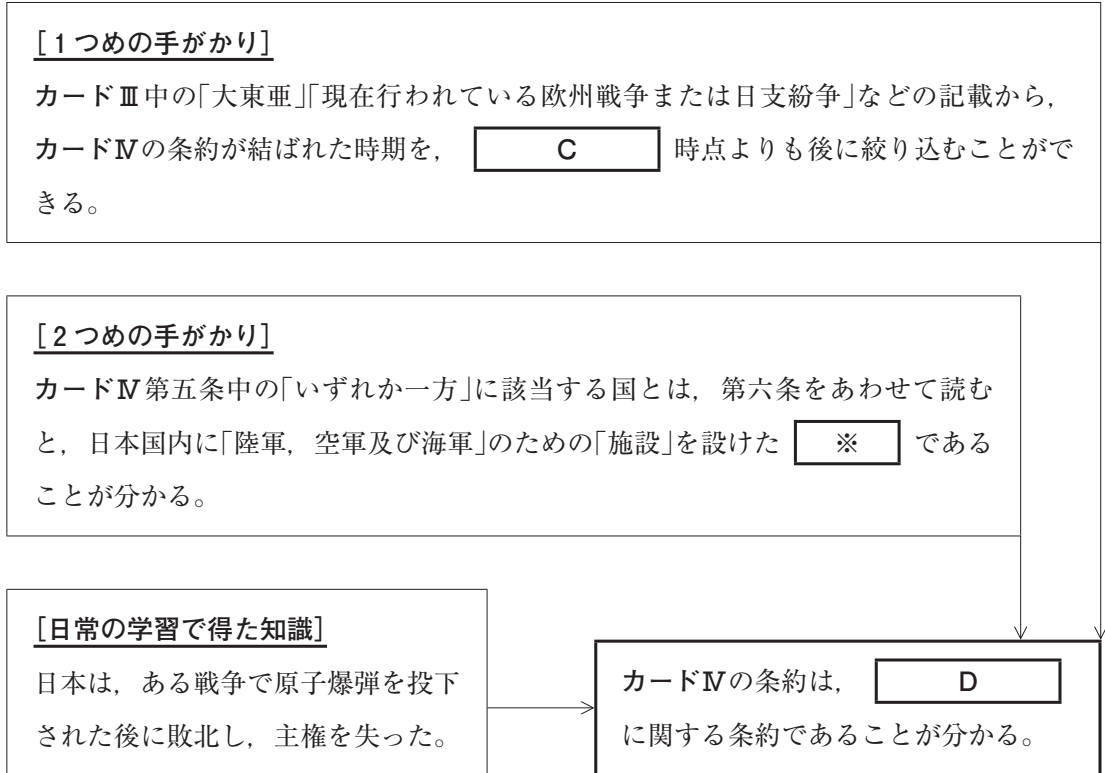
問 2 カードⅡの条文から読み取れることの組合せとして正しいものを、下の①～④のうちから一つ選べ。解答番号は **26**。

- ア この条約の趣旨は、列強の海軍軍備を制限することであった。
 イ この条約の趣旨は、列強の海軍軍備を拡張することであった。
 ウ イギリスの主力艦の保有量は、日本の6割に制限された。
 エ アメリカ合衆国は、自国の領土の一部における軍備の増強が禁止された。

- ① アーウ ② アーエ ③ イーウ ④ イーエ

問 3 次の図は、カードⅣの条文の内容を読み解くための手順について示したものである。図中の空欄 に当てはまる語句の組合せとして正しいものを、下の①～④のうちから一つ選べ。解答番号は 。

図



- ① C—日本が、中国の山東省にあるドイツの軍事基地である青島^{チンタオ}を占領した
D—アメリカ合衆国が日本の領土に設置した軍事基地
- ② C—日本が、中国の山東省にあるドイツの軍事基地である青島^{チンタオ}を占領した
D—ソヴィエト連邦が軍事行動をおこし、占領した北方領土
- ③ C—ヒトラーが指導するドイツが、イギリス・フランスに宣戦を布告した
D—アメリカ合衆国が日本の領土に設置した軍事基地
- ④ C—ヒトラーが指導するドイツが、イギリス・フランスに宣戦を布告した
D—ソヴィエト連邦が軍事行動をおこし、占領した北方領土

問 4 カードVの共同声明が発表されたことと最も関係が深いと考えられるものを、次の①～④のうちから一つ選べ。解答番号は 28。

- ① 中国大陸に関心を示すアメリカ合衆国が、門戸開放・機会均等を主張した。
- ② 北京を中心におきた民主化を要求する運動が、軍隊の力で鎮圧された。
- ③ 汪兆銘を主席とする新しい国民政府が、南京に樹立された。
- ④ アメリカ合衆国のニクソン大統領が、北京を訪問した。

(これで日本史Aの問題は終わりです。)

日 本 史 B

(解答番号 ~)

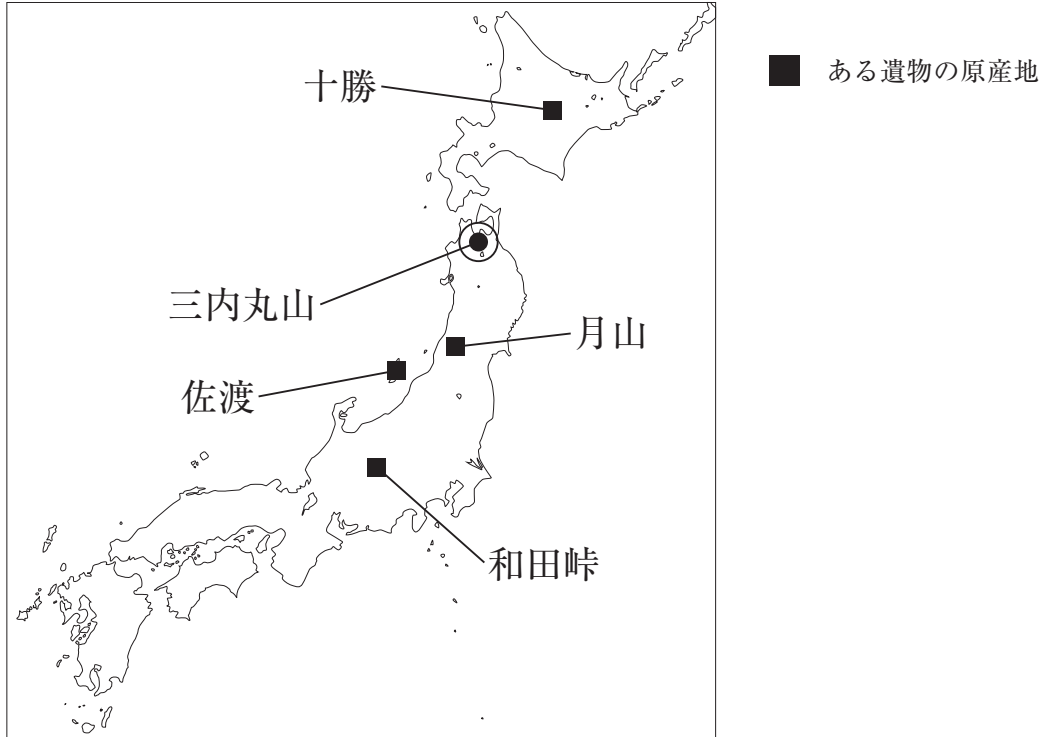
1 次の表を見て，後にある各問いに答えよ。

表

時 期	で き ご と
縄文期	(a) <u>青森県三内丸山遺跡</u> では，多くのひとが定住する
弥生期	
5 世紀	倭王が宋へ上表文を送る・・・Ⅱ
6 世紀	
7 世紀	小野妹子が国書を携行し，隋へ派遣される・・・Ⅲ 舒明天皇の命で，犬上御田鍬らが遣唐使として渡航する・・・Ⅳ
8 世紀	鑑真が入京し，孝謙天皇らに <u>戒律</u> をさずける (b)

問 1 次の図は、下線部分青森県三内丸山遺跡^(a)で発見されたある遺物の原産地を示したものである。その特徴について述べた説明文の に当てはまる語句の組合せとして正しいものを、下の①～④のうちから一つ選べ。解答番号は 。

図



説明文

青森県三内丸山遺跡で発見されたこの遺物は、 であり、その原産地を示した図からは、 ことをうかがい知ることができる。

- ① A—黒曜石 B—祭祀をめぐる一定の文化圏が形成されていた
- ② A—黒曜石 B—石器の材料として、遠方の集団との交易が行われていた
- ③ A—銅 鐸 B—祭祀をめぐる一定の文化圏が形成されていた
- ④ A—銅 鐸 B—石器の材料として、遠方の集団との交易が行われていた

問 2 外交に関する表のⅠ～Ⅳの中で、次の資料の作成に影響を与えている国として適切なものを、下の①～④のうちから一つ選べ。解答番号は 。

資 料



(文化庁「高松塚古墳 壁画 西壁 女子群像」より)

- ① Ⅰの魏 ② Ⅱの宋 ③ Ⅲの隋 ④ Ⅳの唐と高句麗

問 3 表のⅠ～Ⅲに関する次のア～ウについて、年代の古い順に正しく並べたものを、下の①～④のうちから一つ選べ。解答番号は 。

- ア 興が死んで弟の武が王位につき、自ら使持節都督倭・百済・新羅・任那・加羅・秦韓・慕韓七国諸軍事安東大將軍倭国王と称した。
- イ ヤマト政権の大王は、太陽ののぼるところの国の天子と自称し、中国と交渉を行った。
- ウ 倭の女王が大夫の難升米らを帯方郡に遣わし、天子に謁見して朝貢することを求めた。

- ① ア→イ→ウ ② ア→ウ→イ ③ ウ→ア→イ ④ ウ→イ→ア

問 4 下線部分戒律をさずけることがなぜこの時期に必要となったのか、その理由の一つとして最も適切なものを、次の①～④のうちから一つ選べ。解答番号は 。

- ① 調や庸を免れようと、国の許可を得ることなく勝手に出家する僧が多くみられたため。
- ② 実践を重視した密教と日本古来の山岳信仰が結びつき、霊山での修行を行うため。
- ③ 天照大神は大日如来の化身と考える等、本来の姿である本地仏を特定する必要があったため。
- ④ 怨霊や疫神を慰めて祟りを逃れようとする鎮魂の法会・祭礼をするため。

2 僧侶や出家した人物を示した資料Ⅰ～Ⅳについての会話文を読み、後にある各問いに答えよ。

資料Ⅰ（公益財団法人滋賀県文化財保護協会「山法師強訴図（琵琶湖文化館蔵）」より）



資料Ⅱ（「北条政子（安養院蔵）」より）



資料Ⅲ



資料Ⅳ



会話文

Xさん：僧侶というと、穏やかな印象があるかもしれませんが、資料Ⅰの僧侶たちは武装して、荒々しいですね。実はこれ、僧侶たちが当時の権力者に対して反発した様子なのです。反発に苦しんだ権力者は、「鴨川の水、双六の賽、山法師、これぞ^(a)朕の如意ならざるもの」なんていう言葉を残したそうです。

Yさん：一方、のちの時代に幕政に影響を与えた資料Ⅱの人物は、承久の乱のとき、「頼朝公以来、幕府の御恩^(b)は山よりも高く、海よりも深いものなのです。」という言葉で従者を鼓舞したそうです。

Zさん：その後に成立した幕府で、出家の身でありながら権勢をふるった人物といえば、資料Ⅲの彼ではないでしょうか。将軍や太政大臣にも就任し、半世紀にも及ぶ朝廷の混乱を合一していますよね。

Yさん：資料Ⅲの人物は、外国との貿易にも力を注いでいたんですね。

Zさん：そうです。そしてその後に発達した南蛮貿易を行った資料Ⅳの人物は、九州地方の6カ国の守護職を任されるとともに、キリスト教の洗礼を受けていたんですよ。

Xさん：僧侶といっても、本当に様々な表情や一面があるんですね。

問 1 会話文の下線部分^(a)朕について述べた次の説明文について、A
B に当てはまる語句の組合せとして正しいものを、下の①～④のうちから一つ選
 べ。解答番号は 5 。

説明文

下線部分^(a)朕は、A 政治を展開し、資料Ⅰのように日吉神社の神輿を
 担いだ強訴に対しては、B と呼ばれる武士の集団を動員した。

- | | |
|------------------------------|---------|
| ① A—皇位を譲ったのちも、院宣や院庁下文を発することで | B—北面の武士 |
| ② A—皇位を譲ったのちも、院宣や院庁下文を発することで | B—西面の武士 |
| ③ A—天皇の外戚となり、摂政または関白として | B—北面の武士 |
| ④ A—天皇の外戚となり、摂政または関白として | B—西面の武士 |

問 2 会話文の下線部分^(b)御恩について、資料Ⅱの人物の時代の内容として適切なものを、次の①
 ～④のうちから一つ選べ。解答番号は 6 。

- ① 俸禄米や蔵米など、武士に対して支給される俸禄
- ② 官人に対し、位階に応じて支給される給与
- ③ 幕府の判決を、幕府の使節として強制的に実行できる権利
- ④ 御家人に対し、その功績に応じて与えられた新たな土地に関する権利

問 3 資料Ⅰの僧侶たちから資料Ⅳの僧侶が生きた時代に発達した都市として当てはまらないも
 のを、次の①～④のうちから一つ選べ。解答番号は 7 。


- ① 安藤(安東)氏が拠点とし、日本海交易の中心都市としてだけでなく、アイヌとの交易で
 も栄えた。
- ② 貿易で栄えた大輪田泊の近くにあったため、一時は都とされたものの、公家の反対が強
 く、わずか半年あまりで京都へ遷都された。
- ③ 鴻臚館こうろかんの廃絶後、中国の商人が移住し、その後の貿易では主導的役割を果たし、年行司
 による自治が行われた。
- ④ 年貢米や国産物を販売する倉庫兼取引所も多く存在し、商業・経済の中心で「天下の台
 所」と称された。

問 4 次の資料Vは娯楽の様子とそれにふさわしい台詞をつけたものである。このような娯楽が流行した時期に活躍した人物として最も適切なものを、下の①～④のうちから一つ選べ。

解答番号は 。

B

資料V



(「鬪茶『祭礼草紙』祭礼絵草子」より)

① 資料Ⅰ

② 資料Ⅱ

③ 資料Ⅲ

④ 資料Ⅳ

3 次の資料Ⅰ・Ⅱ(意識してある)と会話文について、後にある各問いに答えよ。

資料Ⅰ

大名や小名は自分の領地と江戸とに交替で住むこと。毎年4月中に参勤すること。供の数が最近非常に多く、領地や領民の負担である。今後はふさわしい人数に減らすこと。ただし、上洛の際は定め通り、役目は身分にふさわしいものにする。こと。(『御触書寛保集成』により作成)

資料Ⅱ

石高1万石について米100石ずつ差し出すようにしてほしい。……(中略)そのかわりとして、江戸に居る期間を軽減するので、…… (『御触書寛保集成』により作成)

会話文

先生：資料Ⅰの制度を知っていますか。

生徒：はい。この制度は時代を象徴するものだと思っていたのですが、幕府を開いた当初からあったわけではないのですか。

先生：そうですね。この制度は17世紀半ば、 ころに制度化されました。

生徒：実際、この制度は江戸時代が終わるまで続いたのですか。

先生：制度自体は幕末まで続いてきたけど、内容はいろいろと変化していますよ。資料Ⅱは変化のきっかけとなった例の一つなんです。これは、8代将軍吉宗による という政策で、 のために実施されました。

生徒： の代わりに大名の負担を軽くしようとしたことが読み取れますね。この時代の江戸には各藩から様々な人々が訪れていたわけですね。

先生：国内の大名だけにとどまらず、^(a)朝鮮からの使節なども江戸城を訪れることがありましたよ。

問 1 に当てはまるものとして適切なものを、次の①～④のうちから一つ選べ。解答番号は 。

- ① 天下分け目の戦いと言われた大規模な戦いが、徳川方の勝利で終わった
- ② 大坂で大規模な戦が行われ、豊臣家が滅亡した
- ③ 大御所として力を持っていた秀忠が死去し、幕政組織が整備された
- ④ 大坂で元与力が乱をおこすなど、幕府の政治が緩んできた

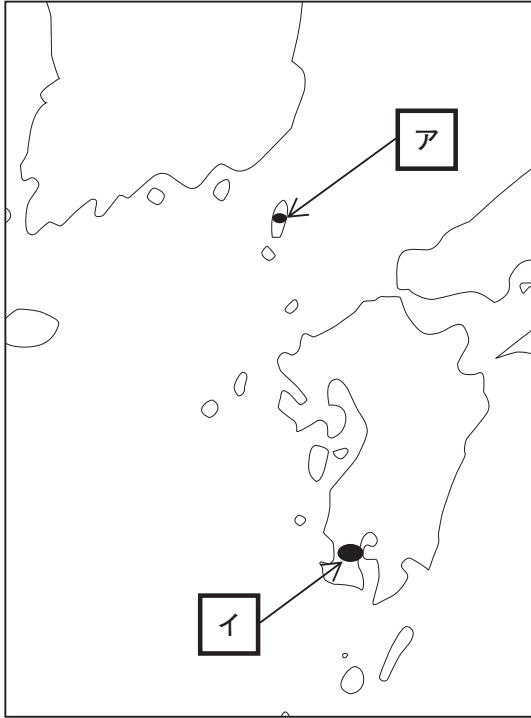
問 2 に当てはまる語句の組合せとして適切なものを、次の①～④のうちから一つ選べ。解答番号は 。

- ① B—上げ米 C—飢饉対策
- ② B—上げ米 C—財政再建
- ③ B—困 米 C—飢饉対策
- ④ B—困 米 C—財政再建

B

問 3 下線部分朝鮮からの使節にとっての窓口となる図中の藩の位置と、その使節についての説
(a)
明文の組合せとして正しいものを、下の①～④のうちから一つ選べ。解答番号は 。

図



説明文

ウ 江戸幕府の将軍の代替わりなどに通信使が派遣された。

エ 自国の国王の代替わりに謝恩使が派遣された。

① アーウ

② アーエ

③ イーウ

④ イーエ

問 4 資料 I・II の政策が制度化された時期の間の文化を説明したものとして最も適切なものを、次の①～④のうちから一つ選べ。解答番号は 12。

- ① 戦国の争乱をおさめ、富と権力を集中した統一政権のもとで豪華壮大な文化が生み出された。
- ② 一般の町人や有力百姓に至る多彩な文化の担い手により、上方の町人文芸などが発展した。
- ③ 民衆の旅が一般化する中で各地に名所が生まれ、それを描いた風景画が人気を博した。
- ④ 強大な欧米列強に追いつくため西洋的な文化と東洋的な文化が無秩序に混在するようになった。

B

4 次の生徒のレポートを読み、後にある各問いに答えよ。

レポート

●テーマ 近代における公園の役割

「公園」は、明治になり西洋文化流入の中で日本に広まりました。そこで、東京を代表する2つの公園を取り上げ、公園の役割を考えていきたいと思います。

上野公園は、もともと寛永寺境内の一部で江戸時代、江戸庶民の花見の名所でした。この地は、戊辰戦争に関連する上野戦争の激戦地で、^(a) 一帯は荒廃しましたが、後に公園として整備されました。またこの公園では、内務省主導で する内国勸業博覧会や日清戦争祝勝会が行われました。

その後、上野公園の役割は、日比谷公園が担いました。この地は、官公庁が周辺に存在し、皇居前広場に隣接しているため、首都の都市計画にも組み込まれ、明治36(1903)年に整備されました。この地では、日露戦争に関わる祝勝会や日露戦争の講和条約に関する集^(b)会、大隈重信など政治家の国葬、内閣弾劾の国民大会などが催^(c)されました。

このように、近代に日本に流入した公園は、 を結び付ける場としての役割も担っていたことが分かりました。

問1 に当てはまる語句の組合せとして正しいものを、次の①～④のうちから一つ選べ。解答番号は 。

- ① A—国際的な学問や芸術が交流し、科学技術や経済成長の可能性を提示
B—政府と国民，国民と国民
- ② A—国際的な学問や芸術が交流し、科学技術や経済成長の可能性を提示
B—会社の株式を一族が独占的に所有した組織同士
- ③ A—国内の産業発展への寄与を目的に、機械・美術工芸品などを展示・即売
B—政府と国民，国民と国民
- ④ A—国内の産業発展への寄与を目的に、機械・美術工芸品などを展示・即売
B—会社の株式を一族が独占的に所有した組織同士

問 2 下線部分^(a)戊辰戦争の間に行われたできごととして適切でないものを、次の①～④のうちから一つ選べ。解答番号は 。

- ① 朝廷と幕府が連携し政局を安定させるため、将軍の妻に天皇の妹が迎えられた。
- ② 天皇が神々に誓う形で、新政府の方針が示された。
- ③ 天皇一代につき、一つの元号を使用し元号を変更しないことを定めた。
- ④ 民衆の守るべき心得が、新政府によって示された。

問 3 下線部分^(b)日露戦争に関連するできごとについて、次のア～ウの文を年代の古い順に正しく並べたものを、下の①～④のうちから一つ選べ。解答番号は 。

- ア 日本に対し、ロシア・ドイツ・フランスが遼東半島を清に返還するよう要求した。
- イ イギリスの清に対する権益と日本の清や韓国に対する権益を相互承認する同盟を調印した。
- ウ 清への列強進出に対して、清国内の宗教結社や民衆が反発する事件がおこった。

- ① ア→イ→ウ ② ア→ウ→イ ③ イ→ア→ウ ④ イ→ウ→ア

問 4 下線部分日露戦争の講和条約に関する集会について描かれた資料の説明として適切なものを、下の①～④のうちから一つ選べ。解答番号は 16。

資料



(幻戯書房「帝都公園物語」より)

決議(意識してある)

外務大臣など日本全権が結んだ講和条約は、大日本帝国の勝利を無駄にしている。国の重大な事柄を間違った方向に進めている。そこで私は、外務大臣をはじめとした現在の内閣に対し、この条約を無効にするとともに、国民全員に謝罪することを要求する。

明治 38 年 9 月 5 日

日比谷公園に於ける国民大会

(「絵葉書資料館」所蔵)

- ① 日の丸やアドバルーンなどが描かれ「国民大会」と書かれていることから、講和条約を結んだ相手国に対して謝罪を要求していることが分かる。
- ② 帽子や旗を振る行為を通して、「条約無効」を訴える決議に対して参加者が賛成を示していることが分かる。
- ③ 人々が小旗を振ったり大きな流れ旗を立てていることから、「戦争勝利」を祝う集会が開かれていることが分かる。
- ④ 人々が、文章を読み上げている人に注目していることから、この人物は「現在の内閣」の一員であることが分かる。

5 次のⅠ～Ⅲについて、後にある各問いに答えよ。

Ⅰ

資料1 (意識してある)

文官大臣問題に関する経過

一 大正3年陸軍省官制改正(予後備大臣制)当時における論議

瓦解した西園寺内閣の後、山本内閣が成立したところで…大正2年3月12日犬養毅、尾崎行雄他84名は重ねて次の質問を内閣に提出した。

「現内閣は、陸海軍大臣の任用に関する制限を本議会議中に実現する意志があるか。」

これに対し、山本首相の答弁は、

「いかにも現行制度は、憲政の運用上支障がないことを保つのが難しいと言えます。つきましては、政府は、これに対して慎重に審議を行い、相応の改正を施すことを考えております。」

二 大正10年第44議会における問答

代議士鈴木梅四郎は「陸海軍大臣を文官になさるおつもりはありませんか」と質問し、これに対し総理大臣の原敬は、次のように答弁した。

「海陸軍大臣は、先年(山本内閣時)の改定によって必ずしも現役の将官でなくてもよろしいということになっております。そのような事を経ての現行の制度でありますから、今日早急にこれ以上変更する必要はないと思います。今後はどのようになりましようか、現役ではないものがすでに任に当たっていいというくらいなら、文官組織になる時代も来るかも知れませんが、今改定する考えがあるかないかという質問に答えるとすれば、今すぐに改定する意志は持っておりません。」

(高橋是清「文官大臣問題に関する経過」により作成)

問1 資料1に関する説明として適切でないものを、次の①～④のうちから一つ選べ。

解答番号は 17。

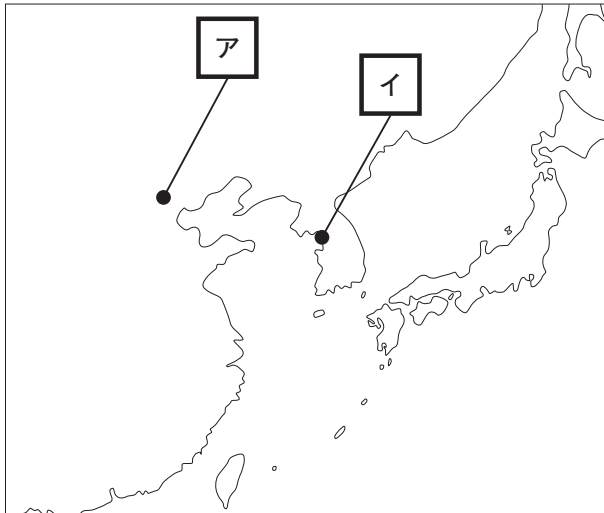
- ① 資料1中の議論の背景には、陸軍の協力をえられなかった内閣の総辞職があった。
- ② 資料1には、内閣における軍部の影響力が弱まる制度改正が行われたようすが書かれている。
- ③ 首相であった山本権兵衛は、軍部大臣任用に関する制度を改正する意向を示している。
- ④ 首相であった原敬は、軍部大臣の文官任用のなるべく早い実現を主張している。

問 2 下線部分西園寺が全権の一人として参加した第一次世界大戦の講和会議の結果、絵の運動(a)がおこった。この運動がおこった場所と目的の組合せとして適切なものを、下の①～④のうちから一つ選べ。解答番号は 18。

B

「北京大学」及び「不平等条約をとりやめろ（意識してある）」と記載されている。

場 所



目 的

- ウ ヴェルサイユ条約の内容への批判
- エ 併合条約の撤廃

① アーウ

② アーエ

③ イーウ

④ イーエ

Ⅱ

資料2 (意識してある)

A 内閣も超然内閣で、世はこれを「特権内閣」といった。しかし私(尾崎行雄)は、この内閣が目前に控えた総選挙を一党一派に偏らず、最も公平に行って、最大多数を得た党派の首領を後継首相に推薦し、辞職すれば、同じ超然主義でも立派なものだと思った。…果たして研究会(注1)の参謀の手は、政友会に伸びた。これが政友会分裂の直接原因となったのである。…内閣擁護派の分立には、徳望ある床次総務(注2)を引き出さねばならぬというので、それに成功し、一派は政友会から分離して、政友本党を立てた。…そうして、この非政府側の三派が、またも憲政擁護を唱えて**結束**^(b)し、共同作戦に出ることになった。

(注1) 当時の貴族院での最大派。この時の首相も幹部の一人であった。

(注2) 政友会の有力者である床次竹二郎のこと。

(『尾崎罌堂全集第十一卷』により作成)

資料3 (意識してある)

加藤(友三郎)内閣は我が党(政友会)の延長内閣というべきものである。…山本(権兵衛)内閣は未曾有の大地震に遭い、非常重大の場合であったから、救急の事業に協賛して少しずつ憲政の常道を正すつもりで、二者ともに一時的に政権を任せただのであるが、今度三度目の超然内閣を見るに至ってもはやこれを容認することはできない。…今もしこれを正さず憲政の逆転を許してしまえば、今後はこれを正す機会はなく、憲政破損の大責任は我が党を挙げて負わざるをえず、このことは実に我々の我慢できないところである。…

A 内閣の組織は特権階級の団体たる研究会が主としてこれを担当してできあがった内閣で、反対の各派を網羅して組織したいわゆる貴族院内閣である。

(『立憲政友会史 補訂版 第五卷』により作成)

問 3 資料 2 中の下線部分^(b)結(束)した背景について述べた下の文章の に当てはまる語句の組合せとして最も適切なものを、資料 2 と表 1 を参考に、下の①～④のうちから一つ選べ。解答番号は 。

表 1 政友会分裂前後の衆議院議席数(総数 464)

分裂前		→ 分裂後	
立憲政友会	278	政友本党	149
憲政会	103	立憲政友会	129
革新倶楽部	43	憲政会	103
その他	37	革新倶楽部	43
欠 員	3	その他	37
		欠 員	3

総選挙を前にして、 内閣支持に回った政友本党を ために結(束)をした。

- ① A—清浦奎吾 B—党内分裂させる ② A—清浦奎吾 B—議席数で上回る
 ③ A—斎藤実 B—党内分裂させる ④ A—斎藤実 B—議席数で上回る

問 4 資料 2・資料 3 から読み取れることとして適切でないものを、次の①～④のうちから一つ選べ。解答番号は 。

- ① 資料 2 の筆者は、護憲三派連立内閣成立のいきさつについて、述べている。
 ② 資料 2 の筆者は、 内閣に選挙を公平に実施することを期待している。
 ③ 双方の資料の筆者は、同じ政党に所属していることが分かる。
 ④ 双方の資料の筆者の 内閣に対する評価は、同じではないことが分かる。

6 次のⅠ～Ⅲについて、後にある各問いに答えよ。

Ⅰ

写真1 (国立国会図書館「http://www.ndl.go.jp/modern/img_r/K002/K002-003r.html」より)

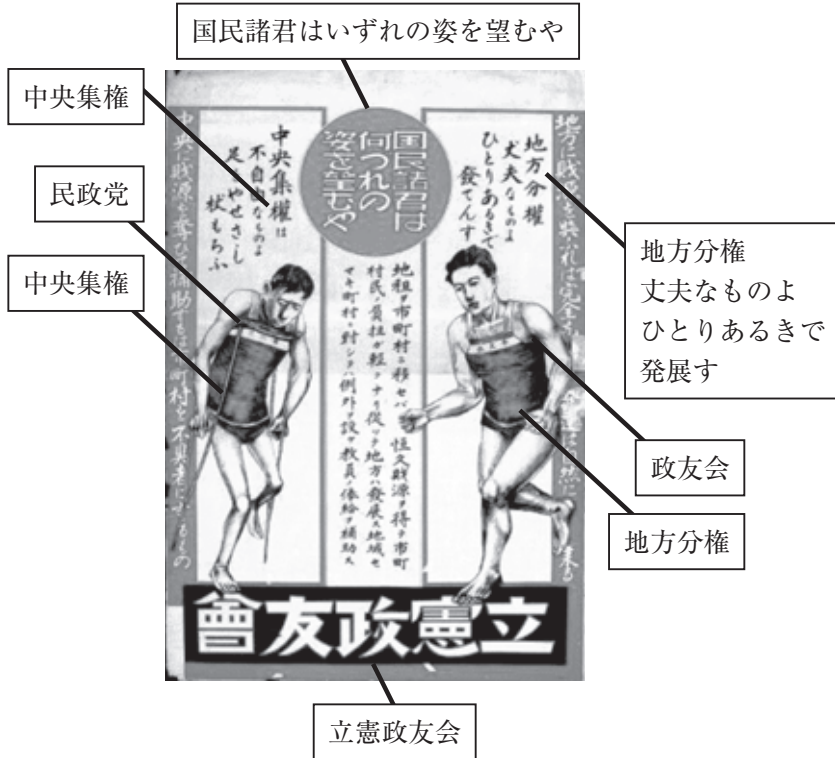


写真2 (国立国会図書館「http://www.ndl.go.jp/modern/img_r/K002/K002-002r.html」より)



問 1 写真 1 および写真 2 は、1928(昭和 3)年に行われた最初の男子普通選挙の時のポスターである。当時の政党の主張について適切なものを、次の①～④のうちから一つ選べ。

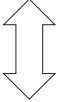
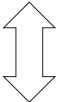

解答番号は 21。

- ① 立憲政友会は、地方分権を主張している。
- ② 立憲政友会は、中央集権を主張している。
- ③ 立憲民政党は、積極的な財政政策を主張している。
- ④ 立憲民政党は、緊縮的な財政政策を批判している。

B

Ⅲ


年 表

1945年	政府がポツダム宣言を受諾した。
1951年	サンフランシスコ平和条約が調印された。
1956年	『経済白書』で「もはや戦後ではない」と記された。
	 あ
1960年	日米新安全保障条約が調印された。
	 い
1973年	第一次石油危機がおこった。
	 う
2015年	選挙権年齢が満18歳以上に引き下げられた。

Ⓑ

問 3 写真 3 は年表中 い の時期の沖縄のようすである。写真から読み取れる内容の正誤の組合せとして正しいものを、下の①～④のうちから一つ選べ。解答番号は 23 。

写真 3 (「<https://www.okinawa.ccbc.co.jp/profile/history.html#htab5>」より)



ア 沖縄の日本返還を祝う横断幕が、道路に掲げられている。

イ それまでアメリカの施政権下にあったため、自動車の通行区分が日本の法令と異なっている。

① アー正 イー正

② アー正 イー誤

③ アー誤 イー正

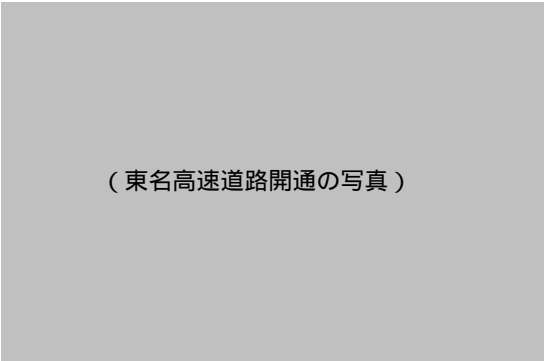
④ アー誤 イー誤

問 4 年表中 あ, い, う の時期のできごとについて, 次の写真を年代の古い順に正しく並べたものを, 下の①~④のうちから一つ選べ。解答番号は 24。

ア (毎日新聞社「<http://showa.mainichi.jp/news/1956/12/post-21ff.html>」より)



イ



ウ (時事通信社「https://www.jiji.com/jc/d4?p=was101-jlp09483406&d=d4_aa」より)



- ① ア→イ→ウ ② ア→ウ→イ ③ イ→ア→ウ ④ イ→ウ→ア

7 次のレポートについて、後にある各問いに答えよ。なお、レポート中の資料Ⅰ～Ⅲは意識してある。

レポート

●テーマ 道について

●設定理由 日本橋を実際にみて興味を持ったから。

「道」は時代によってさまざまな役割があるという話を聞いて興味がわいたので、より深く調べてみる事にしました。特に興味深かったのが古代の「道」についてです。日本の道が計画的に作られるようになったと考えられているのは、近畿地方に大きな政権が確立して、政治の仕組みが整備され始めた後のことでした。

資料Ⅰ

処処の大道をつくる。

(『日本書紀』孝徳天皇四年)

資料Ⅱ

難波から都に至るまで大道を置く。

(『日本書紀』推古天皇二十一年)

資料Ⅰは、内陸の都から船の便が良い難波宮に移ったあとに出されたもので、道路修築の話が出されていることが読み取れます。また資料Ⅱからは、難波という港から京に大道が敷かれたことが読み取れ、その背景としては都を訪れる **A** の存在が挙げられます。『隋書』にも「今、殊更に道を清めて館を飾り、もって大使を待つ」と伝えられています。この記事が書かれた時に来日した使節は **B** で、小野妹子と共に返答使として日本に派遣された人物でした。

その後、時代が変わると「道」が各地の特産品の流通経路として発達していきました。

資料Ⅲ

そもそも京の町人、浜の商人、鎌倉のあつらえ物、大宰府の交易、室・兵庫の船頭、淀・河尻の刀禰、天津・坂本の **C**、泊ごとの借上、湊ごとの替銭、浦ごとの問丸は、割符で進上し、運送業者に任せて運送する。

(『庭訓往来』)

この資料Ⅲの時代では、商品流通が発展した結果、定期市が開催されるようになり、一部の商工業者らは座という組合をつくり寺社などに属して販売の独占権をにぎり活躍しました。その中には、関所を設置して **D** する者もあらわれたと言われます。

私はここまで調べて実際に自分の目で歴史のある道を歩いてみたくなり、江戸の史跡巡りがかねて江戸時代から存在する道や名所を探してみました。様々な名所を訪れるなか、学校の授業の浮世絵で見たことがある日本橋にも訪れました。ところが絵に描かれているような背景を見ることはできず、^(a)首都高速道路の下になってしまっていてとても驚きました。調べてみると、首都高速道路は、^(b)戦後復興の中でモータリゼーションと呼ばれる車社会が本格的に広まった時期に建設されたことがわかりました。国際的なイベントに向けて交通渋滞を緩和することなども目的の一つだったようです。改めて、時代によって「道」が担っている役割は異なることを感じ、ますます興味を持つことができました。

問 1 に当てはまる語の組合せとして正しいものを、次の①～④のうちから一つ選べ。解答番号は 。

- ① A—地方豪族 B—鑑 真 ② A—地方豪族 B—裴世清
 ③ A—外国人使節 B—鑑 真 ④ A—外国人使節 B—裴世清

Ⓑ

問 2 を示した絵と、 に当てはまる語句の組合せとして正しいものを、下の①～④のうちから一つ選べ。解答番号は 。

C ア



イ




(「<http://www.edojidai.info/kurashi/hikyaku.html>」より)

- D ウ 入り鉄砲に出女を取り締まる
 エ 関銭や津料を徴収する

- ① アーウ ② アーエ ③ イーウ ④ イーエ

問 3 下線部分浮世絵について説明した次の に当てはまる語句の組合せとして正しいものを、下の①～④のうちから一つ選べ。解答番号は 。



(東海道五十三次「平塚」より)

この浮世絵は から描かれたことがわかる。なぜなら、 という特徴があるからである。

- ① E—甲州道中
F—奥に見える富士山の手前に海が広がっている
- ② E—甲州道中
F—奥にも手前にも山に囲まれる富士山を見ることができる
- ③ E—東海道
F—奥に見える富士山の手前に海が広がっている
- ④ E—東海道
F—奥にも手前にも山に囲まれる富士山を見ることができる

問 4 下線部分首都高速道路が建設され始めた時期を、次の①～④のうちから一つ選べ。
解答番号は 。

ポツダム宣言受諾

⇕ ①

朝鮮戦争勃発

⇕ ②

東京オリンピック

⇕ ③

ドル＝ショック

⇕ ④

国鉄民営化

Ⓑ

