

平成29年度 世界史A・世界史B (50分)

注 意 事 項

- 1 試験開始の合図があるまで、この問題冊子の中を見てはいけない。
- 2 出題科目、ページ及び選択方法は、下表のとおりである。

| 出題科目 | ページ | 選 択 方 法 |
|------|-------|---------------------------|
| 世界史A | 1～28 | 左の2科目のうちから1科目を選択し、解答しなさい。 |
| 世界史B | 29～58 | |

- 3 試験中に問題冊子の印刷不鮮明、ページの落丁・乱丁及び汚れ等に気付いた場合は、手を挙げて監督者に知らせること。
- 4 試験開始の合図前に、監督者の指示に従って、解答用紙の該当欄に以下の内容をそれぞれ正しく記入し、マークすること。

・①氏名欄

氏名を記入すること。

・②受験番号、③生年月日、④受験地欄

受験番号、生年月日を記入し、さらにマーク欄に受験番号(数字)、生年月日(年号・数字)、受験地をマークすること。

・⑤解答科目欄

解答する科目名を○で囲み、さらにその下のマーク欄にマークすること。

- 5 受験番号、生年月日、受験地が正しくマークされていない場合は、採点できないことがある。
- 6 解答科目が正しくマークされていない場合は採点できないので、必ず正しくマークすること。
- 7 解答は、解答用紙の解答欄にマークすること。例えば、

| |
|----|
| 10 |
|----|

と表示のある解答番号に対して②と解答する場合は、次の(例)のように解答番号10の解答欄の②にマークすること。

(例)

| 解答番号 | 解 答 欄 |
|------|---------|
| 10 | ① ② ③ ④ |

- 8 問題冊子の余白等は適宜利用してよいが、どのページも切り離してはいけない。
- 9 試験終了後、問題冊子は持ち帰ってよい。

世界史 A

(解答番号 ~)

1 次の文章と図版に関連して、問1～問2に答えよ。

鹿児島県の高校で、生徒と先生が会話している。

生徒： 国語の授業で『平家物語』を読みましたが、俊寛が流されたという薩摩の鬼界島とは、どこなのですか。

先生： 鹿ヶ谷事件で流罪になった俊寛の話ですね。それは、県内の硫黄島のことだとされています。

生徒： 硫黄島は活火山があると聞いています。

先生： そうです。火山で生成される硫黄が、その名の通り硫黄島の特産物です。『平家物語』の中にも硫黄の話が出てきますが、当時実際に硫黄が採掘されていて、中国にも輸出されていました。

生徒： 当時の日本の輸出品は、マルコ＝ポーロの に出てくる黄金ではないのですか。

先生： 日本から^{きん}金が輸出されていたのは事実ですが、量はそれほど多くはなく、「黄金の島ジパング」の話はいささか誇張されています。むしろ、硫黄が主要輸出品だったと考えられています。硫黄は火薬の原料になるので、宋が盛んに輸入していたのです。

生徒： 九州国立博物館^(a)で見た、元寇のときの「てつほう」は知っていましたが、それ以前から火薬は兵器として使われていたのですね。

先生： そうです。硫黄は、足利義満が始めた日明間の でも、やはり多量に輸出されていました。世界史と鹿児島県の島々とのつながりは、種子島の鉄砲伝来だけではないのですよ。

問1 と に当てはまる語句の組合せとして正しいものを、次の①～④のうちから一つ選べ。解答番号は 。

| | <input type="text" value="A"/> | <input type="text" value="B"/> |
|---|--------------------------------|--------------------------------|
| ① | 『諸国民の富』 | 勘合貿易 |
| ② | 『諸国民の富』 | ガレオン貿易 |
| ③ | 『世界の記述(東方見聞録)』 | 勘合貿易 |
| ④ | 『世界の記述(東方見聞録)』 | ガレオン貿易 |

問 2 下線部分^(a)硫黄は火薬の原料になるので、宋が盛んに輸入していたとあるが、次の資料を参考にして、宋(北宋・南宋)が硫黄を輸入していた背景・事情について述べた文として適切でないものを、下の①～④のうちから一つ選べ。解答番号は 。

資料 1



アジアの火山の分布

資料 2



北宋・南宋の領域

- ① 日本と海路でつながっていた。
- ② 領域内では、硫黄の入手が難しかった。
- ③ 北方の諸王朝の軍事的圧力を受けていた。
- ④ 草原の道を支配して、東西貿易を行っていた。

2 1～2の文章と図版に関連して、問1～問4に答えよ。

1 暦に関して、生徒と先生が会話している。

生徒： オリンピックがあった昨年(2016年)は^{うるう}閏年で、2月が29日までありました。この方は、いつごろ始まったのですか。

先生： 地球の公転周期をもとにした太陽暦は、古代の^(a)エジプトで生まれました。ヘレニズム時代に、暦のずれを補正するため、4年ごとに1日を入れるようになりました。

生徒： 古代ローマの政治家 **A** が太陽暦と関係していると聞いたのですが。

先生： 彼は独裁的な権力を手にした後、エジプトの太陽暦の方式を採用しました。この暦を、彼の氏族名にちなんでユリウス暦といいます。7月の英語でのよび方、“July”は「ユリウス」に由来しています。

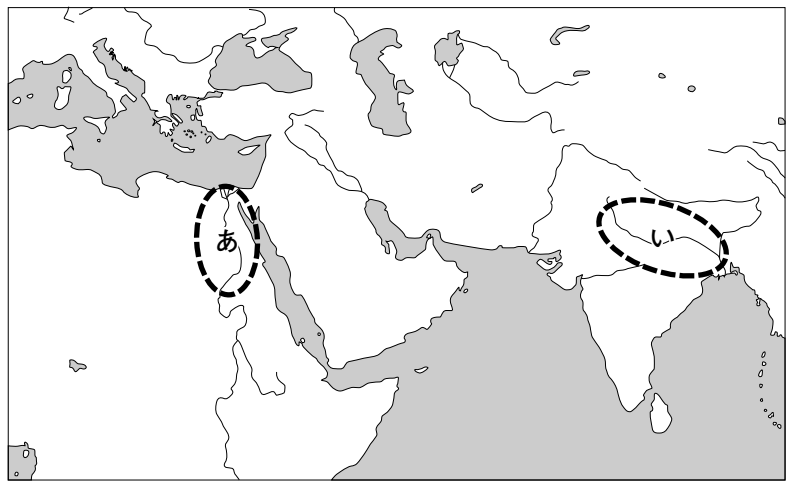
生徒： 8月の“August”は、「アウグストゥス」にちなんでいるのですよね。

先生： そうです。英語では、他の月のよび名もローマ時代に由来しています。

| • 2016 • | | | |
|---|---|--|---|
| January S M T W T F S 1 2 3 4 5 6 7 8 9 10 11 12 13 14 15 16 17 18 19 20 21 22 23 % 25 26 27 28 29 30 | February S M T W T F S 1 2 3 4 5 6 7 8 9 10 11 12 13 14 15 16 17 18 19 20 21 22 23 24 25 26 27 28 29 | March S M T W T F S 1 2 3 4 5 6 7 8 9 10 11 12 13 14 15 16 17 18 19 20 21 22 23 24 25 26 27 28 29 30 31 | April S M T W T F S 1 2 3 4 5 6 7 8 9 10 11 12 13 14 15 16 17 18 19 20 21 22 23 24 25 26 27 28 29 30 |
| May S M T W T F S 1 2 3 4 5 6 7 8 9 10 11 12 13 14 15 16 17 18 19 20 21 22 23 24 25 26 27 28 29 30 31 | June S M T W T F S 1 2 3 4 5 6 7 8 9 10 11 12 13 14 15 16 17 18 19 20 21 22 23 24 25 26 27 28 29 30 | July S M T W T F S 1 2 3 4 5 6 7 8 9 10 11 12 13 14 15 16 17 18 19 20 21 22 23 % 25 26 27 28 29 30 | August S M T W T F S 1 2 3 4 5 6 7 8 9 10 11 12 13 14 15 16 17 18 19 20 21 22 23 24 25 26 27 28 29 30 31 |
| September S M T W T F S 1 2 3 4 5 6 7 8 9 10 11 12 13 14 15 16 17 18 19 20 21 22 23 24 25 26 27 28 29 30 | October S M T W T F S 1 2 3 4 5 6 7 8 9 10 11 12 13 14 15 16 17 18 19 20 21 22 % % 25 26 27 28 29 | November S M T W T F S 1 2 3 4 5 6 7 8 9 10 11 12 13 14 15 16 17 18 19 20 21 22 23 24 25 26 27 28 29 30 | December S M T W T F S 1 2 3 4 5 6 7 8 9 10 11 12 13 14 15 16 17 18 19 20 21 22 23 24 25 26 27 28 29 30 31 |

2016年のカレンダー

問 1 下線部分エジプトの略地図中のおよその位置と、この地域で栄えた文明の特徴との組合せとして正しいものを、下の①～④のうちから一つ選べ。解答番号は **3**。




| | 位置 | 文明の特徴 |
|---|----|---------------------|
| ① | あ | ヒンドゥー教が信仰された。 |
| ② | あ | 神聖文字(ヒエログリフ)が用いられた。 |
| ③ | い | ヒンドゥー教が信仰された。 |
| ④ | い | 神聖文字(ヒエログリフ)が用いられた。 |


問 2 **A** に当てはまる人物を、次の①～④のうちから一つ選べ。解答番号は **4**。



ロベスピエール



プラトン



カエサル



ミケランジェロ

2 暦に関して、生徒と先生が会話している。

生徒： 中国や韓国で盛大に祝われるという旧正月は、いつですか。

先生： 月の満ち欠けにもとづく旧暦の正月なので、毎年ずれて、太陽暦の1月下旬から2月下旬の間を移動します。日本も、こうした暦を用いていた時がありました。

生徒： 東アジアの暦は、中国が起源なのですか。

先生： そうです。中国では殷の時代から暦の研究が盛んに行われてきました。諸子百家の一つである陰陽家も、暦の発展にかかわっています。^(b)

生徒： 中国や日本の旧暦は、太陰暦というのですよね。

先生： 正しくは、太陰太陽暦です。季節のずれを補正するため、約3年に1度、^{うるう}閏月を入れます。補正を行わない純粹な太陰暦としては、イスラーム暦が知られています。

生徒： ヒジュラがあった西暦622年を紀元とする暦ですね。^(c)



中国の旧正月(春節)のようす

問3 下線部分諸子百家に関して、法家について述べた文として適切なものを、次の①～④のうちから一つ選べ。^(b) 解答番号は 。

- ① 『旧約聖書』を聖典とした。
- ② 朱熹(朱子)が理論を大成した。
- ③ 立憲君主政の樹立をめざした。
- ④ 秦の始皇帝が統治に用いた。

問4 下線部分ヒジュラについて述べた文として適切なものを、次の①～④のうちから一つ選べ。^(c) 解答番号は 。

- ① ムハンマドがメディナに移住した。
- ② ワッハーブ派が王国を築いた。
- ③ カルヴァンが予定説を唱えた。
- ④ ハンムラビ法典が制定された。

3 1～2の文章と図版に関連して、問1～問5に答えよ。

1 図1と図2を見ながら、生徒と先生が会話している。

生徒： ロンドン旅行では、図1のイングランド銀行博物館を訪ねようと思っています。

先生： そうですか。イングランド銀行は1694年に創設され、イギリス議会の承認を得て政府が発行する国債を引き受けました。議会在徴税権^(a)を持っていたため、確実な利払いが保証されたイングランド国債の信用は高く、それを取り扱うイングランド銀行へは国外からも投資が盛んに行われました。

生徒： 図2は、イングランド銀行への外国からの投資比率を示したグラフです。18世紀の半ばにはオランダ^(b)を中心に投資が行われたようですね。

先生： そうです。

生徒： イギリスは、18世紀にフランスとの植民地戦争で勝利していたと記憶しています。

先生： その勝利の背景にはこのような資金調達があったということですね。



図1 イングランド銀行博物館

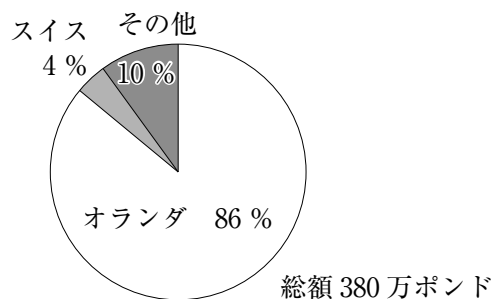


図2 イングランド銀行への外国からの投資比率(1750年)

問 1 下線部分^(a)イギリス議会の 17 世紀のようすについて述べた文として適切なものを、次の①～④のうちから一つ選べ。解答番号は 。

- ① ストルイピンが、議会を弾圧した。
- ② ビスマルクが、鉄血演説を行った。
- ③ 成年男子市民による直接民主政が行われた。
- ④ 「権利の章典」で議会の権利が確認された。

問 2 下線部分^(b)オランダで 17 世紀に活躍した画家と、当時のオランダの市民を描いたとされる代表作品との組合せとして正しいものを、次の①～④のうちから一つ選べ。解答番号は 。

| | 画 家 | 作 品 |
|---|--------|--|
| ① | レンブラント |  「夜 警」 |
| ② | レンブラント |  「アテネの学堂」 |
| ③ | ラファエロ |  「夜 警」 |
| ④ | ラファエロ |  「アテネの学堂」 |

2 図3を見ながら、生徒と先生が会話している。

生徒： 私は修学旅行の事前学習で、台湾の歴史を調べているのですが、この地にはポルトガル(c)をはじめ、様々な勢力が支配に乗り出してきたことがわかりました。

先生： 図3のゼーランディア城は、1624年にオランダによって台湾南部に建設されました。このころ、ヨーロッパ諸勢力が盛んにアジア地域の交易(d)に参入しており、オランダは、ライバルであったポルトガルの航路を台湾海峡で遮断しようとしたのです。

生徒： 1661年に **A** が台湾からオランダ勢力を駆逐し、反清軍事活動を展開したのですね。

先生： そうです。しかし1683年、清が台湾を制圧しました。その清も、19世紀に台湾の領有(e)権を失うことになりました。




図3 ゼーランディア城

問 3 下線部分ポルトガルの 15 世紀の出来事について述べた文として適切なものを、次の①～④のうちから一つ選べ。解答番号は 。

- ① ヴァスコ＝ダ＝ガマが、インド航路をひらいた。
- ② ルイ 14 世が、フロンドの乱を鎮圧した。
- ③ グーテンベルクが、活版印刷術を実用化した。
- ④ ピョートル 1 世が、首都ペテルブルクを建設した。

問 4 下線部分アジア地域の交易に関連して、1623 年にオランダがイギリス勢力をインドネシアから追い出し、アジア貿易の主導権をにぎるきっかけとなった事件を、次の①～④のうちから一つ選べ。解答番号は 。

- ① 血の日曜日事件
- ② アンボイナ事件
- ③ モロッコ事件
- ④ 義和団事件

問 5 に当てはまる人物と、下線部分台湾の領有権を失うことについての説明との組合せとして正しいものを、次の①～④のうちから一つ選べ。解答番号は 。

| | <input type="text" value="A"/> | 説明 |
|---|--------------------------------|-----------------|
| ① | 李世民 | 下関条約で日本に割譲した。 |
| ② | 李世民 | 南京条約でイギリスに割譲した。 |
| ③ | 鄭成功 | 下関条約で日本に割譲した。 |
| ④ | 鄭成功 | 南京条約でイギリスに割譲した。 |

4 1～2の文章と図版に関連して、問1～問6に答えよ。

1 1854年に日米和親条約が締結されて、日本は開国した。当時の世界は、イギリスを中心にして、海上航路が東西に延びつつあったが、アメリカ合衆国は、その海上航路網の西端に、東アジアはその東端に位置していた。日米和親条約の調印は、その西端と東端をつなぐ太平洋横断航路の成立にとって不可欠なものであり、これによって世界の交通網は、端のない円形の構造へと変化していく。そしてそれは、アメリカ合衆国にとって、世界の端から脱し、世界の中心へと移動する可能性を開くものでもあった。



日米和親条約締結の記念碑(横浜)

問1 下線部分イギリスの19世紀のようすについて述べた文として適切なものを、次の①～④のうちから一つ選べ。解答番号は 。

- ① タンジマート(恩恵改革)が実施された。
- ② マグナ=カルタ(大憲章)が発布された。
- ③ グプタ朝が成立した。
- ④ チャーティスト運動がおこった。

問 2 下線部分**アメリカ合衆国**で 19 世紀に行われた演説が次の資料である。この演説をした人物と、演説についての説明との組合せとして正しいものを、下の①～④のうちから一つ選べ。解答番号は 13。

…われわれの祖先は、自由を胸にいだき、すべての人は平等につくられているとの信条に身をささげ、この大陸に新しい国家を建設したのであります。今やわれわれは、一大国内戦争に従事して、…この国に、神のめぐみのもと、自由の新しき誕生をもたらし、また、人民の、人民による、人民のための政府が、この地上より消滅することのないようにすべきであります。

| | 人 物 | 説 明 |
|---|------|----------------------|
| ① | ホメロス | 南北戦争中に行われた演説である。 |
| ② | ホメロス | ペロポネソス戦争中に行われた演説である。 |
| ③ | リンカン | 南北戦争中に行われた演説である。 |
| ④ | リンカン | ペロポネソス戦争中に行われた演説である。 |

2 19世紀中ころのカリフォルニアのゴールドラッシュも、太平洋航路のニーズを高めた。

資料1

カリフォルニアの金とアメリカ人の不撓^{ふとう}の精力のおかげで、太平洋の両岸(アメリカ西海岸と東アジア)はたちまちのうちに、今日のボストンからニューオーリンズにいたる海岸同様の人口を持つこととなり、商業の天地^(c)と化するであろう。その時こそ太平洋は、今日大西洋が、そして古代中世に地中海が演じた同じ役割を——世界交通の大水路たる役割^(d)を演じることとなるだろう。同時に大西洋は、今日の地中海同様の単なる内海の役割にまで没落してしまうのだ。…

資料1は、マルクス^(e)が、日米和親条約締結前の1850年に書いたものである。マルクスは、ゴールドラッシュ^(e)が一つの契機となり、やがてアメリカ西海岸と東アジア^(f)が海運で結ばれることによって、世界の構造が一変することを予見している。



マルクス

問 3 下線部分^(c)ボストンで 1773 年におきた反イギリス運動の説明と、ボストンの略地図中のおよその位置との組合せとして正しいものを、下の①～④のうちから一つ選べ。

解答番号は 14。



| | 説 明 | 位 置 |
|---|---------------|-----|
| ① | 茶法に反対しておこった。 | あ |
| ② | 茶法に反対しておこった。 | い |
| ③ | 贖宥状に反対しておこった。 | あ |
| ④ | 贖宥状に反対しておこった。 | い |

問 4 下線部分^(d)大西洋の両岸でおきたことをまとめた、次の年表中の A に当てはまる出来事を、下の①～④のうちから一つ選べ。解答番号は 15。

| | |
|--------|---|
| 1794 年 | フランスの国民公会が奴隷廃止を宣言した。 |
| 1804 年 | A |
| 1833 年 | イギリスで奴隷制が廃止された。 |
| 1852 年 | ストウが『アンクル＝トム的小屋』を発表して、奴隷制に反対した。 |

- ① 南アフリカ共和国でアパルトヘイトが廃止された。
- ② ハイチが黒人共和国として独立した。
- ③ アイバクが奴隷王朝を建てた。
- ④ コルテスがアステカ王国を征服した。

問 5 下線部分マルクスが、彼の親友とともに、1848年に発表したのが次の資料である。
 資料の中の^(e) **B** に当てはまる語句と、これを一緒に発表した親友との組合せとして正しいものを、下の①～④のうちから一つ選べ。解答番号は **16**。

一つの妖怪がヨーロッパを歩き回っている。 **B** という妖怪が。旧ヨーロッパのすべての権力が、この妖怪を狩りたてるという神聖な仕事のために、同盟を結んでいる。…今日まですべての社会の歴史は、階級闘争の歴史である。…支配階級は **B** 革命を前に恐れおののくがよい。労働者は鉄鎖以外に失うものを何も持たない。得るものは全世界である。万国の労働者よ団結せよ。

| | B | 親友 |
|---|----------|-------|
| ① | 重農主義 | ルター |
| ② | 重農主義 | エンゲルス |
| ③ | 共産主義 | ルター |
| ④ | 共産主義 | エンゲルス |

問 6 下線部分東アジアの19世紀の出来事について述べた文として適切なものを、次の①～④のうちから一つ選べ。解答番号は **17**。

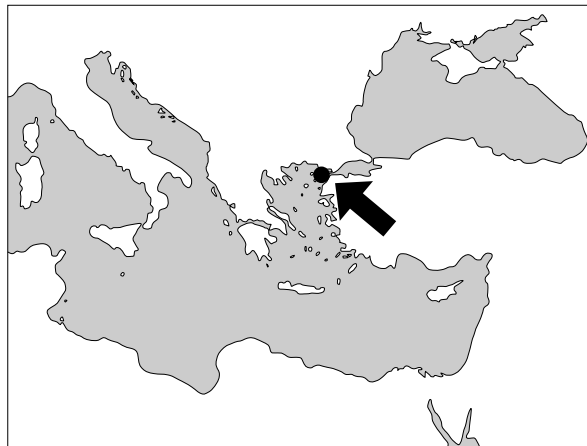
- ① 張騫が、西域に派遣された。
- ② 徳川家康が、朱印船貿易を行った。
- ③ 曾国藩らが、洋務運動を進めた。
- ④ 李成桂が、朝鮮(李氏朝鮮)を建国した。

5 1～2の文章と図版に関連して、問1～問7に答えよ。

1 イギリスの物理学者ヘンリー＝モーズリーは、1913年、原子番号の物理的意味を明らかにして未発見元素の存在の予測を可能にするという画期的な科学的発見をした。1914年に第**(a)**次世界大戦が勃発すると、彼は志願兵としてイギリス軍の部隊に所属し、1915年にオスマン帝国に対するガリポリ上陸作戦に参加したが、27歳で戦死した。この上陸作戦を推進したのは、当時のイギリス海軍大臣チャーチルだったが、作戦失敗により大臣を辞職した。一方、この戦いでオスマン帝国軍の司令官として、英・仏等の連合軍を撤退させた **(b)** **A** は、一躍国民的英雄となった。**(c)** **A** はのちにトルコ革命を主導し、トルコ共和国初代大統領となる。ところで、モーズリーはノーベル賞に値する成果を残しながら、存命者のみに与えられるその栄誉を受けることはなかった。一方、後に首相となったチャーチルは、1953年にノーベル文学賞を受賞している。




ヘンリー＝モーズリー

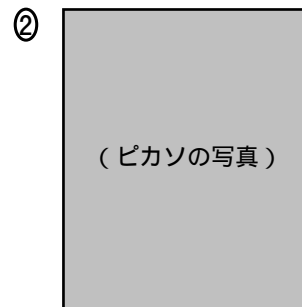


ガリポリの位置

問 1 下線部分科学的発見^(a)に関して、19世紀末にラジウムを発見し、後にノーベル賞を受賞した人物を、次の①～④のうちから一つ選べ。解答番号は 。



エディソン

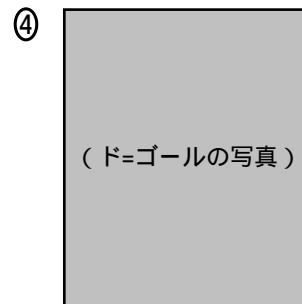


(ピカソの写真)

ピカソ



マリ = キュリー



(ド=ゴールの写真)

ド = ゴール

問 2 下線部分第一次世界大戦^(b)について述べた文として適切なものを、次の①～④のうちから一つ選べ。解答番号は 。

- ① バスティーユ牢獄襲撃を機に始まった。
- ② 日本は、日英同盟を理由に参戦した。
- ③ 真珠湾攻撃を機に、アメリカ合衆国が参戦した。
- ④ カロヴィッツ条約で講和が結ばれた。

問 3 下線部分チャーチル^(c)について述べた文として適切なものを、次の①～④のうちから一つ選べ。解答番号は 。

- ① オーストリア・イタリアと三国同盟を結んだ。
- ② 初めて労働党内閣を組織した。
- ③ イエズス会を創設した。
- ④ 大西洋憲章を発表した。

問 4 に当てはまる人物と、 がトルコ共和国大統領として実施した政策との組合せとして正しいものを、次の①～④のうちから一つ選べ。解答番号は 。

| | <input type="text" value="A"/> | 政 策 |
|---|--------------------------------|------------|
| ① | ムスタファ＝ケマル(ケマル＝パシヤ) | カリフ制を廃止した。 |
| ② | ムスタファ＝ケマル(ケマル＝パシヤ) | 三部会を開催した。 |
| ③ | アウラングゼーブ | カリフ制を廃止した。 |
| ④ | アウラングゼーブ | 三部会を開催した。 |

2 木村さんは、交通手段や情報・通信技術の発展にともない、移民や留学などの人の移動が増加したことについて調査した。調べていくうちに、フランスは自由・平等を普遍的な理念とし、政教分離を原則として、様々な政治家や思想家・文化人などを受け入れてきたことを知り、フランスに渡った主な歴史上の人物を次の表にまとめた。

| 人 物 | 出 身 | フランスでの活動 | フランスを離れた後の活動 |
|---|--------------------|---|---|
|  (ホー=チ=ミン) ホー=チ=ミン | フランス領 (d) インドシナ | 1911年フランス商船の見習いコックとして渡仏する。 1920年フランス共産党結成に参加する。 | 1930年インドシナ共産党を結成する。 1941年フランスから独立するための統一戦線を結成する。 |
|  (岡本太郎) 岡本太郎 | 日 本 | 1930年両親と渡仏し、パリ大学で美学や民俗学を学ぶ。 1940年ドイツ軍のパリ侵攻(e)を機に帰国する。 | 1970年大阪万国博覧会に際し「太陽の塔」を制作する。 |
|  トロツキー | ウクライナ | 1914年から16年までフランスに移住し、反戦を訴える活動を展開する。 ソ連追放後、1933年から35年までフランスに亡命する。 | 1917年ロシア十月革命(十一月革命)(f)で中心的役割を果たす。 1940年メキシコで暗殺される。 |

6 1～2の文章と図版に関連して、問1～問6に答えよ。

1 本について、生徒と先生が会話している。

生徒： 先生、中国に関する何か面白い本はありませんか。

先生： 感想文の宿題ですか。中国人作家ユン＝チアンが書いた『ワイルド・スワン』はどうですか。

生徒： どんな内容ですか。

先生： 日中戦争や1949年^(a)の中華人民共和国成立、1950年代末に始まった大躍進政策^(b)など、20世紀の中国の出来事の中で人々がどのように生きたかがわかる本です。

生徒： 面白そうですね。

先生： 1960年代^(c)のプロレタリア文化大革命での作者の生活は、大変なものでした。読み始めたら止まりませんよ。最後は1989年の豊かな暮らしと貧しい暮らしの対照的な描写で終わります。



『ワイルド・スワン』と著者のユン＝チアン

問1 下線部分^(a)中華人民共和国成立以降の世界の出来事について述べた次の(ア)～(ウ)を、古いものから順に正しく並べたものを、下の①～④のうちから一つ選べ。解答番号は **25**。

(ア) ベルリンの壁が崩壊した。

(イ) 日本がサンフランシスコ平和条約を結び、独立を回復した。

(ウ) アメリカ合衆国で、9・11同時多発テロ事件がおこった。

① (ア)→(ウ)→(イ)

② (イ)→(ア)→(ウ)

③ (イ)→(ウ)→(ア)

④ (ウ)→(イ)→(ア)

問 2 下線部分^(b)大躍進政策について述べた文として適切なものを、次の①～④のうちから一つ選べ。解答番号は 。

- ① 農業集団化が進められたが、多大な犠牲を出した。
- ② 改革開放が唱えられ、社会主義市場経済が導入された。
- ③ 全国産業復興法(NIRA)が定められた。
- ④ スワラージなどの四大綱領が定められた。

問 3 下線部分^(c)1960年代には、米ソ両陣営のいずれにも属さない第三勢力が結集して、ベオグラードで会議が開催された。この会議を次の①～④のうちから一つ選べ。

解答番号は 。

- ① 先進国首脳会議(サミット)
- ② 大陸会議
- ③ 非同盟諸国首脳会議
- ④ クリルタイ

2 本について、生徒と先生が会話している。

生徒： 先生、他にお薦めの本はありませんか。


先生： プラハを舞台にした『存在の耐えられない軽さ』はどうですか。

生徒： ちょっとカッコいい題名です。

先生： 著者のミラン＝クンデラは1928年にチェコスロヴァキアで生まれ、1963年に本格的に創作活動を始めました。しかし、1968年に「プラハの春」とよばれる自由化路線が進められると A ^(d)，自由化路線が弾圧されました。そこで、彼はフランスへ出国し、フランス市民権を得ました。その後、この作品を書いています。1968年前後のチェコスロヴァキアやヨーロッパのようすなども描かれています。

生徒： 舞台がプラハとおっしゃいましたが、プラハはアメリカ合衆国のオバマ大統領が核軍縮 ^(f)に関する演説をした地ですよ。

先生： よく知っていますね。「核なき世界」とよばれる演説ですね。オバマ大統領はこの演説などが評価されて、ノーベル平和賞を受賞していますね。



『存在の耐えられない軽さ』と著者のミラン＝クンデラ

7 次の文章と図版に関連して、問1～問2に答えよ。

戦争・紛争には、国家参加型、非国家主体型、一方的暴力型がある。この中で、もっとも戦死者が多く発生するのが、国家参加型の紛争である。次の図は、国家参加型の紛争における地域別の戦死者数を示している。戦死者数の確定は難しいため、この数字は低く見積もられたものである。世界中で5000万から8000万人もが被害を受けたとされる第二次世界大戦と比べれば、戦死者数は全体として減少してきている。しかし、近年ではこれらの類型に当てはめきれないテロなどによる犠牲者が増加している。

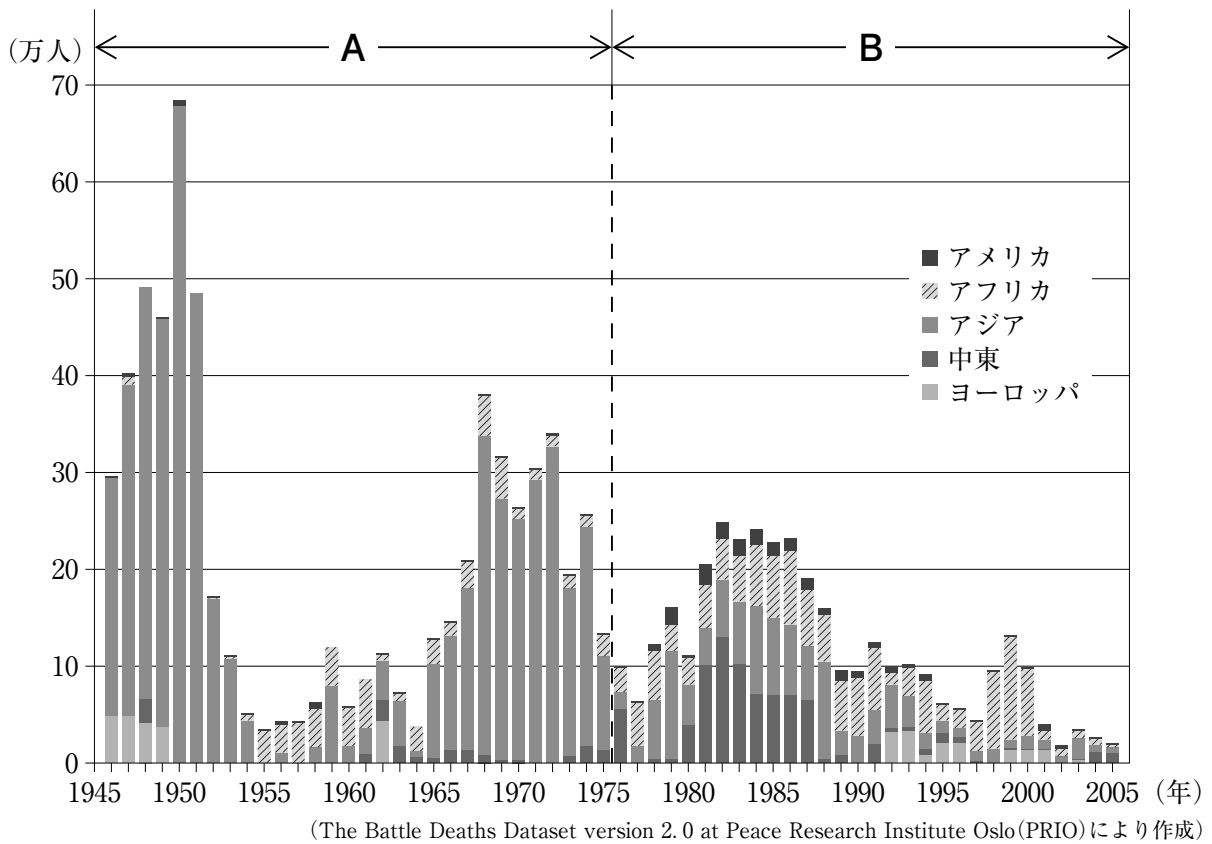


図 国家参加型の紛争における地域別の戦死者数

問 1 図の A で示した時期について述べた次の文の **ア** と **イ** に当てはまる語句の組合せとして正しいものを、下の①～④のうちから一つ選べ。解答番号は **31**。

A の時期に戦死者がもっとも多い地域は **ア** である。これは、**イ** が他の地域では実際の戦闘にならなかったが、この地域では戦闘となってあらわれたことが一因だと考えられる。

| | ア | イ |
|---|----------|----------|
| ① | アジア | 東西冷戦 |
| ② | アジア | 南北問題 |
| ③ | アフリカ | 東西冷戦 |
| ④ | アフリカ | 南北問題 |

問 2 図の B で示した時期の特徴について述べた次の(ア)・(イ)の正誤を判断し、その組合せとして正しいものを、下の①～④のうちから一つ選べ。解答番号は **32**。

- (ア) B の時期の前半に、中東で戦死者が増加したのは、第 1 次中東戦争(パレスチナ戦争)が一因であると考えられる。
- (イ) B の時期の後半に、ヨーロッパで戦死者が発生したのは、社会主義の崩壊後におこった内戦が一因であると考えられる。

- ① (ア)ー正 (イ)ー正
- ② (ア)ー正 (イ)ー誤
- ③ (ア)ー誤 (イ)ー正
- ④ (ア)ー誤 (イ)ー誤

(これで世界史 A の問題は終わりです。)