

ホームへ

書名入る

第1編 現代世界の系統地理的考察

- 第1章 自然環境
- 第2章 産業と資源
- 第3章 交通・通信、貿易、観光
- 第4章 人口、村落・都市
- 第5章 生活文化、民族・宗教

用語解説

デジタル用語解説「ジオ・ワード600」

→別紙 8-1

書名入る > 第1編 現代世界の系統地理的考察

解説

民族

総合 探究

文化を共有し、民族としてのアイデンティティをもつ人々のまとまりのこと。多くの場合、言語や生活様式を共有するが、民族の境界線を客観的に引くことは困難である。歴史的に形成された帰属意識（同じ民族であるというアイデンティティ）にもとづくまとまりということができる。

近代の国民国家は単一国家・単一民族を理想とし、国民統合をめざしたが、現実には大半の国は多民族国家である。

一方、「人種」はかつて身体的な特徴にもとづいて人類をいくつかのカテゴリーに区分したもののだが、これも客観的（生物学的・遺伝学的）な区分は不可能であり、学術的には過去概念になりつつある。現在でも、慣習的に人種概念にもとづく語が用いられることがあるが、これらには差別的な意味合いが含まれることもあり、注意が必要である。

関連項目：[国民国家](#)、[多文化主義](#)、[多民族国家](#)、[ナショナリズム](#)、[文化](#)、[マイノリティ](#)

ホームへ

書名入る

第2編 現代世界の地誌的考察

第1章 現代世界の地域区分

212 読み上げ音声 (第2編第1章1節)













第2章 現代世界の諸地域

用語解説

読み上げ音声 (第2編第1章1節)

→別紙 3-1 に同じ

書名入る > 第2編 現代世界の地誌的考察

ホームへ		書名入る	
第2編 現代世界の地誌的考察			
第1章 現代世界の地域区分			
第2章 現代世界の諸地域			
用語解説			
書名入る > 第2編 現代世界の地誌的考察			
218	読み上げ音声 (第2編第2章1節)		→別紙 3-1 に同じ
218	地域別の白地図データ 東アジア		→別紙 10-1
218	思考問題セクション ジオ・トレ (東アジア)		→別紙 10-2
230	読み上げ音声 (第2編第2章2節)		→別紙 3-1 に同じ
230	地域別の白地図データ 東南アジア		→別紙 10-3
230	思考問題セクション ジオ・トレ (東南アジア)		→別紙 10-4
238	読み上げ音声 (第2編第2章3節)		→別紙 3-1 に同じ
238	地域別の白地図データ 南アジア		→別紙 10-5
238	思考問題セクション ジオ・トレ (南アジア)		→別紙 10-6
246	読み上げ音声 (第2編第2章4節)		→別紙 3-1 に同じ
246	地域別の白地図データ 西アジア・中央アジア		→別紙 10-7
246	思考問題セクション ジオ・トレ (西アジア・中央アジア)		→別紙 10-8

252	読み上げ音声 (第2編第2章5節)		➔別紙 3-1 に同じ
252	地域別の白地図データ アフリカ		➔別紙 10-9
252	思考問題セレクション ジオ・トレ (アフリカ)		➔別紙 10-10
258	読み上げ音声 (第2編第2章6節)		➔別紙 3-1 に同じ
258	地域別の白地図データ ヨーロッパ		➔別紙 10-11
258	思考問題セレクション ジオ・トレ (ヨーロッパ)		➔別紙 10-12
268	読み上げ音声 (第2編第2章7節)		➔別紙 3-1 に同じ
268	地域別の白地図データ ロシア		➔別紙 10-13
268	思考問題セレクション ジオトレ (ロシア)		➔別紙 10-14
274	読み上げ音声 (第2編第2章8節)		➔別紙 3-1 に同じ
274	地域別の白地図データ アングロアメリカ		➔別紙 10-15
274	思考問題セレクション ジオ・トレ (アングロアメリカ)		➔別紙 10-16

284

読み上げ音声 (第2編第2章9節)



➡別紙 3-1 に同じ

284

地域別の白地図データ
ラテンアメリカ

➡別紙 10-17

284

思考問題セレクション
ジオ・トレ (ラテンアメリカ)

➡別紙 10-18

290

読み上げ音声 (第2編第2章10節)



➡別紙 3-1 に同じ

290

地域別の白地図データ
オセアニア

➡別紙 10-19

290

思考問題セレクション
ジオ・トレ (オセアニア)

➡別紙 10-20



思考問題セレクション

ジオ・トレ

— 東アジア —

第2編 第2章 1節 東アジア

教科書 p.218~229

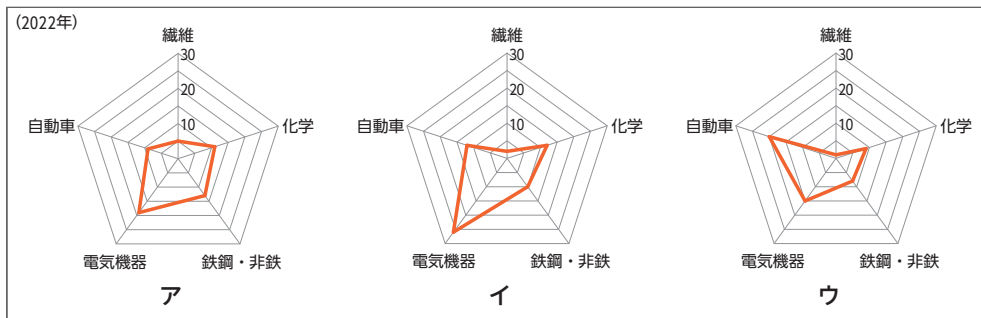
問題編

次の図①中のア～ウは、韓国*、中国**、日本のいずれかにおける工業***の業種別の生産額割合をレーダーチャートで示したものである。また、後の図②中のA～Cは、これら3か国のいずれかにおける穀物の1haあたりの収量の推移を示したものである。ア～ウとA～Cとの正しい組合せを、後の①～⑥のうちから一つ選べ。

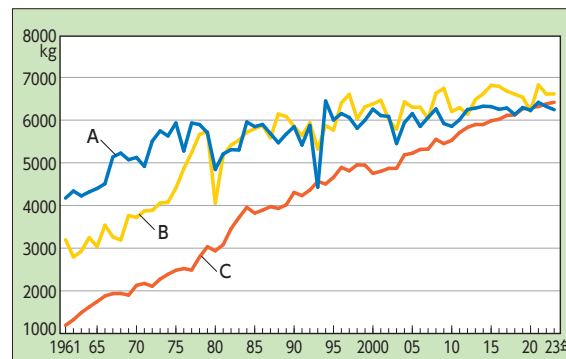
*生産者価格にもとづく。

**台湾、ホンコン、マカオを含まない。生産額は、従業者10人以上の事業所。

***電気機械には事務用機器(パソコン等)、テレビ、通信機器類、精密機器(医学、光学用等)をふくむ。



①各国における工業の業種別の生産額割合 (UNIDO 資料)



②各国における穀物の1haあたりの収量の推移 (FAOSTAT)

	①	②	③	④	⑤	⑥
ア	A	A	B	B	C	C
イ	B	C	A	C	A	B
ウ	C	B	C	A	B	A



思考問題セレクション

ジオ・トレ

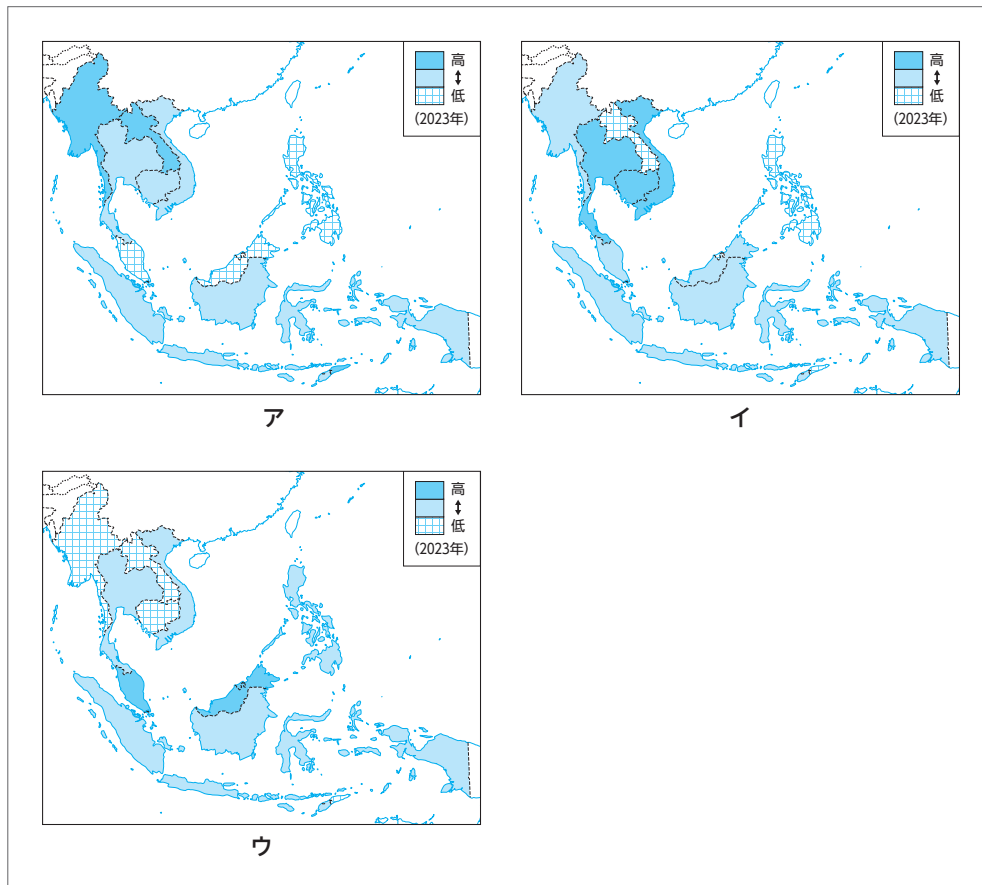
— 東南アジア —

第2編 第2章 2節 東南アジア

教科書 p.230~237

問題編

次の図1中のア~ウは、東南アジアの国ごとにおける一人あたりのGDP、就業者人口に占める農業人口の割合、国内総生産に占める製造業の割合を示したものである。また、後の図2中のAとBは、準NIEsのタイとマレーシアのいずれかにおける輸出品目について、1980年と2022年の上位輸出品目と輸出額に占める割合について示したものである。図1で国内総生産に占める製造業の割合と、図2でマレーシアに該当するものとの正しい組合せを、後の①~⑥のうちから一つ選べ。



1 東南アジア各国における各種指標 (World Development Indicators)

(次ページへ続く)



思考問題セレクション

ジオ・トレ

— 南アジア —

第2編 第2章 3節 南アジア

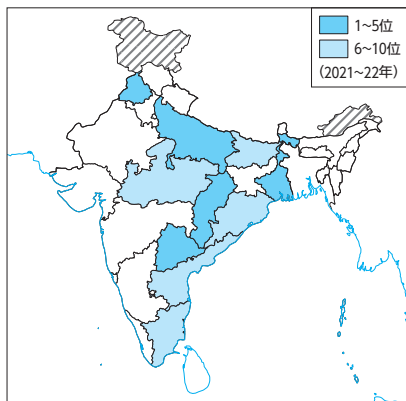
教科書 p.238~245

問題編

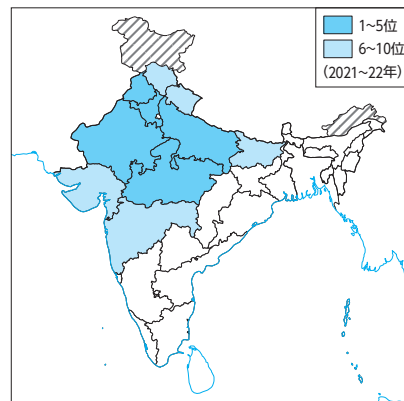
次の図①中のインドとその周辺地域を示したものであり、後の図②中のAとBは、インドの米と小麦の生産量上位10州について示したものである。図①と図②にすることがらについて述べた後の文章中の空欄カ〜クに入る記号の組合せとして最も適当なものを、後の①〜⑧のうちから一つ選べ。



①インドとその周辺地域



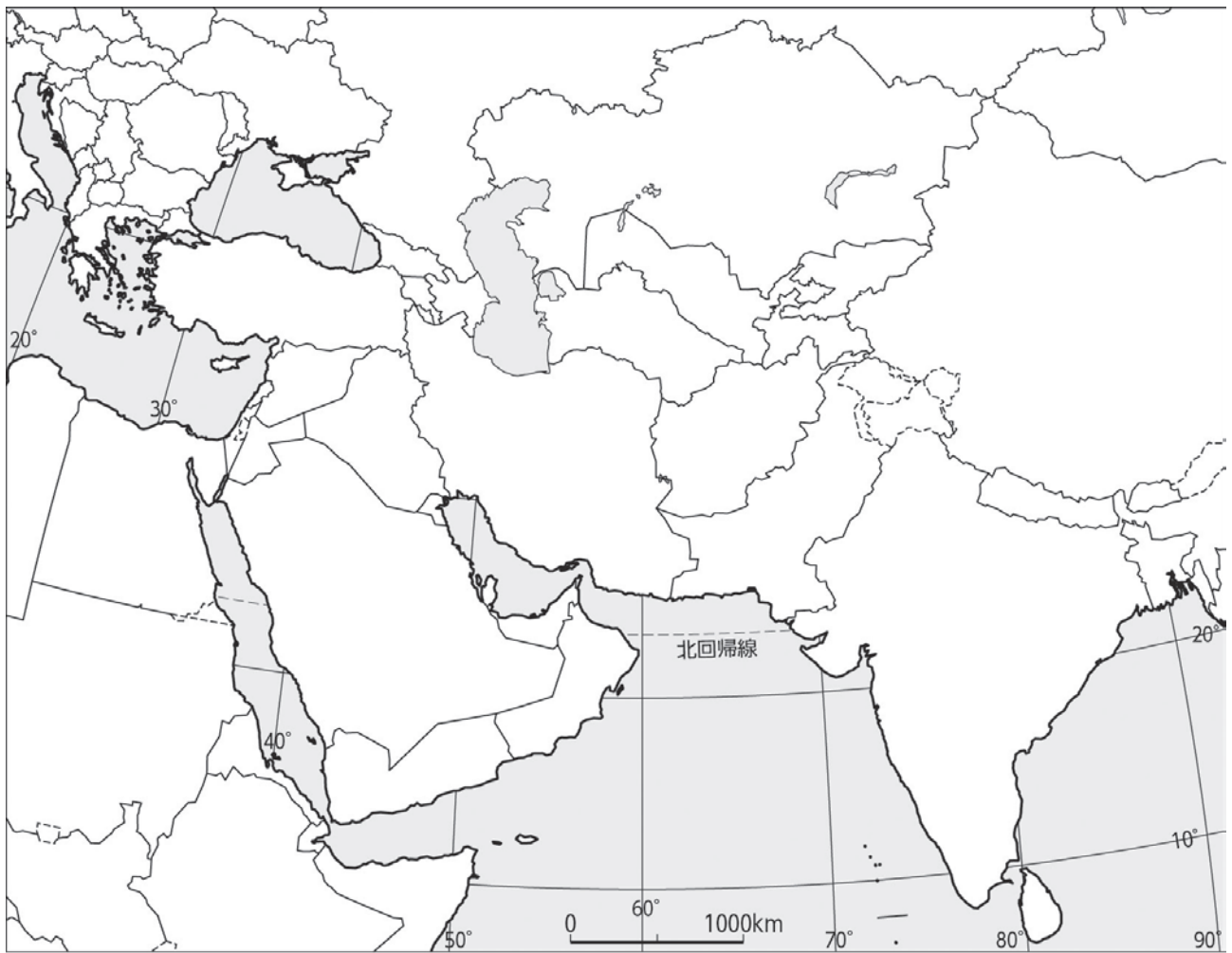
A



B

②インドの米と小麦の生産量上位10州 (India Agricultural Statistics At A Glance 2023)

(次ページへ続く)



思考問題セレクション

ジオ・トレ

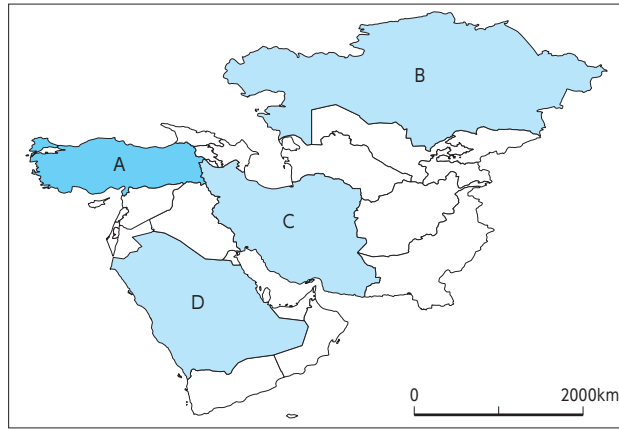
— 西アジア・中央アジア —

第2編 第2章 4節 西アジア・中央アジア

教科書 p.246～251

問題編

西アジア・中央アジア各国は、言語や宗教、土地利用、貿易などに共通する点もあれば、異なる点もある。後の①～④の文は、次の図①中の国A～Dの言語や宗教、産業の特徴を述べたものである。これらのうち、国Aのみに当てはまるものと、国Aのみに当てはまらないものを、①～④のうちから一つずつ選べ。



① 西アジア・中央アジアの全体図

- ① 国内で最も話されている言語は、アルタイ諸語に属する。
- ② 国内で最も信仰されている宗教は、イスラームのスナナ派である。
- ③ 国内の土地面積に占める耕地・樹園地の割合は、3割を上回る。
- ④ 輸出品目の内訳を、食料品、原材料・燃料、工業製品の3つに分類した場合、原材料・燃料が最も高い。



思考問題セレクション

ジオ・トレ

— アフリカ —

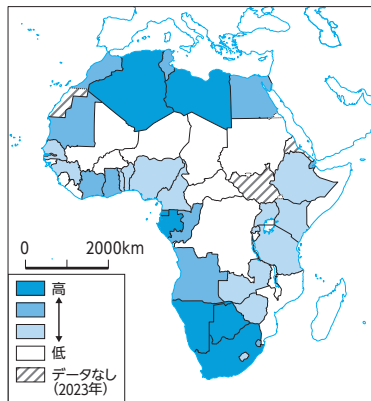
第2編 第2章 5節 北アフリカとサハラ以南アフリカ

教科書 p.252~257

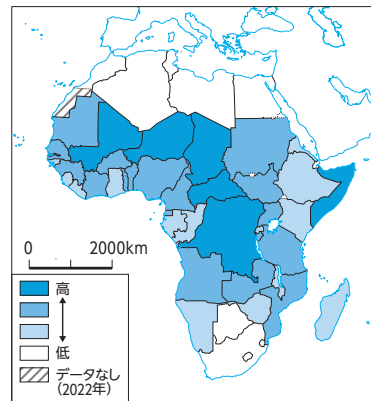
問題編

次の図①は、アフリカの国々について、一人あたりGNIや人口や労働に関する各種指標を示したものであり、図①中のA~Cは、合計特殊出生率*、女性の労働力率、平均寿命のいずれかである。また、後の図②中のア~ウは、各国の輸出額に占める割合において、食料品、原材料・燃料、工業製品のいずれかの割合が20%以上の国を示したものである。女性の労働力率と工業製品の割合が20%以上の国との正しい組合せを、後の①~⑨のうちから一つ選べ。

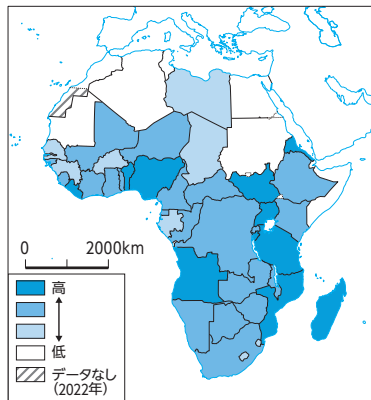
*1人の女性が一生のうちで生む子供の数の平均。



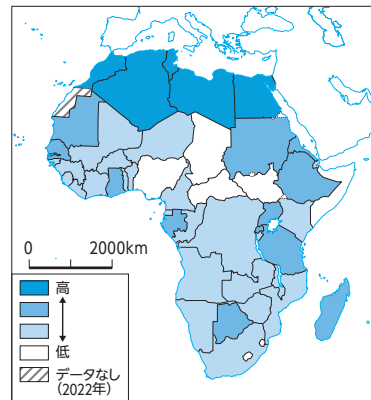
一人あたりのGNI



A



B



C

① アフリカにおける各種指標 (世界銀行資料)

(次ページへ続く)

