

平成30年度 現代社会 (50分)

注 意 事 項

- 1 試験開始の合図があるまで、この問題冊子の中を見てはいけない。
- 2 この問題冊子は51ページである。
試験中に問題冊子の印刷不鮮明、ページの落丁・乱丁及び汚れ等に気付いた場合は、手を挙げて監督者に知らせること。
- 3 試験開始の合図前に、監督者の指示に従って、解答用紙の該当欄に以下の内容をそれぞれ正しく記入し、マークすること。
 - ・①氏名欄
氏名を記入すること。
 - ・②受験番号、③生年月日、④受験地欄
受験番号、生年月日を記入し、さらにマーク欄に受験番号(数字)、生年月日(年号・数字)、受験地をマークすること。
- 4 受験番号、生年月日、受験地が正しくマークされていない場合は、採点できないことがある。
- 5 解答は、解答用紙の解答欄にマークすること。例えば、

10

と表示のある解答番号に対して②と解答する場合は、次の(例)のように解答番号10の解答欄の②にマークすること。

(例)

解答 番号	解 答 欄			
10	①	②	③	④

- 6 問題冊子の余白等は適宜利用してよいが、どのページも切り離してはいけない。
- 7 試験終了後、問題冊子は持ち帰ってよい。

現代社会

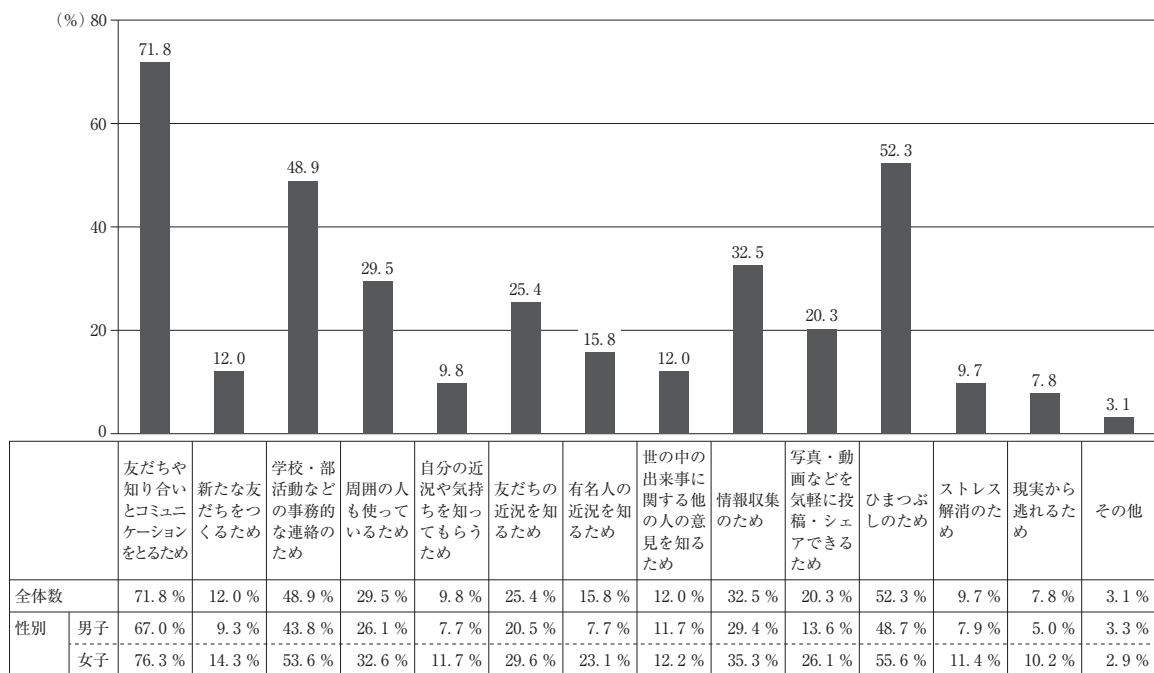
(解答番号 1 ~ 24)

1 次の会話文を読んで、問1～問3に答えよ。

先生：皆さんは、日々の生活のなかでテレビや新聞などのマスメディアから情報を得るだけではなく、パソコンやスマートフォンなどから、インターネットを利用して情報を得ていると思います。それだけではなく、SNS(ソーシャルネットワーキングサービス)を利用して情報を発信し、相互にやりとりをしている人も多いのではないのでしょうか。こうしたメディアを、ソーシャルメディアといいます。その利用について皆さんはどう考えますか。

みなみ：私は、SNSを利用して、部活動の連絡をよくしています。グラフ1は、高校生がソーシャルメディアを利用する理由や目的をまとめたものです。Aが読み取れ、SNSは高校生にとって大切なコミュニケーションツールであるといえますね。

グラフ1 ソーシャルメディアを利用する理由・目的(複数回答)2014年



(総務省情報通信政策研究所「高校生のスマートフォン・アプリ利用とネット依存傾向に関する調査」により作成)

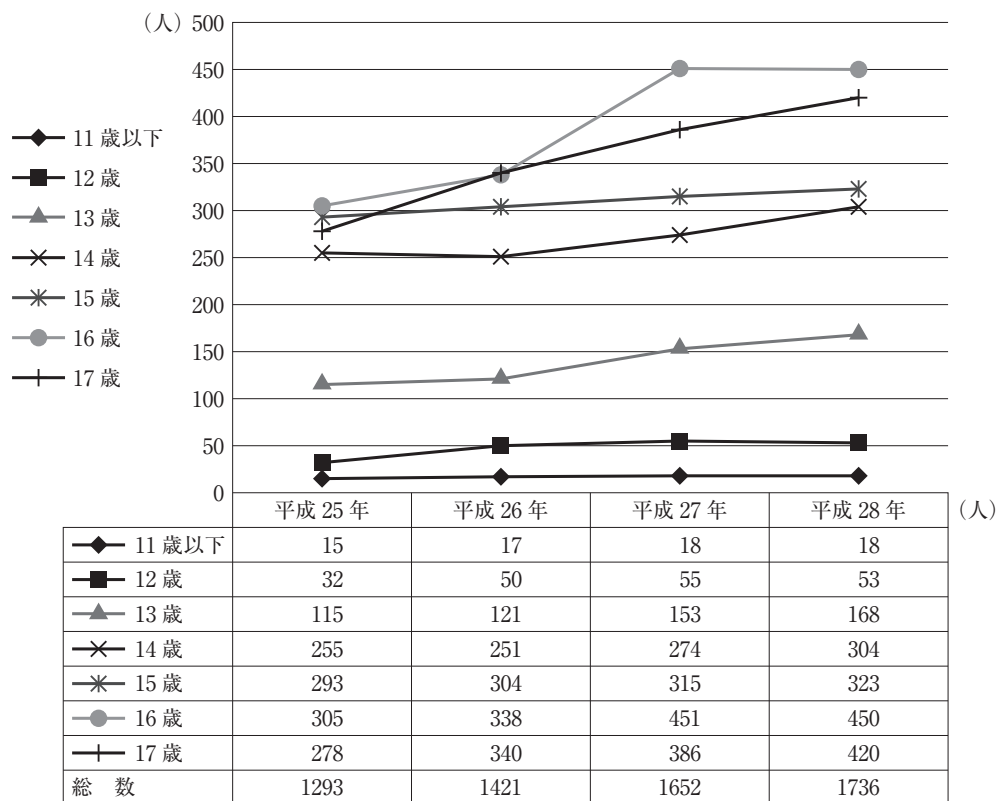
七海：私も、SNSを利用して、学校や部活動などの連絡をよくしています。でもその結果、勉強をしている時や本を読んでいる時も、友達からの連絡に早く返信をするために、スマートフォンを手放せなくなっています。SNSのようなソーシャルメディアの利用に

よって、勉強時間が減ったり、睡眠時間が削られたりしている人もいるのではないのでしょうか。

颯 大：ソーシャルメディアは、便利なコミュニケーションツールといえますが、相手の顔が見えないことにより、誤解が生じたり、深く傷つけてしまったりするといったトラブルがあると聞きます。やはりコミュニケーションは、面と向かってすべきではないでしょうか。

七 海：そうよね。ソーシャルメディアは、いじめの温床になったり、犯罪に巻き込まれたり社会的な問題も起きているよね。グラフ2は、コミュニティサイトにおける年齢別被害児童数の推移ですが、これをみると、**B** が読み取れます。被害にあってからでは遅いので、ソーシャルメディアの利用に関する法整備をするなど、社会全体でもっと厳しく規制すべきだと思います。

グラフ2 コミュニティサイトにおける年齢別被害児童数の推移



(警察庁ホームページにより作成)

みなみ：確かに、犯罪の温床になることもあります。東日本大震災の際には、電話やメールがつながりにくいなか、安否や状況を伝える情報交換の場となりました。また、ソーシャルメディアを学習に活用している人もいます。ソーシャルメディアの利用を制限するよりは、各自が効果的に利用するための力である **C** を学び、行動することが大切だとする指摘もあります。

海斗：私はよく投稿された写真や動画を見ますが、なかには不適切な写真や動画もあります。
 ただ、これらは個人の使い方が問題なので、家庭や学校でルールを決めればよく、社会全体で厳しい規制をする必要はないと思います。

先生：ソーシャルメディアの利用に関して、意見が分かれましたね。サービスが急速に拡大しているので、社会全体での規制は難しそうですね。ただし、犯罪などの社会的な問題が発生しているので、規制が全く必要ないというわけではなく、危険性などを周知することは必要ですね。それでは、皆さんでソーシャルメディアを利用する際に気をつけること^(b)を考えてみましょう。

問 1 会話文中の **A** , **B** , **C** にあてはまるものの組合せとして適切なものを、下の①～④のうちから一つ選べ。解答番号は **1** 。

A にあてはまる選択肢

- ア 男子と女子を合わせた全体数をみると、「友だちや知り合いとコミュニケーションをとるため」は1番目、「学校・部活動などの事務的な連絡のため」は3番目に高くなっていること
- イ 男子と女子それぞれの回答をみると、全ての項目で女子の回答より男子の回答が高くなっており、「写真・動画などを気軽に投稿・シェアできるため」は、女子に比べて10ポイント以上高くなっていること

B にあてはまる選択肢

- ウ 17歳の被害児童数は平成25年以降一貫して増加し続けており、平成28年における17歳の被害児童数は、14歳の被害児童数の2倍以上となっていること
- エ 被害児童総数は平成25年以降一貫して増加し続けており、被害児童総数に占める14歳以上の割合は、いずれの年も7割を超えていること

C にあてはまる選択肢

- オ コンプライアンス
- カ 情報リテラシー

	A	B	C
①	ア	ウ	オ
②	ア	エ	カ
③	イ	ウ	カ
④	イ	エ	オ

問 2 下線部分^(a)法整備に関連して、日本の情報に関する法律とそれに対応する説明との組合せとして適切なものを、下の①～④のうちから一つ選べ。解答番号は 。

法律

- D 個人情報保護法
- E 不正アクセス禁止法
- F 著作権法
- G 青少年インターネット環境整備法

説明

- キ 文化の発展に寄与することを目的として、著作物並びに実演、レコード、放送及び有線放送に関し著作者の権利及びこれに隣接する権利を定め、その保護を目的とする法律。
- ク 国や地方自治体、事業者などに対し、氏名や住所、生年月日などのデータを適正に扱い、個人の利益や権利を保護することを、義務付けている法律。
- ケ 18歳未満の青少年が、有害サイトを閲覧できないようにするフィルタリングサービスの提供を、携帯電話事業者とインターネット接続役務提供事業者に義務付ける法律。
- コ インターネットなどにおいて、他人のIDやパスワードを無断で使用し、利用権限のないコンピューターを不正に利用したり、データやプログラムを改竄^{かいざん}するなどの行為を禁じる法律。

- ① D－キ E－ケ F－ク G－コ
- ② D－キ E－コ F－ク G－ケ
- ③ D－ク E－ケ F－キ G－コ
- ④ D－ク E－コ F－キ G－ケ

問 3 下線部分^(b)ソーシャルメディアを利用する際に気をつけることに関連して、次の会話文中の , , , にあてはまるものの組合せとして適切なものを、7ページの①～④のうちから一つ選べ。解答番号は 。

会話文

- 先 生：それでは今日はソーシャルメディアを利用する際に気をつけることを、配付したプリントもヒントにしながら、各班で話し合ってみましょう。
- 敦 子：まず、投稿した写真などは世界中の誰でも見ることができるし、こうした写真などを消すのはほとんど不可能なので、発信者としての自覚と責任を持つことが大切ですよ。
- 翔 吾：^{とくめい}匿名っていうけど、調べれば誰が書き込んだかわかるみたいだね。この前、プリントの のように個人情報を掲載している SNS を見ましたが、実名や顔写真などの個人情報を自分はもちろん、他人のものを許可なく投稿しないことが大切だね。情報を見た悪意のある第三者が、学校や自宅まで来たりする可能性があるよね。

- 敦子：投稿するのは自由ですが、人には **I** があるので、勝手に他人の個人情報や生活パターンなどを投稿していないかよく考える必要がありますね。
- さくら：個人情報の掲載の他にも、他人を差別・誹謗・中傷する投稿も問題だよ。実名が出ていればもちろん、実名が出ていなくても、その個人や団体が識別できる形で、社会的評価を不当に貶めるものは、名誉毀損になりますね。
- 翔吾：自分では冗談と思っているつもりでも、インターネットの文字情報だけだと感情は伝わらないから、気をつけないとイケませんね。
- 大智：私は、プリントの **J** のような法やモラルに反する行為を投稿しないことも大切だと思います。こうした行為自体、処罰の対象となり得ますし、こうした投稿と氏名が結びつくと就職前でも就職後でも資質を疑われ、社会人として信用されないことがあるようです。
- さくら：そうなんですか、初めて知りました。あとは、知的財産権の保護という点から書籍や音楽など他者の著作物も、勝手に投稿してはいけませんね。
- 大智：そうだね。他にも、例えばアルバイトをする際、**K** ことは、問題になることがありますよね。
- 先生：さて、各班とも活発な話し合いがされているので、その内容を発表してもらいましょう。それでは、敦子さんの班からお願いします。

プリント



H にあてはまる選択肢

サ 図1

シ 図2

I にあてはまる選択肢

ス 能力に応じて，等しく教育を受ける権利

セ 自己に関する情報をコントロールする権利

J にあてはまる選択肢

ソ 図3

タ 図4

K にあてはまる選択肢

チ アルバイト先のレストランが開発した商品のレシピなど，職務上知り得た情報を投稿する

ツ アルバイト先で販売している商品を，友達にメールで教える

	H	I	J	K
①	サ	ス	ソ	チ
②	サ	ス	タ	ツ
③	シ	セ	ソ	チ
④	シ	セ	タ	ツ

2 次の会話文は2017年4月に開かれた、ミュージシャンのポール・マッカートニーのライブを鑑賞後の高校生とその祖父の会話である。この会話文を読んで、問1～問3に答えよ。

英梨：おじいちゃん、今日のライブ、最高だったね。連れてきてくれてありがとう。

玄一：こちらこそ。孫と一緒に日本武道館でライブを観られる日が来るとは思っていなかったよ。長生きはするもんだ。

英梨：何言ってるの、まだ65歳じゃない。ポールは70歳越えるのに、こんなにパワフルなライブをやってるんだよ。そう言えば、おじいちゃんは50年前にも、ここでポールを観たんでしょ。

玄一：そうだよ。ポールはビートルズのメンバーだったからね。ビートルズは初めて日本武道館で演奏したバンドなんだ。

当時俺は中学二年生で、親に黙って観に行ったんだけど、ばれてえらく叱られたなあ。その頃は「ビートルズを聴くと不良になる」って言われていたからね。

英梨：信じられない。ずいぶんステレオタイプな考え方よね。今ではビートルズの曲は音楽の教科書に載ってるよ。何でそんな風言われたのかな。

玄一：それ以前のポップス、例えばフォークソングなんかと比べると、激しいビートに乗せてギターをかき鳴らしたり、叫ぶように歌ったりしたから、大人たちには騒音にしか聴こえなかったんじゃないかな。それにメンバーの髪型や言動も当時としては型破りだったからね。反抗的な若者の象徴みたいに思われたんだろうね。

英梨：私たちから見れば、全然悪いイメージはないなあ。むしろ髪型なんてマッシュルームカットで可愛いよね。当時だってビートルズは、今のアイドルみたいに女の子に大人気だったんでしょ。

玄一：そうそう。ライブの時も、女の子たちの歓声がすごくてさ。歌も演奏もほとんど聴こえなかった。

英梨：そうなんだ。うるさくて邪魔って思った？

玄一：まあね、その時はね。でも後になってから、あれは一種の女性解放運動だったのかなって思ったんだ。それまで日本女性は、常に控えめでしとやかな生き方を求められてた。でも、ビートルズに熱狂する姿は、そんな縛りから解放されて、すごくエネルギッシュで輝いていたからね。

(ポール・マッカートニー)

ポール・マッカートニー

(ザ・ビートルズの写真)

ザ・ビートルズ(1966年来日公演)

英梨：おじいちゃんのお考え方、好きだなあ。おばあちゃんは幸せね。日本の社会はまだまだ男尊女卑的だと思うの。日本の男性がみんな、おじいちゃんみたいに女性を理解してくれたらいいのに。

玄一：うれしいこと言ってくれるね。たぶん俺は、既成概念にとらわれない考え方もビートルズに教わったんだと思うよ。

問 1 下線部分^(a)ステレオタイプについて、ステレオタイプの説明として適切なものを、次の①～④のうちから一つ選べ。解答番号は 。

- ① 行政などの巨大な組織を合理的・能率的に管理・運営するために考案されたしくみのこと。行政だけでなく、政党・会社・組合など大規模な組織に伴うこともある。権力支配による画一主義・秘密主義などの弊害に陥りやすい傾向がある。
- ② 人間が、自ら生活の手段として作り出した生産物や制度によって支配され、人間性を喪失していること。特に現代の資本主義社会においては、人間関係が利害打算の関係と化し、人間性を喪失しつつある状態に陥りやすい傾向がある。
- ③ ものの見方が紋切り型で、固定的なパターンにより事実を認識したり理解したりするとらえ方のこと。複雑な事象を簡易に説明する場合には役立つが、民族差別のような社会的な弊害を引き起こす場合がある。
- ④ 異文化との接触で受ける、個人の文化的な基盤をゆるがすような衝撃のこと。体験した異文化に強い憧れを持って自文化を批判する場合と、逆にそれに反発して自文化を高く評価し、民族的な優秀さを強調する態度を取る場合がある。

問 2 下線部分^(b)反抗的な若者に関連して、大人文化(体制文化)に対する対抗文化としての性格をもつ若者文化の説明として適切でないものを、次の①～④のうちから一つ選べ。

解答番号は 5。

① 「ラブ&ピース」をスローガンに徴兵制度や派兵に反発し、自然への回帰を主張、伝統・制度など既成の価値観に縛られた社会生活を否定する「ヒッピー」と呼ばれた若者たちの文化は、ヴェトナム戦争への反対運動が発端となってアメリカで生まれ、その後世界中に派生していった。

(若者たちの写真)

銃口に花を刺すヒッピーたち(アメリカ)

② イギリスを中心に、失業者の増加などの社会問題が下地となり、商業主義に走り社会的なメッセージ性が希薄になった従来のロックに反発し、社会に対する不満や怒りを過激に表現する「パンクロック」と呼ばれる音楽が登場し、ファッションや文学と結びついて大きな社会現象となった。

(若者たちの写真)

パンクファッションの若者たち(イギリス)

③ アメリカのアフリカ系やヒスパニック系の若者たちが生み出したと言われる「ヒップホップ」と呼ばれる文化は、ブレイクダンス(アクロバティックな踊り)やラップ(ビートに合わせリズムカルに語りを乗せる音楽)、グラフィティ(落書き)などからなり、ラップは歌詞に反権力などの社会的なメッセージを盛り込んだものが多くみられる。

(若者たちの写真)

ヒップホップ系ファッションの若者たち
(アメリカ)

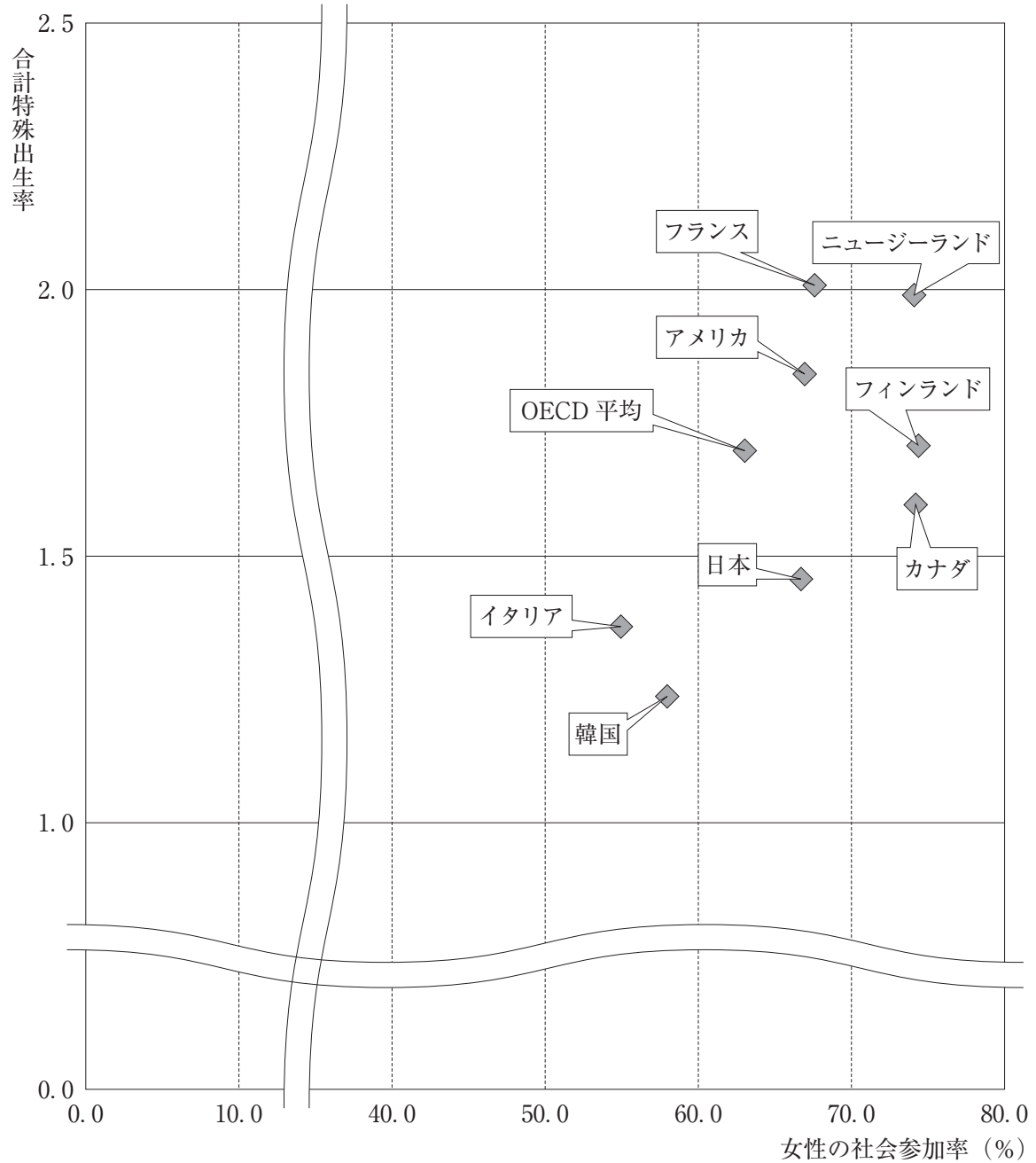
④ 日本のポップミュージックやファッション、キャラクター、アニメ、マンガなどの要素を含む「カワイイ文化」は海外でも注目され、政府が日本文化産業戦略と称して推進する国際戦略「クールジャパン戦略」の主要コンテンツとなっている。この戦略はポップカルチャーに限定されており、既に海外でも認知度の高い歌舞伎等の伝統芸能は含まれていない。

(カフェの写真)

「カワイイ」をテーマにしたカフェ(日本)

問 3 下線部分女性に関連して、次のグラフ 1、グラフ 2 から読み取れる内容として適切なものを、次のページの①～④のうちから一つ選べ。解答番号は 6。

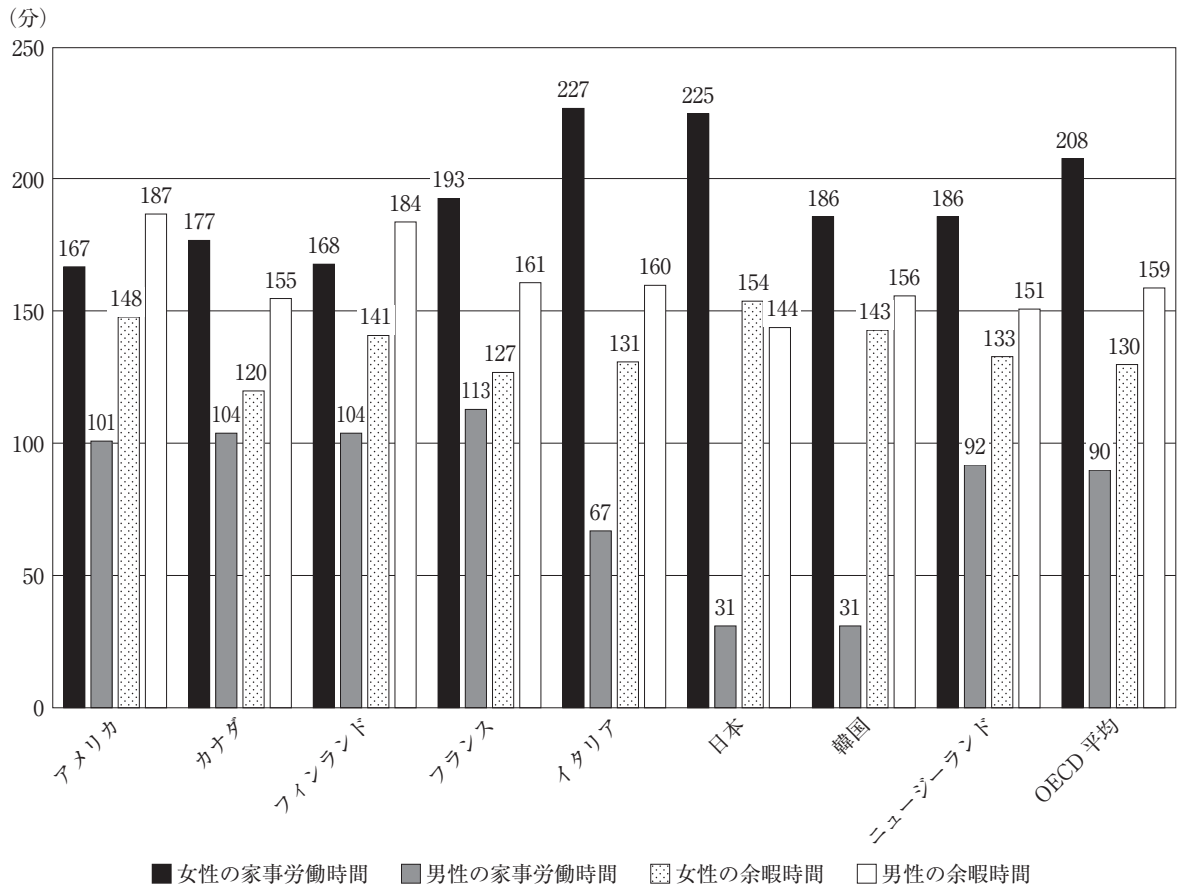
グラフ 1 女性の社会参加率と合計特殊出生率の関係



(注) 「女性の社会参加率」とは、15～64歳の女性労働力率を指す。

(OECD Data 2015 および WORLD BANK-DATA Indicators 2015 により作成)

グラフ2 各国の一日における男女別家事労働時間と余暇時間(単位・分)



(OECD Data 2015 により作成)

- ① グラフ1において、合計特殊出生率と女性の社会参加率がともに OECD 平均値を下回っている国はすべて、グラフ2における女性の家事労働時間が男性の家事労働時間の5倍を越えている。
- ② グラフ1において、合計特殊出生率が最も高い国の女性の社会参加率は OECD 平均値を上回っているが、この国のグラフ2における男性の家事労働時間は OECD 平均値を下回っている。
- ③ グラフ1において、女性の社会参加率が70%以上かつ合計特殊出生率が1.5を上回っている国はすべて、グラフ2における女性の余暇時間が男性より長くなっている。
- ④ グラフ1において、女性の社会参加率が70%未満かつ合計特殊出生率が1.5を下回っている国はすべて、グラフ2における男性の家事労働時間が OECD 平均値を下回っている。

3 次の会話文を読んで、問1～問3に答えよ。

先生：今日は「立法」について学習します。皆さんは法律というものについてどんなイメージを持っていますか。

周平：私たちの自由を縛っているものというイメージがあります。

先生：ではなぜ法律があるのでしょうか。基本的人権のところでも学習したように、人は本来自由な存在で、生まれながらにして誰にも侵害されない権利を持っています。しかし、すべての人の自由を制限無しに認めてしまうとどうなってしまおうでしょうか。例えば、道路をみんなが自由に、好きな乗り物で、好きな場所を、好きな速度で通行できるとするとどうなりますか。

笑笑：とっても危険で安心して通れなくなると思います。

先生：そうです。ある人が自らの自由を主張すると、別の誰かの自由が侵害される恐れが出てしまうのです。そこで、道路交通法といった法律をつくって、自動車の運転を、免許を持つ者に限定したり、速度制限を行ったりする必要があります。これが政治のはたらきです。

雄介：みんなの自由や権利を保障するために、法律によって自由を少し制限するということですね。

先生：その通り。そしてせっかく法律ができて、守らない人がいると自由や権利が侵害される人が出る恐れがあるので、法律をきちんと守らせる必要があります。法律を守らない人にはペナルティを与えることも必要です。政治には **A** が必要なのです。 **A** とは言い換えれば強制力であり、法律のなかでも道路交通法などは、社会の秩序を維持するための強制力を持ったルールであるといえるでしょう。

周平：法律が何のためにあるのか、よくわかりました。

先生：このように、立法には、人々の自由や権利を一部制限したり、義務を課したりする側面があります。かつて立法は一部の権力者によって行われていましたが、現代の民主政治では、主権は国民にあるので、立法は国民の意思を反映して行われるべきということになります。

笑笑：自分たちの自由や権利を制限するルールは、自分たち自身で決めるということですね。

先生：日本国憲法は、立法においては **B** を採用しているので、実際には選挙^(a)によって国民の信託を受けた国会が「唯一の立法機関」として、法律の制定^(b)を行います。

雄介：私たちの権利が保障され、幸福な生活を送っていくために立法の果たす役割は大きいのですね。しかし、国会によって民主的に立法が行われたとしても、憲法で保障された国民の権利を不当に侵害している法律が存在しないとは限らないと思います。

先生：はい、だからそのような法律から国民の権利を守るために **C** のです。

問 1 会話文中の **A** , **B** , **C** にあてはまるものの組合せとして適切なものを、下の①～④のうちから一つ選べ。解答番号は **7** 。

A にあてはまる選択肢

- ア 権力
- イ 自衛力

B にあてはまる選択肢

- ウ 直接民主主義
- エ 議会制民主主義

C にあてはまる選択肢

- オ 国民に内閣総理大臣の指名権があり、行政府の長である内閣総理大臣を国民が選ぶ
- カ 裁判所に違憲法令審査権があり、法律などが憲法に違反していないかどうかを判断する

	A	B	C
①	ア	ウ	オ
②	ア	エ	カ
③	イ	ウ	カ
④	イ	エ	オ

問 2 下線部分^(a)選挙に関連して、次の会話文中の **D** , **E** , **F** にあてはまるものの組合せとして適切なものを、次のページの①～④のうちから一つ選べ。解答番号は **8** 。

会話文

亜未：「一票の格差」の問題って知ってる？

和也：議員一人あたりの有権者人口が選挙区間で異なることで、選挙区によって一票の実質的な価値にかなり差が生じているという問題だよ。表1を見てよ。議員一人あたり有権者数が少ないX選挙区を1とするとY選挙区の議員一人あたり有権者数は2倍の差があるよね。これはつまり **D** ってことになるんだ。

亜未：平等選挙の原則からすると、一票の格差は問題よね。

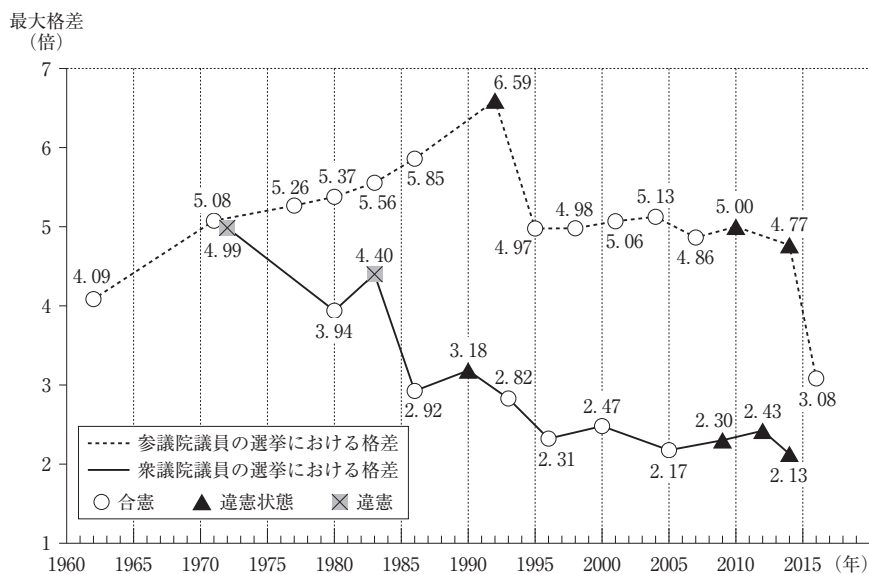
和也：そうだね。グラフ1を見てごらん。これによると、国政選挙における一票の格差に関して、最高裁判所は **E** 。

亜未：なるほどね。一票の格差を解消するために、衆議院の小選挙区で考えた場合、議員の総定数を増やさないとすれば **F** が必要になるということね。

表 1

選挙区	X区	Y区
議員一人あたり有権者数	230,000	460,000

グラフ 1 国政選挙における一票の格差をめぐる最高裁判決



(注) 「違憲」は是正のための合理的期間を経過した後に選挙が行われた場合。「違憲状態」は是正のための合理的期間内に選挙が行われた場合。

(最高裁判所判例により作成)

D にあてはまる選択肢

- キ Y選挙区における一票の価値は、X選挙区の2倍である
 ク Y選挙区における一票の価値は、X選挙区の2分の1である

E にあてはまる選択肢

- ケ 衆議院議員の選挙においては、1970年代から1980年代にかけて、一票の格差が4倍を超えた選挙で1度だけ違憲判決を出しているものの、2000年以降は合憲の判断しかしていない。一方、参議院議員の選挙においては、6倍を超えた選挙で違憲判決を出したことがある
 コ 衆議院議員の選挙においては、1985年以降、2005年までの選挙では一票の格差が3倍未満の選挙で合憲の判断をしていたが、2009年の選挙以降は2倍を超えた選挙では違憲状態の判決を出している。一方、参議院議員の選挙においては、2010年の選挙では5倍で違憲状態の判決を出している

F にあてはまる選択肢

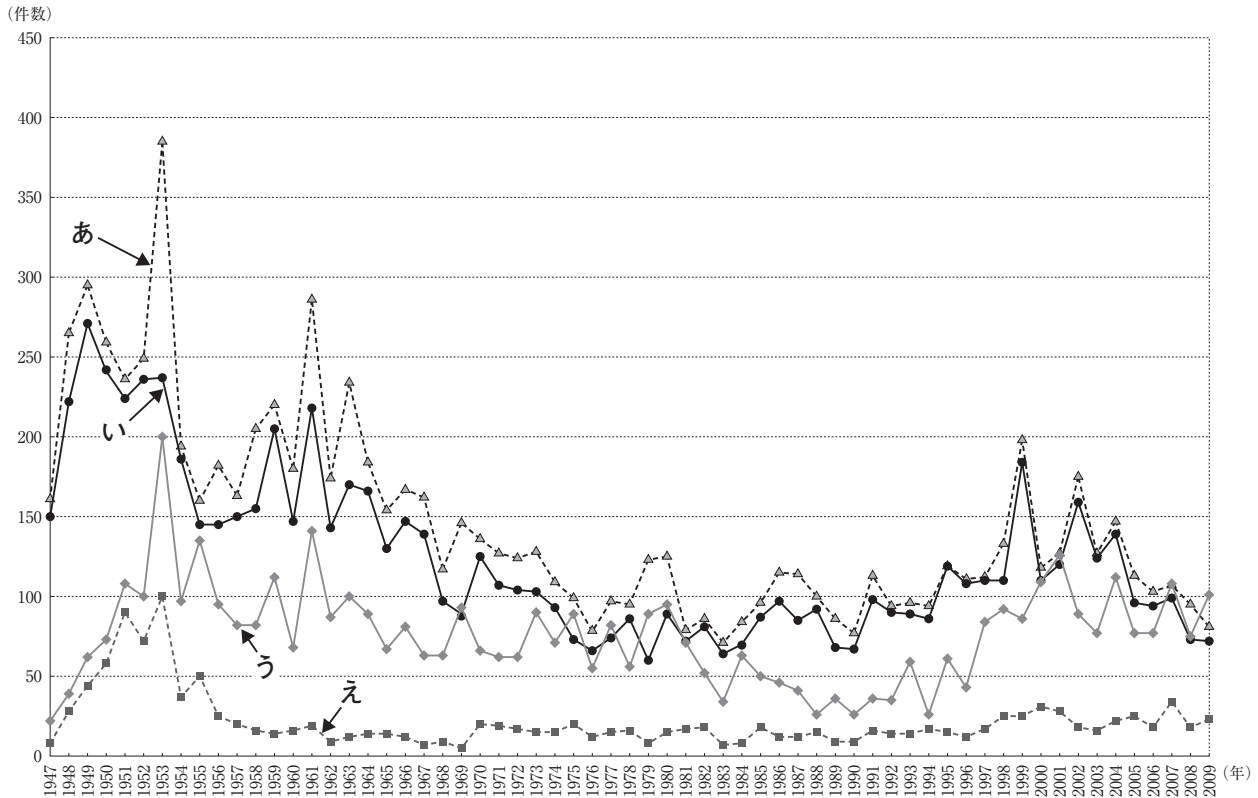
- サ 有権者人口の少ない都道府県の選挙区の数減らす
 シ 有権者人口の多い都道府県の選挙区の数減らす

	D	E	F
①	キ	ケ	サ
②	キ	コ	シ
③	ク	ケ	シ
④	ク	コ	サ

問 3 下線部分**法律の制定**に関連して、次のグラフ2中のあ～えはそれぞれ、「議員提出法案の提出件数」、「議員提出法案の成立件数」、「内閣提出法案の提出件数」、「内閣提出法案の成立件数」のいずれかを示している。次のページの**会話文**を参考にし、「議員提出法案の提出件数」を示したものとして適切なものを、次のページの①～④のうちから一つ選べ。

解答番号は 9。

グラフ2 国会における法案提出件数および成立件数の推移



(国立国会図書館「帝国議会および国会の立法統計」により作成)

会話文

先生：国会で審議される法案には議員提出法案と内閣提出法案があります。

聖子：行政機関である内閣も法案を提出できるんですか。

先生：そうです。グラフ2は国会における議員提出法案の提出件数および成立件数、内閣提出法案の提出件数および成立件数の推移を示しています。グラフ2を見てわかることは何ですか。

竜一：これまでに国会で制定されてきた法律は、内閣提出法案のほうが多いんですね。

先生：はい、現代の国家では政府の役割が増大したために、内閣提出法案が多く、成立率も高いのです。

聖子：それでもグラフ2を見ると、2000年代には、議員提出法案の提出件数が内閣提出法案の提出件数を上回っている年がありますね。

先生：いいところに気が付きましたね。しかし、内閣提出法案に比べると成立率は高いとはいえませんね。

① あ

② い

③ う

④ え

4 次の会話文を読んで、問1～問3に答えよ。

先生：今日は法律について、私たちの身近な問題から考えてみましょう。学校の近くに15階建てのマンションが建設されることになりました。しかし、近所の人たちの中にはマンションの日陰になるとか、街の景色が大きく変化してしまうとか言って反対運動をしている人がいます。この問題をどう考えますか。

研介：やはり昔から住んでいる人の生活と権利は守られないといけないと思います。反対している人たちが主張している日照権や景観権などは守られるべきです。

君江：でもマンションを買ってでもこの街に住みたいという人の気持ちも考える必要があると思うわ。多くの人が住みたいと思ってくれて、住民が増えれば経済的にも潤うと思うの。

先生：さまざまな立場に立って考えることは大切です。でも大事な関係者を忘れていませんか。

晴樹：市役所とか行政機関も関係しているかな。

真知：建設予定地の所有者かしら。

先生：そうですね。では所有者にはどのような権利がありますか。まずは憲法を見てみましょう。

研介：日本国憲法第29条に、「財産権は、これを侵してはならない」とあります。授業では憲法は財産権を保障する一方でやむを得ない場合に限り制約をする場合があると習いました。

君江：第29条の「財産権の内容は、**A**に適合するやうに、法律でこれを定める」と書いてある部分のことですね。ではマンション建設に関する法律にはどのようなものがあるのでしょうか。

先生：憲法の財産権は、この場合の所有権になります。所有権はその物や土地の支配権であり処分権です。つまり土地の所有者は、土地を自由に使ってよいことになります。しかし君江さんの言うように、さまざまな法律が土地と建造物について制限を加えています。建築基準法は、国民の生命・健康・財産などを保護するためにマンションを含む建築物の敷地・設備・構造・用途についての最低基準を定めています。さらに同法は地方公共団体が制定する**B**によって建築に関する制限を付け加えることもできるとしています。他にも都市計画法や消防法などの多くの法律がマンションの建設に関係しています。

晴樹：これらのルールを守れば、所有者は地域住民の反対を無視してマンションを建設してもよいのでしょうか。

先生：たしかにこのように人々の幸福が立場によって対立する場合、^(b)両者の立場に立って考えてみる必要があります。ではこの場合、どのような解決手段があるのでしょうか。

研介：利害が対立しているので民事訴訟を起こすべきだと思います。

真知：本当にそれしか方法はないのでしょうか。まずは地域住民とマンション建築側が話し合いの場をもつことから始めたらどうでしょう。

先生：そうですね。話し合いがうまくいかない場合も、問題解決の手段として、あっせん・調停・仲裁などの**C**の利用も考えられます。

問 1 会話文中の **A** , **B** , **C** にあてはまる語句の組合せとして適切なものを、次の①～④のうちから一つ選べ。解答番号は **10** 。

- | | A | B | C |
|---|----------|----------|-----------|
| ① | 公共の福祉 | 条例 | 裁判外紛争解決手続 |
| ② | 公共の福祉 | 政令 | 裁判員制度 |
| ③ | 社会福祉 | 政令 | 裁判外紛争解決手続 |
| ④ | 社会福祉 | 条例 | 裁判員制度 |

問 2 下線部分所有者^(a)に関連して、次の生徒のレポートを読んで、レポートの内容について述べた文として適切なものを、次のページの①～④のうちから一つ選べ。解答番号は 11。

レポート

最近、持ち主と連絡のつかない空き家がニュースになっています。古くて危険なためや、街の再開発などのために取り壊したくても、所有者に連絡がつかないため、放置するしかないこともあるようです。そこで私は家や土地がどのように政府に管理されているのかを調べました。

すると不動産登記という制度があることを知りました。家や土地などの不動産に関する権利は各地にある法務局の登記簿で管理されることになっています。家や土地などの不動産を購入したり、相続したりした場合には登記をすることになります。実際に私の家では、家を建て替える時に登記をしました。さらに家の所有権の登記だけでなく、銀行から住宅ローンを組むために抵当権の登記もしました。抵当権とはローンを返済できない場合に、銀行が家を競売にかけて貸した資金を回収する権利のことです。次の図は登記簿の内容を表した登記事項証明書の例です。

図 登記事項証明書の例

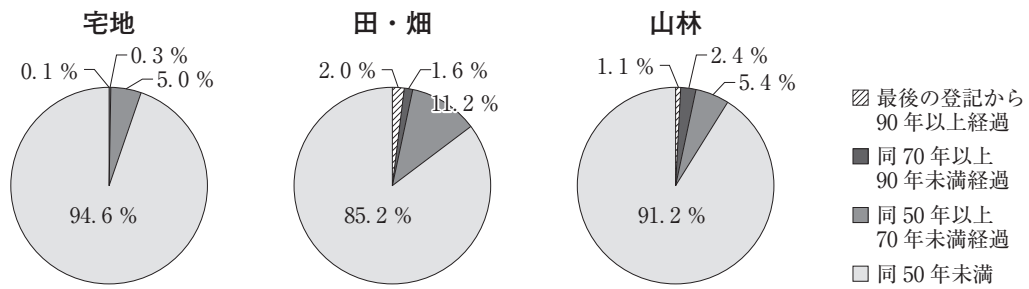
〇〇県〇〇市〇〇町〇〇〇〇-〇				全部事項証明書		(土地)	
【表題部】 (土地の表示)			調製 平成〇〇年〇月〇日	地図番号		余白	
【不動産番号】		1234567890123					
【所在】 〇〇県〇〇市〇〇町〇〇			余白				
【①地番】	【②地目】	【③地積】	m ²	【原因及びその日付】		【登記の日付】	
9999番3	宅地		100.00	9999番1から分筆		平成〇〇年〇月〇日	
【権利部(甲区)] (所有権に関する事項)							
【順位番号】	【登記の目的】	【受付年月日・受付番号】	【原因】	【権利者その他の事項】			
1	所有権移転	平成〇〇年〇月〇日 第〇〇〇〇号	平成〇〇年〇月〇日売買	所有者 〇〇市〇〇丁目〇番〇号 〇〇 〇〇			
【権利部(乙区)] (所有権以外の権利に関する事項)							
【順位番号】	【登記の目的】	【受付年月日・受付番号】	【原因】	【権利者その他の事項】			
1	抵当権設定	平成〇〇年〇月〇日 第〇〇〇〇号	平成〇〇年〇月〇日金銭 消費貸借同日設定	債権額 金〇〇〇〇万円 利息 年〇% 損害金 年〇〇% 年365日割計算 債務者 〇〇市〇〇丁目〇番〇号 〇〇 〇〇 抵当権者 〇〇県〇〇市〇〇〇丁目〇番〇号 株式会社 〇〇〇〇〇〇〇			

(法務局ホームページにより作成)

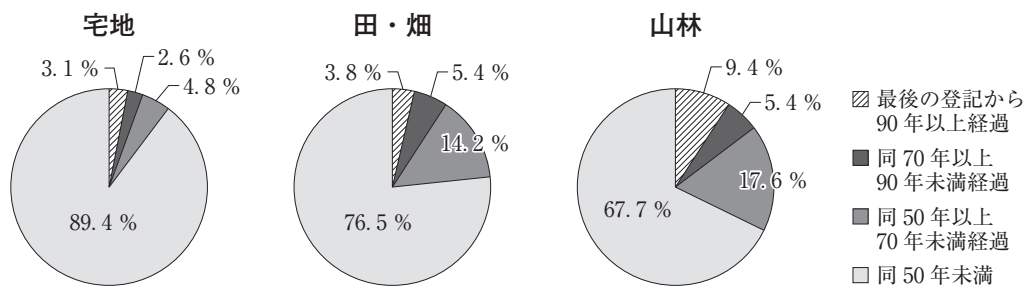
最初の表題部には不動産の住所や面積等、次の権利部(甲区)には不動産の所有権について、その下の権利部(乙区)には抵当権等について記載されています。だから登記簿を確認すれば土地に関する権利関係が明確にわかるのです。また家や土地が誰の所有物であるかは、最終的に法務局に登記をし、登記簿に記載された人のものになります。例えばある人が同じ土地を二人の人物に別々に売った場合、金額を支払った時期などに関係なく、先に登記をした人のものになるそうです。

このように登記は重要なしくみですが、日本では登記が法律で義務づけられていないため、すでに亡くなった人の名義の不動産が数多くあるようです。次のグラフ1とグラフ2を見てください。

グラフ1 個人が最後に登記してからの経過年数の割合(大都市)



グラフ2 個人が最後に登記してからの経過年数の割合(中小都市・中山間地域)



(注) グラフ1とグラフ2の数値は四捨五入しているため、合計値が100にならない場合がある。
(法務省ホームページ「不動産登記簿における相続登記未了土地調査について」により作成)

これらのグラフ1とグラフ2のようなことが起きる理由としては、相続した際に登記の手続きが煩雑になることがあること、登記をしなくても実害が少ないこと、登記時に登録免許税という税金がかかる場合があること、登記を専門家に依頼した場合の費用が高いことなどが原因のようです。

- ① 不動産登記は、無税で簡単に行うことができる制度であるが、登記しなくても実害がないため、大都市の田・畑で15%、中小都市・中山間地域の田・畑では20%を超える土地が最後の登記から50年以上経過している。
- ② 不動産登記は、土地や家の所有者を示すだけでなく、抵当権の設定なども表示する制度であるが、日本では法律で義務づけられていないため、宅地、田・畑、山林のいずれも大都市で1%、宅地、田・畑、山林のいずれも中小都市・中山間地域では3%を超える土地が最後の登記から90年以上経過している。
- ③ 不動産登記は、土地や家の所在地や面積、権利関係等を示す制度であるが、日本では土地の所有者に法律で義務づけられていないため、大都市の宅地で5%、中小都市・中山間地域の宅地では10%を超える土地が最後の登記から50年以上経過している。
- ④ 不動産登記は、土地や家の所有者を示すため、売買や相続の時には登記を行うことが法律で義務づけられているが、費用が高いため、中小都市・中山間地域では宅地、田・畑の3%、山林では9%を超える土地が最後の登記から90年以上経過している。

- 問 3 下線部分^(b)人々の幸福が立場によって対立する場合に関連して、次の会話文中の **D** , **E** , **F** , **G** にあてはまるものの組合せとして適切なものを、次のページの①～④のうちから一つ選べ。解答番号は **12** 。

会話文

先生：Xさんは、読み終わった上下2巻セットの文庫本をYさんに売る約束をし、Yさんから代金800円を先に受け取りました。各巻とも定価は600円でした。ところが、XさんがYさんに渡したのは上巻だけで、下巻は前日になくしてしまったので渡すことができませんでした。このXさんとYさんの約束を法律では **D** と言います。約束した時点では二人の意思は一致しており、法的には文書がなくても有効です。この約束を結んだ時にはどのような法的関係が生まれたのでしょうか。

清蔵：Xさんには文庫本上下2巻セットをYさんに渡す **E** と、Yさんから800円を受け取る **F** が発生します。逆にYさんには800円支払う **E** と文庫本上下2巻セットを受け取る **F** が生じます。

先生：そうですね。ではどのような解決策が考えられるのでしょうか。

圭子：下巻をなくしてしまったXさんは約束を守ることができません。だからYさんに約束をなかったことにしてもらい、Yさんに800円を返す代わりに上巻を返してもらうべきです。

善三：Xさんは約束を守るために定価で新品の下巻を買ってYさんに渡すべきです。これしか最初の約束を守る方法はありません。

敏子：私はXさんがYさんをお願いして800円の半額の400円を返すことで納得してもらうべきだと思います。

先生：このような問題を考える時には、公平の観点からXさんとYさんの財産上のバランスを考える必要があります。**G** さんの答えは財産上のバランスがとれていないのではないのでしょうか。ところで注意してほしいことは、解除と言って **D** の一部または全部をなかったことにする時には、約束をした時と同様に相手の承諾が必要な場合があるということです。では相手の承諾がなくても約束をなかったことにできる場合はあるのでしょうか。

清蔵：相手に脅されたり、だまされた場合かな。あと未成年者が親権者の承諾なしに高額な取引の約束をした時は取消することができる場合があると聞いたことがあるよ。


先生：その通りです。また法律に反する約束はそもそも無効なので守る必要はありません。法の知識は社会で生きていくために必要です。同時にその背景にある考え方も理解したいですね。

	D	E	F	G
①	契約	義務	権利	善三
②	契約	権利	義務	敏子
③	条約	権利	義務	敏子
④	条約	義務	権利	善三

- 5 次のイラストは、Z県にある高等学校の「現代社会」の授業で一郎さんが発表をしているところである。〈発表形式〉、〈発表内容のポイント〉、〈模造紙〉を読んで、問1～問5に答えよ。

〈発表形式〉

- 発表者は教室でみんなの前に立ち、黒板に模造紙を貼って調べてきたことを発表する。
- 発表が終わったら、クラス内の生徒が質問をして、発表者が答える。
- 質疑応答の中で、先生が解説をすることもある。



〈発表内容のポイント〉

私は、自分が住んでいる街の経済活動を調べることを目的に駅周辺を調査してきました。

次のページの模造紙を見てください。

図1は、駅周辺の様子を示した図です。駅前には地元の人や観光客が利用するスーパーマーケット、^(a)郵便局、宅配業者の集配センターがあります。駅から歩いて約60分ほどのところにある山は、観光地になっていて、週末には多くの観光客が訪れます。

図2は、その観光地である山の上を表しています。観光客が景色を楽しんでいます。山の上には一軒だけお店があり、お弁当と飲み物を販売しています。気になったのは、ペットボトルの価格が全て200円だったということです。

^(b) 図3は、駅前スーパーの今週のチラシです。観光地である山の上で販売しているものと同じペットボトルが88円で販売されています。

図4は、スーパーのお客さんと山頂の売店の店主にインタビューしたことをまとめたものです。

図5は、スーパーの店長さんにインタビューしたことをまとめたものです。

< 模造紙 >

図 1

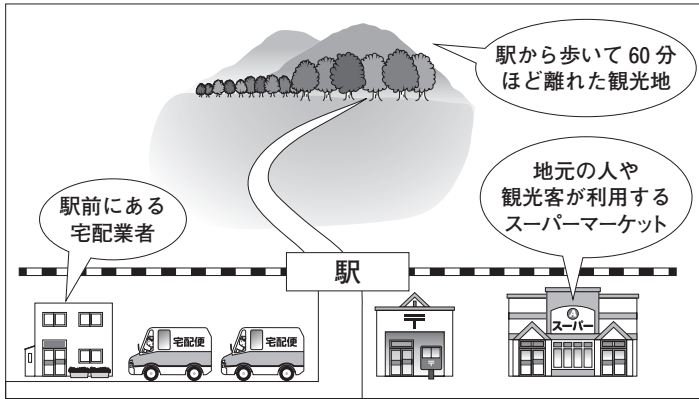


図 2




図 3

駅前スーパー大売り出し

ウインナー 100円

肉も野菜もペットボトル各種 全部安い!!

ペットボトル 全て88円!!

豆腐 2パック 100円

鮭の切り身 1パック150円

図 4

スーパーのお客さんと、山頂の売店の店主にインタビュー

スーパーマーケットに来店したお客さん

同じ商品ならば、なるべく安い日を狙って買いに来ますよ。

飲み物やお弁当を山の上まで運んでくるのには費用がかかります。その費用を回収するために価格を高く設定して売らなければならないのです。

図 5

質問「スーパーの特徴を教えてください」

スーパーの店長



毎日多くのお客様に来店していただけるように、安くてよいものを取りそろえるように心がけています。昔は、この街にもたくさんの個人商店があつてにぎわっていたのですが、今では店も少なくなっていました。多くのお客様の期待にこたえられるように、同時に利益をあげることで株主の皆様(d)の期待にこたえるように努力(d)しています。

うちの店は、地元のお客様と観光客のお客様が多いのが特徴です。週末には多くのアルバイトさん(e)に働いてもらっています。

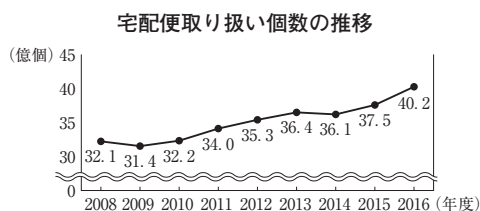
問 1 下線部分駅周辺の様子に関連して、次はこの発表を聞いていたすすむさんの質問とそれに対する一郎さんの回答である。回答中の **A** , **B** にあてはまるものの組合せとして適切なものを、下の①～④のうちから一つ選べ。解答番号は **13** 。

すすむさんの質問

図 1 の駅周辺では、モノを運ぶ仕事が多いことがわかります。私もよく宅配便を利用します。ところでモノを運ぶ仕事は日本全体でも増えているのでしょうか。

一郎さんの回答

宅配便について調べてみると、次のグラフを見つけたので黒板に貼ります。これは国土交通省と全日本トラック協会がまとめたもので、宅配便取り扱い個数や宅配便のドライバーの人手不足感がどのように変化してきたのかを表しています。これらを見ると **A** ことがわかります。ところで、この模造紙にある郵便局についてですが、**B** 。



A にあてはまる選択肢

ア 宅配便取り扱い個数は、2016年度には2009年度と比較して約8.8億個増えている一方で、「宅配便のドライバーが足りている割合」は2009年度は89%であったのに2016年度は33%になっています。運ぶモノの個数は増えていますが、ドライバーの数が不足しているという課題がある

イ 宅配便取り扱い個数は、2008年度から2016年度まで一貫して増え続けている一方で、「宅配便のドライバーが足りている割合」は2008年度から2016年度まで約30ポイント減少しています。モノを運ぶ仕事は増えており、宅配業者が運ぶ荷物の注文を激しく取り合う状況が続いている

B にあてはまる選択肢

ウ 郵政3事業は国の機関です

エ 郵政3事業は民営化されました

- | | A | B |
|---|---|---|
| ① | ア | ウ |
| ② | ア | エ |
| ③ | イ | ウ |
| ④ | イ | エ |

問 2 下線部分**価格**に関連して、次はこの発表を聞いていたローラさんの質問とそれに対する
 一郎さん^(b)の回答と先生のコメントである。回答中の **C** , **D** , **E** にあては
 まるものの組合せとして適切なものを、下の①～④のうちから一つ選べ。

解答番号は **14** 。

ローラさんの質問

図 2 をみると、山の上ではペットボトルの飲み物が 200 円でした。しかし図 3 を見る
 と、駅前で同じものを 88 円で購入することができます。同じ商品なのだから同じ価格
 で販売されていると思っていたのですが、なぜ山の上のペットボトルの価格は高いので
 すか。

一郎さんの回答

山頂の売店の店主は、ペットボトルを運ぶ経費を考えた結果、200 円で販売しようと
 したわけなので **C** から価格をとらえたわけです。一方、図 2 の山の上にいる観光
 客にインタビューしたところ、のどが渴いた等の理由で、その場で飲む飲み物のおいし
 さは何ものにもかえがたい価値があるというお話を聞くことができました。この観光客
 は **D** から価格をとらえたわけです。私たちは教科書で需要と供給を学習しまし
 た。一般に売り手と買い手が多数存在している市場では、価格は多数の売り手と多数の
 買い手の要因によって決まると考えることができます。この需要量と供給量の一致
 する価格を **E** といいます。

先生のコメント

市場のしくみを学習したときのことを、よく理解していることがわかりますね。

- | | | | |
|---|----------|----------|----------|
| | C | D | E |
| ① | 供給側 | 需要側 | 均衡価格 |
| ② | 需要側 | 供給側 | 均衡価格 |
| ③ | 供給側 | 需要側 | 寡占価格 |
| ④ | 需要側 | 供給側 | 寡占価格 |

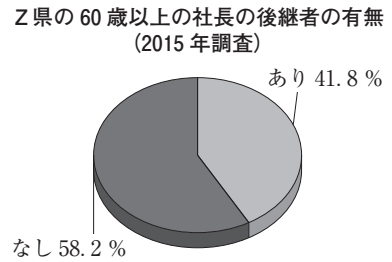
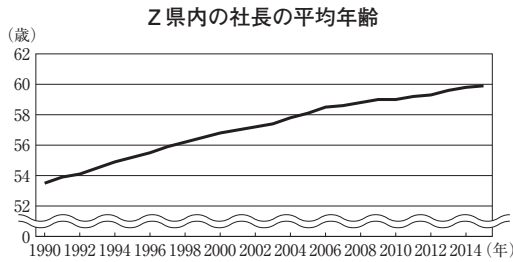
問 3 図 5 中の下線部分昔は、この街にもたくさんの個人商店があつてにぎわっていたに関連して、次はこの発表を聞いていた俊一さんの質問とそれに対する一郎さんの回答と先生のコメントである。回答中の **F** , **G** にあてはまるものの組合せとして適切なものを、次のページの①～④のうちから一つ選べ。解答番号は **15** 。

俊一さんの質問

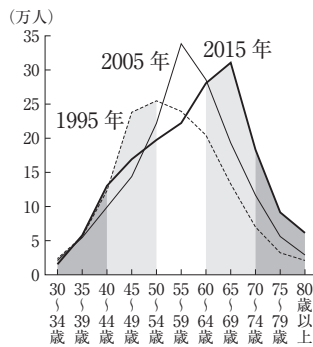
店長さんは「昔は、この街にもたくさんの個人商店があつてにぎわっていた」と言っていました。私も家族に聞いてみたら、以前はこの街にも商店街に加えて多数のモノづくりをする産業があつたことを教えてもらいました。もしかしたら、この街だけではなく Z 県や日本全体でも企業を経営する後継者が減っているのでしょうか。

一郎さんの回答

調べている中で、次のようなグラフがあつたので黒板に貼ります。「Z 県内の社長の平均年齢」, 「Z 県の 60 歳以上の社長の後継者の有無」のグラフからは **F** が読み取れます。全国の「中小企業の経営者年齢の分布」のグラフからは **G** が読み取れます。



中小企業の経営者年齢の分布 (法人)



(「日本経済新聞」2017年10月6日により作成)

先生のコメント

興味深いグラフですね。よく探してきましたね。

F にあてはまる選択肢

オ 「Z県内の社長の平均年齢」は、2014年では1990年と比べると5歳以上、上昇していることがわかります。「Z県の60歳以上の社長の後継者の有無」については、2015年の調査で約58%が「なし」と回答していること

カ 「Z県内の社長の平均年齢」は、2014年では1990年と比べると10歳以上、上昇していることがわかります。「Z県の60歳以上の社長の後継者の有無」については、2015年の調査で「あり」という回答は全体の3分の1より少ないこと

G にあてはまる選択肢

キ 中小企業の経営者年齢の分布は、1995年には50～54歳がピークであったのに、2015年には65～69歳がピークになっていること

ク 中小企業の経営者年齢の分布は、1995年には40～44歳がピークであったのに、2015年には50～54歳がピークになっていること

	F	G
①	オ	キ
②	オ	ク
③	カ	ク
④	カ	キ

問 4 図 5 中の下線部分^(d)株主の皆様の期待にこたえるように努力に関連して、次はこの発表を聞いていたまりんさんの質問とそれに対する一郎さんの回答と先生のコメントである。回答中の H , I , J にあてはまるものの組合せとして適切なものを、次のページの①～④のうちから一つ選べ。解答番号は 16 。

まりんさんの質問

店長さんの回答に「株主の皆様の期待にこたえるように努力」をしているというものがありません。店長さんが言う「株主の期待にこたえる」の意味がよくわかりませんでした。株式会社と株主というのはどういう関係なのですか。

一郎さんの回答

はい。株式会社は、さまざまな活動を行うために証券市場や金融機関から資金を調達しています。その中でも銀行から資金を借り入れるのに比べて H は企業にとっては魅力的です。この株式を所有している株主は、もしもその会社が I になっています。また、株主総会において会社の経営に参加できる権利が魅力的です。さらに株式会社では、利益が出た場合 J 。店長さんは、このような株式会社と株主の関係を意識して「株主の皆様の期待にこたえるように努力」するとお話ししてくれたのではないのでしょうか。

先生のコメント

株式会社のしくみについてよく学習していますね。

H にあてはまる選択肢

- ケ 返済の義務がない株式
- コ 銀行よりも低い金利で借りることのできる株式

I にあてはまる選択肢

- サ 負債を抱えて倒産した場合には、最大でも出資した分を負担すればよい
- シ 負債を抱えて倒産した場合には、会社の債務について全責任を負う

J にあてはまる選択肢

- ス 株主は、出資した比率に応じて配当を受ける権利を持ちます
- セ 株主は、利益を出資者の人数で割った額の配当を受ける権利を持ちます

	H	I	J
①	ケ	シ	セ
②	コ	サ	セ
③	コ	シ	ス
④	ケ	サ	ス

問 5 図 5 中の下線部分^(e)アルバイトに関連して、次はこの発表を聞いていたひまわりさんの質問とそれに対する一郎さんの回答と先生のコメントである。回答中の , にあてはまるものの組合せとして最も適切なものを、次のページの①～④のうちから一つ選べ。解答番号は 。

ひまわりさんの質問

確かに駅前のスーパーマーケットではたくさんのアルバイトの募集があります。私は、非正規雇用者はみんな正規雇用にならなければならないと思っているのですが、一郎さんはどう考えていますか。

一郎さんの回答

はい。私は、非正規雇用者全員が正規雇用者をめざしているというわけではないと思っています。そのことを示すデータとして のグラフを黒板に貼ります。

非正規雇用にも、それなりのメリットがあると思います。

ところで、働き方が多様化する中で といった制度ができましたが、まだまだ労働をめぐる政策には工夫が必要だと思います。

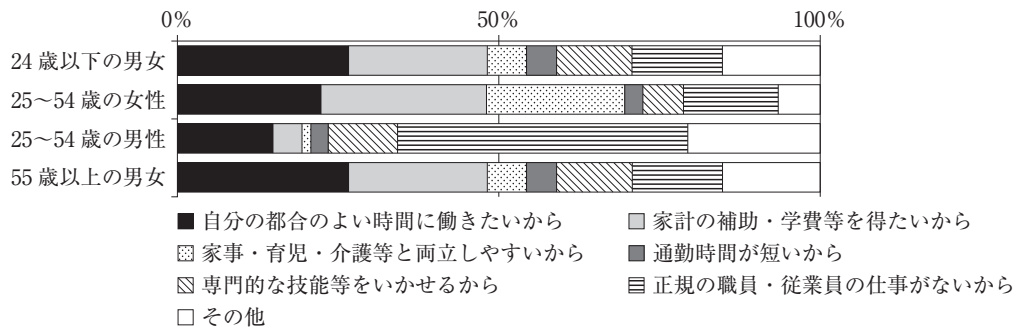
先生のコメント

いろいろなことを調べることができたよ発表でしたね。

K にあてはまる資料

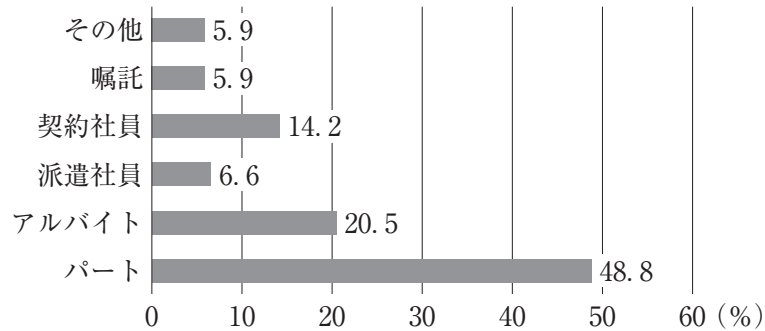
資料 1

非正規雇用に使っている理由(割合)2014年



資料 2

非正規雇用者の構成(%)2016年



(三菱UFJリサーチ&コンサルティング「多様化する非正規雇用」, 総務省「労働力調査」により作成)

L にあてはまる選択肢

ソ 全国一律に、産業ごとに賃金の下限を同じ金額に定める

タ 会社と労働者との間で生じたトラブルを裁判所が迅速かつ適切に解決することをめざす

- | | |
|--------|---|
| K | L |
| ① 資料 1 | ソ |
| ② 資料 2 | タ |
| ③ 資料 1 | タ |
| ④ 資料 2 | ソ |

6 次の会話文を読んで、問1～問5に答えよ。

若菜：この前、都心の家電量販店に行ったときのことだけど、お客さんの多くが海外からの観光客^(a)だったよ。お店の中では外国語の会話がたくさん飛び交っていたわ。

亮介：以前から、アジア地域から旅行で訪れる人が多いと聞いていたけど、最近はもっと幅広い地域から日本に旅行で来ている人たちが増えている気がするよね。

優香：これだけ国を越えて人々の往来があるのに、その一方で領土をめぐる紛争や政治的な緊張関係があるなんて、国際社会って複雑よね。

壮太：さらに、軍事力の増強によって他国へ政治的な圧力をかけようとする国もあるよね。

若菜：戦争や武力の行使を防止するために、すべての国が紛争を平和的に解決することを誓い、違反する国には他のすべての国が制裁を加えるという **A** が国際社会の流れのはずなのだけど、現実にはいろいろと難しい問題があるよね。

亮介：それでも、平和な世界を実現していくためにも、核兵器の削減や軍縮の問題^(b)に取り組んでいかなければならないよ。国際紛争や内戦で犠牲になっている人は現在でもたくさんいるわけだからね。

優香：そのような政治的な努力も大切だと思うし、それに加えて、世界の国々がお互いの経済的な結びつきを強化していくことも大事だと思うわ。紛争の原因が経済的な問題に結びついている場合が多いと聞いたこともあるからね。

壮太：世界全体で経済交流が盛んになればいいのだろうけど、それぞれの国の利害関係が対立して簡単にはいかないようだね。

若菜：できるところからやっっていこうということで、特定の国々の間に限定して、貿易^(c)の自由化に加えて、人の自由な移動を認めるなど、経済関係の強化を進めている地域も多いよね。

亮介：僕たちも普段から、日本に進出した海外の企業が提供しているIT関連などのサービスを利用しているよね。金融^(d)の自由化も進んでいるし、経済分野では国境を越えた人やモノの流れを止めることはもはや不可能だと思うよ。

優香：ただ、最近、一部の国々で、雇用が奪われることを理由に、国外からの移民を排斥しようとする動きが強くなっていることが気になるわ。そのようなことが広がっていかないといいのだけれども。

壮太：そうだね。同じ国家の中に異なる人種や民族が存在することを前提にするならば、それぞれの集団の存在をお互いに認め合って共存していく **B** がますます重要になってきていると思うよ。

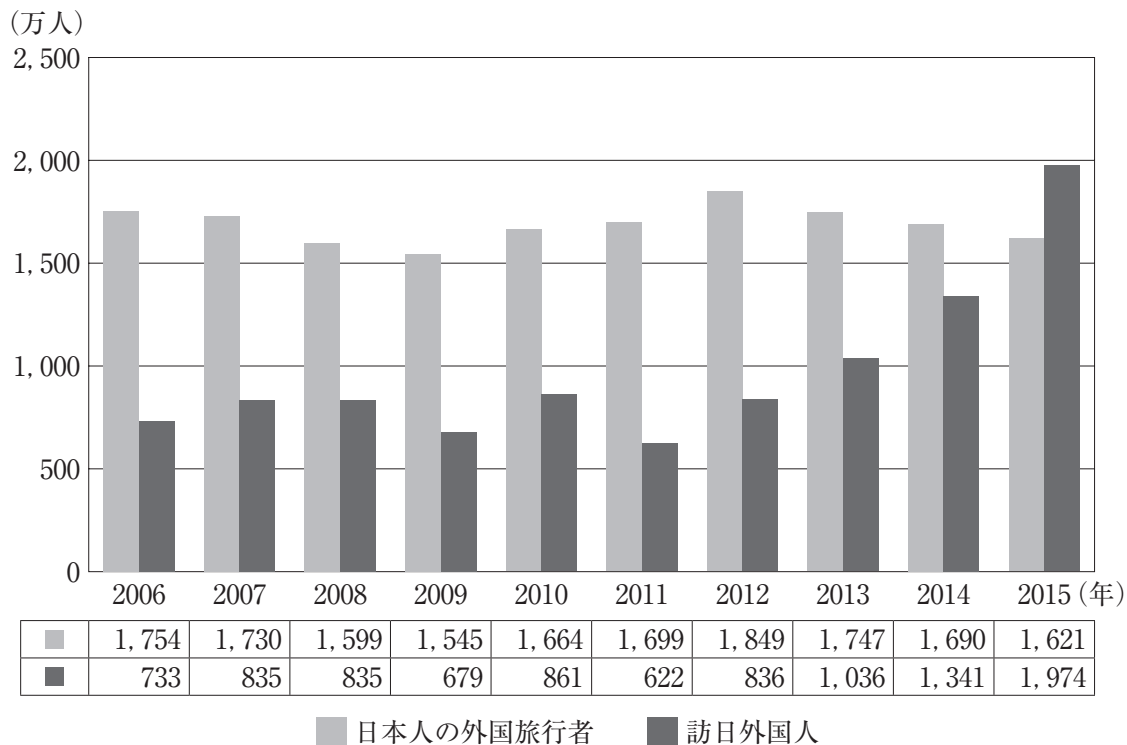
問 1 会話文中の **A** , **B** にあてはまる語句の組合せとして適切なものを, 次の①～④のうちから一つ選べ。解答番号は **18** 。

A**B**

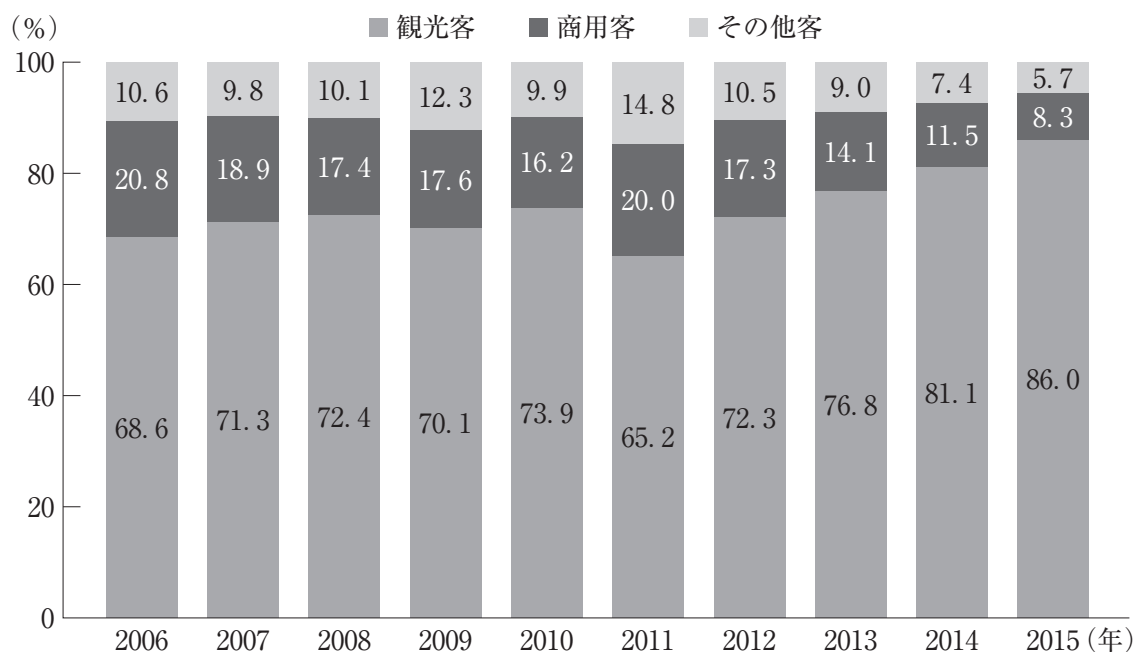
- | | |
|----------|-----------|
| ① 集団安全保障 | 多文化主義 |
| ② 集団安全保障 | エスノセントリズム |
| ③ 勢力均衡 | 多文化主義 |
| ④ 勢力均衡 | エスノセントリズム |

問 2 下線部分海外からの観光客に関連して、次のグラフ 1、グラフ 2 から読み取れる内容として適切なものを、次のページの①～④のうちから一つ選べ。解答番号は 19。

グラフ 1 日本人の外国旅行者と訪日外国人の人数



グラフ 2 外国人が訪日した目的



(注) グラフの数値は四捨五入しているため、合計値が100にならない場合がある。
 (日本政府観光局「JNTO 訪日旅行データハンドブック 2016(世界 20 市場)」により作成)

- ① グラフ1をみると、2015年においては、訪日外国人の人数が日本人の外国旅行者の人数を上回っている。また、グラフ2をみると、観光客の割合が最も多かったのは2014年である。
- ② グラフ1をみると、2013年においては、訪日外国人の人数が日本人の外国旅行者の人数を上回っている。また、グラフ2をみると、観光客の割合が最も多かったのは2015年である。
- ③ グラフ1をみると、2014年においては、訪日外国人の人数は日本人の外国旅行者の人数の半分以下であった。また、グラフ2をみると、観光客の割合が最も少なかったのは2012年である。
- ④ グラフ1をみると、2011年においては、訪日外国人の人数は日本人の外国旅行者の人数の半分以下であった。また、グラフ2をみると、観光客の割合が最も少なかったのは2011年である。

問 3 下線部分核兵器の削減や軍縮の問題^(b)に関連して、次のア～エの出来事を古い順に並べたものとして適切なものを、下の①～④のうちから一つ選べ。解答番号は

20

。

ア 核兵器の保有国を現状より増やさないようにするための核拡散防止条約(NPT)が調印された。

イ アメリカの大統領が、プラハで「核兵器のない世界」をめざすことを宣言し、同年ノーベル平和賞を受賞した。

ウ 大気圏内、宇宙空間、水中における核実験を禁止した部分的核実験禁止条約(PTBT)が調印された。

エ 地下核実験を含むあらゆる核実験を禁止する包括的核実験禁止条約(CTBT)が国連で採択された。

① ア → ウ → イ → エ

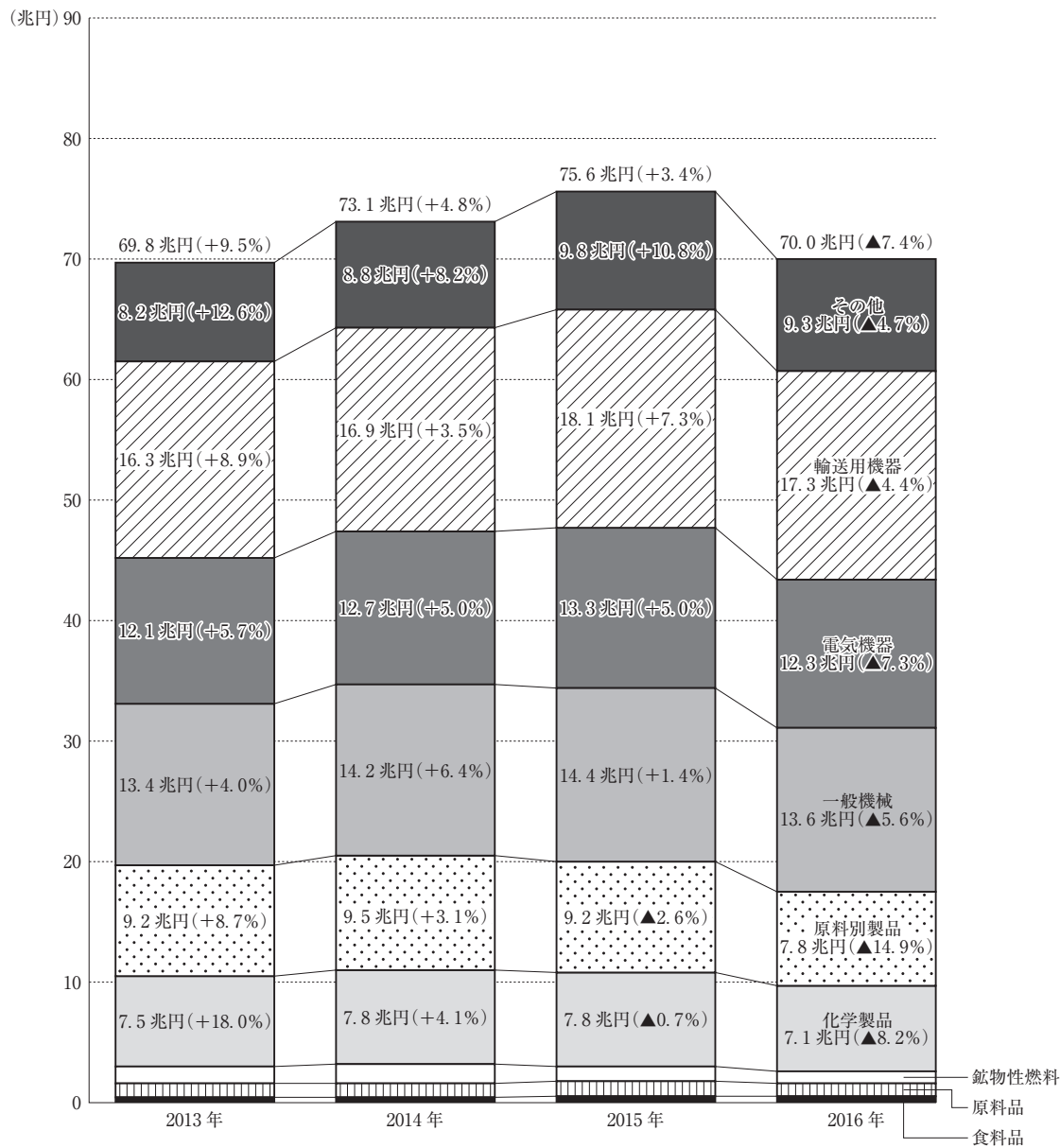
② ア → エ → ウ → イ

③ ウ → ア → エ → イ

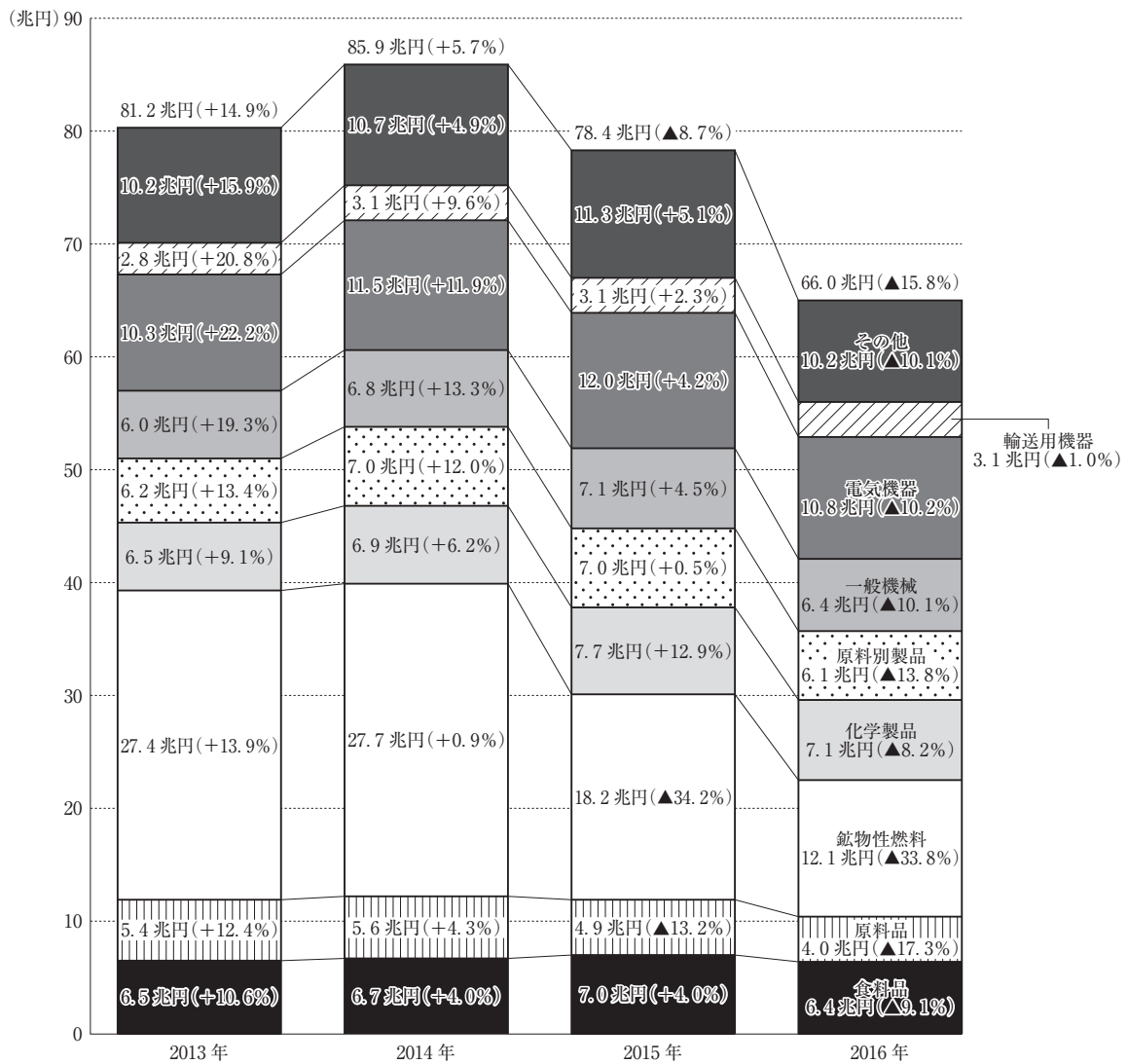
④ ウ → イ → ア → エ

問 4 下線部分貿易に関連して、次のグラフ 3、グラフ 4 から読み取れる内容として適切なものを、次のページの①～④のうちから一つ選べ。解答番号は 21。

グラフ 3 日本の品目別輸出額・対前年比伸び率



グラフ4 日本の品目別輸入額・対前年比伸び率



(注1) 金額の右は対前年比伸び率であり、▲はマイナスである。
 (注2) 輸送用機器には自動車など、原料別製品には鉄鋼や非鉄金属など、原料品には非鉄金属鉱などが含まれる。
 (注3) グラフの数値は四捨五入しているため、品目ごとに合計した数値と合計値は一致しない場合がある。
 (財務省ホームページにより作成)

- ① 2013年は、輸送用機器の輸出額が対前年比で10ポイント以上増加しているものの、食料品の輸入額が対前年比で20ポイント以上増加していることもあり、総額では輸出額が輸入額を下回っている。
- ② 2014年は、原料別製品の輸出額が対前年比で5ポイント以上減少するとともに、化学製品の輸入額が対前年比で10ポイント以上増加していることもあり、総額では輸出額が輸入額を下回っている。
- ③ 2015年は、一般機械の輸出額が対前年比で5ポイント以上増加するとともに、原料品の輸入額が対前年比で20ポイント以上減少したこともあり、総額では輸出額が輸入額を上回っている。
- ④ 2016年は、電気機器の輸出額が対前年比で5ポイント以上減少しているものの、鉱物性燃料の輸入額が対前年比で30ポイント以上減少していることもあり、総額では輸出額が輸入額を上回っている。

問 5 下線部分金融^(d)に関連して、国際的な金融に関わる事項について述べた文として適切なものを、次の①～④のうちから一つ選べ。解答番号は 。

- ① 国際決済銀行(BIS)は、発展途上国の開発のための長期資金の融資を行うために設立され、債務国の累積債務問題への対応にあっている。
- ② 国際決済銀行(BIS)は、国際業務を行う銀行の健全性や公平性を保つために、民間銀行の自己資本比率についての統一的な規制を定めている。
- ③ 国際復興開発銀行(IBRD)は、国際収支が赤字となった国に対して短期的な資金を融資することを目的に設立された。
- ④ 国際復興開発銀行(IBRD)は、各国に配分されている特別引き出し権(SDR)と引き換えに、その国が必要としている外貨を渡す業務を行っている。

7 次の会話文を読んで、問1～問2に答えよ。

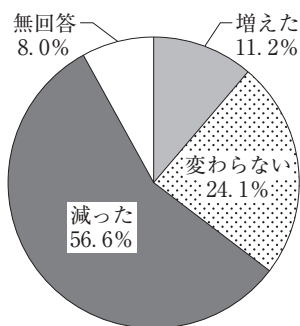
先生：「現代社会」の研究発表のテーマは決まりましたか？

稜太郎：私は、商店街について調べるつもりです。夏休みに祖父の家に遊びに行ったときに、商店街にシャッターを閉めた店舗が目立っていて、このままだと商店街がなくなってしまうのではないかと感じたからです。地域の商店街の現状と課題について調べて、商店街を活性化するにはどうしたら良いのか、考えてみたいと思いました。

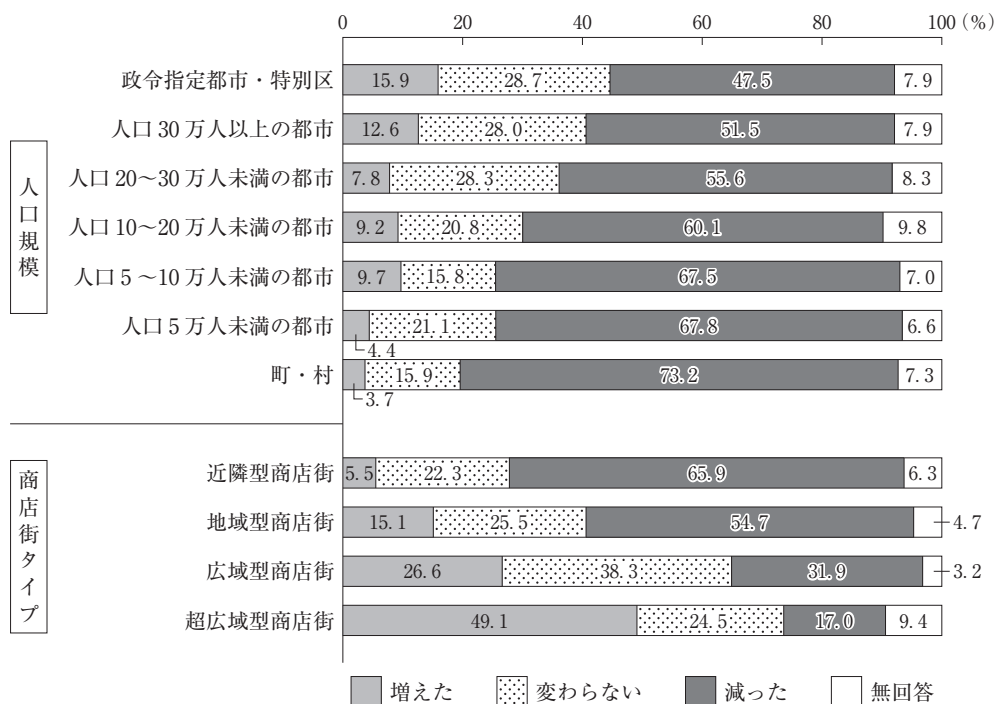
先生：確かに、地方都市の商店街の現状は厳しそうですね。

稜太郎：とりあえず商店街の現状についての資料を集めてみました。

グラフ1 最近3年間の来街者数の変化



グラフ2 来街者数の増減(人口規模・商店街タイプ)



(注1) グラフ1とグラフ2の数値は四捨五入しているため、合計値が100にならない場合がある。

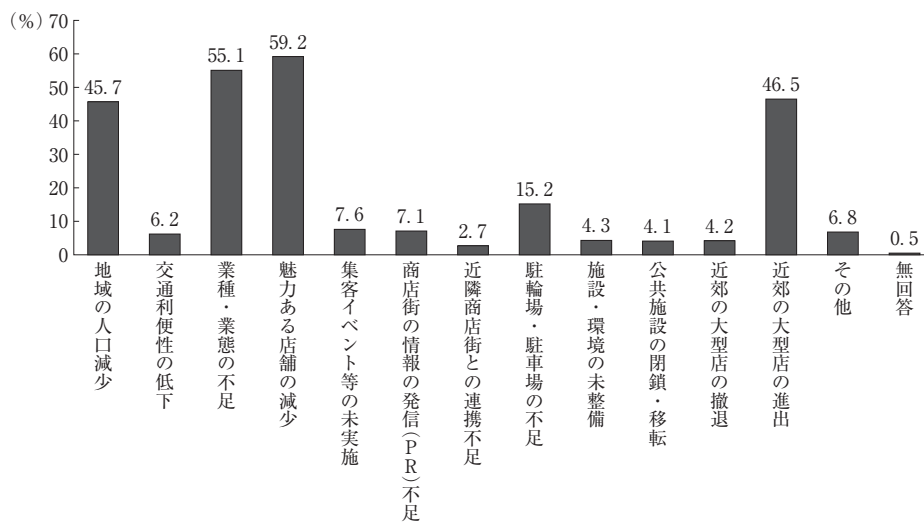
(注2) 商店街タイプについて

①近隣型商店街	最寄品 [※] 中心の商店街で地元主婦が日用品を徒歩又は自転車等により買い物を行う商店街
②地域型商店街	最寄品及び買回り品 [※] が混在する商店街で、近隣型商店街よりもやや広い範囲であることから、徒歩、自転車、バス等で来街する商店街
③広域型商店街	百貨店、量販店を含む大型店があり、最寄品より買回り品が多い商店街
④超広域型商店街	百貨店、量販店を含む大型店があり、有名専門店、高級専門店を中心に構成され、遠距離から来街する商店街

※ 最寄品：消費者が頻繁に手軽にほとんど比較しないで購入する物品。加工食品、家庭雑貨など。

※ 買回り品：消費者が2つ以上の店を回って比べて購入する商品。ファッション関連、家具、家電など。

グラフ3 来街者が「減った」要因(複数回答(3つまで))



(株式会社アストジェイ「商店街実態調査報告書」平成28年3月により作成)

先生：これらのグラフ1，グラフ2，グラフ3からどんなことがわかりましたか？

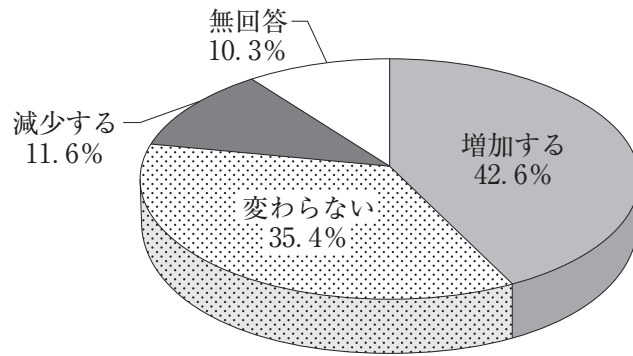
稜太郎： **A** ことがわかりました。

先生：人口規模や商店街のタイプによって来街者数の状況は異なることがわかりますね。来街者数の変化は商店街にどのような影響を与えるのでしょうか。

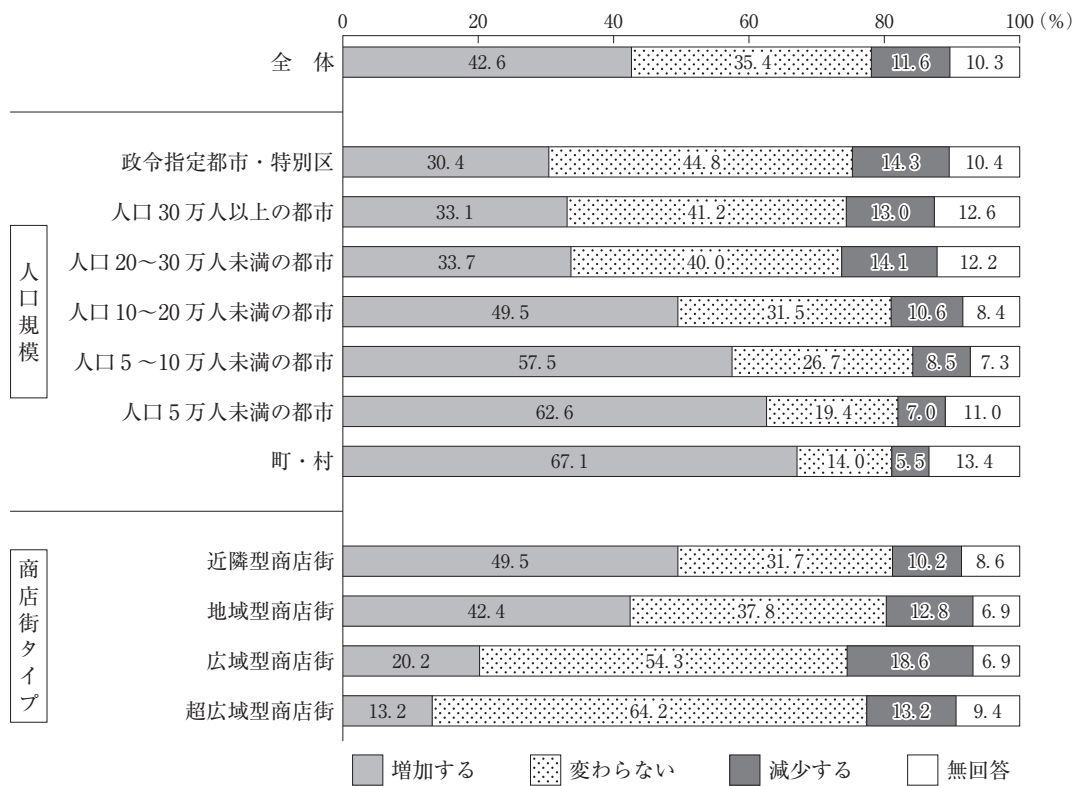
稜太郎：はい。来街者数の減少は、商店街に深刻な影響を与えています。来街者が減少したため、廃業する店舗が増えて、また空き店舗も増えています。グラフ4，グラフ5を見てください。 **B** ことがわかります。商店街に活気がなくなり、さらに来街者が減少するという悪循環に陥ってしまいます。

先生：そうですね。廃業した店舗数や空き店舗数の変化などを調べることにより、さらに地域の商店街の厳しい状況や抱える課題がわかりそうですね。また地域の商店街の衰退は、高齢化が進む現代では日常の買い物が困難な状況におかれている買物弱者が発生するなどの地域社会の深刻な問題ともつながっていることがわかつている買物弱者^(a)が発生するなどの地域社会の深刻な問題ともつながっていることがわかつていると思います。ところで、商店街復興のためにどのような取組みが必要なのでしょうか。

グラフ4 今後の空き店舗の見込み



グラフ5 今後の空き店舗の見込み(人口規模・商店街タイプ)



(注) グラフ4とグラフ5の数値は四捨五入しているため、合計値が100にならない場合がある。
 (株式会社アストジェイ「商店街実態調査報告書」平成28年3月により作成)

稜太朗：商店街の来街者層は、高齢者や主婦などが多いようです。それぞれの商店街で来街者層を分析して、ターゲットとする層を把握し、その獲得のための具体的な取組みを行うことが大切だと思います。例えば、主婦に対して子育て支援事業などを、商店街で企画・実施してみるのも良いかもしれません。

先生：なるほど、商店街の現状や課題だけでなく、復興のための取組みについても調べていますね。全国的に人口減少が進み、少子高齢化が加速するなか、商店街を取り巻く環境も変化してきました。このような状況下で持続可能性を確保するためには、それぞれの地

域の特性を踏まえたうえで、商店街の将来像を考えていくことが大切なのでしょうね。

発表を楽しみにしています。

稜太郎：はい。頑張ります。

問 1 会話文中の **A** , **B** にあてはまるものの組合せとして適切なものを、下の①～④のうちから一つ選べ。解答番号は **23** 。

A にあてはまる選択肢

ア グラフ 1 を見ると、来街者数が「減った」と答えた割合は過半数を占めています。またグラフ 2 を見ると、政令指定都市・特別区から町・村へと人口規模が小さくなるほど「減った」と答えた割合が増加していることがわかります。グラフ 3 を見ると、来街者が減った要因として「魅力ある店舗の減少」、「業種・業態の不足」と答えた割合が、ともに 5 割を超えている

イ グラフ 1 を見ると、来街者数が「増えた」は 11.2 % です。グラフ 2 を見ると、百貨店などの大型店がある超広域型商店街と広域型商店街では「増えた」と答えた割合が「減った」を上回っています。グラフ 3 を見ると、来街者が減った要因として「近郊の大型店の進出」と答えた割合は 5 割を超えている

B にあてはまる選択肢

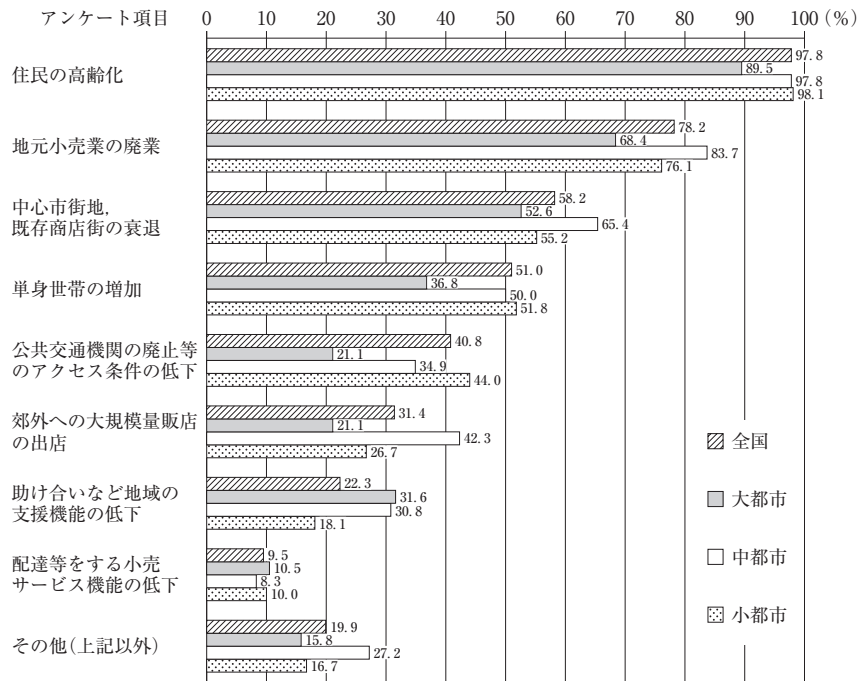
ウ グラフ 4 を見ると、「増加する」が「減少する」を 30 ポイント以上、上回っています。またグラフ 5 を見ると、人口規模が小さくなるほど「増加する」と答えた割合が多くなり、町・村は 67.1 % で、政令指定都市・特別区の 2 倍を超えている

エ グラフ 4 を見ると、「減少する」と「変わらない」と答えた割合の合計が全体の半分以上を占めています。しかしグラフ 5 を見ると、商店街タイプでは近隣型商店街と地域型商店街で「増加する」と答えた割合が、「減少する」と「変わらない」と答えた割合の合計を上回っている

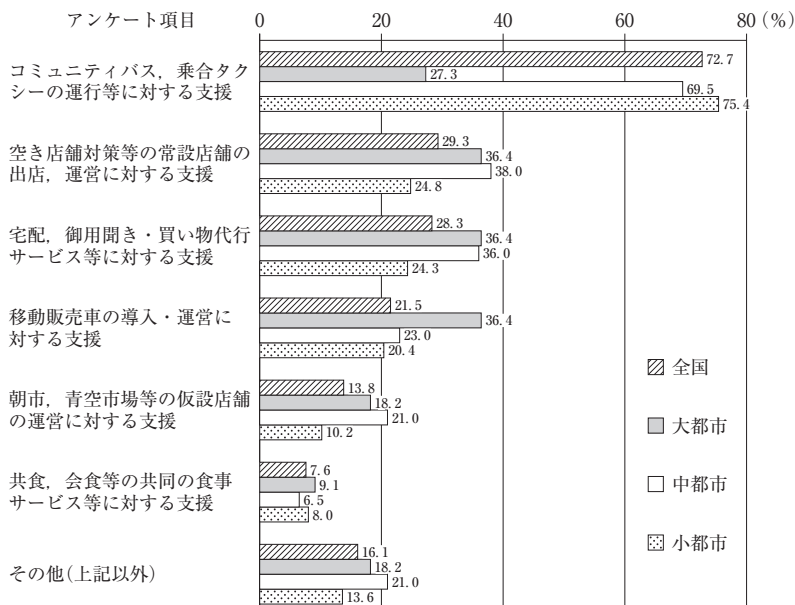
	A	B
①	ア	ウ
②	ア	エ
③	イ	ウ
④	イ	エ

問 2 下線部分^(a)買物弱者に関連して、次のグラフ6とグラフ7は食料品の購入に困難を感じている住民への対策をとっている全国の市区町村を対象に実施したアンケート調査の結果である。グラフ6とグラフ7について述べた生徒の発言のうち適切なものを、次のページの①～④のうちから一つ選べ。解答番号は 24。

グラフ6 対策必要性の背景について(複数回答)



グラフ7 対策の実施内容について(複数回答)



(注) 大都市とは政令指定都市及び東京23区、中都市とは人口5万人以上の都市、小都市とは人口5万人未満の都市のことである。
 (農林水産省 食料産業局「食物流通課食料品アクセス問題」に関する全国市区町村アンケート調査結果 平成29年3月により作成)

詩織：グラフ6を見ると、大都市、中都市、小都市のすべての都市規模で「住民の高齢化」と答えた割合が9割を超えており、高齢者を中心に食料品の購入が困難な状況がわかります。またグラフ7から対策の実施内容として、すべての都市規模で「宅配、御用聞き・買い物代行サービス等に対する支援」、「移動販売車の導入・運営に対する支援」と答えた割合が3割を超えていることがわかります。

悠輔：グラフ6を見ると、「公共交通機関の廃止等のアクセス条件の低下」と答えた割合は、都市の規模が小さくなるほど高く、小都市では4割を超えており、人口が少なくなるほど公共交通のサービスレベルが低下していることがわかります。グラフ7から「コミュニティバス、乗合タクシーの運行等に対する支援」と答えた割合も都市の規模が小さくなるほど高く、小都市では75.4%で大都市の2倍を超えていることがわかります。

裕子：グラフ6を見ると、「中心市街地、既存商店街の衰退」と答えた割合は、小都市をトップにすべての都市規模で5割を超えています。またグラフ7から小都市で実施されている対策内容としては、「空き店舗対策等の常設店舗の出店、運営に対する支援」、「宅配、御用聞き・買い物代行サービス等に対する支援」、「移動販売車の導入・運営に対する支援」がともに高く、全国を上回っていることがわかります。

達彦：グラフ6を見ると、すべてのアンケート項目について、大都市での答えた割合が、中都市や小都市など他の都市規模での答えた割合を下回っています。大都市では他の都市規模に比べて、現時点での対策の必要性は低いと考えていることがわかります。またグラフ7を見ると、対策の実施内容についてもすべてのアンケート項目で大都市の答えた割合は3割を下回っており、しかも他の都市規模よりも低くなっています。

- ① 詩織
- ② 悠輔
- ③ 裕子
- ④ 達彦

