

## 平成29年度 日本史A・日本史B (50分)

## 注 意 事 項

- 1 試験開始の合図があるまで、この問題冊子の中を見てはいけない。
- 2 出題科目、ページ及び選択方法は、下表のとおりである。

出題科目	ページ	選 択 方 法
日本史A	1～24	左の2科目のうちから1科目を選択し、解答しなさい。
日本史B	25～46	

- 3 試験中に問題冊子の印刷不鮮明、ページの落丁・乱丁及び汚れ等に気付いた場合は、手を挙げて監督者に知らせること。
- 4 試験開始の合図前に、監督者の指示に従って、解答用紙の該当欄に以下の内容をそれぞれ正しく記入し、マークすること。

## ・①氏名欄

氏名を記入すること。

## ・②受験番号、③生年月日、④受験地欄

受験番号、生年月日を記入し、さらにマーク欄に受験番号(数字)、生年月日(年号・数字)、受験地をマークすること。

## ・⑤解答科目欄

解答する科目名を○で囲み、さらにその下のマーク欄にマークすること。

- 5 受験番号、生年月日、受験地が正しくマークされていない場合は、採点できないことがある。
- 6 解答科目が正しくマークされていない場合は採点できないので、必ず正しくマークすること。
- 7 解答は、解答用紙の解答欄にマークすること。例えば、解答番号が 10 である問いに対して②と解答する場合は、次の(例)のように解答番号10の解答欄の②にマークすること。

(例)

解答番号	解 答 欄			
10	①	②	③	④

- 8 問題冊子の余白等は適宜利用してよいが、どのページも切り離してはいけない。
- 9 試験終了後、問題冊子は持ち帰ってよい。

# 日 本 史 A

( 解答番号  ~  )

**1** I～Ⅲの資料(意識してある)と会話文について、後にある各問いに答えよ。

## I

アメリカの国書を大名たちに布告した。その国書に対して大名から提出された上書である。

### 甲

アメリカを優待して国交や交易を求めるといふ願いを聞けば、欧州の強大な国は侮り、どのような難題をかけてくるかわからない。戦いになれば勝てるだろうか。負けて願いを聞くことは大きな災難であり、打ち払うのなら一時の災難である。

### 乙

交易はもともと中国・オランダのほかは禁止している。堅く断るべきである。

### 丙

- 一 穏便にとりかはらうべきである。
- 一 交易は年限を切って試みるべきである。

(『長野県史近代史料編』により作成)

## Ⅱ

大閣老(首相)をはじめ6人の閣僚とそれ以下の官吏が国中の政事をつかさどり、それとは別に、議政局を立て上下二局に分けて、下局は諸藩から数人の政治や法律の筋道に明るい人を選挙でおよそ130人選び、上局は公家や大名・旗本のなかから選挙で30人ほど選び交代で都に勤めること、国事は、この両局にて決議すべきこと…。

(『上田市誌』により作成)

## Ⅲ

政権を朝廷に返還し、広く天下の議論をつくし、天皇の決断を仰ぎ、同心協力し、ともに皇国を守っていけば必ず諸外国と肩を並べていくことができるでしょう。

(『維新史』により作成)

## 会話文

先生：Ⅰは  とき、老中阿部正弘が国書を諸藩に回覧し、どう対処するか意見を求めた結果、提出されたものです。

生徒：甲・乙・丙の意見を読むと、  ことがわかります。

先生：江戸幕府が成立してから、かつてなかったできごとが、様々な議論をよび、人々の政治に対する関心を高めたのです。

生徒：Ⅱはどのような資料なのですか。

先生：Ⅱはある藩士が、1867年に越前藩主松平慶永に提出した国政改革に関する意見書です。ここでは新しい議会(a)を設けることについて述べています。地方の藩士の中から(b)も、政治体制について先進的な議論をする人々が出てきたことがわかります。

生徒：Ⅲは  の上表文で、Ⅱと同じ年に朝廷に提出されたものです。確か土佐藩や広島藩の建白によりふみきったと聞きました。

先生：「広く天下の議論を尽くし」とあることから、この時点では徳川慶喜と大名や藩士からなる議会による政権の運営が想定されていたように思われます。

生徒：しかし、江戸幕府は倒され、思惑は外れました。その後、多くの人々の意見を取り入れた政治運営への期待は、(c)議会開設の要求として盛り上がりを見せるのですね。

問 1   に当てはまる語句の組合せとして正しいものを、下の①～④のうちから一つ選べ。解答番号は  。

ア モリソン号が通商を求め来航した

イ ペリーが国交を求め来航した

ウ すべての意見がアメリカとの交易を拒絶するものであった

エ アメリカとの交易を拒絶するものから受け入れる意見まであった

① A—ア B—ウ

② A—ア B—エ

③ A—イ B—ウ

④ A—イ B—エ

問 2  に当てはまる語として適切なものを、次の①～④のうちから一つ選べ。解答番号は  。

① 王政復古

② 徴兵告諭

③ 大政奉還

④ 地租改正

問 3 下線部分<sup>(a)</sup>松平慶永について述べた文ア・イの正誤の組合せとして正しいものを、下の①～④のうちから一つ選べ。解答番号は 。

- ア 将軍継嗣問題では一橋派を支持し、文久の改革で政事総裁職についた。  
イ 公武合体を進めるため、藩兵を率いて江戸に上り、政治改革を要求した。

- ① アー正 イー正                      ② アー正 イー誤  
③ アー誤 イー正                      ④ アー誤 イー誤

問 4 下線部分<sup>(b)</sup>新しい議会についてⅡではどのように考えられていることがわかるか、適切なものを、次の①～④のうちから一つ選べ。解答番号は 。

- ① 諸藩や公家・大名の中から選ばれた者から構成される議会  
② 天皇と公家の中から選ばれた者から構成される議会  
③ 大名からのみ構成される議会  
④ 大閣老(首相)が任命した者から構成される議会

問 5 下線部分<sup>(c)</sup>議会開設に関連したできごとア～ウを、年代の古い順に正しく並べたものを、下の①～④のうちから一つ選べ。解答番号は 。

- ア 民撰議院設立の建白書が提出される。  
イ 内閣制度が発足する。  
ウ 国会開設の勅諭が出される。

- ① ア→イ→ウ            ② ア→ウ→イ            ③ イ→ア→ウ            ④ イ→ウ→ア



2 次の表と資料を見て、後にある各問いに答えよ。

表

清に対する日本の動き	琉球に対する日本の動き	朝鮮に対する日本の動き
(a) <u>日清修好条規</u> が結ばれる。 (b) <u>琉球漂流民殺害事件</u> がおこる。  <b>A</b> 出兵が行われる。	琉球藩を置く。   琉球藩を廃止し、 <u>沖縄県</u> を置く。 (c)	(d) <u>日朝修好条規</u> が結ばれる。

資 料

琉球処分についての新聞記事(意識してある)

清国の外務省に問えば、琉球国王を藩王としたのは、国王以下の国情をもって申し立てたためだと答え、琉球の役人に問えば、藩王となし華族になされたのは日本政府の強迫によるものであり、以前のような体制にしてもらいたいと言っているという。また、聞くところによれば松田大書記官が、廃藩置県を急施したのは、清国政府が琉球問題に着手する懸念があったからだという。

(『東京日日』により作成)

問 1 下線部分日清修好条規の内容について述べた文ア・イの正誤の組合せとして正しいものを、下の①～④のうちから一つ選べ。解答番号は **6**。

- ア 清国は朝鮮国が完全な独立国であることを認めた。  
 イ 日本と清国が相互に領事裁判権を認めあうなど、対等な立場で結ばれた。

- ① アー正    イー正                      ② アー正    イー誤  
 ③ アー誤    イー正                      ④ アー誤    イー誤

問 2 下線部分琉球漂流民殺害事件をきっかけに  出兵が行われた。 に当てはまる語と出兵についての説明の組合せとして正しいものを、次の①～④のうちから一つ選べ。解答番号は  。

- ① 語—台湾 説明—報復を理由に出兵し、琉球が日本領であることを主張した。
- ② 語—台湾 説明—在留邦人の保護を理由に出兵し、北伐を阻止しようとした。
- ③ 語—山東 説明—報復を理由に出兵し、琉球が日本領であることを主張した。
- ④ 語—山東 説明—在留邦人の保護を理由に出兵し、北伐を阻止しようとした。

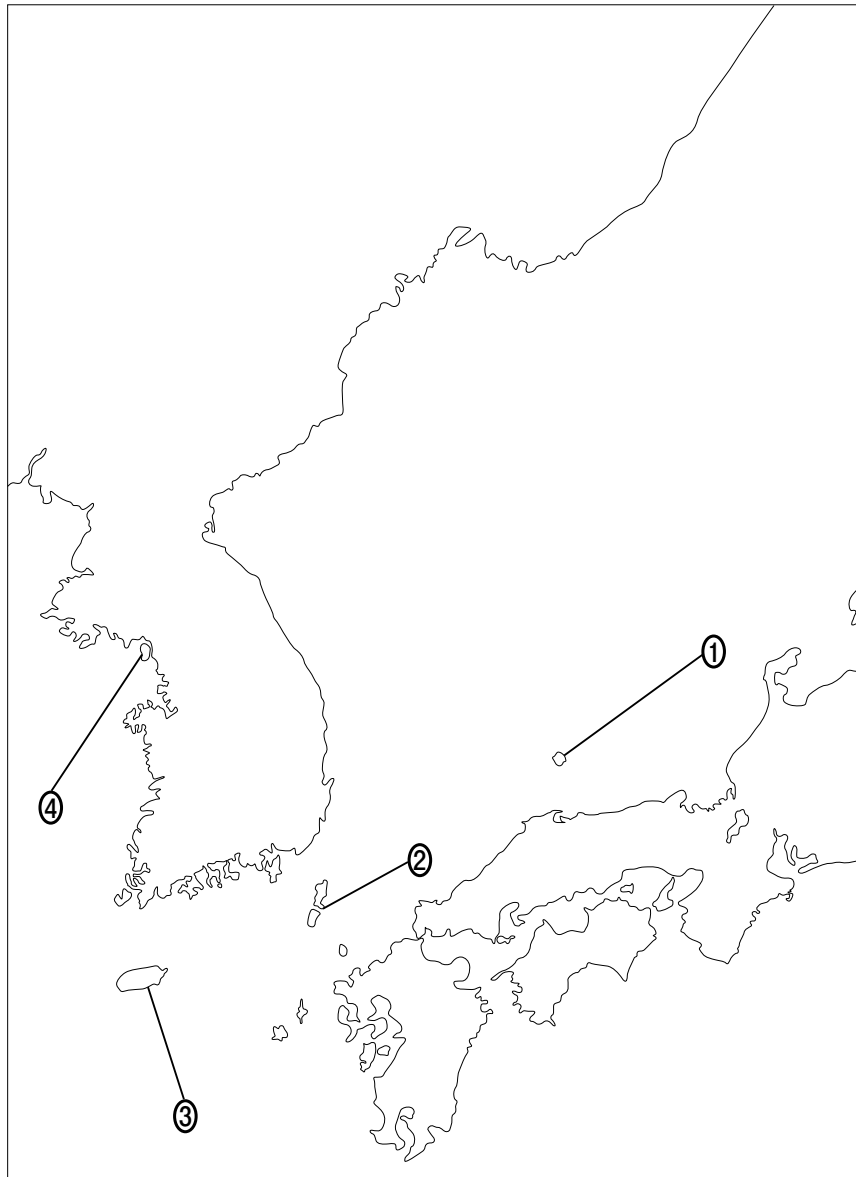
問 3 下線部分沖縄県の設置について表と資料を見て、次の  に当てはまる語句の正誤の組合せとして正しいものを、下の①～④のうちから一つ選べ。解答番号は  。

沖縄県設置について  。

- ア 日本の処分に反対する声があった
- イ すべての廃藩置県に先んじて行われた

- ① ア—正    イ—正                      ② ア—正    イ—誤
- ③ ア—誤    イ—正                      ④ ア—誤    イ—誤

問 4 下線部分日朝修好条規が結ばれるきっかけとなった事件がおきた場所として最も適切なものを、次の略地図上の①～④のうちから一つ選べ。解答番号は  。



問 5 表の矢印の期間におきたできごととして適切なものを、次の①～④のうちから一つ選べ。

解答番号は  。

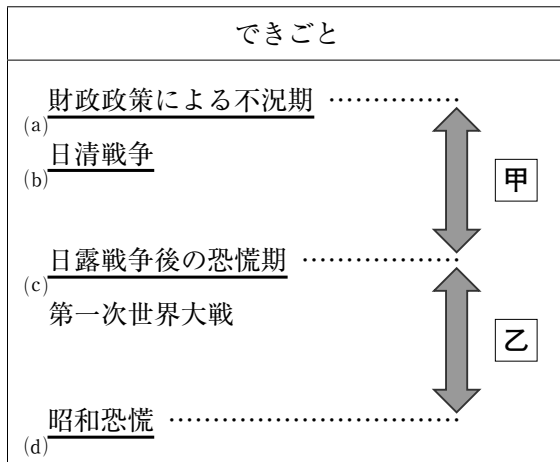
- ① 日本が、小笠原諸島領有を英米に通告した。
- ② 義和団事件で、日本が軍隊を派遣した。
- ③ 日英通商航海条約を結び、領事裁判制度が撤廃された。
- ④ 間宮林蔵が樺太を探検した。





3 次の年表を参考にして、後にある各問いに答えよ。

年 表



問 1 下線部分財政政策による不況期<sup>(a)</sup>の経済政策の一つに日本銀行の設立がある。日本銀行設立後に定められた兌換銀行券条例(意識してある)の内容として正しいものを、下の①～④のうちから一つ選べ。解答番号は 11。

兌換銀行券条例

- 第一条 兌換銀行券は日本銀行条例第十四条により同銀行で発行して銀貨と交換できるものとする
- 第二条 日本銀行は兌換銀行券発行量に対し引き換えるような十分な銀貨を準備すること
- 第四条 兌換銀行券は租税海関税其他一切の取引に支障なく使えるものとする
- 第七条 金銀貨を持参して兌換銀行券との交換を望む人がいるときは日本銀行本店か支店において手数料無料で交換することができる

(『法令全書』により作成)

- ① 兌換銀行券とは、銀との交換が義務付けられていない銀行券を指す。
- ② 日本銀行は銀貨の準備がなくても、兌換銀行券を発行することができる。
- ③ 兌換銀行券は国内の取引に通用するが、税金を納める際には使用できない。
- ④ 金銀貨を持参すれば、手数料無料で兌換銀行券と交換することができる。

問 2 下線部分日清戦争の後、政府と政党の提携が進むなど、関係の変化がおこった。次の資料<sup>(b)</sup> (意識してある)は、ある政党の成立について述べたものである。その政党名として正しいものを、下の①～④のうちから一つ選べ。解答番号は 。

見てみよ、今や諸君はかつて我々民権派に対して退去令を発令した時に総理であった伊藤や、内務大臣であった山県たちと手を取るのだな。かつての仲間を牢獄や絞首台におくった薩長藩閥のリーダーである伊藤博文を党首に迎えるとは…なにごとだ！

- ① 日本社会党      ② 立憲政友会      ③ 立憲改進黨      ④ 自由民主党

問 3 次の写真は甲の期間におこったある事件に関するものである。太郎さんと花子さんの会話文の   に当てはまる語の組合せとして正しいものを、下の①～④のうちから一つ選べ。解答番号は 。

写 真



太郎さん：この写真は、義和団事件の際に出兵した連合国の兵士を写したものです。

花子さん：写真中  の国の植民地である  から派兵されていたんですね。

太郎さん：そうですね。この時は日本と  の国の軍が連合国の主力として活躍しました。その結果  の国は事件後中国東北部を事実上占領してしまいます。

花子さん：それは日本にとって、大きな脅威ですね。

太郎さん：日本以外にも  の国の  に危機感を抱いていた  の国は、日本と協力して  の国に対抗しようと考え、のちに  を締結するに至りました。

- ① A—孤立政策      B—日露協商      ② A—孤立政策      B—日英同盟  
 ③ A—南下政策      B—日露協商      ④ A—南下政策      B—日英同盟

問 4 下線部分<sup>(c)</sup>日露戦争後の恐慌期の社会情勢についての説明として正しいものを、次の①～④のうちから一つ選べ。解答番号は 14。

- ① 戦後の賠償金を資本とした産業の活性化によって恐慌からもち直し活気を取り戻した。
- ② 恐慌に加えて、講和条約後獲得した領土を返還することになり、国民の憤りが高まった。
- ③ 恐慌の中、戦後の無気力感から国民間に個人主義や享乐的傾向が広まり風紀が乱れた。
- ④ 世界的な恐慌に対して有効な政策を打ち出せない政治家と軍部の対立が顕著になった。

問 5 乙の期間の日本の経済状況について説明した文ア～ウを、年代の古い順に正しく並べたものを、下の①～④のうちから一つ選べ。解答番号は 15。

- ア 戦中に欧米諸国への輸出やアジア市場への輸出が増えて、日本は好景気になった。
- イ 関東大震災後の震災手形の処理をきっかけとして金融機関が混乱に陥り、倒産が相次いだ。
- ウ 戦後、それまでの好景気の反動から経済が停滞し、天災の被害も相まって不況に陥った。

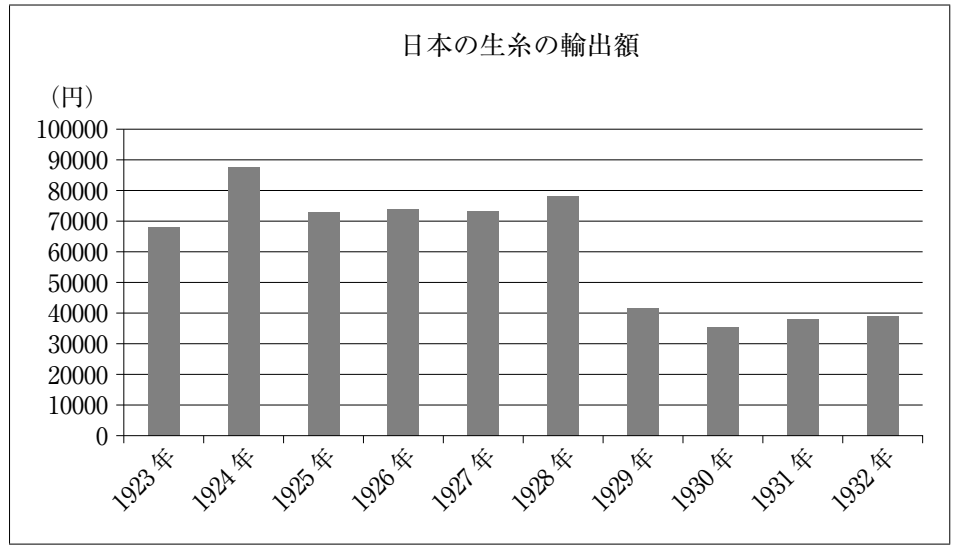
- ① ア→イ→ウ      ② ア→ウ→イ      ③ ウ→イ→ア      ④ ウ→ア→イ

問 6 下線部分昭和恐慌に関する次のグラフについて説明した下の文章の

(d)  
に当てはまる語句の組合せとして正しいものを、下の①～④のうちから一つ選べ。

解答番号は  。

グラフ



(『大蔵省 通関統計』により作成)

生糸の輸出額は1929年に大きく  しています。その背景として  による影響が考えられます。

- ① C—増加      D—アメリカでおきた株価の暴落
- ② C—増加      D—ロシア革命後のシベリア出兵
- ③ C—減少      D—アメリカでおきた株価の暴落
- ④ C—減少      D—ロシア革命後のシベリア出兵

4 次の写真や絵画に関する会話を読み、後にある各問いに答えよ。


太郎さん：この建物を見たことがありますか。

花子さん：この建物はニコライ堂という建物で、という人が設計したことで有名なキリスト教の教会で(a)すね。

太郎さん：明治初期には、政府に招かれた多くのお雇い外国人がいました。日本から留学する人もたくさんいたのですね。

花子さん：留学生の中には、ドイツに留学して細菌学を学んで、帰国後、ペスト菌を発見したがいますね。

写 真



問 1   に当てはまる語の組合せとして正しいものを、次の①～④のうちから一つ選べ。解答番号は  。


- ① A—コンドル      B—北里柴三郎      ② A—コンドル      B—牧野富太郎  
③ A—フェノロサ      B—北里柴三郎      ④ A—フェノロサ      B—牧野富太郎

問 2 下線部分(a)キリスト教について、明治時代の日本国内のキリスト教について述べた文ア・イの正誤の組合せとして正しいものを、下の①～④のうちから一つ選べ。解答番号は  。

- ア キリスト教の信仰は、明治憲法の条文でも一定の条件で認められていた。  
イ キリスト教を信仰する知識人によって私立学校が設立された。

- ① ア—正      イ—正      ② ア—正      イ—誤  
③ ア—誤      イ—正      ④ ア—誤      イ—誤

## 絵画



太郎さん：この絵画は、鹿鳴館を舞台に展開された欧化政策を批判している風刺画ですね。

花子さん：日本の形式的な欧米化に対する、欧米諸国からの冷ややかな視線が表れていますね。

太郎さん：国内からも批判が出ていましたね。これらの欧化政策には、<sup>(c)</sup>条約改正の交渉を進めようとする意図もあったようですね。

問 3 下線部分冷ややかな視線<sup>(c)</sup>について、絵画の左上に書かれた「名磨<sup>なま</sup>行<sup>まい</sup>＝生意気」の解釈として最も適切なものを、次の①～④のうちから一つ選べ。解答番号は 19。

- ① 欧米の国に奇襲攻撃を仕掛けて戦争で勝とうとするなんて、生意気だ。
- ② 洋装したり、舞踏会をしたりして、欧米人を気取っているのは猿真似であり生意気だ。
- ③ 中国に対して領土割譲を要求するなんて、欧米の帝国主義を真似るのは生意気だ。
- ④ 欧米に対して軍需製品を輸出して、貿易で利益を上げるなんて生意気だ。

問 4 下線部分条約改正の交渉<sup>(d)</sup>について、この時期の外交を担当したのは井上馨である。井上馨が外相であった時期のできごととして最も適切なものを、次の①～④のうちから一つ選べ。解答番号は 20。

- ① 岩倉具視を全権大使とする使節団を欧米に派遣し、予備交渉をしようとしたが断念した。
- ② イギリスのノルマントン号が沈没し、多くの日本人乗客が命を落とした。
- ③ 滋賀県の大津で、来日中のロシア皇太子が襲撃された。
- ④ 日米通商航海条約が改正され、関税自主権の回復に成功した。





- 5 次の資料1は、満州事変開始直後、東洋経済新報社にいた石橋湛山が、「社説」に書いたものである。資料1を読み、後にある各問いに答えよ。

資料1（意識してある）

例えば満州を領有しようとする人々は、我国は人口が多く、土地は狭いから、ぜひそのはけ口を中国大陸に求めなければならないと説くのだが、しかし人口問題は、領土を広げたからと言って解決はできない。我国は、明治27、8年の戦争以降、台湾、朝鮮、樺太を領土に加え…(中略)その結果は全く人口問題の解決に役立っていない。(中略)そして我国には、鉄、石炭等の原料が乏しいから、満蒙の地を、その供給基地として我国に確保することが、国民経済上必要であることを唱える。これも現在までの事実においては、全く違う。(中略)もし何の代償もなしに、満蒙に支配的地位が占められるのであれば、もらっておいても悪くはないかもしれない。しかし満蒙は、いうまでもなく、無償で我国が欲せられるものではない。少なくとも感情的に中国国民を敵に回し、ひいては世界列国を敵に回し、それでも我国はこの取引に利益があろうか。

〔石橋湛山全集 第八巻〕により作成

- 問1 資料1から読み取れることとして適切でないものを、次の①～④のうちから一つ選べ。

解答番号は 21。

- ① 明治時代以降、日本は自国の領土を拡大してきたことが記されている。
- ② 満州には、広大な土地や多くの資源があることが、進出の理由とされた。
- ③ 日本の満州進出には、中国国民は反発するが、それ以外の国は反発しないと予想されている。
- ④ 石橋湛山は、「社説」の中で日本の満州進出に対して批判的である。

- 問2 下線部分朝鮮<sup>(a)</sup>に関して、この資料1が書かれたとき以降の日本と朝鮮半島との関係について、適切でないものを、次の①～④のうちから一つ選べ。解答番号は 22。

- ① 朝鮮では、日本式の氏名に変えさせる創氏改名や徴兵制度が行われた。
- ② 関東大震災の際には、多くの朝鮮人が流言などによって殺害された。
- ③ 朝鮮半島でおこった戦争の影響で、日本では特需により景気が上向いた。
- ④ 日韓基本条約にて、大韓民国と日本は国交を樹立した。

- 問 3 下線部分石炭に関して、写真について説明した下の文章の
- (b)  
に当てはまる語句の組合せとして最も適切なものを、下の①～④のうちから一つ選べ。
- 解答番号は  。

写 真



写真は  に、 ため、政府の方針を受けて石炭の増産を会社の正門に掲げたものである。

- |           |                    |
|-----------|--------------------|
| ① A—日中戦争中 | B—燃料や民需物資を増産する     |
| ② A—日中戦争中 | B—一次の戦争に使用する資源を蓄える |
| ③ A—敗戦直後  | B—燃料や民需物資を増産する     |
| ④ A—敗戦直後  | B—一次の戦争に使用する資源を蓄える |

問 4 下線部分<sup>(c)</sup>国民経済について、図と資料 2 を説明した下の文章の   に当てはまる語句の組合せとして最も適切なものを、下の①～④のうちから一つ選べ。  
 解答番号は  。

図(点数は、昭和 18 年に改訂されたときのものである)



資料 2

衣料切符は原則として、郡部で一人当たり一律 80 点、都市部で 100 点分が支給された。この点数の差はその生活様式の違いが理由とされた。各衣料品には図のように点数が定められており、人々は自分の持ち点の中での衣料の購入が求められた。切符の有効期間は原則として 1 年で、この割当点数には年齢、性別、職業などによる差異はなかったとされる。

衣料切符制は、 ために実施されたものであった。しかし、国民への供給は十分とは言えず、 部では背広とワンピースを一緒に買うことはできなかったことがわかる。

- ① C—物資をなるべく均等に分配する      D—都 市
- ② C—物資をなるべく均等に分配する      D—郡
- ③ C—海外への輸出を増やす                D—都 市
- ④ C—海外への輸出を増やす                D—郡

問 5 石橋湛山が総理大臣となった後の国際社会との関わりについて述べた文ア～ウを、年代の古い順に正しく並べたものを、下の①～④のうちから一つ選べ。解答番号は 25。

ア PKO(国連平和維持活動)協力法の成立によって、自衛隊がカンボジアで活動をした。

イ 高度経済成長のさなか、OECD(経済協力開発機構)に加盟した。

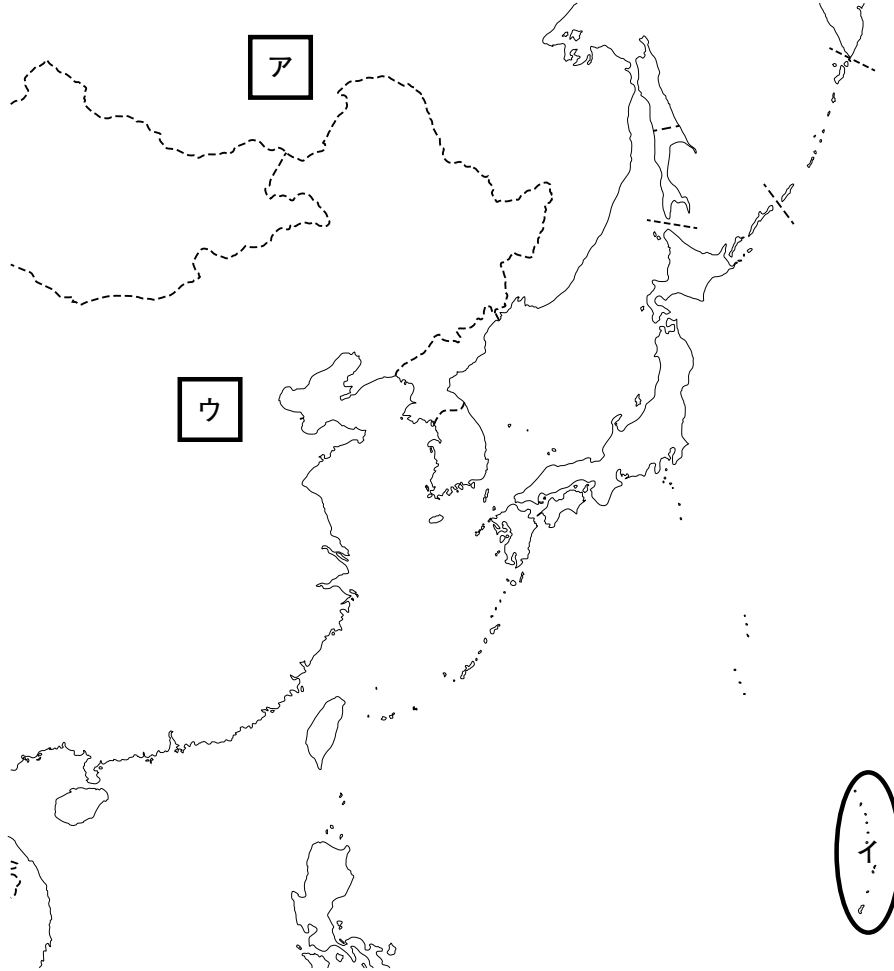
ウ 世界で最初の先進国首脳会議(サミット)に参加した。

- ① イ→ウ→ア      ② イ→ア→ウ      ③ ウ→ア→イ      ④ ウ→イ→ア

6 次のⅠ・Ⅱについて、後にある各問いに答えよ。

Ⅰ

地図



(注) 国境は、現在のものである。

写真



(紙幣の写真)



(紙幣の写真)

## 会話文

生徒：先生，歴史と地理って関係が深いんですね。

先生：そのとおりです。地理的な要因で人々の生活が変わってきますし，その時の国の政策が決められることもあります。例えば太平洋戦争の前に日本が地図中の「ア」の国と中立条約を結んだのは，「A」ためです。また写真から日本が戦争中に使用した紙幣にもその地域の「B」を反映させていたことが分かります。

生徒：なるほど。そういえば太平洋戦争中「イ」の地域にある島が陥落したことで，日本は絶対国防圏を確保できない状況となり，「C」ことになりました。そのため当時の「D」内閣は総辞職しましたね。

先生：戦争が終わった後も，「ウ」に社会主義国家が成立したり，「ア」の存在があったりと東アジアでの冷戦構造が深まる中で，GHQによる日本の占領政策も大きく転換(a)しました。

問 1 会話文の「A」「B」に当てはまる語句の組合せとして最も適切なものを，次の①～④のうちから一つ選べ。解答番号は「26」。

- |                |       |
|----------------|-------|
| ① A—南方に進出する    | B—植 生 |
| ② A—南方に進出する    | B—宗 教 |
| ③ A—満州国との連携を図る | B—植 生 |
| ④ A—満州国との連携を図る | B—宗 教 |

問 2 会話文の「C」「D」に当てはまる語句の組合せとして最も適切なものを，次の①～④のうちから一つ選べ。解答番号は「27」。

- |                  |        |
|------------------|--------|
| ① C—排他的経済水域が狭くなる | D—近衛文麿 |
| ② C—排他的経済水域が狭くなる | D—東条英機 |
| ③ C—本土への空襲が恒常化する | D—近衛文麿 |
| ④ C—本土への空襲が恒常化する | D—東条英機 |

問 3 下線部分日本の占領政策も大きく転換(a)について，次の①～④のうち適切でないもの一つを選べ。解答番号は「28」。

- ① 朝鮮半島で始まった戦争の影響を受け，日本では警察予備隊が創設された。
- ② 巨大独占企業を分割する方針が，緩和された。
- ③ 戦争に協力的であった人物が公職につくことを禁じられた。
- ④ GHQが発令した政令 201 号によって，官公庁労働者の争議権が失われた。

## Ⅱ

### 資 料

われわれは、戦後の荒廃の中からみずからの力によって今日の国力の発展と繁栄を築き上げてまいりました。しかし、こうした繁栄の陰には、公害、過密と過疎、物価高、住宅難など解決を要する数多くの問題が生じております。一方、所得水準の上昇により国民が求めるものも高度かつ多様化し、特に人間性充実の欲求が高まってきております。

これらの要請にこたえ、経済成長の成果を国民の福祉に役立てていく成長活用の経済政策を確立していくことが肝要であります。

この観点から見て、日本列島の改造は、内政の重要な課題であります。明治以来百年間のわが国経済の発展をささえてきた都市集中の奔流を大胆に転換し、民族の活力と日本経済のたくましい力を日本列島の全域に展開して国土の均衡ある利用をはかっていかなければなりません。

政府は、工業の全国的再配置と高速道路、情報ネットワークの整備を意欲的に推進するとともに、既存都市の機能の充実と生活環境の整備を進め、あわせて魅力的な地方都市を育成してまいります。

(『1945～2015 総理の演説』により作成)

問 4 資料を読み、この演説を行った首相とその内容についての組合せとして最も適切なものを、下の①～④のうちから一つ選べ。解答番号は 29。

首 相 ア 佐藤栄作

イ 田中角栄

内 容 ウ 日本経済の拠点を、今後ますます都市部に集中させていく

エ 高速道路の整備や工業の再配置を行い、地方にも活力が出ることを目指す

① アーウ

② アーエ

③ イーウ

④ イーエ



問 5 下線部分**数多くの問題**について、高度経済成長期の諸問題として**適切でないもの**を、次の

①～④から一つ選べ。解答番号は **30** 。

- ① 熊本県の水俣や三重県の日市などに見られる公害問題が発生し、四大公害訴訟がおこった。
- ② 低金利政策により過剰になった資金が株や土地に投資され、それらの価格が異常に上がった。
- ③ 大都市圏の郊外にはニュータウンが開発され、地元住民の土地や生活空間が脅かされた。
- ④ モータリゼーションが進む一方、交通事故が急増し、年間1万人前後の死者が出るようになった。

(これで日本史Aの問題は終わりです。)