

就学義務猶予免除者等の中学校卒業程度認定試験

平成 29 年度 社 会 (40 分)

注 意 事 項

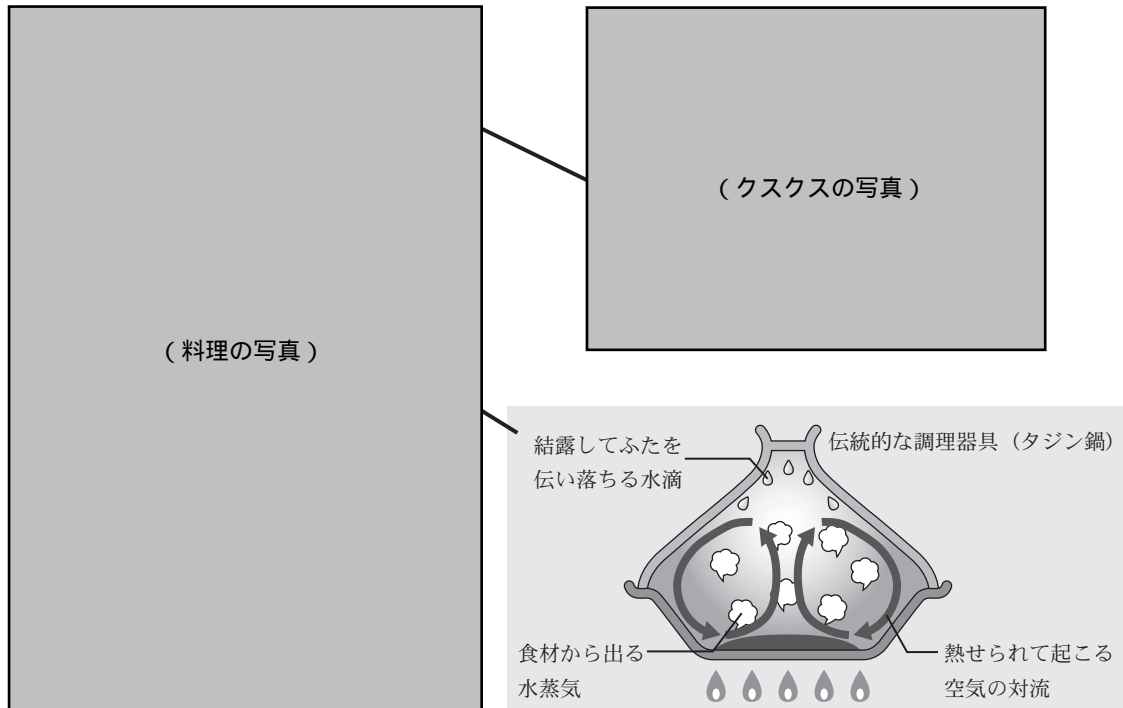
- 1 試験開始の合図があるまで、この問題冊子の中を見てはいけません。
- 2 この問題冊子は全 36 ページです。
試験中に問題冊子の印刷不鮮明、ページの^{らくちょう}落丁・^{らんちょう}乱丁及び汚れ等に気付いた場合は、手をあげて試験監督者に知らせなさい。
- 3 試験開始の合図の後、受験地、受験番号、氏名を解答用紙に記入しなさい。
- 4 解答は、各設問の指示に従い、全て解答用紙の解答らんに記入しなさい。
- 5 試験終了後、問題冊子は持ち帰ってかまいません。

1 次の(1)から(6)までの各問いに答えなさい。答えは、アからエまでの中から一つずつ選んで、解答用紙のらんのその記号を○で囲みなさい。

(1) アヤノさんは、世界各地の料理に興味をもち、資料1と資料2を手に入れた。資料1の料理で説明されている都市は、あとの地図中のアからエまでのどれか。

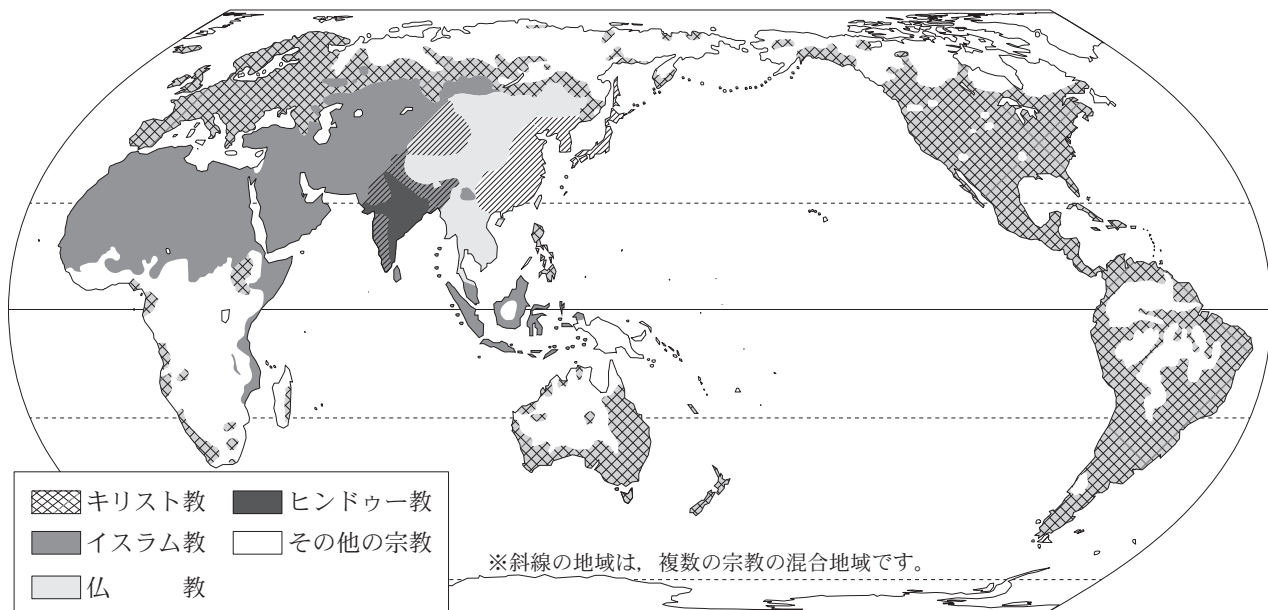
資料1

この都市では、肉類は羊^{ひつじ}、牛^{にわとり}、鶏を食べることが多く、宗教上の理由から豚肉を口にすることはまずありません。主食は小麦で、パンのほか、クスクスとよばれる小麦を水で練って粒状^{りゅうじょう}にしたものが有名です。また、この都市では昔から水が貴重であったため、食材の水分だけで蒸し焼きにできる伝統的な調理器具が使われてきました。



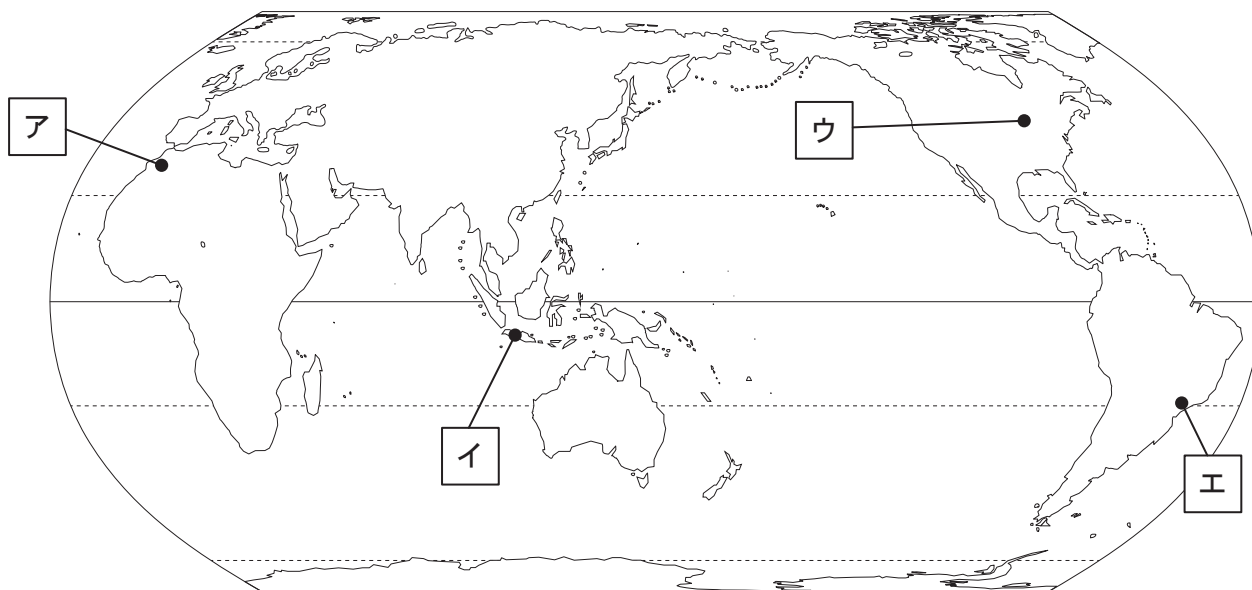
クスクスと伝統的な調理器具で作った料理

資料2 世界の主な宗教分布

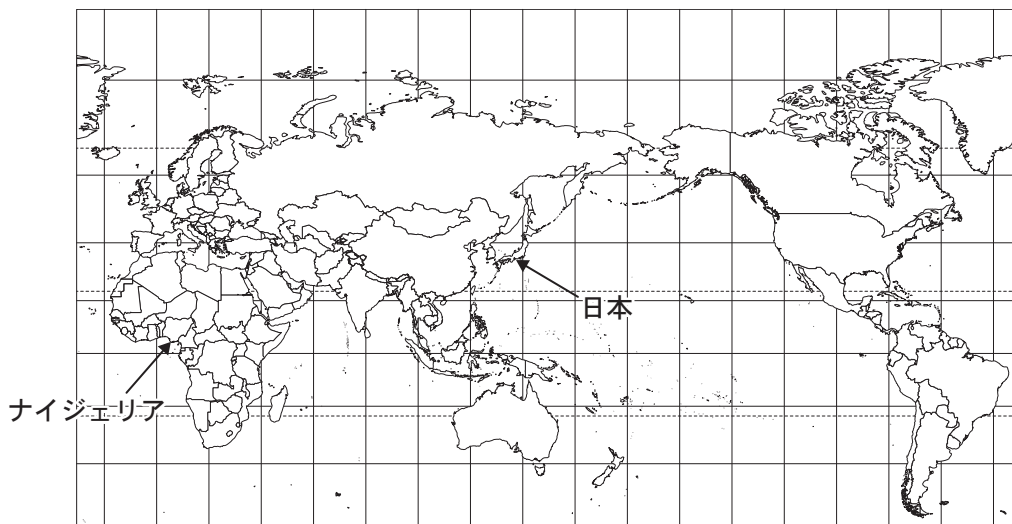


(アレキサンダーアトラス 2002 ほかより作成)

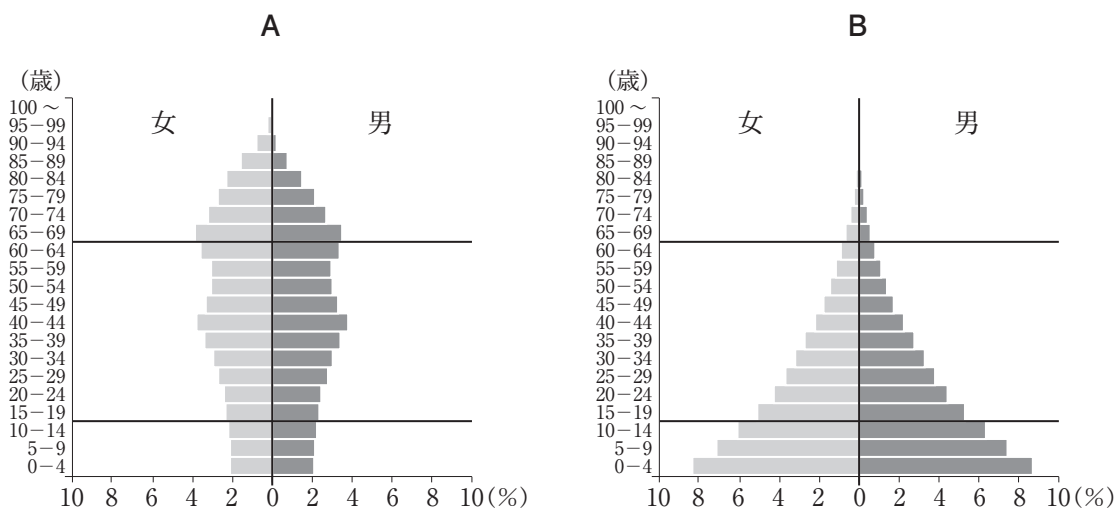
地図



(2) アスカさんは、世界の様々な国の人口の特色に興味をもち、資料1と資料2を手に入れた。資料1中のA、Bおよび資料2中のC、Dのうち、ナイジェリアにあてはまる記号の組合せとして正しいものは、あとのアからエまでのどれか。

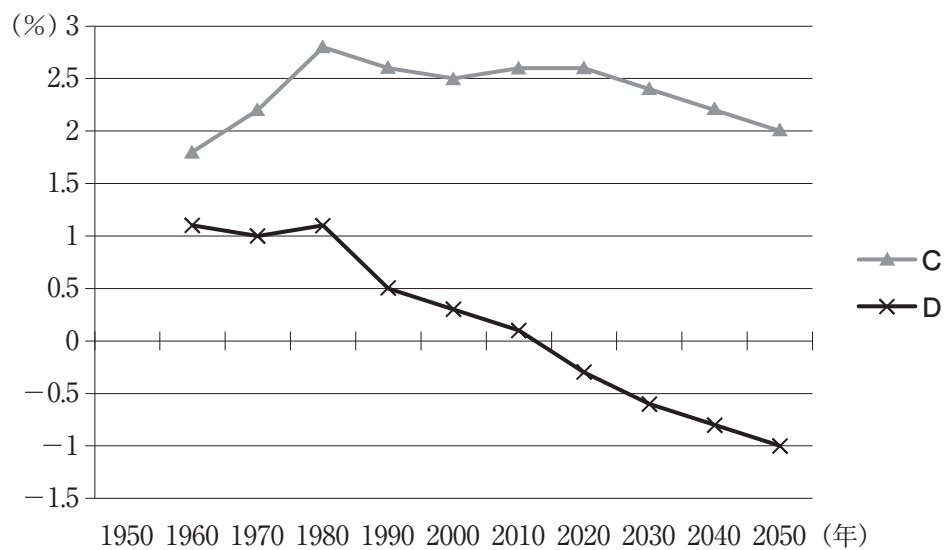


資料1 日本とナイジェリアのいずれかの国の人口構成(2014年)



(<https://www.populationpyramid.net/> による)

資料2 日本とナイジェリアのいずれかの国の人口増加率の推移と予測(1950年～2050年)



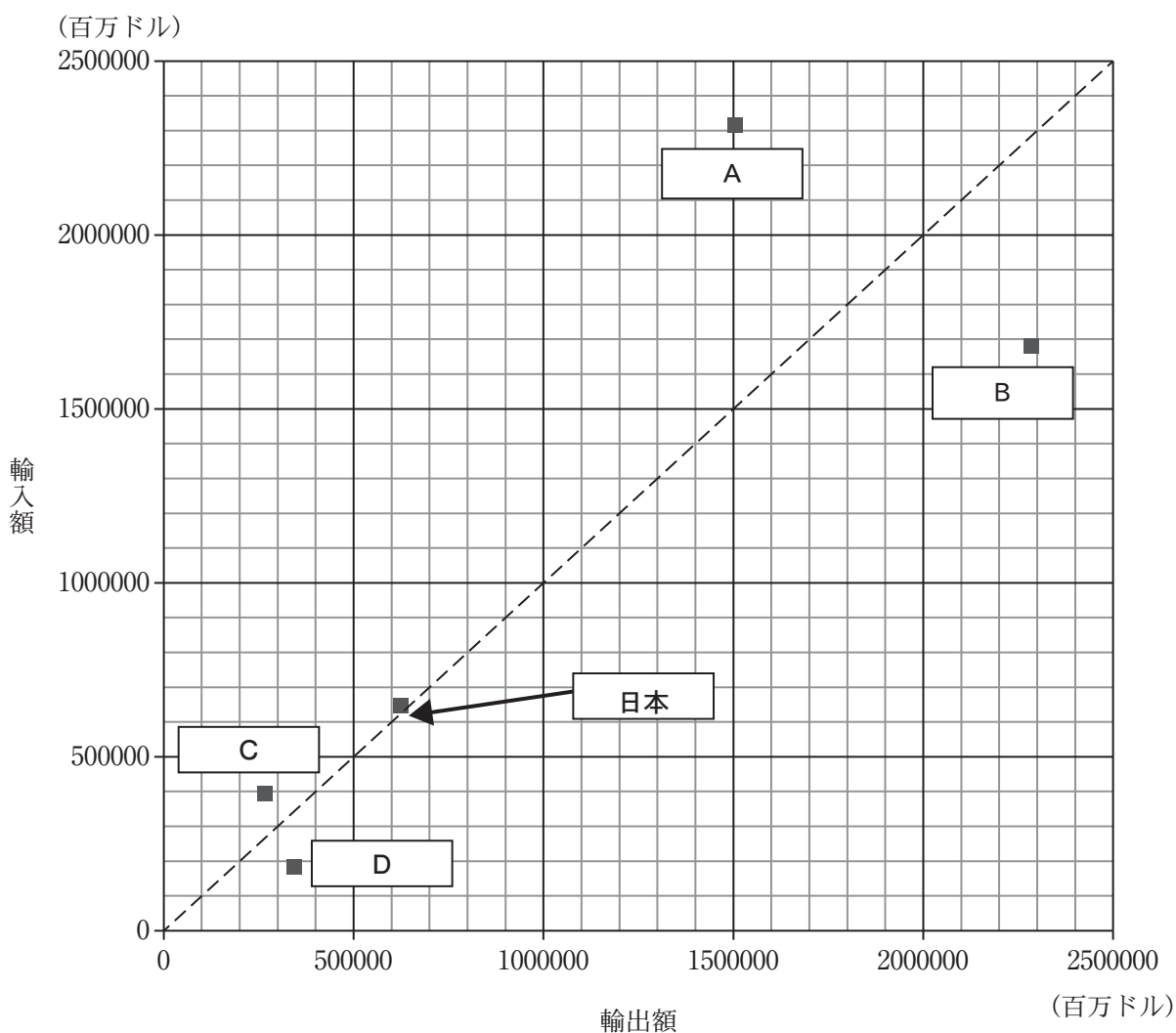
注) 資料中の各年の値は、10年前と比較した人口増加率を表している。
2020年以降の値は、予測値である。

(総務省統計局「世界の統計 2017」により作成)

	資料 1	資料 2
ア	A	C
イ	A	D
ウ	B	C
エ	B	D

- (3) ショウさんたちは、主な国の輸出額と輸入額をまとめた資料1を見て話し合っている。
 資料2を参考に、あとの会話文中の ① と ② にあてはまる語の組合せとして正しいものは、あとのアからエのうちどれか。

資料1 アメリカ合衆国、インド、中国、ロシアおよび日本の輸出額と輸入額(2015年)



(総務省統計局「世界の統計 2017」により作成)

資料2 資料1中のA, Bの輸出品と輸入品の内訳(2014年)

A	輸出：機械類, 自動車, 石油製品, 精密機械, プラスチック, 医薬品 等 輸入：機械類, 自動車, 原油, 衣類, 石油製品 等
B	輸出：機械類, 衣類, 繊維品, 金属製品, 精密機械 等 輸入：機械類, 原油, 精密機械, 鉄鉱石, 自動車 等

(世界国勢図会 2016/17 による)

会話文

ショウさん：アメリカ合衆国，インド，中国，ロシアと日本の輸出額・輸入額をグラフにまとめてみました。

先生：おもしろい結果になりましたね。このグラフから，どのようなことが言えますか。

ショウさん：日本を基準に考えると，**A・B**は輸出額と輸入額の合計が日本よりも ① グループ，**C・D**はそうでないグループと，二つに分けることができます。

イチロウさん：とすると，**A・B**は中国かアメリカ合衆国のどちらかですね。**A**と**B**ではどのような違いがあるのですか。


先生：資料2は，**A**と**B**の貿易品を表しています。二国を比べると，どちらも機械類の輸出が多いですが，**A**は自動車などを多く輸出しているのに対し，**B**は衣類や繊維品の輸出が多いなど，貿易品には違いが見られます。

イチロウさん：ということは，**B**で表されている国は ② ですね。

	①	②
ア	多い	アメリカ合衆国
イ	多い	中国
ウ	少ない	アメリカ合衆国
エ	少ない	中国

- (4) 佑樹さんは、日本各地に特色ある伝統料理が存在することに興味をもち、次のレポートを作成した。資料1をもとに、このレポートで取り上げた料理が見られる都市として最も適切なものは、あとの地図中のアからエまでのどれか。

レポート



この地域の伝統的な雑煮ぞうじは、近海でとれる食材を使っているのが特徴です。焼いたもちを加え、いくらなどが添えられています。

資料 1 雑煮に使われるもちの形



(日本スポーツ振興センター 「全国のお雑煮文化圏マップ」により作成)

地図



- (5) 京子さんは、八幡製鉄所(製鐵所)とその周辺地域の変容について興味をもち、資料1と資料2を手に入れた。それらの資料を比較してまとめた文として適切でないものは、あとのアからエまでのどれか。

資料1 八幡製鉄所とその周辺地域(1922～1926年ころ)



(「今昔マップ on the web」 <http://ktgis.net/kjmapw/>による)

資料2 八幡製鉄所とその周辺地域(現在)



(国土地理院 地理院地図による(一部改変))

- ア 資料1では製鉄所の北西には港があったが、資料2では埋め立てられ工場の面積が広がった。
- イ 資料1では製鉄所内に鉄道が多く見られたが、資料2では一部が道路に置き換わっている。
- ウ 資料1では製鉄所であった場所が、資料2では一部が遊園地になっている。
- エ 資料1では製鉄所の南は畑であったが、資料2では市街地に変化している。

- (6) 智恵子さんは、自分たちが住む地域の地図をもとに 20 m の津波にそなえるハザードマップを作成した。津波による浸水想定区域と自宅から避難する方向を描いたものとして最も適切なものは、あとのアからエまでのどれか。

地図



(国土地理院 地理院地図による)

ア



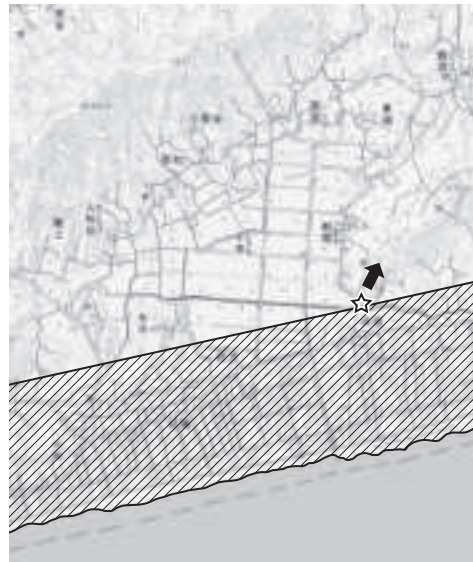
イ




ウ



エ



-  津波による浸水想定区域
- ☆ 自宅
- ← 自宅から避難する方向

2

次の(1)から(6)までの各問いに答えなさい。答えは、アからエまでの中から一つずつ選んで、解答用紙のらんのその記号を○で囲みなさい。

- (1) 次の年表の には、それぞれ各時代に使われ始めた貨幣とその貨幣に関する内容を示した、あとのアからエまでのいずれかが入る。 X にあてはまるものは、あとのアからエまでのどれか。

時代	おもなできごと
古代	大化の改新が始まる
	↑ ↓ <input type="text"/>
中世	守護・地頭が各地におかれる
	↑ ↓ <input type="text"/>
近世	太閤検地が始まる
	↑ ↓ <input type="text"/> X <input type="text"/>
近代	大政奉還が行われる
	↑ ↓ <input type="text"/>

注)各時代の幅は、実際の長さとは関係がない。

ア



貿易用一円銀貨

貿易用の銀貨が発行され、他国との貨幣による交易が開始された。のちに新貨幣も発行された。

イ



富本銭

和同開珎

朝廷は、新しい国づくりを目指した政策の一つとして、銅による貨幣をつくった。銅銭は、都の市を中心に、主に現在の近畿地方で使われたと考えられる。

ウ



洪武通宝

永樂通寶

朝廷の力が弱まるにつれて、国内で貨幣が作られなくなった。そこで、交易により得た中国の銅銭が、定期市などで全国に広まった。

エ



慶長小判

享保丁銀

政権が安定したことにもなって、全国で通用する金や銀の貨幣が作られ、東日本では主に金が、西日本では主に銀が使われた。

注) 全ての貨幣の大きさは、現物とは異なる。

- (2) 資料1, 資料2を参考にして, 下の会話文中の ①, ② にあてはまる語句の組合せとして最も適切なものは, あとのアからエまでのどれか。

資料1



資料2



会話文

洋介さん：資料1, 資料2から考えると, 当時の民衆の動きがそれまでの時代と比べて活発になったといわれているよ。

亜紀さん：資料1は ① 時代の頃の田楽の様子をあらわしたものだよ。この頃の田楽は, 農業技術が進歩した中で, 田植えやかんがいの際に多くの人手が必要でした。そのため, 村の人々が協力したんだね。

洋介さん：資料2の一向一揆は, 一向宗の門徒であった国人や農民などが団結して起したものだといわれているよ。

亜紀さん：この二つの資料から推測すると, 当時の民衆はどうしてこのような動きをしたんだろう。

洋介さん：この頃の社会の特色である ② ことが関係しているといえるのではないかな。

	①	②
ア	室町	五人組など, 連帯責任をとらせる制度ができた
イ	室町	惣村など, 地域を自分たちで運営する動きがあった
ウ	江戸	五人組など, 連帯責任をとらせる制度ができた
エ	江戸	惣村など, 地域を自分たちで運営する動きがあった

- (3) 資料を参考にして、下の会話文中の , にあてはまる語句の組合せとして正しいものは、あとのアからエまでのどれか。

資料 1842年に幕府から出された禁令

野菜については、その収穫の季節以外に売買してはならぬというお触書を前々より出している。にもかかわらず、近年初物を好む風潮が目に見えようになり、ことに料理屋が競って買い求め、高価な料理を出しているのは許すことはできない。きゅうり、なす、いんげん、さらには「もやしもの」と称して、雨戸をかけた部屋を利用し室内で温めて栽培し、年中、時期はずれに売ることがぜいたくなくらしを導くことから、今後は作ってはならぬ。

(〔江戸町触集成〕第14巻より一部改変)

会話文

明子さん：資料で禁止されている野菜の栽培方法って、 方法というのかな。

健吾さん：そうだね。でもどうして禁止されたのだろう。

明子さん：初物好きの人が高い価格で野菜を買うことで、物価が上昇するのを防ぎたかったと考えられるね。

健吾さん：この頃の政治改革では、 ため、資料と関連があることが分かるよね。

	①	②
ア	出荷を早くしようとする	質素儉約により、経済の統制を含め風紀を正そうとした
イ	出荷を早くしようとする	商工業者に特権を与え、経済の活性化を促した
ウ	季節に適した栽培をする	質素儉約により、経済の統制を含め風紀を正そうとした
エ	季節に適した栽培をする	商工業者に特権を与え、経済の活性化を促した

- (4) みずほさんたちは、五箇条の御誓文に関する年表を手に入れた。会話文中の ① , ② にあてはまる記号の組合せとして適切なものは、あとのアからエまでのどれか。

五箇条の御誓文

- | | |
|-----|---|
| I | 政治を行う際に多くの意見を求めること、政治に関して、全てのことを会議で話し合っ
て決めていくこと |
| II | 身分の上下に関わらず、心をつにして国家を治め整えていくこと |
| III | 公家・武家から庶民にいたるまで、身分の違いを超えて、それぞれの志を実現で
きるような社会を目指すこと |
| IV | 古くからの悪い習慣をあらためて、世界共通の正しい道理に従うこと |
| V | 知識を世界に求めて、国家を発展させること |

注) 本文を意識して表記している。

年表

年	おもなできごと
1868	五箇条の御誓文が出される
1869	版籍奉還が行われる
1871	廃藩置県が行われる 岩倉使節団が欧米に派遣される…………… X
1874	民撰議院設立の建白書が提出される
1885	第一次伊藤博文内閣が発足する
1889	大日本帝国憲法が発布される
1890	第一回帝国議会が開かれる…………… Y

会話文

みずほさん：五箇条の御誓文に示された5つの項目のうち、年表中のおもなできごとと結び付けて考えると、どのようなことと関わりが深いかな。

さくらさん：そうね、例えば年表中のXについては、最も関係が深いと考えられるのは だね。

みずほさん：年表中のYについてはどう思う。

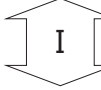
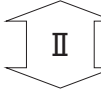
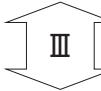
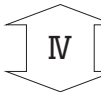
さくらさん：そのできごとに最も関係が深いものは だと考えられるね。

みずほさん：そう考えると、前の時代とは社会の仕組みが大きく変わったのね。

	①	②
ア	Ⅱ	I
イ	Ⅱ	Ⅳ
ウ	V	I
エ	V	Ⅳ

- (5) あさひさんは、次の年表に関連して、資料1、資料2を手に入れた。資料1、資料2に示された「ある時期」とは、年表中のⅠからⅣのそれぞれの時期にあたるか、その組合せとして最も適切なものは、あとのアからエまでのどれか。

年表


1874	漂流した琉球の人が殺害された事件などから、台湾に出兵した。 
1894	朝鮮半島をめぐって、清国と戦争になった。 
1904	満州の支配などの対立から、ロシアと戦争になった。 
1920	国際連盟に加盟して、常任理事国になった。 
1933	満州をめぐるとの問題をきっかけに、国際連盟を脱退した。

資料1 「ある時期」に結ばれた条約

- ・ロシアは韓国に対する日本の優越権を認める。
- ・ロシア領であった樺太の南半分を日本の領土とする。
- ・ロシアは中国から借りていた遼東半島の一部を日本に譲る。

注) 条約の一部を示し、内容は意識している。

資料2 国際関係を表した風刺画(ビゴー画)



「朝鮮」という魚を釣ろうとする「日本」と「清国」の対立状況を「ロシア」がうかがっている「ある時期」の様子

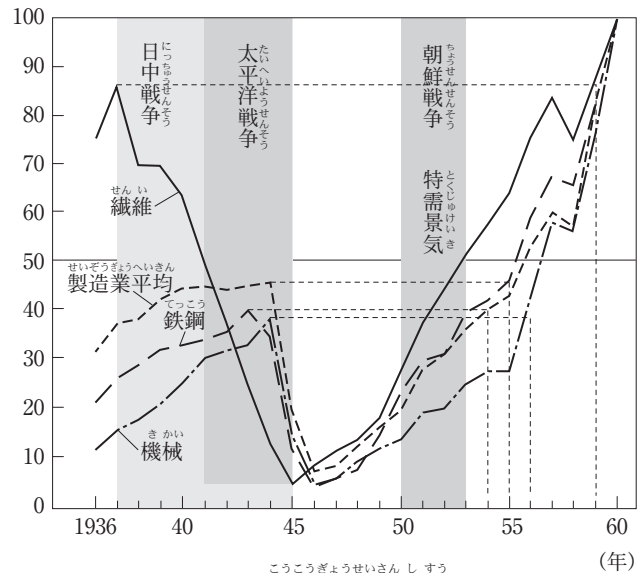
	資料1の「ある時期」	資料2の「ある時期」
ア	Ⅱ	I
イ	Ⅱ	Ⅳ
ウ	Ⅲ	I
エ	Ⅲ	Ⅳ

- (6) 智帆さんは、戦後の日本経済に関する資料1、資料2を手に入れた。会話文中の , にあてはまる語句の組合せとして最も適切なものは、あとのアからエまでのどれか。

資料1 ある工場の様子(岐阜県 1953年7月)



資料2 工業の生産指数



注)1960年=100とする鉱工業生産指数

(明治以降本邦主要経済統計)

会話文

智帆さん：先生、資料1を見ると、日本でアメリカの戦闘機を修理しているようですが、なぜこの時期にこのようなことが行われていたのですか。

先生：当時、 にともない、日本にいたアメリカ軍も国連軍として介入したからです。

智帆さん：この戦争は日本にとってどのような影響があったのですか。

先生：資料2を見てみると、この時期に主要な工業生産が急に変動しています。

智帆さん：どうしてこんな急激な変化が起きたのですか。

先生：それは、 からだよ。


	①	②
ア	朝鮮戦争	国外で起きた戦争により、 日本の経済は一時的に特別な需要が生まれた。
イ	朝鮮戦争	国外で起きた戦争により、 日本の経済は一時的に国内の需要が減少した。
ウ	太平洋戦争	国外で起きた戦争により、 日本の経済は一時的に特別な需要が生まれた。
エ	太平洋戦争	国外で起きた戦争により、 日本の経済は一時的に国内の需要が減少した。

3 次の(1)から(5)までの各問いに答えなさい。答えは、アからエまでの中から一つずつ選んで、解答用紙のらんのその記号を○で囲みなさい。

(1) 次の会話文を読んで、会話文中の X にあてはまる語句として適切なものは、下のアからエまでのどれか。

会話文

あゆみ 歩さん：いわみ 島根県の石見地域を旅行して思い出に残った、銀山の見学と和紙を手すきでつくる体験をイラストにしました。



先生：楽しそうですね。石見の和紙づくりは銀山に劣らず有名で、ユネスコに無形文化遺産として登録されているのですよ。

あゆみ 歩さん：文化遺産に無形という言葉がつくんですね。

先生：形には残らない人間のもつ技術や営みのことを指します。文化遺産となっている神社や寺は、形として残るので有形文化遺産というのですよ。

あゆみ 歩さん：そうなんですか。では、文化遺産を有形と無形に分けるとするならば無形文化遺産となるのですか。 X

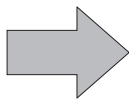
先生：そうです。有形だけでなく無形の文化遺産にも注目し、後世に伝えていきたいものですよね。

- ア 北海道のアイヌ舞踊
- イ 東京都の国立西洋美術館
- ウ 広島県の実験ドーム
- エ 鹿児島県の屋久島の縄文杉

- (2) 昌弘^{まさひろ}さんは、メディアからの情報の受け取り方について、授業の中で学んだことを生かして家族に対するアドバイスを考えた。その内容として適切でないものは、下のアからエまでのどれか。

授業の中で学んだこと

- ・それぞれの新聞やテレビによって、話題の選び方や取り上げ方は異なる。
- ・メディアが伝える情報は、各社の意見が反映されている場合がある。
- ・メディアがまちがった情報を伝えてしまう場合もあった。



私たちにもメディアから発信される情報をさまざまな角度から分析して読み取ることが求められる。



昌弘さんの姉

毎日仕事が忙しいけれど、家に帰って毎晩同じ放送局のニュース番組をテレビで見ているよ。政治のことを理解しておくことは大切だからね。毎日同じ番組をきちんと見ているから、大きなニュースはもちろん理解しているし、政治についての意見ももっているよ。

- ア ニュース番組を見てニュースを知ることは大切だけれど、いろいろな局のニュース番組を見比べることも大事だよ。
- イ ニュース番組を見てニュースを知ることは大切だけれど、新聞や雑誌など他のメディアから情報を得ることも大事だよ。
- ウ 大きな出来事について、ソーシャル・ネットワーキング・サービス(SNS)で似たような内容の個人の投稿だけを見ていくことも大事だよ。
- エ 大きな出来事について、メディアだけでなくいろいろな立場の人と意見を交換していくことも大事だよ。

- (3) 麻由美さんは、授業で学習した刑事裁判について、日本国憲法の条文をみながらノートにまとめた。ノート中の , にあてはまる語句の組合せとして適切なものは、下のアからエまでのどれか。

日本国憲法

第37条

- 1 すべて刑事事件においては、被告人は、公平な裁判所の迅速な公開裁判を受ける権利を有する。
- 2 (略)
- 3 刑事被告人は、いかなる場合にも、資格を有する弁護人を依頼することができる。被告人が自らこれを依頼することができないときは、国でこれを附する。

第38条

- 1 何人も、自己に不利益な供述を強要されない。
- 2 強制、拷問若しくは脅迫による自白又は不当に長く抑留若しくは拘禁された後の自白は、これを証拠とすることができない。
- 3 (略)

ノート

裁判上でもさまざまな人権が守られている。

- 刑事事件では、公開された場所で裁判を受ける権利がある。
- 裁判や取り調べでは、質問されたことにはすべてに 。
- 刑事裁判を被告人として受けることになったとき、例えば、お金がない場合、自分のことを弁護してくれる人を呼ぶことは 。

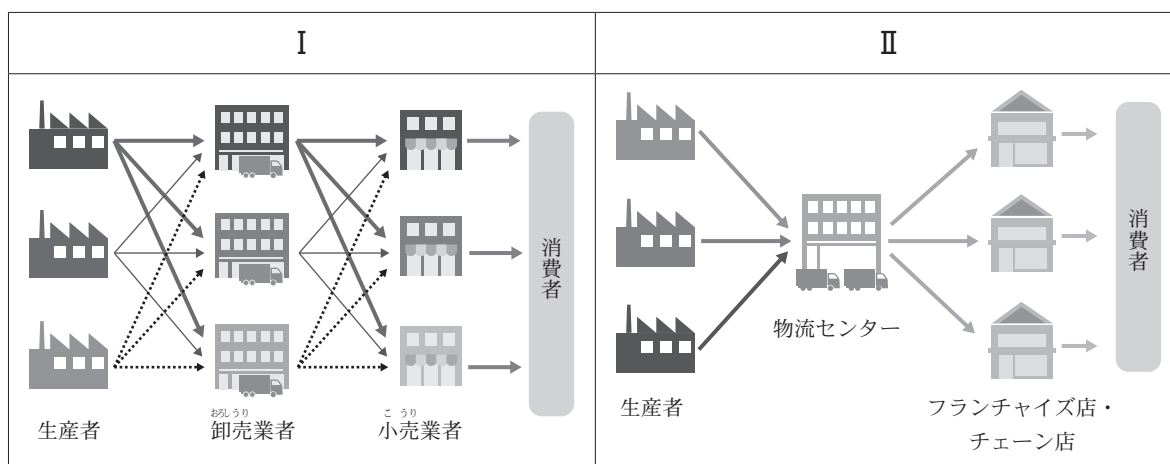
	①	②
ア	答えなければならない	できる
イ	答えなければならない	できない
ウ	答えなくてもよい	できない
エ	答えなくてもよい	できる

- (4) さやかさんはさまざまな商品の流通の仕組みや、役割をワークシートにまとめた。ワークシート中の **X** と **Y** にあてはまる記号の組合せとして適切なものは、あとのアからエまでのどれか。

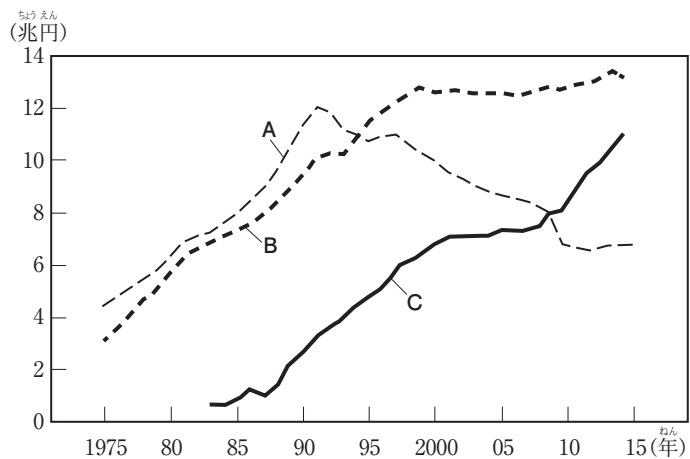
ワークシート

【〇〇中学校 公民的分野ワークシート】 月 日() 校時
<p>商品は、一般的に製造業者や産地から直接購入するのではなく、さまざまな経路や業者を経て私たちの手元に届きます。このことを商品の流通といい、商品の流通を専門に行うことを商業といいます。</p> <p>流通の仕組みが複雑になると、効率を損ねてしまうので、コンビニエンスストア等では資料1中の記号 X のように多くの商品をまとめて仕入れるといった合理化を図っています。</p> <p>また、資料2中のAからCは、大型スーパー、百貨店、コンビニエンスストアいずれかの販売額の推移です。資料2のコンビニエンスストアを表しているグラフは Y です。</p>

資料1 流通の合理化の図



資料 2

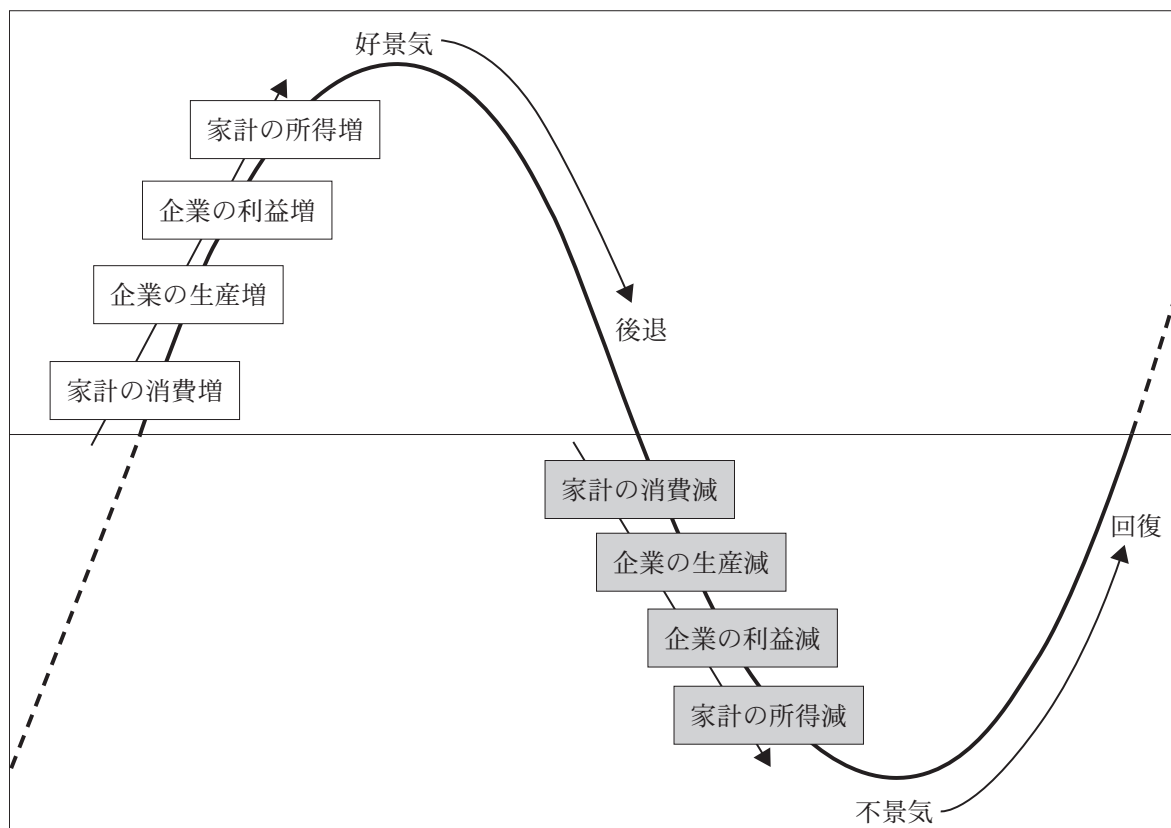


(日本国勢図会 17/18 による)

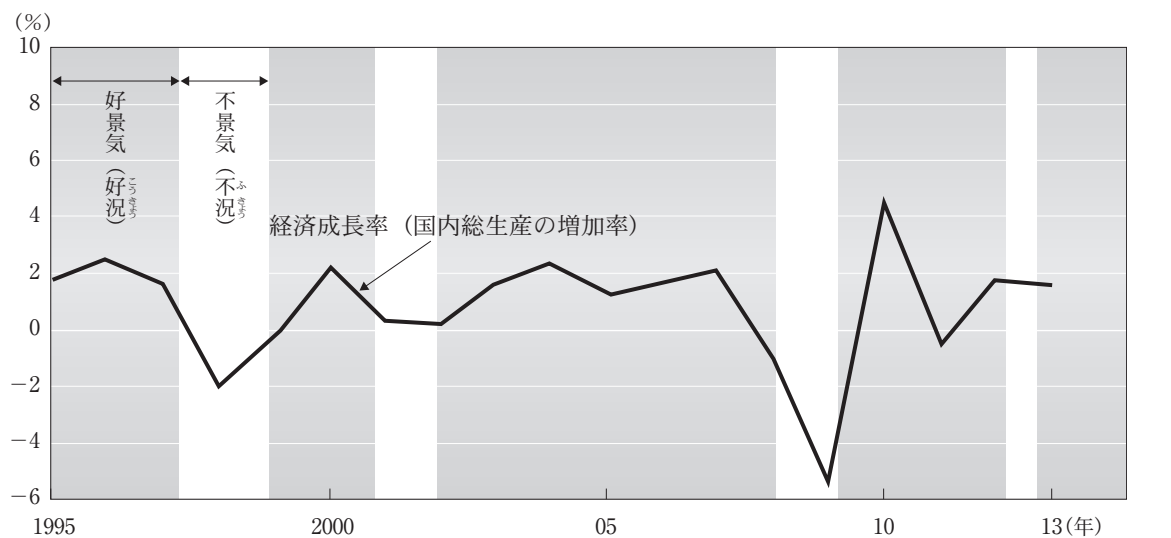
	X	Y
ア	I	A
イ	I	C
ウ	II	A
エ	II	C

- (5) 3年1組のA班は、日本の景気の変動について調べており、次の資料1と資料2を手に入れた。それらの資料を正しく読み取り、好景気と判断される時、最も有効だと思われる日本銀行の金融政策は、あとのアからエまでのどれか。

資料1 景気変動のイメージ図



資料2 日本の経済成長率の推移



(内閣府の資料などにより作成)

ア

日本銀行の金融政策は主に、公開市場操作という方法が用いられており、好景気のときは、一般の銀行が持つ国債などを買い上げて、代金を銀行に支払います。日本では約5～10年の周期で景気の変動が起きているようです。

イ

日本銀行の金融政策は主に、公開市場操作という方法が用いられており、好景気のときは、一般の銀行に国債などを売って、代金を受け取ります。日本では約5～10年の周期で景気の変動が起きているようです。

ウ

日本銀行の金融政策は主に、公開市場操作という方法が用いられており、好景気のときは、一般の銀行が持つ国債などを買い上げて、代金を銀行に支払います。日本では約1年の周期で景気の変動が起きているようです。

エ

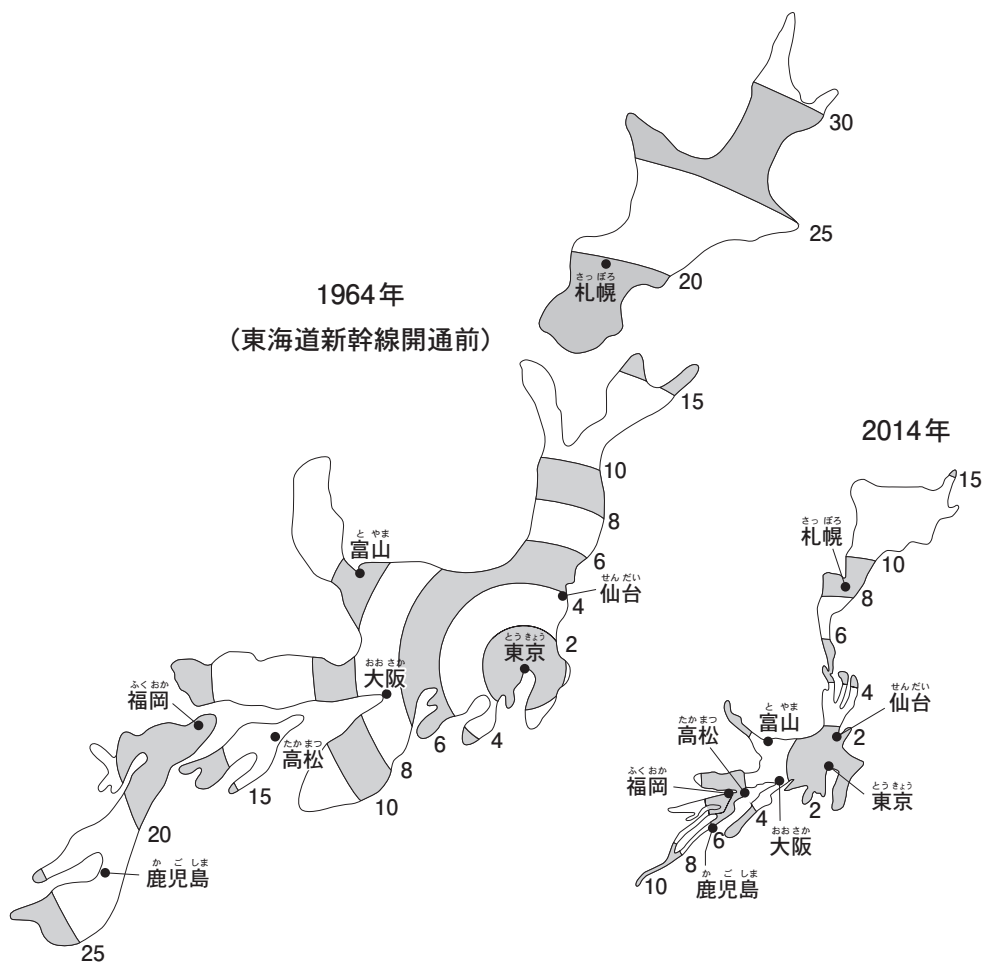
日本銀行の金融政策は主に、公開市場操作という方法が用いられており、好景気のときは、一般の銀行に国債などを売って、代金を受け取ります。日本では約1年の周期で景気の変動が起きているようです。

4

1987年の民営化から30年を経た、旧日本国有鉄道(国鉄、現在のJR各社)に関して、次の(1)から(3)までの各問いに答えなさい。答えは、アからエまでの中から一つずつ選んで、解答用紙のらんのその記号を○で囲みなさい。

- (1) 美裕さんは、近年の鉄道の発達によってどれだけ移動時間が変化したかを示す資料を手に入れた。1964年と2014年での変化について、美裕さんと先生の会話文中にある ① , ② にあてはまる語の組合せとして最も適切なものは、あとのアからエまでのどれか。

資料 東京を中心とした時間距離の変化



注) 数値は鉄道による東京からの移動時間を表している。

(JTB時刻表による)

会話文

先生：国鉄が民営化されてからも，新幹線の整備が進められています。初の新幹線である東海道新幹線が開通する前と，最近の時間距離を比較してみましょう。

美裕さん：時間距離は縮まっています。東京から富山までの時間を比較すると，1964年に対して2014年はおよそ 時間短くなりました。

先生：そうですね。次に東京から札幌と鹿児島への移動にかかるそれぞれの時間の変化を見てみましょう。

美裕さん：札幌と鹿児島では1964年のときには，の方が時間はかかっていましたが，2014年には逆転しています。

先生：鉄道の発達によって変化していくことが分かりますね。

	①	②
ア	6	札幌
イ	6	鹿児島
ウ	9	札幌
エ	9	鹿児島

- (2) のぞみさんは、国鉄の民営化と国有化に興味をもち、調べ、その時の社会の様子をノートにまとめた。ノート中の , にあてはまる文の組合せとして適切なものは、下のアからエまでのどれか。

ノート

鉄道国有化(1906年)	国鉄分割民営化(1987年)
全国的な鉄道網を国がまとめて管理するため、私鉄の国有化を行った。	日本国有鉄道を、6つの地域別に「旅客鉄道会社」と1つの「貨物鉄道会社」に分割し、民営化した。
当時の社会の様子	当時の社会の様子
<input type="text" value="①"/>	<input type="text" value="②"/>

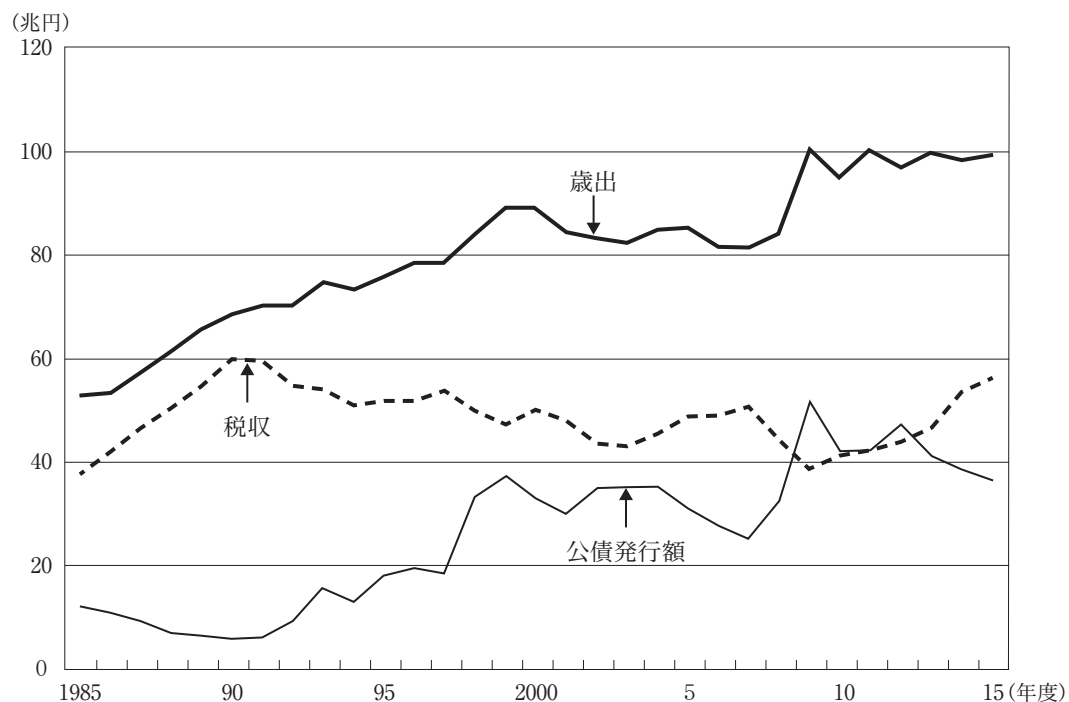
	①	②
ア	軽工業を中心に産業革命をむかえ、製糸業は世界最大の輸出国となった。	土地や株の価格が異常に高くなる好景気となっていた。
イ	軽工業を中心に産業革命をむかえ、製糸業は世界最大の輸出国となった。	急速な経済成長を遂げる一方で、公害に対する裁判も始まった。
ウ	世界恐慌の影響が日本にも及び、倒産企業、失業者が増えた。	急速な経済成長を遂げる一方で、公害に対する裁判も始まった。
エ	世界恐慌の影響が日本にも及び、倒産企業、失業者が増えた。	土地や株の価格が異常に高くなる好景気となっていた。

- (3) まどかさんは、国鉄と同時期に民営化された主な企業を調べ、資料1にまとめた。資料2と資料3をもとに、この時期の財政の様子について読み取ったこととして適切なものは、あとのアからエまでのどれか。

資料1 国鉄と同時期に民営化された主な企業

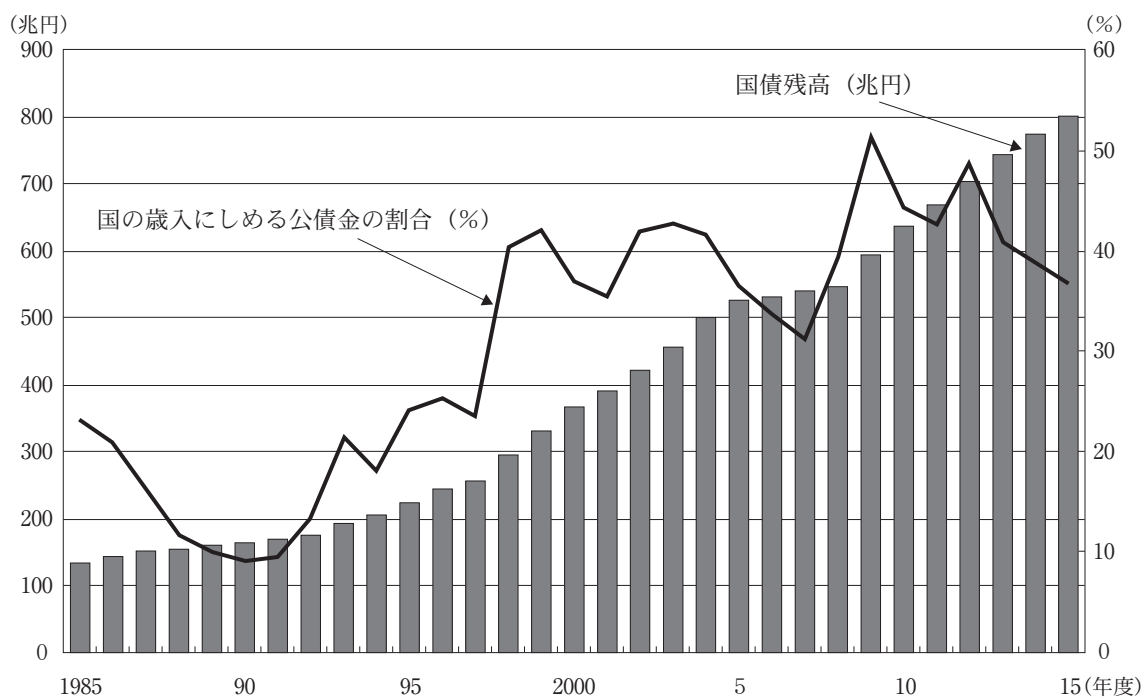
日本電信電話公社→NTTグループ(1984年)
 日本専売公社→日本たばこ産業株式会社(1985年)
 日本航空→完全民営化(1987年)

資料2 日本の税金・歳出・公債発行額の変化



(財務省ホームページにより作成)

資料3 日本の国債残高と歳入に定める国債(公債金)の割合の推移



(財務省ホームページにより作成)

まどかさんが読み取ったこと	
ア	資料2に示された時期の内、1980年代後半の時期は、税収が下降していた時期であり、資料3に見られるように、国の歳入に定める公債金の割合が上がっていた時期である。また、国債残高も近年と比較しても多い。
イ	資料2に示された時期の内、1980年代後半の時期は、税収が下降していた時期であり、資料3に見られるように、国の歳入に定める公債金の割合が下がっていた時期である。また、国債残高も近年と比較し多くない。
ウ	資料2に示された時期の内、1980年代後半の時期は、税収が上昇していた時期であり、資料3に見られるように、国の歳入に定める公債金の割合が下がっていた時期である。また、国債残高も近年と比較し多くない。
エ	資料2に示された時期の内、1980年代後半の時期は、税収が上昇していた時期であり、資料3に見られるように、国の歳入に定める公債金の割合が上がっていた時期である。また、国債残高も近年と比較しても多い。