

# 日 本 史 B

( 解答番号  ~  )

1 時代の大まかなようすを示した次のⅠ～Ⅵのカード(時代順に並べてはいない)について、後にある各問いに答えよ。

Ⅰ おおきみ  
大王とよばれる強大な権力を持つ支配者が出現した。このことは、大規模な前方後円墳が大和・河内を中心に日本各地で築かれていることに示される。

Ⅱ  
都城制に基づいて造られた平城京が営まれ、天皇のもと、皇親勢力や有力貴族そして仏教勢力が、時には政治権力をめぐって対立・抗争を展開した。

Ⅲ  
水稻の栽培が食料生産の中心となり、弥生土器が製作・使用されるようになった。また、青銅器や鉄器も使用されるようになるとともに、小国が分立するようになった。

Ⅳ  
狩猟・漁労・採集を基本とした生活を展開し、縄目文様を特徴とした土器が使われ、また呪術的な用具が作られた。住居や墓地の様子から、貧富差や身分の別がなかったと考えられる。

Ⅴ  
位階の高い貴族を中心に政治が行われ、天皇の外戚という立場を利用した  氏は、他の有力貴族を安和の変などの政争によって斥け、いわゆる  を敷いた。

Ⅵ  
冠位十二階や憲法十七条を定めて天皇中心の中央集権体制の基礎が作られ、また、法興寺や法起寺、法隆寺などの寺院がこんりゅう建立された。

問 1   に当てはまる語句の組合せとして正しいものを、次の①～④のうちから一つ選べ。解答番号は  。

- ① A—蘇 我 B—氏姓制度                      ② A—蘇 我 B—摂関政治  
③ A—藤 原 B—氏姓制度                      ④ A—藤 原 B—摂関政治

問 2 I のカードに関連して、次の資料甲～丙から読み取れないものを、下の①～④のうちから一つ選べ。解答番号は 2 。

B

甲 高句麗王，百済王，倭の五王が中国から任官された將軍号

中国における位階 と將軍号		順 位	東 晋			宋(東晋から皇帝位を譲られた劉裕が建国)							任じた王朝 任じた西暦年	
			413	416	420	421	430	438	443	457	462	463		478
第一品	車騎大將軍	1										△		凡例
第二品	車騎將軍	2												△高句麗王
	征東大將軍	3			△									
	鎮東大將軍	4			□		□			□				□百済王
安東大將軍	5											○武		
第三品	征東將軍	6	△											○倭の五王
	鎮東將軍	7		□										
	安東將軍	8				○讚		○珍	○濟		○興			

乙 450年頃の東アジア



注)◎は都の位置を表している

丙 『宋書』倭国伝(意識してある)より

「済が死んで、跡継ぎの子の興が使者を遣わして貢物を献上してきた。やがて興が死んで、その弟の武が王位に就いた。武は、自ら“使持節都督倭・百済・新羅・任那・加羅・秦韓・慕韓七国諸軍事安東大將軍倭国王”と称した。

順帝の昇明2年(478年)、武は使者を遣わして上表文を奉った。そこで順帝は、武を“使持節都督倭・新羅・任那・加羅・秦韓・慕韓六国諸軍事安東大將軍倭王”に任命した。」

- ① 南朝の宋は、歴代の倭の王に比して、高句麗や百済の王により高い位階・号を授けた。
- ② 倭の首長の地位が、父子・兄弟間など特定の王家に世襲されていたようすがうかがえる。
- ③ 中国を統一した王朝との連合関係を通じて、新羅が初めての朝鮮半島統一を実現した。
- ④ 倭王武は七国諸軍事安東大將軍倭国王と称したが、宋は六国諸軍事安東大將軍倭王に任じた。

問 3 II のカードに関連して、次の表中の下線部分長屋王<sup>(a)</sup>～道鏡<sup>(c)</sup>を示す社会的位置づけの組合せとして正しいものを、下の①～④のうちから一つ選べ。解答番号は 3。

天皇	政治上のできごと・ようす
元正	<u>長屋王</u> が政治の実権を握る。 <sup>(a)</sup> <u>房前・宇合ら</u> が身内の光明子を皇后に立てる。 <sup>(b)</sup> 橘諸兄が政治の実権を握る。
聖武	
孝謙	藤原仲麻呂が政治の実権を握る。
淳仁	<u>道鏡</u> が太政大臣禪師となる。 <sup>(c)</sup>
称徳	

- ① (a)―皇親勢力                      (b)―有力貴族                      (c)―仏教勢力  
 ② (a)―皇親勢力                      (b)―仏教勢力                      (c)―有力貴族  
 ③ (a)―有力貴族                      (b)―仏教勢力                      (c)―皇親勢力  
 ④ (a)―有力貴族                      (b)―皇親勢力                      (c)―仏教勢力

問 4 I～VIの中で、次の資料丁と戊(いずれも意識してある)が述べていることの時期が該当するカードの組合せとして正しいものを、下の①～④のうちから一つ選べ。  
 解答番号は 4。

丁 
 帯方郡より倭に行くには、海岸に沿って航海し……邪馬台国に着く。この国では以前は男王を立てていたが、やがて諸国が共同で一人の女子を王として推戴した。名を卑弥呼<sup>すいまい</sup>という。

戊 
 一にいう。和を大切にし、人といさかいをせぬようにしなさい。  
 二にいう。篤く三宝を敬いなさい。三宝とは、仏と、その教えと、その教えを説く僧侶……。  
 三にいう。天皇の命を受けたならば、必ずそれに従いなさい。

- ① 丁―III    戊―V                      ② 丁―III    戊―VI  
 ③ 丁―IV    戊―V                      ④ 丁―IV    戊―VI

問 5 I～Ⅵの中で、次の資料己が製作された時期のカードとして正しいものを、下の①～④のうちから一つ選べ。解答番号は 。

己



① I

② II

③ IV

④ V

Ⓑ

2 次の表を見て、後にある各問いに答えよ。

東アジアのうごき	政治と貿易
南宋が成立する。	平清盛が大輪田泊を修築する。
モンゴル帝国が建国される。	
元が成立する。	
	幕府が建長寺船を派遣する。
前期倭寇が朝鮮半島沿岸などで活発に活動する。	(a) 後醍醐天皇が建武の新政を行う。……………
	(b) ↑ 甲 ↓
	種子島に鉄砲が伝来する。……………
後期倭寇が活発に活動する。	(d) 豊臣秀吉が海賊取締令を出す。

問 1 下線部分幕府(a)に関する次の資料(意識してある)と会話文を見て、 A  B に適する語句の組合せとして正しいものを、下の①～④のうちから一つ選べ。  
解答番号は  6  。

一、女性が養子を迎えること。  
これについては、律令の趣旨からすれば許されないが、幕府(a)が創設された時代から今日に至るまで、武家社会の変わらぬしきたりとして数えきれないほどある。国内各地で前例も多いし、評議としても、確かなものである。

先生：資料中にある評議とは、この幕府に設けられている評定の決議のことですよ。  
生徒：評定とは、 A  を中心とし、幕府の有力者で構成される  B  の場ですね。

- ① A—執 権    B—独 裁                      ② A—執 権    B—合 議
- ③ A—大 老    B—独 裁                      ④ A—大 老    B—合 議

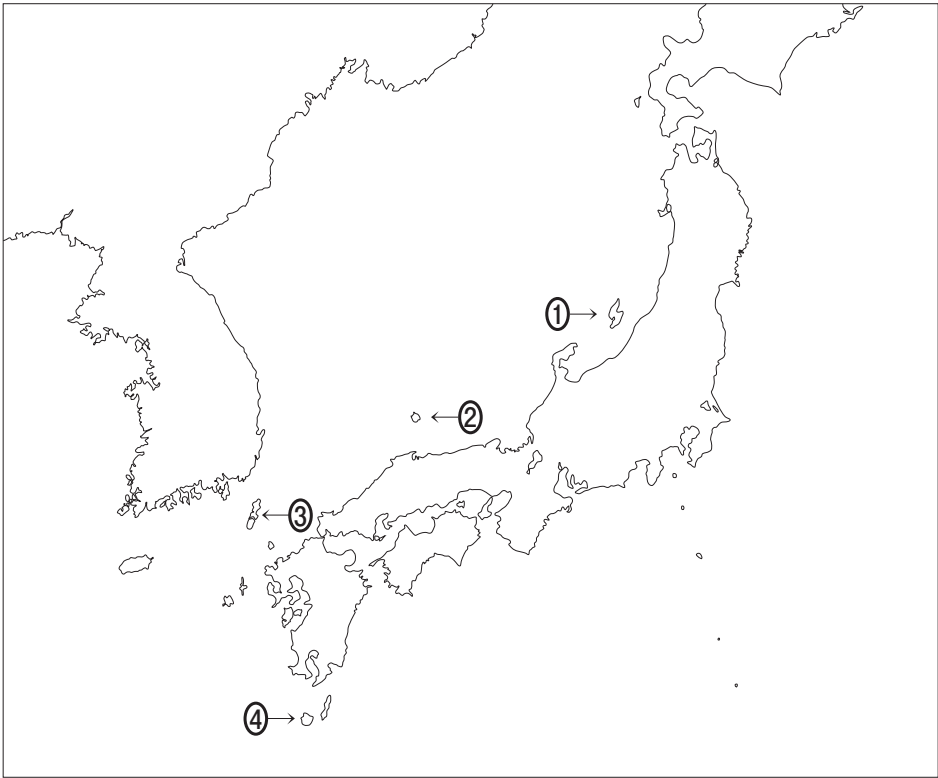
問 2 次の資料を参考にして、下線部分建武の新政のようすとして適切でないものを、下の①～④のうちから一つ選べ。解答番号は  。

保元・平治・治承の時より、武家が政治をほしいままにしていたのだが、元弘3(1333)年の今、天下が一つになった。君のお考えは延喜・天曆の昔に立ち帰って、武家も民衆も安穩に過ごせる政治をすることである。いつしか諸国に国司と守護を定め、公家はそれぞれその官位に就いたことは実にめでたい善政である。……朕ちんの新しく始めたことは未来の先例であると言って、新しい命令が次第に行われた。記録所・雑訴決断所が置かれてはいるが、……また、天下一同の法によって所領を安堵した綸旨を出されたが……。

～『梅松論』(作者不詳)より～

- ① 醍醐・村上天皇の治世を模範とする、朝廷政治の復権を目指した。
- ② 天皇親政を基礎に、先例にとられない政治を行おうとした。
- ③ 建武式目を制定して、幕府再興方針と当面の政治の目標を示した。
- ④ 土地所有権の確認・保証を、天皇が発する綸旨によるものとした。

問 3 下線部分倭寇(c)の活動根拠地と判断して朝鮮が応永年間に襲撃したところとして正しいものを、次の①～④のうちから一つ選べ。解答番号は  。



問 4 下線部分海賊取締令が出された頃の社会的・文化的な様相を示す絵として適切なものを、  
次の①～④のうちから一つ選べ。解答番号は 9。

①




②



③



④



問 5 表中の甲の時期の東アジア・東南アジアの情勢として適切でないものを、次の①～④のうちから一つ選べ。解答番号は 。

- ① 幕府や大名による朱印船貿易が行われ、東南アジアの各地に日本町が形成された。
- ② 海賊の討伐に武功を上げた李成桂(りせいけい)によって、朝鮮王朝が建国された。
- ③ 首里城を拠点とした尚氏が三山を合わせて沖縄島を統一し、琉球王国を建国した。
- ④ 明が、私貿易を禁じ、従属国が明に貢物を進上する形の貿易を積極的に展開した。



3

次の先生と生徒の会話文を読み、後にある各問いに答えよ。

先生：17世紀後半から18世紀初めにかけての日本の文化について説明できますか。

生徒：はい。政治の安定と経済の発展を背景に、元禄期には、**A**を主な担い手とする文化がさかえました。  
(a)

先生：そうですね。君が発言した通り、経済と文化には関連があります。その他の時期についてはどうですか。

生徒：田沼意次が幕政の中心を担った18世紀後半にも、多様な文化が発展しました。  
(b)

先生：18世紀後半の江戸では、図の店舗が有名です。  
(c)

生徒：多くの人で店が賑わっていたようですね。

先生：同じ時期には、**B**語で書かれた医学書を翻訳して『解体新書』が刊行されるなど、学問の発達もみられました。

生徒：幕府直轄領の長崎を通じて、ヨーロッパの文物が多くもたらされましたよね。  
(d)



「<sup>えぞうし</sup>繪草紙店」と記されている。

「紅繪問屋」と記されている。  
※紅繪：浮世絵の彩色技法の一つ。

問 1   に当てはまる語句の組合せとして正しいものを、次の①～④のうちから一つ選べ。解答番号は  。

- ① A—上方の町人 B—オランダ                      ② A—上方の町人 B—ポルトガル  
③ A—江戸の武士 B—オランダ                      ④ A—江戸の武士 B—ポルトガル

問 2 下線部分政治の安定につながる次のできごとについて、年代の古い順に正しく並べたものを、下の①～④のうちから一つ選べ。解答番号は  。

- ア 島原・天草地方で蜂起した百姓たちが、老中率いる幕府軍に鎮圧された。  
イ 大坂城を拠点とする豊臣氏が、徳川氏に滅ぼされた。  
ウ 織田氏の勢力が、石山本願寺から一向一揆勢を退去させた。

- ① イ→ア→ウ                      ② イ→ウ→ア                      ③ ウ→ア→イ                      ④ ウ→イ→ア

B

問 3 下線部分田沼意次が幕政を主導した時期には、次の写真に示す銀貨が鑄造された。この銀貨が鑄造された背景および影響について、下の説明文の   に当てはまる語句の組合せとして正しいものを、下の①～④のうちから一つ選べ。  
 解答番号は  。

「8片をもって小判1両に引き換える」ことが示されている。



説明文

江戸時代の銀貨は、 など、金貨との相違点があった。写真の貨幣が鑄造されたことで、 ，流通が活発になった。

- ① C—枚数ではなく重さを量って用いられる  
 D—従来、銀貨が用いられた西日本と金貨が用いられた東日本のあいだで
- ② C—枚数ではなく重さを量って用いられる  
 D—従来、金貨が用いられた西日本と銀貨が用いられた東日本のあいだで
- ③ C—重さではなく枚数を数えて用いられる  
 D—従来、銀貨が用いられた西日本と金貨が用いられた東日本のあいだで
- ④ C—重さではなく枚数を数えて用いられる  
 D—従来、金貨が用いられた西日本と銀貨が用いられた東日本のあいだで

問 4 下線部分図の店舗について、図から読み取れる内容の正誤の組合せとして正しいものを、下の①～④のうちから一つ選べ。解答番号は  。

- あ この店舗では、絵画は扱われていなかった。
- い この店舗で扱われた小説は、絵入りのものであった。

- ① あ—正    い—正                      ② あ—正    い—誤
- ③ あ—誤    い—正                      ④ あ—誤    い—誤

問 5 下線部分<sup>(d)</sup>長崎について述べた文として正しいものを、次の①～④のうちから一つ選べ。

解答番号は  。

- ① 全国から集まる品物を取り扱うため、二十四組問屋が結成された。
- ② 清から来航した貿易船との取引が行われ、幕府は銅や俵物を輸出した。
- ③ 五街道の起点となる地であり、多くの大名屋敷(藩邸)が設けられた。
- ④ 御所(天皇の邸宅)や大寺社が存在し、絹織物や陶磁器の生産が発達した。

B

4 次の先生と生徒の会話文を読み、後にある各問いに答えよ。

先生：倒幕<sup>(a)</sup>を成し遂げた明治政府は、幾度かの政変を経験しています。1873年には、西郷隆盛が政府から離れてしまいました。彼はどのような政策を主張しましたか。

生徒：はい。西郷らは、べきだと主張していました。しかし、国内制度の整備を優先すべきだという意見が採用されたことで、西郷らは政府を離れました。その後、1877年には、政府に対する武力反乱である西南戦争<sup>(b)</sup>が occurred。

先生：西南戦争を鎮圧した後の政府は、一致団結して政治に臨めたのでしょうか。

生徒：いいえ。1881年、政府では再び内部対立が occurred。ことについて、政府に対する世論が厳しくなる中で、伊藤博文を中心とする一派は、大隈重信<sup>(c)</sup>を政府から追放し、憲法の制定などの準備を進めていきます。

先生：伊藤は、ウィーン大学のシュタインらに師事しました。ヨーロッパで学んだ経験が、近代国家の運営<sup>(d)</sup>にいかされているのですね。

問 1   に当てはまる語句の組合せとして正しいものを、次の①～④のうちから一つ選べ。解答番号は 。

- ① A—朝鮮を武力で開国させ国交を樹立する  
B—開拓使の官有物を不当に安く払い下げた
- ② A—朝鮮を武力で開国させ国交を樹立する  
B—天皇の側近を務めた人物が内閣総理大臣に就任した
- ③ A—公使館を防衛するために北京に出兵する  
B—開拓使の官有物を不当に安く払い下げた
- ④ A—公使館を防衛するために北京に出兵する  
B—天皇の側近を務めた人物が内閣総理大臣に就任した

問 2 下線部分倒幕<sup>(a)</sup>に関連して、戊辰戦争が終わるまでの会津藩に関して述べた次のできごとについて、年代の古い順に正しく並べたものを、下の①～④のうちから一つ選べ。

解答番号は 。

- ア 藩主の松平容保が、幕府から京都守護職に任命された。
- イ 奥羽越列藩同盟の中心とみられた会津若松城が、攻め落とされた。
- ウ 公武合体派の公家や薩摩藩と連携し、長州藩などの尊攘派を京から追放した。

- ① ア→イ→ウ      ② ア→ウ→イ      ③ ウ→ア→イ      ④ ウ→イ→ア

問 3 下線部分西南戦争の影響について述べた次の文の空欄   に  
(b)  
当てはまる語句の組合せとして正しいものを、下の①～④のうちから一つ選べ。

解答番号は  。

西南戦争を鎮圧するにあたって、政府は戦費を調達するために不換紙幣(金と交換できない紙幣)を増発した。このことなどが原因となって  がおこり、政府の収入は実質的に減少した。そこで政府は紙幣の整理に取り組みようになり、1881年に大蔵卿に就任した松方正義は、 。

- ① C—インフレーション  
D—各地の銀行に、預金の払い戻しを一時停止するよう命じた
- ② C—インフレーション  
D—唯一の発券銀行として日本銀行を設立した
- ③ C—デフレーション  
D—各地の銀行に、預金の払い戻しを一時停止するよう命じた
- ④ C—デフレーション  
D—唯一の発券銀行として日本銀行を設立した

問 4 下線部分大隈重信が政府から離れた後に結成した政党の名称とその説明の組合せとして正しいものを、下の①～④のうちから一つ選べ。解答番号は  。

名 称    ア 自由党  
          イ 立憲改進黨  
説 明    ウ フランス流の自由主義を目標に掲げた政党。  
          エ イギリス流の議会政治の実現を目標に掲げた政党。

- ① アーウ                      ② アーエ                      ③ イーウ                      ④ イーエ

問 5 下線部分近代国家の運営に関する表1・表2から読み取れることについて述べた文の組合せとして最も適切なものを、下の①～④のうちから一つ選べ。解答番号は 20。

表1 高等文官試験(行政科)合格者数  
(1894年～1947年の総数)

	大 学 名	合 計
1	東京帝国大学	5,969
2	京都帝国大学	795
3	中央大学	444
4	日本大学	306
5	東京商科大学	211
6	東北帝国大学	188
7	早稲田大学	182
8	逓信官吏練習所	173
9	明治大学	144
10	九州帝国大学	137
11	京城帝国大学	85
12	東京文理科大学	56
12	鉄道省教習所	56
14	法政大学	49
15	関西大学	48

表2 主な法典の編纂と外交に関する年表

年	できごと
1880	刑法が公布された。
1886	領事裁判権の撤廃を求める，欧米列強との交渉が始まった。
1887	欧米列強は，欧米同様の法典を編纂することを日本に求めた。
1889	大日本帝国憲法が公布された。
1890	民法・商法が公布された。
1894	日英通商航海条約が調印された。

- ア 日本政府は、植民地には帝国大学を設置しなかった。  
 イ 試験の合格者の総数をみると、帝国大学の出身者が他の教育機関の出身者よりも多い。  
 ウ 日本は、不平等条約を改正する目的もあって、さまざまな法典を編纂した。  
 エ 日本では、最高法規である憲法が、他のすべての法に先行して公布された。

- ① アーウ                      ② アーエ                      ③ イーウ                      ④ イーエ





5 次のⅠ・Ⅱに関して、後にある各問いに答えよ。

I

次の新聞報道の見出しの一部は **A** 後に開かれたある国際会議に関連するものである。会議の場を借りて **A** 中に接収した中国の **B** 省の旧ドイツ権益の返還が決まるなど、この国際会議を通してさまざまな取り決めがなされ、アジア・太平洋地域の新しい国際秩序が<sup>(a)</sup>つくられた。

更新を打切つて  
**日英同盟廃棄**  
(廃)

**B**  
白支間の直接交渉で  
**問題近く解決**  
日本は二十一箇條の修正に同意  
(カ)条

**英米の廢艦處分**  
(英)主力艦十九隻の廢棄  
(米)廢棄すべき戦艦除籍  
注目さる、佛伊の態度  
(仏)

問 1 **A** に当てはまる語句と **B** 省の位置の組合せとして正しいものを、下の①～④のうちから一つ選べ。解答番号は **21**。



- |   |           |     |   |           |     |
|---|-----------|-----|---|-----------|-----|
| ① | A—第一次世界大戦 | B—あ | ② | A—第一次世界大戦 | B—い |
| ③ | A—日清戦争    | B—あ | ④ | A—日清戦争    | B—い |

問 2 下線部分<sup>(a)</sup>さまざまな取り決めとして適切でないものを、次の①～④のうちから一つ選べ。

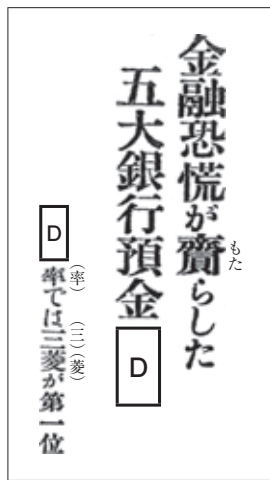
解答番号は  。

- ① 5カ国で主力艦の保有量の制限と10年間の建造禁止が定められた。
- ② 4カ国で太平洋諸島における勢力の現状維持が定められた。
- ③ 3カ国で第三国からの攻撃に対する相互援助が定められた。
- ④ 9カ国で中国の領土の保全と主権の尊重などが定められた。

B

II

次の新聞報道の見出しの一部は  内閣の時期のものである。報道によると、三菱などの財閥系の銀行への預金が  した。  
<sup>(b)</sup>



問 3   に当てはまる語句の組合せとして正しいものを、次の①

～④のうちから一つ選べ。解答番号は  。

- ① C—田中義一 D—増加                      ② C—田中義一 D—減少
- ③ C—黒田清隆 D—増加                      ④ C—黒田清隆 D—減少

問 4 下線部分財閥に関連する文として適切でないものを、次の①～④のうちから一つ選べ。

解答番号は  。

- ① 岩崎弥太郎が創立した三菱は、明治政府から特権を与えられた政商から発展した。
- ② 三井、三菱、住友、安田の各銀行と第一銀行が、いわゆる五大銀行とよばれた。
- ③ 持株会社が多数の企業を傘下におく形態は、第二次世界大戦後の占領政策によって解体された。
- ④ 八幡製鉄所は、中国の鉄鉱石と国産の石炭を使用して操業を行った。

問 5 II の報道までのできごとについて年代の古い順に正しく並べたものを、下の①～④のうちから一つ選べ。解答番号は 25 。

- ア 地租増徴案に反対する政党どうしの合同によって日本最初の政党内閣が成立したが、内部対立により早期に退陣した。
- イ 米騒動の後に成立した政党内閣が、大学令を發布したほか、選挙権の納税資格を改正して小選挙区制を導入した。
- ウ 護憲運動の後に成立した内閣が、文官任用令や軍部大臣現役武官制を改正するなど、政党の勢力拡大につとめた。

- ① ア→イ→ウ      ② ア→ウ→イ      ③ イ→ア→ウ      ④ イ→ウ→ア



6

地域と戦争についてある生徒が作成した次のレポートを読んで、後にある各問いに答えよ。

### レポート



この写真は、1931年に建設された上田飛行場の跡地に建てられた碑である。上田飛行場は、政府から借り入れた低利資金を費用として使い、長野県上田市中之条の荒無地に建設された。<sup>(a)</sup> その2年後には陸軍に収められたが、日中戦争が始まると、陸軍が近隣の土地を買収し、飛行場の規模を拡大した。<sup>(b)</sup>

1940年には、当初の4万坪から実に17万坪の広さとなった。その後、上田飛行場は特攻隊員の養成基地となる。特攻隊員とともに、鹿児島県の知覧にむかった上田飛行場の整備員が次のように証言している。「飛行訓練で使用する航空機の燃料はアルコールを混ぜて使っていた。<sup>(c)</sup> 知覧に着くと、つぎの日はいよいよ沖繩へ出撃だと話をしていた特攻隊員から、母親と姉へあてた手紙と遺品を<sup>(d)</sup>あずかって届けてくれるようにとの依頼をうけた。」

戦争が終わると、上田に進駐した米軍の許可を得て、戦後の食糧不足を解消するために飛行場は開墾地として利用されるようになった。<sup>(e)</sup>

『上田市民の暮らしと戦争 上田市誌 近現代編(7)』より作成

問 1 下線部分<sup>(a)</sup>政府から借り入れた事情に関連する次の資料(意識してある)を読み、上田飛行場が建設された目的として考えられることを、下の①～④のうちから一つ選べ。

解答番号は 26。

不況対策についてはさきの議決の趣旨により、養蚕業救済として乾繭補助等の施設により鋭意努力しておりますが、更に政府に於いては、最近農山漁村の失業救済資金として七千万円の低利資金を融通することとなり、その供給をうけ不況の打開をはかりたいと考えております。  
【長野県史】近代史料編二卷(一)より作成

- ① 昭和恐慌の影響下で、失業した人々の働き口を確保するため。
- ② 第一次世界大戦後の戦後恐慌で、綿糸・生糸の値が下がったため。
- ③ 本土空襲が激しくなり、敵の航空機を撃墜するため。
- ④ バブル経済が崩壊し、株価や地価が暴落したため。

問 2 下線部分<sup>(b)</sup>飛行場の規模を拡大した時期に制定された法令とできごとの組合せとして正しいものを、次の①～④のうちから一つ選べ。解答番号は 27。

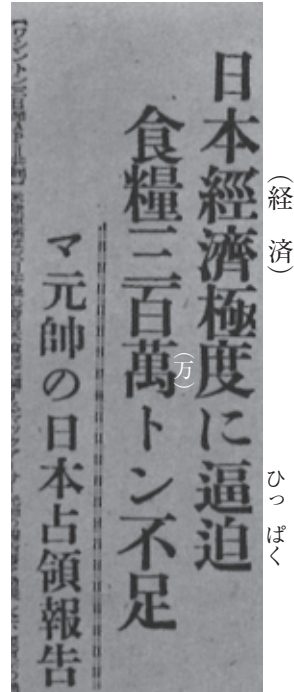
- ① 国家総動員法—山東出兵
- ② 国家総動員法—ノモンハン事件
- ③ 治安警察法—山東出兵
- ④ 治安警察法—ノモンハン事件

問 3 下線部分航空機の燃料はアルコールを混ぜて使っていたことに関連する資料として最も適切なものを、次の①～④のうちから一つ選べ。解答番号は 28。

①



②



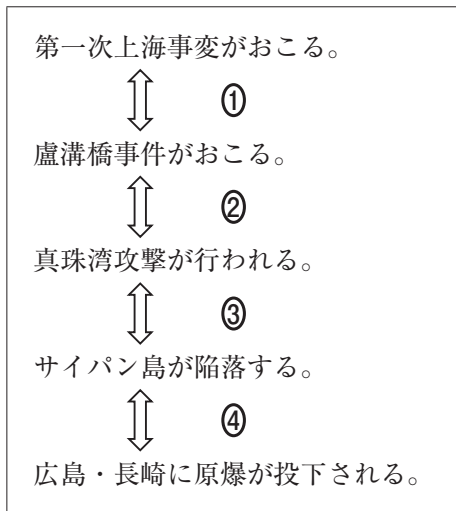
③



④



問 4 下線部分<sup>(d)</sup>沖繩に関連して、沖縄戦が行われた時期として最も適切なものを、次の①～④のうちから一つ選べ。解答番号は  。



Ⓑ

問 5 下線部分<sup>(e)</sup>戦後の食糧不足について述べた文の正誤の組合せとして正しいものを、下の①～④のうちから一つ選べ。解答番号は  。

あ 農業基本法が制定され、食糧需要の調整と農業所得の安定化が目指された。

い 各地の焼け跡などに闇市が開かれ、農村への買い出しが行われた。

① あ—正    い—正

② あ—正    い—誤

③ あ—誤    い—正

④ あ—誤    い—誤



