

## 平成27年度 世界史A・世界史B (50分)

## 注 意 事 項

- 1 試験開始の合図があるまで、この問題冊子の中を見てはいけない。
- 2 出題科目、ページ及び選択方法は、下表のとおりである。

出題科目	ページ	選 択 方 法
世界史A	1～25	左の2科目のうちから1科目を選択し、解答しなさい。
世界史B	27～50	

- 3 試験中に問題冊子の印刷不鮮明、ページの落丁・乱丁及び汚れ等に気付いた場合は、手を挙げて監督者に知らせること。
- 4 試験開始の合図前に、監督者の指示に従って、解答用紙の該当欄に以下の内容をそれぞれ正しく記入し、マークすること。

## ・①氏名欄

氏名を記入すること。

## ・②受験番号、③生年月日、④受験地欄

受験番号、生年月日を記入し、さらにマーク欄に受験番号(数字)、生年月日(年号・数字)、受験地をマークすること。

## ・⑤解答科目欄

解答する科目名を○で囲み、さらにその下のマーク欄にマークすること。

- 5 受験番号、生年月日、受験地が正しくマークされていない場合は、採点できないことがある。
- 6 解答科目が正しくマークされていない場合は採点できないので、必ず正しくマークすること。
- 7 解答は、解答用紙の解答欄にマークすること。例えば、

10
----

と表示のある解答番号に対して②と解答する場合は、次の(例)のように解答番号10の解答欄の②にマークすること。

(例)

解答番号	解 答 欄			
10	①	②	③	④

- 8 問題冊子の余白等は適宜利用してよいが、どのページも切り離してはいけない。
- 9 試験終了後、問題冊子は持ち帰ってよい。

# 世界史 A

(解答番号  ~ )

**1** 次の文章と図版に関連して、問1～問2に答えよ。

次の会話は、修学旅行で長崎を訪れることになった学校の先生と生徒の間で交わされたものである。

先生 「出島を見学した後は、自由行動です。行きたいところについて、調べてみましょう。」

生徒 「出島は知っていますが、この唐人屋敷というのは知りません。いつの時代のものなのでしょうか。」

先生 「出島と同じころのもので、当時の中国から来た商人や船員が居留したところですが、つくられたのは出島より50年ほど遅いです。」

<sup>(a)</sup> 生徒 「長崎に来ていた外国人は、オランダ人だけかと思っていました。」

先生 「そんなことはありません。手続きさえふめば、中国からも貿易に來航することができました。<sup>(b)</sup> オランダ船は年に2隻から数隻程度ですが、唐船とよばれた中国船は、多いときで100隻を超えるほど来ていたのですよ。」

生徒 「そんなに来ていたとは、びっくりしました。日本の何をほしがったのでしょうか。」

先生 「いろいろありますが、目立ったのはナマコやアワビ、フカヒレといった海産物ですね。」

生徒 「中華料理の高級食材が、日本に支えられていたのですか。当時から食はグローバルだったのですね。」



長崎の唐人屋敷(石崎融思『唐館図絵巻』)

問 1 下線部分<sup>(a)</sup>つくられたのは出島より 50 年ほど遅いとあるが、出島が完成したのは 1636 年で、1641 年にオランダ人が入居している。唐人屋敷がつくられた当時の世界のように述べて文として適切なものを、次の①～④のうちから一つ選べ。解答番号は 。

- ① 金と南宋が対立していた。
- ② マラッカ王国が、海上貿易で栄えた。
- ③ フランスで、ルイ 14 世が統治していた。
- ④ アフガーニーが、イスラームの改革を唱えた。

問 2 下線部分<sup>(b)</sup>中国からも貿易に来航することができたと述べられているように、当時の長崎には、中国船(唐船)がさかんに来航して貿易を行っていた。この貿易で用いられた船舶を描いた図として最も適切なものを、次の①～④のうちから一つ選べ。解答番号は 。



2 次の文章と図版に関連して、問1～問4に答えよ。

先生と生徒が図1と図2を見ながら会話している。

先生 「これらはエジプトで発見されたもので、図1は紀元前1000年ころに書かれたとされる〈死者の書〉<sup>(a)</sup>というものです。ナイル川流域で栄えた古代エジプトでは、人間は亡くなると次の世界(冥界)に行くものとされてい<sup>(b)</sup>ました。この図1を見て、何か疑問に思うことはありませんか。」

生徒 「図1の上部に記号のようなものが書かれていますが、これは何ですか。」

先生 「よく見ていますね。これらは象形文字の一種とされる **A** というものです。」

生徒 「この文字は読むことはできるのですか。」

先生 「はい、ほとんどの文字が読めます。図2を見てください。フランスの学者シャンポリオンが、この石に書かれていた **A** <sup>(c)</sup> を19世紀に解読しました。そして、現在でも研究が進められています。」



図1



図2

問1 下線部分エジプトの古代文明<sup>(a)</sup>について述べた文として適切なものを、次の①～④のうちから一つ選べ。解答番号は **3** 。

- ① カルタゴなどの植民市が建設された。
- ② ハンムラビ王が法典を制定した。
- ③ ガウタマ=シッダールタが仏教を創始した。
- ④ ファラオとよばれる王が神権政治を行った。

問 2 下線部分ナイル川流域で栄えた古代エジプトについて、ナイル川の位置と古代エジプトで  
 (b)  
 用いられた暦との組合せとして正しいものを、下の①～④のうちから一つ選べ。

解答番号は 4 。



	川の位置	暦
①	あ	太陽暦
②	あ	革命暦(共和暦)
③	い	太陽暦
④	い	革命暦(共和暦)

問 3  に当てはまる語句を，次の①～④のうちから一つ選べ。解答番号は  。

- ① キリル文字
- ② ヒエログリフ(神聖文字)
- ③ 楔形文字
- ④ フェニキア文字

問 4 下線部分フランスの15世紀のようすについて述べた文として適切なものを，次の①～④のうちから一つ選べ。解答番号は  。

- ① 百年戦争に勝利した。
- ② アリストテレスが活躍した。
- ③ ゲルマン人の大移動が始まった。
- ④ 第1回十字軍が行われた。



3 1～2の文章と図版に関連して、問1～問5に答えよ。

1 16世紀は銀の流通が増大したが、その中心はアメリカ大陸産と日本産の銀であった。1545年にアンデス山中で発見されたポトシ銀山は、世界各地に大量の銀をもたらした。一方、日本銀については、イエズス会士ジョアン＝ロドリゲスの『日本教会史』に、以下のような記述がある。

日本の国土には多くの鉱山があって、あらゆる種類の金属を産出する。…主要なものは全土にある銀山であって、中国地方の **A**，北の海にある佐渡島，その他多くの地にある金山かなやまというのがそれである。…今日では…銀の用途は王国全土にわたり はなは甚だ大きい。

日本銀もアメリカ銀も、世界最大の商品生産地だった中国へと流れ込んだ。ポトシ銀山と **A** 銀山は、現在では世界遺産になっている。 **A** 銀山は、山を崩したり、森林を伐採せず、狭い坑道を掘り進んで採掘するという方法が、21世紀が必要としている環境への配慮とみなされたことなどにより、2007年に世界遺産に登録された。



現在のポトシ銀山



上空から見た現在の **A** 銀山



問 1 下線部分<sup>(a)</sup>アメリカ大陸の 15 世紀のようすについて述べた文として適切なものを、次の①～④のうちから一つ選べ。解答番号は 7。

- ① インカ帝国が栄えていた。
- ② キング牧師による公民権運動が行われた。
- ③ アレクサンドロス大王の東方遠征が行われた。
- ④ ビザンツ帝国が滅ぼされた。

問 2 A に当てはまる語句と、下線部分<sup>(b)</sup>中国へと流れ込んだ銀と関わりの深い新しい税制との組合せとして正しいものを、次の①～④のうちから一つ選べ。解答番号は 8。

	A	新しい税制
①	長 崎	一条鞭法
②	長 崎	両税法
③	石 見	一条鞭法
④	石 見	両税法

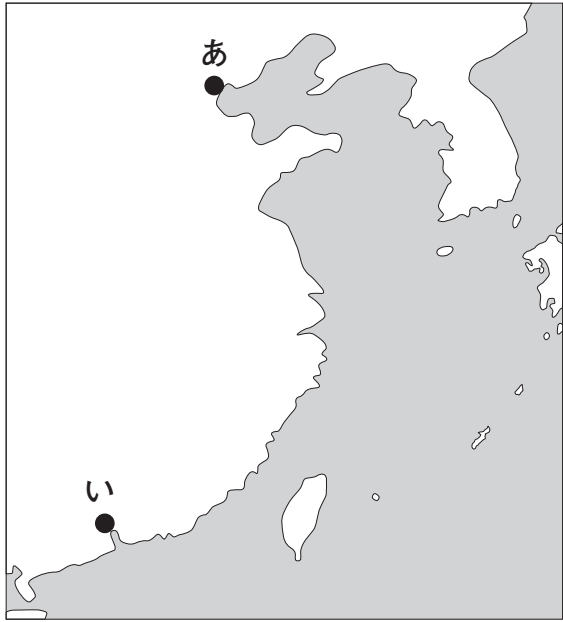
2 次のグラフは、1450年から1750年までのヨーロッパの3つの都市における小麦価格(小麦100リットル当たりの銀の重量)<sup>(c)</sup>の変化を示す。aの折れ線は南ヨーロッパの都市、bの折れ線は西ヨーロッパの都市、cの折れ線は東ヨーロッパの都市での変化を表わす。



グラフ

※ cのグラフの1520年以前はデータ不明

問 3 下線部分 1750 年 ころ、中国では対ヨーロッパ貿易を広州 1 港に制限した。広州の略地図中のおよその位置と、その時の中国の皇帝の組合せとして正しいものを、下の①～④のうちから一つ選べ。解答番号は 9。



	位 置	皇 帝
①	あ	煬 帝
②	あ	乾隆帝
③	い	煬 帝
④	い	乾隆帝

問 4 グラフによると、1550 年から 1590 年にかけてどの都市でも小麦価格が上昇傾向にある。この小麦を含めた急激な物価の上昇現象を何というか。次の①～④のうちから一つ選べ。解答番号は 10。

- ① 大躍進運動
- ② 価格革命
- ③ 世界恐慌
- ④ 外交革命

問 5 グラフの小麦価格の変化について、1600年と1650年を比較して読み取れることと、その期間におこっていた経済上の現象として考えられることの組合せとして正しいものを、次の①～④のうちから一つ選べ。解答番号は 11。

	読み取れること	経済上の現象
①	小麦価格は東ヨーロッパが西ヨーロッパを上回るようになった。	貿易の主要ルートが地中海から大西洋沿岸に移っていた。
②	小麦価格は東ヨーロッパが西ヨーロッパを上回るようになった。	石油・電力を動力源として重化学工業が発展していた。
③	小麦価格は西ヨーロッパが南ヨーロッパを上回るようになった。	貿易の主要ルートが地中海から大西洋沿岸に移っていた。
④	小麦価格は西ヨーロッパが南ヨーロッパを上回るようになった。	石油・電力を動力源として重化学工業が発展していた。



4 1～2の文章と図版に関連して、問1～問6に答えよ。

1 19世紀におこったできごとについて、高校生の葉月さんは図1の図版、夏樹さんは図2の図版について簡単なレポートを作成した。



図1



図2

#### 葉月さんのレポート

図1は「ゲルマニア」という女神を描いたもので、1848年にドイツで開かれた **A** でかかげられたものです。19世紀のヨーロッパでは自由主義とナショナリズムが高まっていた。 **A** はドイツの国家統一と憲法制定を目的に行われましたが、ドイツの統一ははたせませんでした。

#### 夏樹さんのレポート

図2は玉璽ぎよくじとよばれる皇帝や国王いんの印です。1851～64年に中国でおこった **B** で、印の中にある「天王」と称した洪秀全が使ったとされています。その反乱軍は、キリスト教にもとづく平等主義をうたう一方、清の支配に対する民族主義的なスローガン(a)もかかげました。江南に大きな勢力をきずきましたが、平定(a)されました。

問1 **A** に当てはまる語句を、次の①～④のうちから一つ選べ。解答番号は **12** 。

- ① トリエント公会議
- ② フランクフルト国民議会
- ③ 三部会
- ④ ウィーン会議

問 2 B に当てはまるできごとと、下線部分<sup>(a)</sup>民族主義的なスローガンの組合せとして正しいものを、次の①～④のうちから一つ選べ。解答番号は 13 。

	できごと	スローガン
①	太平天国の乱	扶清滅洋
②	マフディーの乱	滅満興漢
③	マフディーの乱	扶清滅洋
④	太平天国の乱	滅満興漢

2 次の資料1と資料2は、インドとアメリカ合衆国の歴史上の人物を簡単に紹介したものである。

### 資料1

右図は「インドのジャンヌ＝ダルク」ともよばれる、ラクシュミー＝バーイーの銅像です。彼女はインドの藩王国ジャンシーの王妃でしたが、イギリスによってジャンシーは取りつぶされました。1857年、インド人傭兵(シパーヒー)の蜂起などから、多くのインドの藩王国や民衆がイギリスへの反乱に立ち上がりました。彼女は民衆の先頭に立って、ライフルを手にイギリス軍と戦ったと伝えられています。1858年、激しい戦闘の中で銃弾に倒れ、戦死しています。



### 資料2



左図は、「ストーンウォール(石の壁)」の通称で知られる名将トーマス＝ジャクソンの銅像です。1861年、アメリカ合衆国南部の諸州はアメリカ連合国を成立させました。合衆国はこれを認めず、戦争が始まりました。彼はこの戦争で連合国側の指揮官として活躍しました。その戦いぶりから、「ストーンウォール」とよばれるようになりました。1863年、味方の誤射によって重傷を負って亡くなりました。

問3 資料1の中の1857年から始まったできごとを、次の①～④のうちから一つ選べ。

解答番号は  。

- ① インド大反乱
- ② クリミア戦争
- ③ アロー戦争
- ④ スパルタクスの乱



問 4 資料 2 中の戦争と、1863 年にアメリカ合衆国大統領が出した宣言との組合せとして正しいものを、次の①～④のうちから一つ選べ。解答番号は 15。

	戦 争	宣 言
①	南北戦争	門戸開放宣言
②	フレンチ＝インディアン戦争	門戸開放宣言
③	南北戦争	奴隷解放宣言
④	フレンチ＝インディアン戦争	奴隷解放宣言

問 5 下線部分<sup>(b)</sup>インドと下線部分<sup>(c)</sup>アメリカ合衆国南部の共通の商品作物について、次の説明に当てはまるものを、下の①～④のうちから一つ選べ。解答番号は 16。

この作物は、インドの伝統的手工業の原料であった。その後、イギリスで産業革命がおこると、イギリスの主要な工業の原料となり、アメリカ大陸などでも栽培された。


- |        |         |
|--------|---------|
| ① カカオ  | ② さとうきび |
| ③ コーヒー | ④ 綿 花   |

問 6 資料 1 と資料 2 中のできごとがおこった、19 世紀の東アジアのようすについて述べた文として適切なものを、次の①～④のうちから一つ選べ。解答番号は 17。

- ① 白村江の戦いがおこった。
- ② ペリーが日本に開国を要求した。
- ③ 鄭成功が台湾を占拠した。
- ④ 李成桂が朝鮮(李朝)を建てた。

5 1～2の文章と図版に関連して、問1～問7に答えよ。

1 次の図版は1905年に勃発した国際事件の風刺画である。イギリスやロシアがようすをうかがうなか、<sup>(a)</sup> A やフランスが、中央の <sup>(b)</sup> B をめぐって対立している国際関係を読み取ることができる。



週刊風刺雑誌『モッラー＝ナスレッディン』1906年4月14日号

問1 下線部分1905年のアジアのようすについて述べた文として適切なものを、次の①～④のうちから一つ選べ。解答番号は **18** 。

- ① 太平洋戦争が終結した。
- ② 三・一独立運動がおこった。
- ③ 日露戦争が終結した。
- ④ 安史の乱がおこった。

問 2 下線部分<sup>(b)</sup>ロシアの 19 世紀のようすについて述べた文として適切なものを、次の①～④のうちから一つ選べ。解答番号は 19。

- ① 名誉革命がおこった。
- ② シベリア鉄道の建設が始まった。
- ③ アンコール=ワットがつくられた。
- ④ イヴァン 4 世が即位した。

問 3 A の国はヴィルヘルム 2 世のもとで積極的な対外進出をすすめていた。A に当てはまる国名と、その国が当時展開していた対外政策との組合せとして適切なものを、次の①～④のうちから一つ選べ。解答番号は 20。

	A	対外政策
①	ドイツ	3 B 政策
②	日 本	3 B 政策
③	ドイツ	3 C 政策
④	日 本	3 C 政策

問 4 B はアフリカに位置する国である。B に当てはまる国名を、次の①～④のうちから一つ選べ。解答番号は 21。

- ① オーストラリア
- ② エチオピア
- ③ モロッコ
- ④ フィリピン

2 次の絵は1936年にドイツで発行された子ども向けの本の挿絵で、ユダヤ人の教師と生徒が学校から追放されていくようすを描いている。ドイツでは、この後、第二次世界大戦にかけてユダヤ人への迫害がさらに強まった。

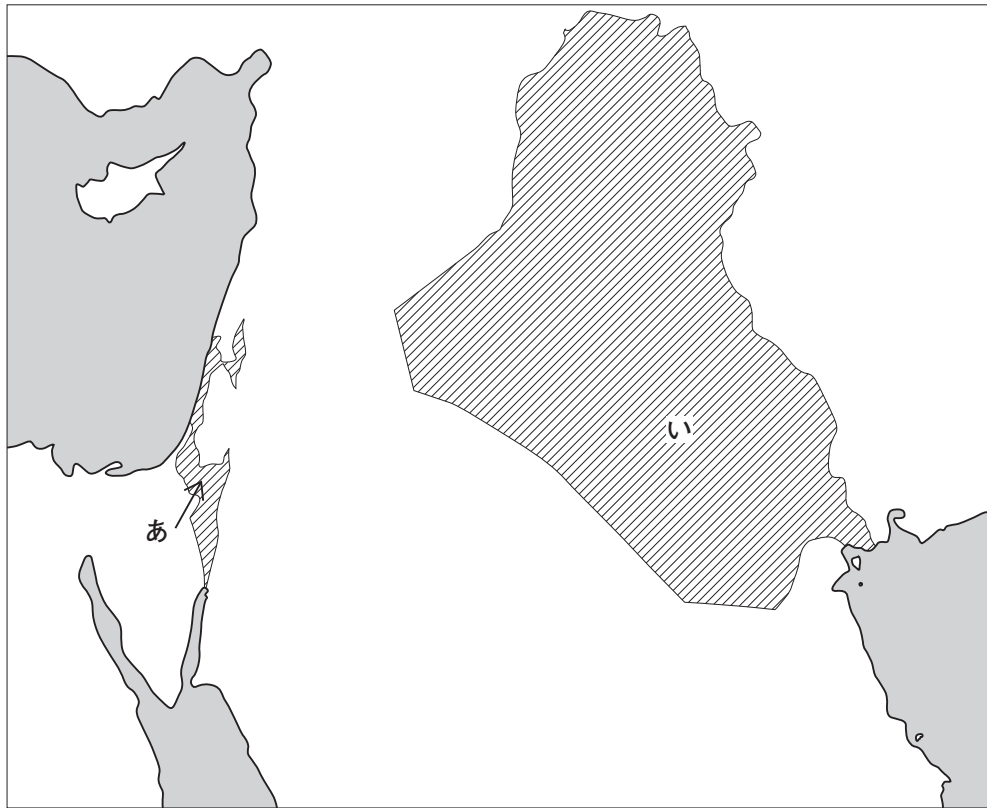


(小学1年生用教科書の副読本より)

問5 下線部分ドイツの1930年代のようすについて述べた文として適切なものを、次の①～④のうちから一つ選べ。解答番号は  。

- ① ヒトラーが総統に就任した。
- ② ニューディール政策を開始した。
- ③ ファシスト党が政権をとった。
- ④ ベルリンの壁がきずかれた。

問 6 下線部分ユダヤ人が第二次世界大戦後に建国した国と，略地図中のおよその位置の組合せとして正しいものを下の①～④のうちから一つ選べ。解答番号は 23。



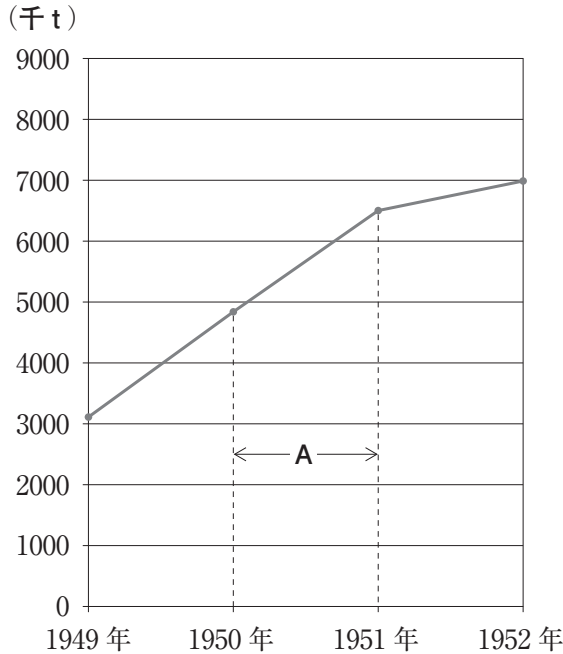
	国	位置
①	イラク	あ
②	イスラエル	あ
③	イラク	い
④	イスラエル	い

問 7 第一次世界大戦の終結から下線部分第二次世界大戦の終結までの期間に，アジアで起こったできごとを，次の①～④のうちから一つ選べ。解答番号は 24。

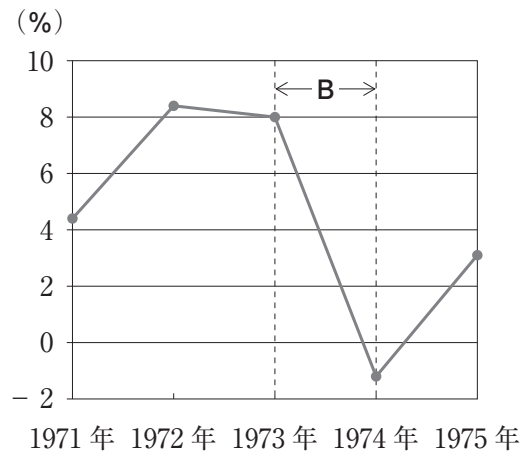
- ① 盧溝橋事件
- ② アヘン戦争
- ③ 黄巾の乱
- ④ 甲午農民戦争

6 1～3の文章と図版に関連して、問1～問6に答えよ。

1 次のグラフ1とグラフ2は第二次世界大戦後の日本経済の歩みを示したものである。  
(a)



グラフ1 粗鋼生産高の年ごとの推移



グラフ2 実質経済成長率の年ごとの推移

問1 グラフ1のAの時期の、粗鋼生産高の年ごとの推移の背景として考えられる最も適切なきごとと、このできごとに関連の深い人物の組合せとして適切なものを、次の①～④のうちから一つ選べ。解答番号は 25。

	できごと	人物
①	キューバ革命	金日成
②	キューバ革命	カストロ
③	朝鮮戦争	カストロ
④	朝鮮戦争	金日成

問2 グラフ2のBの時期の、実質経済成長率の年ごとの推移の背景として考えられる最も適切なものを、次の①～④のうちから一つ選べ。解答番号は 26。

- ① 洋務運動がおこった。
- ② 第1次石油危機がおこった。
- ③ サライエヴォ事件がおこった。
- ④ 李自成の乱がおこった。

問 3 下線部分<sup>(a)</sup>第二次世界大戦後のヨーロッパでおこった次の(ア)～(ウ)のできごとを、古いものから順に正しく並べたものを、下の①～④のうちから一つ選べ。解答番号は 27。

(ア) 統一通貨ユーロが導入された。

(イ) 「プラハの春」がおこった。

(ウ) 北大西洋条約機構(NATO)が発足した。

① (ア)→(ウ)→(イ)

② (イ)→(ア)→(ウ)

③ (ア)→(イ)→(ウ)

④ (ウ)→(イ)→(ア)

2 徳川さんは世界遺産について調べ、その結果を次の2枚のカードにまとめた。

カード1



これは明代に造営された紫禁城で、清が滅びるまで皇帝の居城であり、執務の場であった。中華人民共和国の首都の北京にあり、1987年に世界文化遺産に登録された。

カード2

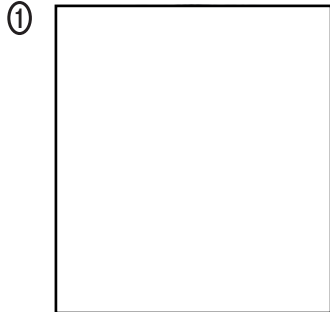


これはイエルサレムの旧市街地とその城壁群である。イエルサレムはユダヤ教・キリスト教・イスラーム教にとって聖地とされるが、周辺情勢の不安定さから1980年代に世界危機遺産リストに登録されて以来、現在に至っている。



問 4 下線部分中華人民共和国は、カード1の紫禁城の外に広がる天安門広場で1949年10月に建国が宣言された。この宣言を行った人物を、次の①～④のうちから一つ選べ。

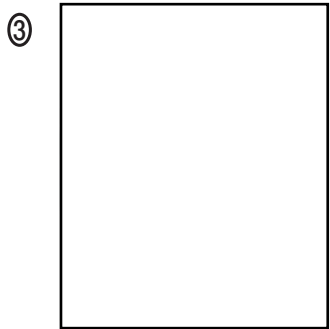
解答番号は  。



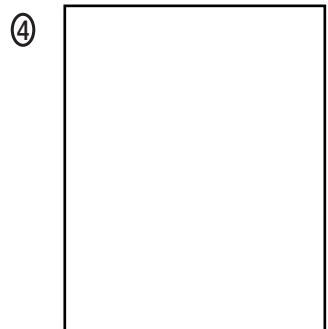
盧泰愚



袁世凱



毛沢東



金大中

問 5 下線部分1980年代の世界のようすについて述べた文として適切なものを、次の①～④のうちから一つ選べ。解答番号は  。

- ① ソ連でペレストロイカが始まった。
- ② トラファルガーの海戦がおこった。
- ③ アメリカ合衆国で同時多発テロがおこった。
- ④ サファヴィー朝が成立した。

3 足利さんは 19 世紀後半以降のベトナムの歴史について調べ、次の年表にまとめた。

年 代	できごと
1887 年	フランス領インドシナ連邦が成立した。
1946 年	<sup>(d)</sup> インドシナ戦争が始まった。
1954 年	ジュネーヴ休戦協定が結ばれた。
1965 年	<b>A</b> 軍による北ベトナムへの爆撃が始まった。
1973 年	パリ和平協定が結ばれた。
1976 年	ベトナム社会主義共和国が成立した。

問 6 下線部分フランス領インドシナ連邦の略地図中のおよその位置と、**A** に当てはまる国名の組合せとして正しいものを、下の①～④のうちから一つ選べ。解答番号は **30**。



	位 置	<b>A</b>
①	あ	アメリカ合衆国
②	い	フランス
③	あ	フランス
④	い	アメリカ合衆国

(これで世界史 A の問題は終わりです。)