

【共通問題】

4 1～3の文章と図版に関連して、問1～問9に答えよ。

1 サッカー(soccer)は、アソシエーション・フットボール(association football)を略したことばであるといわれている。連合王国イギリスを構成するイングランドでは、1863年にThe Football Association(略称FA)が創設されてルールの統一が行われ、サッカー競技が成立したとされる。その後サッカーは世界各地へ広がったが、FAはプロも含めた世界大会の開催提案を無視していた。1904年、フランスのゲランを会長としてヨーロッパ7か国によりFIFA(国際サッカー連盟)が創設され、翌年イングランドも加盟したが、第一次世界大戦^(a)の勃発もあり、世界大会の実現は、1930年まで待たなければならなかった。

競技としてのサッカーの日本伝来は1905年、東京高等師範学校に赴任したイギリス人教師デハビランドによるとされ、師範学校などを中心に普及した。1919年^(b)に日本に贈呈されたFAカップは、1921年^(c)、皇太子時代の昭和天皇訪英直後に創設された大日本蹴球協会(現日本サッカー協会)のもとで開催された第1回全日本選手権(現天皇杯)の優勝チームに授与された。このことは、翌1922年のイギリス皇太子(のちの国王エドワード8世)訪日に向けた親善ムードのアピールとなった。



イングランドサッカー協会(左)と日本サッカー協会(右)のエンブレム

問1 下線部分^(a)第一次世界大戦中の日本のようすについて述べた文として適切なものを、次の

①～④のうちから一つ選べ。解答番号は 。

- ① 律令を整備し、租・庸・調を課した。
- ② 東南アジア各地で朱印船による貿易活動を行った。
- ③ ヨーロッパとアメリカの相互不干渉を唱えたモンロー宣言を出した。
- ④ 中国の袁世凱政権に対して二十一か条の要求を行った。

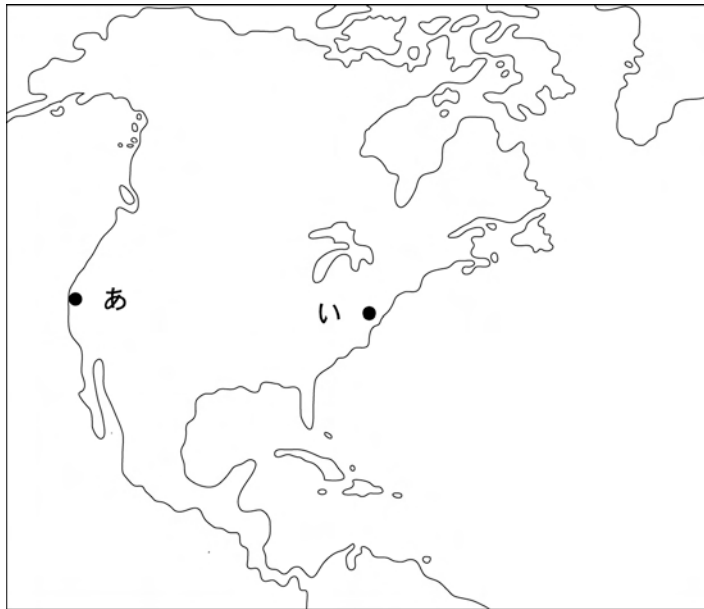
問 2 下線部分 1919 年のイギリス支配下のインドのようすについて述べた文として適切なもの
(b)

を、次の①～④のうちから一つ選べ。解答番号は 26。

- ① 年少者の長時間労働を制限した工場法が公布された。
- ② カトリック教徒解放法によりカトリック教徒も公職につけるようになった。
- ③ 令状・裁判なしで逮捕・投獄できるとしたローラット法が公布された。
- ④ 印紙法に反発して、「代表なくして課税なし」の主張がとなえられた。

問 3 下線部分 1921 年からアメリカ合衆国で東アジア・太平洋地域の国際秩序などを討議した
(c)

国際会議の開催地とその略地図中のおよその位置の組合せとして正しいものを、次の①～④のうちから一つ選べ。解答番号は 27。



	開催地	位置
①	ワシントン(ワシントン D.C.)	あ
②	サンフランシスコ	あ
③	ワシントン(ワシントン D.C.)	い
④	サンフランシスコ	い

2 第1回 FIFA ワールドカップは、五輪大会を連覇し、建国 100 周年の国家行事として経費の全額負担を打ち出したウルグアイで、1930 年に開催された。ウルグアイは、イタリアやスペインからの移民が増える中で、国民意識を高めたかったのであろう。この大会は開催国ウルグアイが優勝し、ウルグアイ国民は熱狂したが、まもなく世界恐慌の影響からウルグアイ経済も悪化していった。^(d)

第2回イタリア大会は1934年に開催された。このときのイタリア首相 **A** は、大会のラジオ中継により「ファシズムの正しさとイタリアの偉大さ」の宣伝に努めた。2年後にベルリン五輪をひかえていたドイツのナチス政権も、その手法を参考にしたという。

次の第3回大会の開催国については1936年に五輪大会中のベルリンで話し合われ、フランスに決定した。初のワールドカップ開催を実現したフランス人の FIFA 会長、ジュール＝リメの功績がその理由とみられているが、ファシズム勢力に対抗して、当時ブルムを首相とする人民戦線内閣が成立していたフランスになったとも考えられている。^(e) フランス大会は1938年6月に開かれたが、ヨーロッパ予選を通過した8か国のうち **B** は、大会3か月前にドイツに併合されてしまった。



1934年イタリア大会(左)と1938年フランス大会(右)の公式ポスター

問 4 下線部分^(d)世界恐慌への対策としてニューディールとよばれる政策を実施したアメリカ合衆国大統領を、次の①～④のうちから一つ選べ。解答番号は 。

①



レーガン

②



サッチャー

③



ブレジネフ

④



フランクリン＝ローズヴェルト

問 5 , に当てはまる語句の組合せとして正しいものを、次の①～④のうちから一つ選べ。解答番号は 。

	<input type="text" value="A"/>	<input type="text" value="B"/>
①	トルストイ	オーストリア
②	ムッソリーニ	オーストリア
③	トルストイ	フィンランド
④	ムッソリーニ	フィンランド

問 6 下線部分^(e)人民戦線をよびかける中心となった組織を、次の①～④のうちから一つ選べ。解答番号は 。

① コミンテルン

② タリバーン


③ 義和団

④ カルボナリ

3 第二次世界大戦による中断をはさんで、1950年の第4回ブラジル大会以降、ワールドカップは国際情勢にかかわらず4年ごとに開催されている。1954年の第5回スイス大会では、1950年以降無敗記録をのぼし、ヘルシンキ五輪大会でも優勝していた **C** が優勝候補であったが、決勝で敗れた。しかし、この国の自由化運動にソ連が軍事介入した1956年の **C** 事件により、チームの主力選手が亡命するまでは再び敗れることなく、通算成績は40勝1敗6分であった。

1982年の第12回スペイン大会は、1979年のイラン革命やソ連のアフガニスタン侵攻などで中東情勢が緊迫したなかで開かれた。予選リーグでは、ワレサを中心とする自主管理労働組合「連帯」による民主化運動が高まっていた **D** と、これに圧力をかけていたソ連が対戦した。試合は引き分けたが、**D** は得失点差で決勝トーナメントに進出して3位となった。

冷戦終結宣言が出された翌年の1990年第14回イタリア大会は、西ドイツが優勝した。その年の10月にはドイツ統一が実現した。また、ストイコヴィッチなどの活躍によりベスト8に進出した^(g)ユーゴスラヴィアは、内戦の激化により、その後国際試合から遠ざかることとなった。



「連帯」のメンバー(中央がワレサ)

問 7 , に当てはまる語句の組合せとして正しいものを、次の①～④のうちから一つ選べ。解答番号は 。

	<input type="text" value="C"/>	<input type="text" value="D"/>
①	ハンガリー	キューバ
②	アイスランド	キューバ
③	ハンガリー	ポーランド
④	アイスランド	ポーランド

問 8 下線部分イラン革命以降に西アジアでおこったできごとについて述べた文として適切なものを、次の①～④のうちから一つ選べ。解答番号は 。

- ① アメリカ合衆国とイギリスが、イラク戦争によりフセイン政権を打倒した。
- ② フラグが、アッバース朝を滅ぼした。
- ③ 国民会議派が、スワラージや民族教育などの四大綱領を決議した。
- ④ ムスタファ＝ケマルが、トルコ共和国の成立を宣言した。


問 9 下線部分ユーゴスラヴィアで、1953年から1980年まで大統領を務め、非同盟主義を推進した人物を、次の①～④のうちから一つ選べ。解答番号は 33。

①



ティトー

②



ワット

③



クロムウェル

④



アラファト

【選択問題】

5 1の文章と図版に関連して、問1に答えよ。

1 東南アジアでは海上交易が盛んに行われ、仏教などさまざまな宗教が伝わった。7世紀にシュリーヴィジャヤに滞在した唐僧の **A** は、スマトラ島のパレンバンでは大乘仏教が盛んで多数の僧侶が学問に励んでいると『南海寄帰内法伝』で述べている。

インド洋海域でのムスリム商人の活発な交易活動もあってイスラームの影響が強まり、13世紀には東南アジアでイスラームへの改宗が多くなった。元のフビライ=ハンに仕えたとされる **B** がのちに口述した『世界の記述』（『東方見聞録』）や、14世紀半ばにスマトラ島を訪れたとされるイブン=バットゥータが口述した『三大陸周遊記』は、現地の人びとのイスラームへの改宗についてふれている。



イブン=バットゥータ

問1 **A** , **B** に当てはまる人物の組合せとして正しいものを、次の①～④のうちから一つ選べ。解答番号は **41** 。

	A	B
①	義 浄	アギナルド
②	魯 迅	アギナルド
③	義 浄	マルコ=ポーロ
④	魯 迅	マルコ=ポーロ

【選択問題】

6 1の文章と図版に関連して、問1に答えよ。

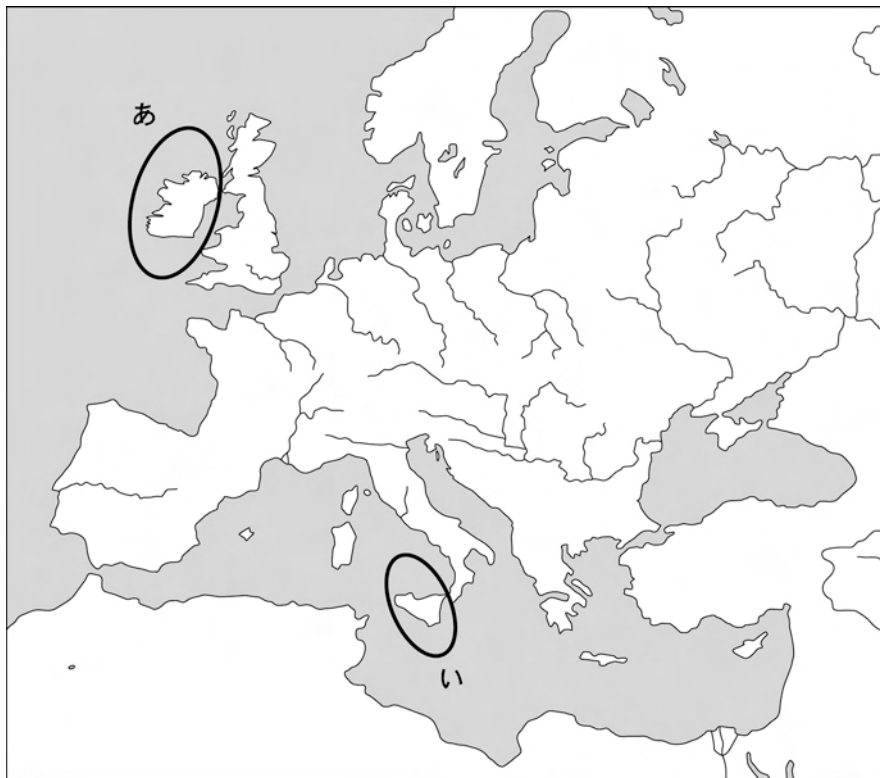
1 9世紀後半ころにイスラーム勢力の支配下に入ったシチリア島では、アラビア語が浸透し、すぐれた灌漑技術^(a)によって豊かな農地が開かれ、農業・商業が栄えた。しかし、11世紀後半にはシチリア島はノルマン人に征服され、地中海貿易におけるムスリム商人の中核基地としての役割を失っていった。

一方、十字軍運動の時代を通じて、地中海に勢力を拡大した北イタリアのジェノヴァやヴェネツィアの商人は、ムスリム商人から **A** などを買って入れて大きな利益をあげるようになった。これらの都市は互いに争い、やがてヴェネツィアが優位を占めるようになった。



現在のヴェネツィア

問 1 下線部分^(a)シチリア島の略地図中のおよその位置と **A** に当てはまる語句の組合せとして正しいものを、次の①～④のうちから一つ選べ。解答番号は **46**。



	位 置	A
①	あ	胡 椒
②	い	とうもろこし
③	あ	とうもろこし
④	い	胡 椒

【選択問題】

7 1の文章と図版に関連して、問1に答えよ。

1 14世紀、明の洪武帝は、沿岸地域を荒らす **A** への対策もあって中国人の民間貿易や海外渡航を禁止する海禁をおこない、朝貢貿易を推進した。こうしたなか、明と日本や東南アジアを結ぶ中継貿易を行ったのが、尚巴志によって15世紀前半に統一された **B** 王国であった。やがて尚巴志によって整備された那覇港の繁栄が最高潮に達した15世紀中ころには、「貿易船を繰り出して世界の架け橋になる」という意味の銘文「以舟楫為万国之津梁」が刻まれた鐘が造られ、首里城正殿にかけられた。



万国之津梁之鐘

問1 **A** , **B** に当てはまる語句の組合せとして正しいものを、次の①～④のうちから一つ選べ。解答番号は **51** 。

	A	B
①	匈奴	琉球
②	倭寇	琉球
③	倭寇	新羅
④	匈奴	新羅

【選択問題】

8 1の文章と図版に関連して、問1に答えよ。

1 古代ローマでは、中国のことを「セリカ(絹の国)」とよんだように、中国の絹織物は、古くから陸路を経て遠く運ばれた。シリアのパルミラから出土した漢代の錦・綾・綺など、交易路の各地点より出土した漢代から唐代にかけての多量の絹織物は、それを伝えている。しかし、中国は製品の絹織物を輸出しても、蚕種(蚕の卵)の国外への持ち出しはかたく禁じていた。そのため、こうした地域には、蚕種の西方への伝播にまつわるいくつかの伝説が残されている。タリム盆地のホータンにあるダンダーン=ウィリク遺跡から発見された板絵(図1)には、この地に嫁ぐ王女が蚕種を帽子の中に隠して伝えたという蚕種西遷説話が描かれている。

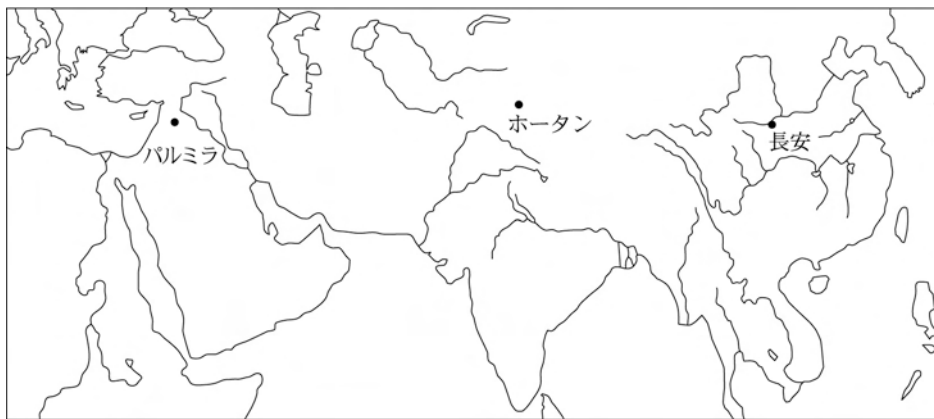


図1

問1 下線部分唐代の東西交流について述べた文として、下の(ア)・(イ)がそれぞれ正しいかどうか判断し、その正誤の組合せを、次の①～④のうちから一つ選べ。解答番号は 56。

- (ア) ソグド人がサマルカンドを中心に内陸交易で活躍した。
- (イ) フランシスコ=ザビエル(シャヴィエル)がカトリックの布教につとめた。

- ① (ア)正 (イ)正
- ② (ア)正 (イ)誤
- ③ (ア)誤 (イ)正
- ④ (ア)誤 (イ)誤

